

RABHADH

Freagair gach ceist sna spásanna atá ann chuige ar an bpáipéar

Scríobh do Scrúduithe anseo.

**Coimisiún na Scrúduithe Stáit****SCRÚDÚ AN TEASTAIS SHÓISEARAIGH, 2004****STADÉAR IMSHAOIL AGUS SÓISIALTA****GNÁTHLEIBHÉAL****DÉ LUAIN, 14 MEITHEAMH – TRÁTHNÓNA 1.30 – 3.30****Treoracha d'iarrthóirí:**

Freagair GACH CEANN de na CÚIG CHEIST laistigh

- Maidir le Ceist 1 ar leathanaigh 2, 3, 4 agus 5
Freagair na TRÍ chuid (A), (B) agus (C)
- Maidir le Ceist 2 ar leathanaigh 6, 7, 8 agus 9
Freagair cuid (A) NÓ cuid (B)
- Maidir le Ceist 3 ar leathanaigh 10, 11, 12 agus 13
Freagair cuid (A). Ansin freagair cuid (B) nó
cuid (C)
- Maidir le Ceist 4 ar leathanaigh 14, 15 agus 16
Freagair (A), (B) agus (C)
- Maidir le Ceist 5 ar leathanaigh 17 agus 18
Seiceáil ar dtús go bhfuil an learscáil agus an
t-aerfhótagraf agat.
Freagair na ceistanna GO LÉIR.

Don Scrúdaitheoir amháin:

| Ceist | MARC |
|---------------|------|
| 1 | |
| 2 | |
| 3 | |
| 4 | |
| 5 | |
| IOMLÁN | |
| GRÁD | |

CEIST 1

24 marc

Freagair GACH ceann de na TRÍ chuid – (A) agus (B) agus (C)

(A) CEISTEANNA ILROGHA

(12 mharc)

Freagair 12 de na ceisteanna seo a leanas. Cuir tic (✓) sa bhosca ceart i ngach cás.

Sampla: Bhaintí úsáid as bró:

- | | | | |
|-----------------------|--------------------------|------------------------|-------------------------------------|
| (a) sa ghlantóireacht | <input type="checkbox"/> | (b) sa mhuilleoireacht | <input checked="" type="checkbox"/> |
| (c) sa sníomh | <input type="checkbox"/> | (d) san fhíodóireacht | <input type="checkbox"/> |

1. Faigheann staraí an chuid is mó dá chuid eolais trí:

- | | | | |
|--------------------|--------------------------|--------------------|--------------------------|
| (a) tochailt | <input type="checkbox"/> | (b) líníocht | <input type="checkbox"/> |
| (c) léitheoireacht | <input type="checkbox"/> | (d) fótagrafaíocht | <input type="checkbox"/> |
- (1)

2. Rinne na Ceiltigh airm agus uirlisí as:

- | | | | |
|------------|--------------------------|------------|--------------------------|
| (a) cruach | <input type="checkbox"/> | (b) stán | <input type="checkbox"/> |
| (c) copar | <input type="checkbox"/> | (d) iarann | <input type="checkbox"/> |
- (1)

3. Is é a tugadh ar an mballa timpeall ar mhainistir ná:

- | | | | |
|-------------|--------------------------|-----------------|--------------------------|
| (a) caiseal | <input type="checkbox"/> | (b) scriptorium | <input type="checkbox"/> |
| (c) iarta | <input type="checkbox"/> | (d) dolman | <input type="checkbox"/> |
- (1)

4. Tháinig na Lochlannaigh ón:

- | | | | |
|------------|--------------------------|----------------|--------------------------|
| (a) Ibéir | <input type="checkbox"/> | (b) Iodáil | <input type="checkbox"/> |
| (c) Baváir | <input type="checkbox"/> | (d) Scandanáiv | <input type="checkbox"/> |
- (1)

5. Bunaíodh na chéad bhailte in Éirinn ag na:

- | | | | |
|-----------------|--------------------------|------------------|--------------------------|
| (a) Rómhánaigh | <input type="checkbox"/> | (b) Lochlannaigh | <input type="checkbox"/> |
| (c) Normannaigh | <input type="checkbox"/> | (d) Ceiltigh | <input type="checkbox"/> |
- (1)

6. Thóg na Normannaigh:

- | | | | |
|--------------|--------------------------|----------------|--------------------------|
| (a) crannóga | <input type="checkbox"/> | (b) caisleáin | <input type="checkbox"/> |
| (c) ráthanna | <input type="checkbox"/> | (d) clogthithe | <input type="checkbox"/> |
- (1)

7. Cén duine díobh seo thíos a ghlac páirt i bPlandáil Uladh?

(a) Séamas I

(b) Strongbó

(c) Harold Fairhair

(d) An Rí Seoirse IV

(1)

8. Sa Réabhlóid Thionsclaíoch is é a bhí mar chumhacht ag meaisíní ná:

(a) leictreachas

(b) peitreal

(c) fuinneamh núicléach

(d) gal

(1)

9. Bunaíodh na Náisiúin Aontaithe sa bhliain:

(a) 1939

(b) 1945

(c) 1950

(d) 1956

(1)

NÓ

Cé acu tír díobh seo thíos atá ina ball den Aontas Eorpach(AE)?

(a) na Stáit Aontaithe

(b) an Eilvéis

(c) an Fhrainc

(d) an Iorua

(1)

10. Is é a thugtar ar an aigéan idir an Eoraip agus Meiriceá Thuaidh ná:

(a) an tAigéan Atlantach

(b) an tAigéan Ciúin

(c) an tAigéan Antartach

(d) an tAigéan Indiach

(1)

11. Úsáidtear ainéimiméadar chun tomhas a dhéanamh ar:

(a) treo na gaoithe

(b) fliuchras

(c) teocht

(d) luas na gaoithe

(1)

12. Is sampla de chaomhnú é:

(a) ró-úsáid

(b) athchúrsáil

(c) dúshaothrú

(d) vástáil

(1)

13. Is é a thugtar ar theach aon urláir ná:

(a) teach ilstór

(b) teach aon stóir

(c) teach dhá stór

(d) bloc

(1)

14. Ar léarscáil Shuirbhéireacht Ordanáis seasann an tsiombail  do:

(a) stáisiún traenach

(b) stáisiún Gharda Síochána

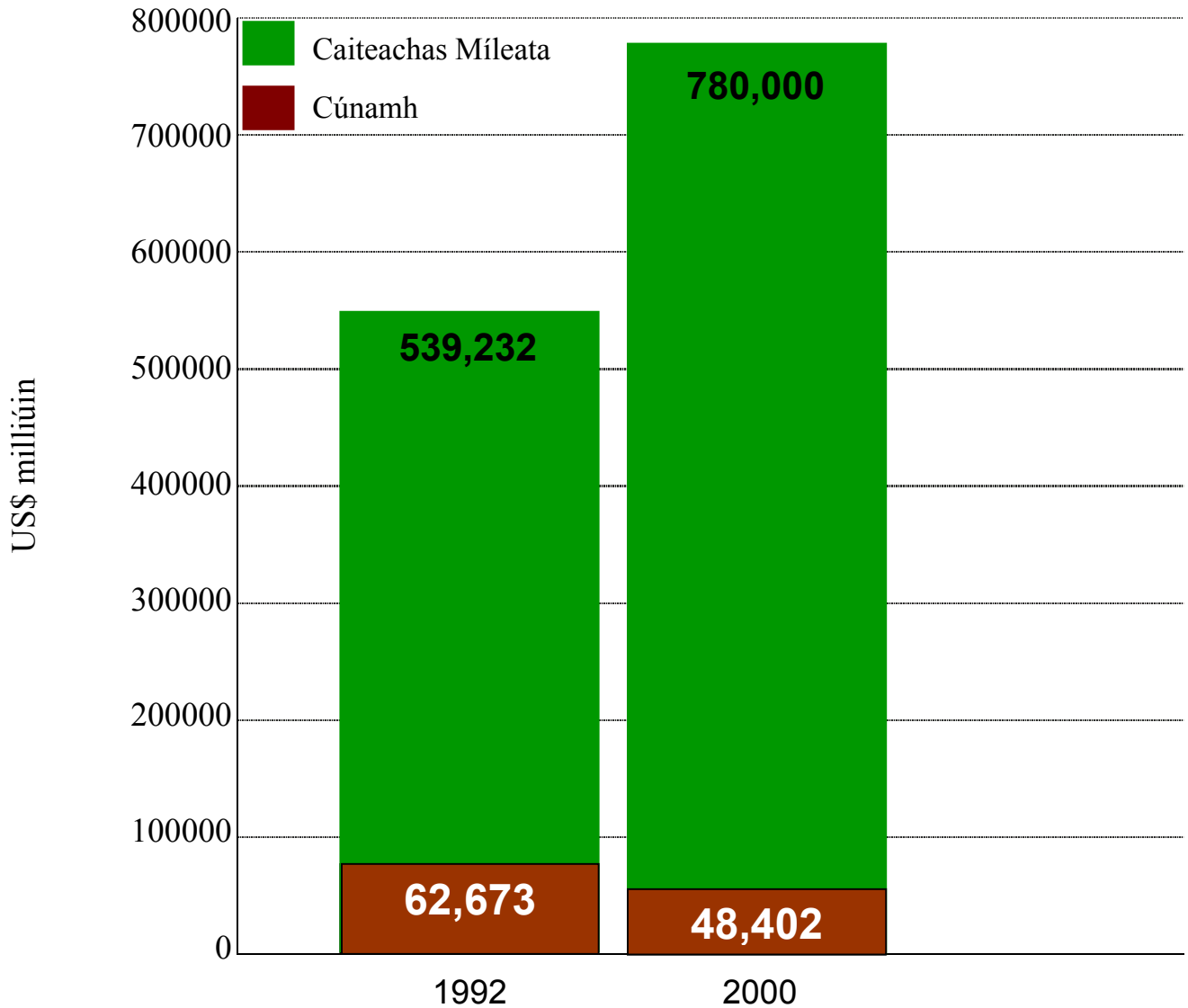
(c) stáisiún dóiteáin

(c) stáisiún bhád tarrthála

(1)

(B) CÚNAMH AGUS CAITEACHAS MÍLEATA

(6 mharc)



Foinse: UNDP, Tuarascáil Fhorbairt Dhaonna, 2001, Oxford University Press.

Léiríonn an graf thuas an chaoi ar athraigh an caiteachas airgid ar chúnamh agus ar chúrsaí míleata idir 1992 agus 2000. Scrúdaigh an graf agus ansin freagair na ceisteanna seo a leanas.

1. Abair an bhfuil GACH ceann de na ráitis seo a leanas FÍOR nó BRÉAGACH.

Caitheadh \$780,000 ar chúrsaí míleata i 2000. _____ (1)

Caitheadh \$62,673 ar chúnamh i 2000. _____ (1)

Caitheadh níos mó ar chúrsaí míleata ná ar chúnamh i 1992 agus i 2000. _____ (1)

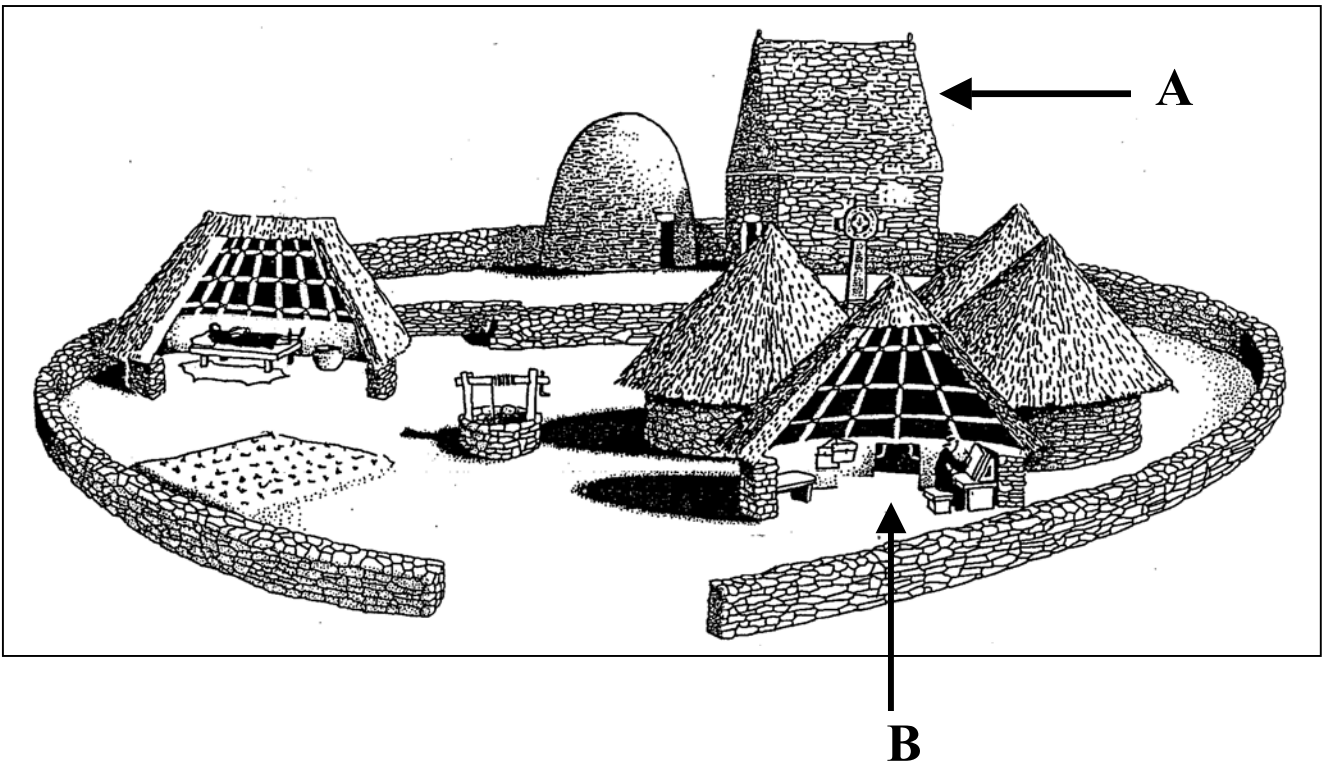
Laghaigh an caiteachas ar chúnamh idir 1992 agus 2000. _____ (1)

2. Luaigh éifeacht AMHÁIN a bhíonn ag caiteachas cúnamh a laghdú.

(2)

Déan staidéar ar an bpictiúr de mhainistir Éireannach agus ansin freagair na ceisteanna ina dhiaidh.

MAINISTIR ÉIREANNACH



1. Ainmnigh **DHÁ** chuid den mhainistir a bhfuil **A** agus **B** marcáilte orthu.

A _____

B _____

(2)

2. Ainmnigh **DHÁ** ábhar tógála a úsáideadh chun an mhainistir a dhéanamh.

1. _____

2. _____

(2)

3. Luaigh bealach **AMHÁIN** ar athraigh na manaigh an saol in Éirinn.

(2)

CEIST 2

24 marc

Freagair cuid (A) NÓ cuid (B)

(A) PLANDÁIL IN ÉIRINN SA 17ú hAOIS

(24 marc)

Déan staidéar ar an suirbhé thíos agus ansin freagair na ceisteanna ina dhiaidh.

SUIRBHÉ 1613

Tá Iarla Abercorn ina ghealltóir do na codanna sin den Srath Bán, Dún na Long agus Scéin [4500 acra go hiomlán] agus tá na codanna sin plandáilte aige le céad líontí atá tar éis lonnú lena stoc eallaigh. Tá a bhformhór armtha go láidir. Tá teach mór ceann tuí tógtha aige mórthimpeall ar chúirt chearnógach ar an Srath Bán dá úsáid féin.

Níl ach 8 nó 9 dtionónta ag George Hamilton [tiarna neamhchónaitheach] ar a chuid féin [1000 acra], agus seachas sin níl aon ní déanta aige.

SIR JOSIAS BODLEY

1. Cén uair a rinneadh an suirbhé? _____ (1)
2. Cén post a bhí ag Iarla Abercorn? _____ (1)
3. Ainmnigh **DHÁ** cheantar a phlandáil Iarla Abercorn.
 1. _____
 2. _____(2)
4. Cé mhéad líontí a lonnaigh Iarla Abercorn ar a chodanna féin? _____ (1)
5. Ainmnigh **DHÁ** chineál bia a bhí na lonnaitheoirí ábalta a tháirgeadh.
 1. _____
 2. _____(2)
6. Cén fáth a raibh na lonnaitheoirí armtha?

_____ (2)

7. Cén cineál tí a thóg Iarla Abercorn ar an Srath Bán?

_____ (2)

8. Luaigh **DHÁ** bhlúire fianaise a léiríonn nach raibh rath ar George Hamilton mar ghealltóir.

1. _____

2. _____ (2)

9. Cé a rinne an suirbhé? _____ (1)

10. Ainmnigh **DHÁ** uirlis troda a d'úsáidí ag an am.

1. _____ 2. _____ (2)

11. Luaigh cúis **AMHÁIN** a raibh tábhacht leis na gealltóirí chun Plandáil Uladh a chur i gcrích.

_____ (2)

12. Scríobh alt mar gheall ar cheann **AMHÁIN** díobh seo a leanas:

(a) Na cúiseanna le Plandáil Uladh.

(b) An saol a bhí ag plandóir i gCúige Uladh.

(c) Comhlachtaí Londan.

_____ (6)

Léigh ‘Scéal Yano’ thíos agus freagair na ceisteanna ina dhiaidh.

Yano

Indiach Ticuna í Yano. Tá cónaí uirthi lena teaghlach le timpeall is 1000 ball eile dá muintir ar thearmann i bhforaois na hAmasóine. Achar talún é tearmann atá curtha i leataobh ag an rialtas le haghaidh úsáid na nIndiach. Níl siad sásta leis seo mar is í an fhoraois iomlán a ngnáthóg nádúrtha riamh, dar leo féin.

Baineann Yano agus a comh-Indiaigh le cine ársa a mhair sa Bhrasaíl agus in áiteanna eile i Meiriceá leis na céadta bliain sular bhain na hEorpaigh an mhór-roinn amach sa bhliain 1492. Bhí thart ar 4 mhilliún díobh ann ag an am, ach tá laghdú ar a líon de bharr foréigin ina gcoinne agus galair a tugadh isteach ón taobh amuigh. Níl ach thart ar cheathrú milliún Indiach faoi láthair san Amasóin.

Deir Yano nach dteastaíonn ón gcuid is mó dá muintir Indiach a slí bheatha a athrú ó bhonn. Teastaíonn uathu maireachtáil ina n-áiteanna féin, a gcuid nósanna féin a chleachtadh agus a dteanga féin a labhairt. Thar aon rud eile ní theastaíonn uathu go ndíbreodh an rialtas ná lucht gnó ar bith eile iad as a dtailte ar chúis ar bith. Le blianta beaga anuas tá na Ticuna agus grúpaí Indiacha eile tar éis teacht le chéile chun cur i gcoinne gníomhaíochtaí Rialtas na Brasaíle agus a chomhairleoirí agus infheisteoirí eachtracha. Tá sé á thuiscint dóibh níos mó ná riamh go gcaithfidh siad iad féin a eagrú chun iad féin a chosaint ar bhealaí níos éifeachtaí má leanann daoine ag déanamh neamhaird dá dtuairimí.

1. Cé hí Yano? _____ (1)
2. Cá bhfuil cónaí ar Yano? _____ (1)
3. Cad is tearmann Indiach ann? _____
_____ (2)
4. Cén fáth a bhfuil na hIndiaigh Ticuna míshásta? _____
_____ (2)
5. Cén uair a tháinig daoine ón Eoraip chuig Meiriceá Laidneach? _____ (1)
6. Luaigh **DHÁ** chúis ar thit líon na nIndiach ó 4 mhilliún i 1492 go dtí ceathrú milliún faoi láthair.
 1. _____
 2. _____ (4)

7. Cén fáth ar tháinig na hIndiaigh Ticuna agus grúpaí eile le chéile le blianta beaga anuas?

(2)


8. Cén fáth ar chóir slí mhaireachtála na nIndiach a chosaint? Luaigh **DHÁ** chúis leis seo.

1. _____

2. _____

(4)

Déan staidéar ar an bpictiúr de favela thíos agus ansin freagair na ceistanna ina dhiaidh.



9. Ainmnigh **DHÁ** ábhar tógála ar baineadh úsáid astu sna foirgnimh san fhótagraf.

1. _____ 2. _____ (2)

10. Cén fáth a bhfuil na daoine ag obair agus ag súgradh sa tsráid?

(2)

11. Luaigh contúirt **AMHÁIN** atá ann do na páistí san fhótagraf.

(1)

12. Luaigh **DHÁ** bhealach a bhféadfaí feabhas a chur ar an favela san fhótagraf.

1. _____

2. _____ (2)

CEIST 3


24 marc

Freagair cuid (A). Ansin freagair cuid (B) nó (C)

(A) AN RÉABHLÓID THIONSCLAÍOCH

(12 mharc)

Scrúdaigh an pictiúr agus léigh an sliocht thíos agus ansin freagair na ceisteanna a leanann.



Obair pháiste sna mianaigh ghuail

“Téim chuig an mianach ar a cúig a chlog ar maidin agus tagaim amach ar a cúig a chlog tráthnóna; faighim mo bhricfeasta ar dtús, leite agus bainne; tugaim liom mo dhinnéar, cáca, agus ithim é i mbun oibre. Tá paiste maol ar mo chloigeann mar gheall ar na cairteacha guail a bhrú. Brúim na cairteacha míle agus breis faoi thalamh agus ar ais arís. Tá trí chéad meáchan iontu. Brúim aon chairt déag gach lá. Caithim crios agus slabhra chun na cairteacha a chur amach. Uaireanta tugann na mianadóirí a mbím ag obair dóibh léasadh dom mura mbím ag obair sách tapa. Buaileann siad lena lámha mé.”

Patience Kershaw

1. Cén t-am a thosaíonn an cailín ag obair? _____ (1)
2. Cé mhéad uaireanta an chloig a d'oibríodh an cailín? _____ (2)

3. Ainmnigh **DHÁ** bhéile a bhíodh ag an gcailín.

1. _____

2. _____ (2)

4. Cén chaoi ar tháinig paiste maol ar chloigeann an chailín? _____

_____ (1)

5. Cén fáth a gcaitheadh an cailín crios agus í ag obair?

_____ (2)

6. Luaigh cúis **AMHÁIN** a mbíodh páistí fostaithe sna mianaigh ghuail agus an Réabhlóid Thionsclaíoch ar siúl.

_____ (2)

7. Mínigh cén fáth a raibh oiread tábhachta le gual sa Réabhlóid Thionsclaíoch.

_____ (2)

(B) AN CHÉAD CHOĞADH DOMHANDA

(12 mharc)

1. Abair an bhfuil **GACH CEANN** de na ráitis seo a leanas **FÍOR NÓ BRÉAGACH**.

Bhí an Kaiser i gceannas ar an mBreatain sa Chéad Chogadh Domhanda. _____ (1)

Ba chomhghuaillithe iad an Fhrainc agus an Ghearmáin sa Chéad Chogadh Domhanda. _____ (1)

Troideadh ‘Cath an Bulge’ sa Chéad Chogadh Domhanda. _____ (1)

Úsáideadh tancanna den chéad uair sa Chéad Chogadh Domhanda. _____ (1)

Síníodh Conradh Vín ag deireadh an Chéad Chogadh Domhanda. _____ (1)

Thosaigh an Chéad Chogadh Domhanda i 1914. _____ (1)

2. Scríobh faoi **CHEANN AMHÁIN** díobh seo a leanas:

- (a) Na cúiseanna leis an gCéad Chogadh Domhanda;
- (b) Cath na Somme;
- (c) Lá i saol saighdiúra sa Chéad Chogadh Domhanda;
- (d) Conradh Versailles.

(6)

(C) AN DARA COGADH DOMHANDA

(12 mharc)

1. Abair an bhfuil GACH CEANN de na ráitis seo a leanas FÍOR NÓ BRÉAGACH.

D'úsáid an Bhreatain buamaí eitlete sa Dara Cogadh Domhanda. _____ (1)

Ceannaire Francach ba ea Charles de Gaulle sa Dara Cogadh Domhanda. _____ (1)

Buamáladh Londain go trom sa Dara Cogadh Domhanda. _____ (1)

Tharla an 'Holocaust' sa Dara Cogadh Domhanda. _____ (1)

Bhuamáil na Gearmánaigh Pearl Harbour sa Dara Cogadh Domhanda. _____ (1)

Bhí Éire neodrach sa Dara Cogadh Domhanda. _____ (1)

2. Scríobh faoi CHEANN AMHÁIN díobh seo a leanas:

- (a) Na cúiseanna leis an Dara Cogadh Domhanda;
- (b) An cogadh san Aigéan Ciúin;
- (c) D-Day;
- (d) Hiroshima agus Nagasaki.

(6)

CEIST 4

24 marc

Freagair na TRÍ CHUID – (A) agus (B) agus (C)

(A) AN DOMHAN FORBARTHA

(8 marc)

Breathnaigh ar an bhfótagraf thíos agus ansin freagair na ceisteanna ina dhiaidh.

Ionad Siopadóireachta in Éirinn



1. Ainmnigh **DHÁ** ghnólacht atá le feiceáil san fhótagraf.

1. _____

2. _____ (2)

2. Luaigh cúis **AMHÁIN** a bhfuil níos mó ‘mearbhia’ á ithe ag daoine in Éirinn.

_____ (2)

3. Luaigh bealach **AMHÁIN** a bhféadfadh an tionscal ‘mearbhia’ díobháil a dhéanamh don timpeallacht.

_____ (2)

4. Míniú fadhb **AMHÁIN** a chruthaíonn carranna don timpeallacht.


_____ (2)

(B) AN DOMHAN I mBÉAL FORBARTHA

(8 marc)

Breathnaigh ar an bhfótagraf thíos agus ansin freagair na ceisteanna ina dhiaidh.

Mná ag déanamh brící



1. An bhfuil na mná san fhótagraf fostaithe san fheirmeoireacht **NÓ** sa déantúsaíocht?

feirmeoireacht

déantúsaíocht

(1)

2. Cén fáth a bhfuil na mná ag leagadh na mbrící amach faoin ngrian?

_____ (1)

3. Luaigh **DHÁ** fhadhb a bhíonn ag na mná seo ina gcuid oibre.

1. _____ 2. _____ (2)

4. Luaigh **DHÁ** bhealach a bhfuil an saol éagsúil ag mná in Éirinn.

1. _____

2. _____

_____ (4)

(C) DOMHAN ROINNTE

(8 marc)

Breathnaigh ar an gcartún thíos agus ansin freagair na ceistanna ina dhiaidh.



1. Sa chartún tá an domhan roinnte idir an Tuaisceart saibhir agus an Deisceart bocht. Ainmnigh mór-roinn **AMHÁIN** sa Tuaisceart agus mór-roinn **AMHÁIN** sa Deisceart.

Mór-roinn sa Tuaisceart _____ Mór-roinn sa Deisceart _____ (2)

2. Taispeántar bia sa chartún mar ghránaigh. An bhfuil an bia go léir ag an Tuaisceart nó ag an Deisceart?

an Tuaisceart

an Deisceart

(1)

3. An bhfuil fréamhacha na ngránach sa Tuaisceart nó sa Deisceart?

an Tuaisceart

an Deisceart

(1)

4. Cén teachtaireacht atá sa chartún?

(2)

5. Mínigh rud **AMHÁIN** a d'fhéadfadh daoine sa Tuaisceart a dhéanamh a chuideodh leis an soláthar bia sa Deisceart a mhéadú.

(2)

CEIST 5

24 marc

Déan deimhin de go bhfuil léarscáil agus fótagraf agat sula bhfreagraíonn tú na ceisteanna seo.

Scrúdaigh an léarscáil S.O. 1:50,000 agus an tAerfhótagraf Daite a thagann leis an bpáipéar seo agus freagair na ceisteanna thíos.

Taispeánann an léarscáil agus an fótagraf Béal an Átha, Co. Maigheo.

1. Ainmnigh **CEANN AMHÁIN** de na hoileáin ar Loch Conn.

(2)
2. Taispeánann an léarscáil dhá chiorcal dhearga ar an taobh thiar de bhaile Bhéal an Átha. Cad a chiallaíonn an ciorcal dearg?

(2)
3. Ainmnigh an abhainn a shníonn trí bhaile Bhéal an Átha.

(2)
4. Cén cineál foirgnimh atá le feiceáil ar an taobh thoir den abhainn idir an dá dhroichead?

(2)
5. Ainmnigh an **DÁ** bhóthar a ghabhann thar na droichid a thaispeántar san fhótagraf.
_____ agus _____
(4)
6. Breathnaigh ar an léarscáil agus luaigh **DHÁ** phíosa fianaise a léiríonn go mbíodh cónaí ar dhaoine sa cheantar seo fadó.
 1. _____

 2. _____
_____(4)

7. Breathnaigh ar an léarscáil agus/nó ar an bhfótagraf agus luaigh **DHÁ** chúis a mbíonn fonn ar thurasóirí teacht chuig ceantar Bhéal an Átha.

1. _____

2. _____

(4)

8. Luaigh **DHÁ** shampla den úsáid talún mar a thaispeántar san fhótagraf.

1. _____

2. _____

(4)