

**RABHADH**

Freagair gach ceist sna spásanna cuí ar an bpáipéar seo.

Scríobh do Scrúduithe anseo.

**Coimisiún na Scrúduithe Stáit**

SCRÚDÚ AN TEASTAIS SHÓISEARAIGH, 2016

STADÉAR IMSHAOIL AGUS SÓISIALTA

ARDLEIBHÉAL

DÉ hAOINE, 10 MEITHEAMH – MAIDIN 9.30 - 11.30

Treoracha d'iarrthóirí:

**Freagair GACH CEANN de na CÚIG cheist laistigh**

- Ceist 1 ar leathanaigh 2, 3, 4 agus 5  
Freagair codanna (A), (B) agus (C)
- Ceist 2 ar leathanaigh 6, 7, 8 agus 9  
Freagair cuid (A) nó (B)
- Ceist 3 ar leathanaigh 10, 11, 12 agus 13  
Freagair cuid (A). Ansin freagair cuid (B) nó (C)
- Ceist 4 ar leathanaigh 14 agus 15  
Freagair na ceistanna go léir
- Ceist 5 ar leathanach 16  
Seiceáil ar dtús an bhfuil an léarscáil agus an t-aerfótagraf agat. Freagair na ceistanna go léir.

Don scrúdaitheoir amháin:

<i>Ceist</i>	MARC
1	
2	
3	
4	
5	
<b>IOMLÁN</b>	
<b>GRÁD</b>	

# CEIST 1

24 marc

Freagair GACH ceann de na TRÍ chuid – (A) agus (B) agus (C)

## (A) CEISTEANNA ILROGHNACHA

(12 mharc)

Freagair 12 de na ceisteanna seo a leanas. Cuir tic (✓) sa bhosca ceart i ngach cás.

*Sampla:* Is í an chathair is mó in Éirinn ná:

- |                      |                                     |                  |                          |     |
|----------------------|-------------------------------------|------------------|--------------------------|-----|
| (a) Gaillimh         | <input type="checkbox"/>            | (b) Béal Feirste | <input type="checkbox"/> |     |
| (c) Baile Áth Cliath | <input checked="" type="checkbox"/> | (d) Port Láirge  | <input type="checkbox"/> | (1) |

1. Is é a thugtar ar dhuine a thugann aire do thaifid pháipéir i músaem ná:

- |                |                          |                 |                          |     |
|----------------|--------------------------|-----------------|--------------------------|-----|
| (a) seandálaí  | <input type="checkbox"/> | (b) cartagrafaí | <input type="checkbox"/> |     |
| (c) cartlannaí | <input type="checkbox"/> | (d) geolaí      | <input type="checkbox"/> | (1) |

2. Oibríonn seandálaí go príomha:

- |                              |                          |                           |                          |     |
|------------------------------|--------------------------|---------------------------|--------------------------|-----|
| (a) ag tomhas leibhéil uisce | <input type="checkbox"/> | (b) ag tochailt sa talamh | <input type="checkbox"/> |     |
| (c) ag úsáid ríomhaire       | <input type="checkbox"/> | (d) ag scríobh            | <input type="checkbox"/> | (1) |

3. Is é is ‘móta agus bábhún’ ann ná sampla de:

- |                           |                          |                            |                          |     |
|---------------------------|--------------------------|----------------------------|--------------------------|-----|
| (a) lonnaíocht Normannach | <input type="checkbox"/> | (b) lonnaíocht Cheilteach  | <input type="checkbox"/> |     |
| (c) lonnaíocht Rómhánach  | <input type="checkbox"/> | (d) lonnaíocht Lochlannach | <input type="checkbox"/> | (1) |

4. Cé acu díobh seo a leanas **NACH** foinse phríomhúil atá ann?

- |                                       |                          |                     |                          |     |
|---------------------------------------|--------------------------|---------------------|--------------------------|-----|
| (a) nuachtán ón am sin                | <input type="checkbox"/> | (b) teastas breithe | <input type="checkbox"/> |     |
| (c) leabhar a scríobhadh faoin am sin | <input type="checkbox"/> | (d) dialann         | <input type="checkbox"/> | (1) |

5. Ar léarscáil na Suirbhéireachta Ordanáis úsáidtear an línescála chun tomhas a dhéanamh:

- |              |                          |                |                          |     |
|--------------|--------------------------|----------------|--------------------------|-----|
| (a) ar airde | <input type="checkbox"/> | (b) ar dhaonra | <input type="checkbox"/> |     |
| (c) ar threo | <input type="checkbox"/> | (d) ar fhad    | <input type="checkbox"/> | (1) |

6. Is tír í Éire atá:

- |                   |                          |                |                          |     |
|-------------------|--------------------------|----------------|--------------------------|-----|
| (a) san Áise      | <input type="checkbox"/> | (b) san Eoraip | <input type="checkbox"/> |     |
| (c) san Antartach | <input type="checkbox"/> | (d) i Meiriceá | <input type="checkbox"/> | (1) |

7. Déantar suíomhanna stairiúla ar léarscáil na Suirbhéireachta Ordanáis a mharcáil:
- (a) le scríbhneoireacht dhubh  (b) le scríbhneoireacht ghorm   
(c) le scríbhneoireacht bhuí  (d) le scríbhneoireacht dhearg  (1)
8. Is ionaid iad bainc, comhair chreidmheasa agus oifigí phoist:
- (a) do chaitheamh aimsire  (b) do thionsclaíocht   
(c) d'oideachas  (d) d'airgeadas  (1)
9. Cé acu díobh seo a leanas **NACH** bhfuil mar chuid de Thimthriall an Uisce?
- (a) galú  (b) comhdhlúthú   
(c) fairsingiú fásaigh  (d) frasaíocht  (1)
10. Is é atá i gceantar cónaithe den chuid is mó ná:
- (a) oifigí agus siopaí  (b) feirmeacha   
(c) tithe  (d) stáisiúin chumhachta  (1)



11. Is é atá ar an láthair de réir mar atá léirithe ag na comharthaí thuas ná:
- (a) leithris phoiblí  (b) láthair phicnicí   
(c) leaba is bricfeasta  (d) ospidéal  (1)
12. Is é a thugtar ar ghluaiseacht daoine ó tír amháin go tír eile ná:
- (a) lonnaíocht  (b) imirce   
(c) lárú  (d) dílárú  (1)
13. Cé acu tír **NACH** raibh páirteach sa Chéad Chogadh Domhanda ná sa Dara Cogadh Domhanda?
- (a) An tSualainn  (b) Stáit Aontaithe Mheiriceá   
(c) An Bhreatain  (d) An Ghearmáin  (1)
14. Is minic gurb é a leanann crith talún faoin bhfarraige ná:
- (a) súnámaí  (b) stoirm ghaoithe   
(c) stoirm ghainimh  (d) maidhm shneachta  (1)

**(B) MUINTIR AN tSEANSAOIL**

**(6 mharc)**

**AN tSEANRÓIMH, AN tSEANGHRÉIG, AN tSEANÉIGIPT NÓ DOMHAN NA nINCEACH**

I gcás ceann **AMHÁIN** de na sibhialtachaí thuas, scríobh faoi cheann **AMHÁIN** díobh seo a leanas:

(a) Saol agus trealamh saighdiúra

**NÓ**

(b) Tithe agus ionaid chónaithe

**NÓ**

(c) Na héadaí a chaith siad

**NÓ**

(d) Nósanna adhlactha agus sochraide

Is í an tsibhialtacht a scríobhfaidh mé fúithi ná \_\_\_\_\_

---

---

---

---

---

---

---

---

---

---

---

---

---

---

---

---

---

---

---

---

---

---

---

---

(6)



*"Caisleán Bhaile Átha Troim 6" le Andrew Parnell – Caisleán Bhaile Átha Troim. Ceadúnaithe faoi CC BY 2.0 via Commons - [https://commons.wikimedia.org/wiki/File:Trim\\_Castle\\_6.jpg#/media/File:Trim\\_Castle\\_6.jpg](https://commons.wikimedia.org/wiki/File:Trim_Castle_6.jpg#/media/File:Trim_Castle_6.jpg)*

Taispeánann an fótagraf fothracha Chaisleán Bhaile Átha Troim i gContae na Mí.

1. Ainmnigh **DHÁ** ábhar a úsáideadh chun caisleáin mar Chaisleán Bhaile Átha Troim a thógáil.

\_\_\_\_\_ agus \_\_\_\_\_ (2)

2. Ainmnigh **DHÁ** ghné chosanta den chaisleán ar féidir leat iad a fheiceáil san fhótagraf.

\_\_\_\_\_  
\_\_\_\_\_ (2)

3. I gcaisleán, cad ba chiall leis an ‘daingean’?

\_\_\_\_\_  
\_\_\_\_\_  
\_\_\_\_\_ (2)

## CEIST 2

24 marc

Freagair cuid (A) NÓ cuid (B)

(A) PLANDÁIL IN ÉIRINN SA 17ú hAOIS

(24 marc)

*Léigh an sliocht thíos agus ansin freagair na ceisteanna ina dhiaidh.*

### Suirbhé a rinneadh in 1619

..... anois tá an méid seo a leanas tógtha laistigh de Chontaetha Thír Eoghain, Dhún na nGall, Fhear Manach, an Chabháin agus Londain-Doire

107 caisleán le bábhúin

19 gcaisleán gan bhábhúin

42 bábhún gan aon chaisleáin ná aon tithe

1897 teach cloiche nó adhmaid.....

Nicholas Pynnar

1. Cé mhéad contae atá ainmnithe sa suirbhé?

\_\_\_\_\_ (2)

2. Cén phlandáil a dtagraíonn an suirbhé di?

\_\_\_\_\_ (2)

3. Cén **DÁ** chineál caisleáin a luaitear sa suirbhé?

1. \_\_\_\_\_

2. \_\_\_\_\_ (2)

4. Cén fáth a dtagraítear do Chontae Dhoire mar ‘Londain-Doire’?

\_\_\_\_\_

\_\_\_\_\_

\_\_\_\_\_ (4)

5. Tabhair **DHÁ** chúis ar thóg na plandálaithe an oiread sin caisleán.

---

---

---

(4)

6. Mínigh **DHÁ** cheann de na téarmaí seo a leanas:

Ceithearn choille

---

---

Bábhún

---

---

Seirbheoir

---

---

(4)

7. Scríobh alt ar cheann **AMHÁIN** díobh seo a leanas:

- (a) Na cúiseanna a raibh rí Shasana ag iarraidh Cúige Uladh a phlandáil;
- (b) Cuideachtaí Londan;
- (c) Tionchair Phlandáil Uladh;
- (d) Mothúcháin Éireannaigh a ruaigeadh óna chuid talún le linn plandála.

---

---

---

---

---

---

---

---

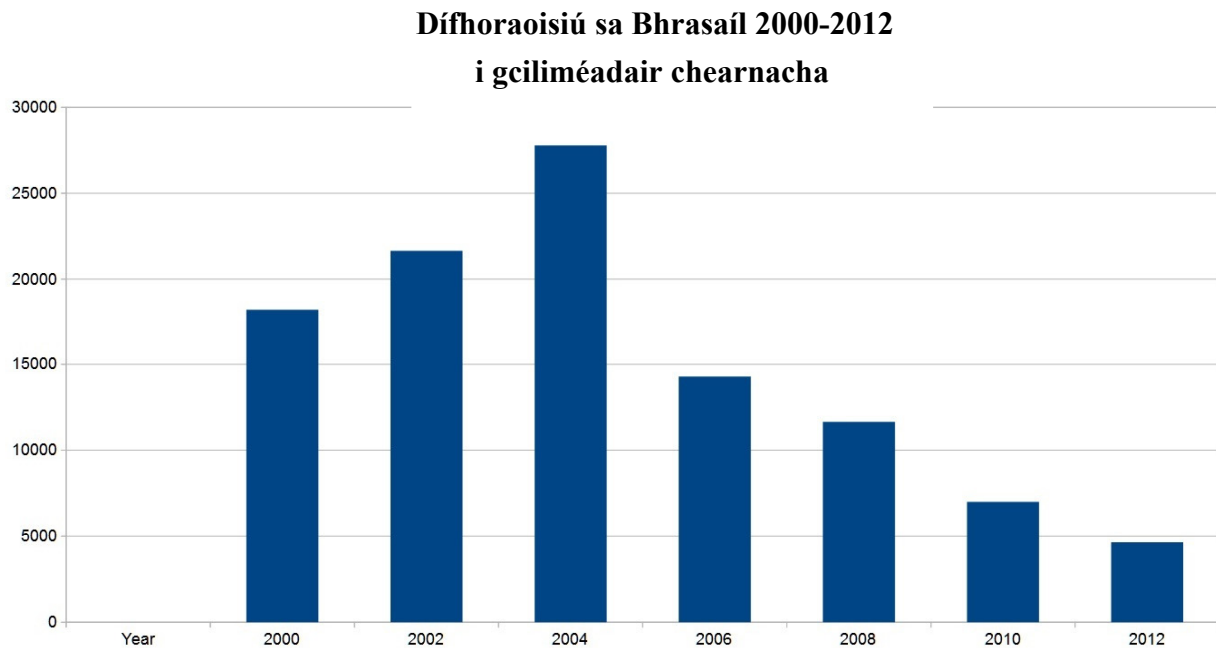
---

---

---

(8)

Féach ar an ngraf agus freagair na ceisteanna thíos.



Taispeánann an graf seo an chaoi ar tháinig laghdú ar an dífhoraaisiú sa Bhrasaíl idir na blianta 2000 agus 2012. Níl an oiread crann á leagan sa Bhrasaíl, ach ar an iomlán, tá dífhoraaisiú réigiún na hAmasóine ag méadú.

1. Tá réigiún na hAmasóine chomh tábhachtach sin do Thimthriall na hOcsaigine, go dtugtar

\_\_\_\_\_ an domhain ar an réigiún uaireanta. (2)

2. De réir an ghraif, cén tréimhse blianta inar tharla titim mhór ar líon na gcrann a bhí á leagan?

Idir \_\_\_\_\_ agus \_\_\_\_\_ (2)

3. Tabhair **DHÁ** chúis a bhfuil an oiread sin crann á leagan i réigiún na hAmasóine.

\_\_\_\_\_  
\_\_\_\_\_  
\_\_\_\_\_ (4)

4. Tabhair cúis **AMHÁIN** a bhfuil titim ag teacht ar an ráta dífhoraoisithe sa Bhrasaíl.

\_\_\_\_\_  
\_\_\_\_\_  
\_\_\_\_\_ (4)



## FAVELAS

Féach ar na fótagraif, léigh an t-eolas agus freagair na ceisteanna a leanann é.



Pictiúir le caoinchead: CatComm | RioOnWatch

Táthar ag fáil réidh le favela Vila Autodromo mar go bhfuil sé in aice leis an áit ina bhfuil an sráidbhaile Oilimpeach á thógáil do chluichí Oilimpeacha Rio de Janeiro in 2016. Dúradh leis na daoine ansin nach mbeadh orthu imeacht, ach ansin tairgeadh airgead do chuid acu agus d'fhág siad. Tháinig na hollscartairí agus na póilíní isteach chun a gcuid tithe a leagan. Is é atá á rá ag an ngraifítí ná 'Níl praghas ar gach duine'.

5. Cad, dar leat, atá i gceist ag úinéir an tí leis an ngraifítí 'Níl praghas ar gach duine'?

---

---

---

(2)

6. Tabhair **DHÁ** chúis a bhfuil mórán daoine i gcathracha na Brasaíle ina gcónaí in favelas.

---

---

---

(4)

7. Scríobh **THRÍ** chúis ar a laghad go mb'fhéidir nach mbeadh na daoine atá ag eagrú na gcluichí Oilimpeacha ag iarraidh an favela a bheith díreach taobh leis an bPáirc Oilimpeach.

---

---

---

---

---

---

---

---

---

(6)

# CEIST3

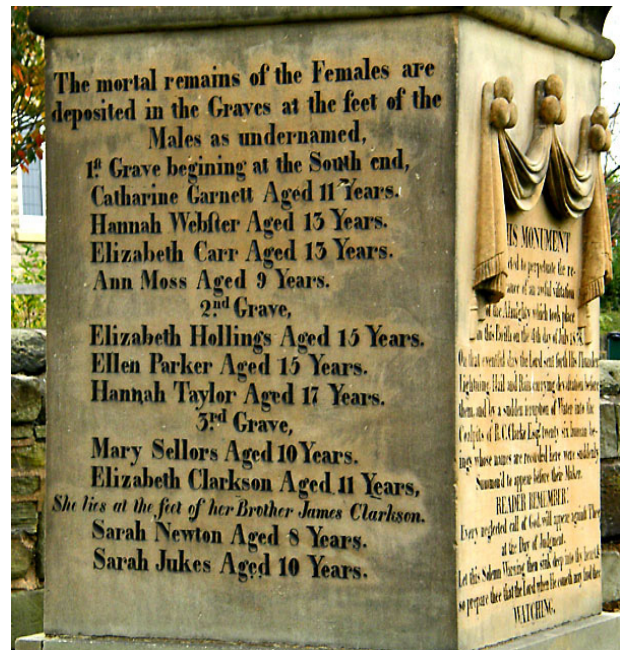
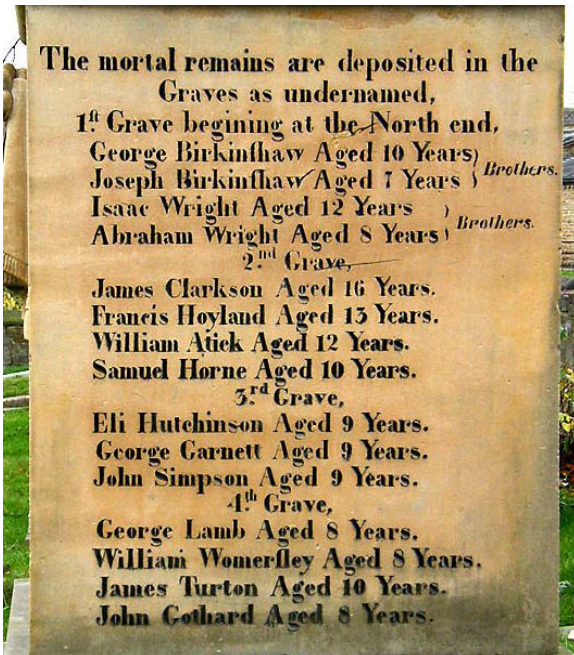
24 marc

Freagair cuid (A), ansin freagair cuid (B) nó (C)

## (A) AN RÉABHLÓID THIONSCLAÍOCH

(12 mharc)

Ar an 4 Iúil, 1838, i ndiaidh báistí agus toirní a bhí thar a bhí trom, bhí tuile i mianach Husker in aice le Barnsley i Sasana agus bádh 26 páiste a bhí ag obair sa mhianach. Den chuid ba mhó, bhí na páistí ag obair mar 'dhoirseoirí', ag coinneáil doirse ar oscailt chun cead a thabhairt do bhuachaillí agus do chailíní níos sine araidí móra lán de ghual a shá suas fána.



Seo fótagraif de na clocha cinn a tógadh i gcuimhne ar na páistí.

<p>Is iad seo a leanas na páistí a bhásaigh</p> <p>George Birkinshaw 10 mbliana d'aois. James Birkinshaw 7 mbliana d'aois, deartháireacha Isaac Wright 12 bhliain d'aois. Amos Wright 8 mbliana d'aois, deartháireacha. James Clarkson 16 bliana d'aois. Francis Hoyland 13 bliana d'aois William Atick 12 bhliain d'aois. Samuel Horne 10 mbliana d'aois. Eli Hutchinson 9 mbliana d'aois. John Simpson 9 mbliana d'aois. George Barnett 9 mbliana d'aois. George Lamb 8 mbliana d'aois. William Womersley 8 mbliana d'aois John Gothard 8 mbliana d'aois. James Turton 10 mbliana d'aois.</p>	<p>Is iad seo a leanas na cailíní a bhásaigh</p> <p>Catherine Garnett 8 mbliana d'aois. Hannah Webster 13 bliana d'aois. Elizabeth Carr 13 bliana d'aois. Anne Moss 9 mbliana d'aois. Elizabeth Hollings 15 bliana d'aois. Hannah Taylor 17 mbliana d'aois. Ellen Parker 15 bliana d'aois. Mary Sellars 10 mbliana d'aois. Sarah Jukes 8 mbliana d'aois. Sarah Newton 8 mbliana d'aois agus Elizabeth Clarkson 11 bhliain d'aois, a adhhlacadh ag cosa a dearthár</p>
---	---

Bhí an-fhearg i measc an phobail tar éis na tubaiste agus d'éiligh daoine go gcuirfí dlíthe i bhfeidhm nach gceadódh dó tarlú arís. Níorbh í sin an t-aon timpiste a tharla i mianach an bhliain sin. Bhí timpistí coitianta.

In 1842, achtaíodh Acht na Mianach

- ➔ Toirmeascadh ar bhaineannaigh oibriú faoi thalamh i mianaigh
- ➔ Níor ceadáíodh do bhuachaillí faoi dheich mbliana d'aois oibriú i mianaigh
- ➔ D'fhéadfadh printisigh idir 10 agus 18 mbliana d'aois leanúint de bheith ag obair sna mianaigh



FREAGAIR CUID (B) NÓ CUID (C)

(B) AN CHÉAD CHOGADH DOMHANDA

(12 mharc)

Féach ar na fótagraif agus freagair na ceistanna thíos.



Baineadh úsáid as mórán ainmhithe chun cuidiú le troid an chogaidh. Bhí orthu trealamh speisialta a bheith acu, cosúil leis na saighdiúirí.

1. Cén trealamh speisialta atá á chaitheamh ag na saighdiúirí agus ag na hainmhithe sna fótagraif seo?

(2)

2. Tabhair **DHÁ** shampla de na cineálacha tascanna a bhféadfaí madraí a úsáid chun iad a dhéanamh sa chogadh.

(2)

3. Scríobh alt gearr faoi cheann **AMHÁIN** díobh seo a leanas:

- (a) Airm nua a úsáideadh sa Chéad Chogadh Domhanda;  
(b) Suaitheadh catha;  
(c) Mná le linn an Chéad Chogaidh Dhomhanda.

(8)




Photo: AFP



www.teror-victims.com

Ar an 6 Lúnasa, 1945, scaoileadh buama adamhach anuas ar chathair Hiroshima sa tSeapáin. Cúpla lá ina dhiaidh sin scaoileadh buama adamhach eile anuas ar chathair Nagasaki. Scríosadh an dá chathair agus go gairid ina dhiaidh sin ghéill na Seapánaigh.

1. Cén tír ar léi an t-aerfhórsa a scaoil anuas an buama adamhach ar an tSeapáin? \_\_\_\_\_ (2)

2. Cén fáth, dar leat, ar ghéill na Seapánaigh go gairid tar éis thitim na mbuamaí adamhacha? \_\_\_\_\_ (2)

3. Scríobh faoi cheann **AMHÁIN** díobh seo a leanas:  
(a) Sluachampaí Géibhinn; (b) Aslonnú; (c) An 'Blitz' i Londain.  
\_\_\_\_\_  
\_\_\_\_\_  
\_\_\_\_\_  
\_\_\_\_\_  
\_\_\_\_\_  
\_\_\_\_\_  
\_\_\_\_\_  
\_\_\_\_\_  
\_\_\_\_\_  
\_\_\_\_\_ (6)

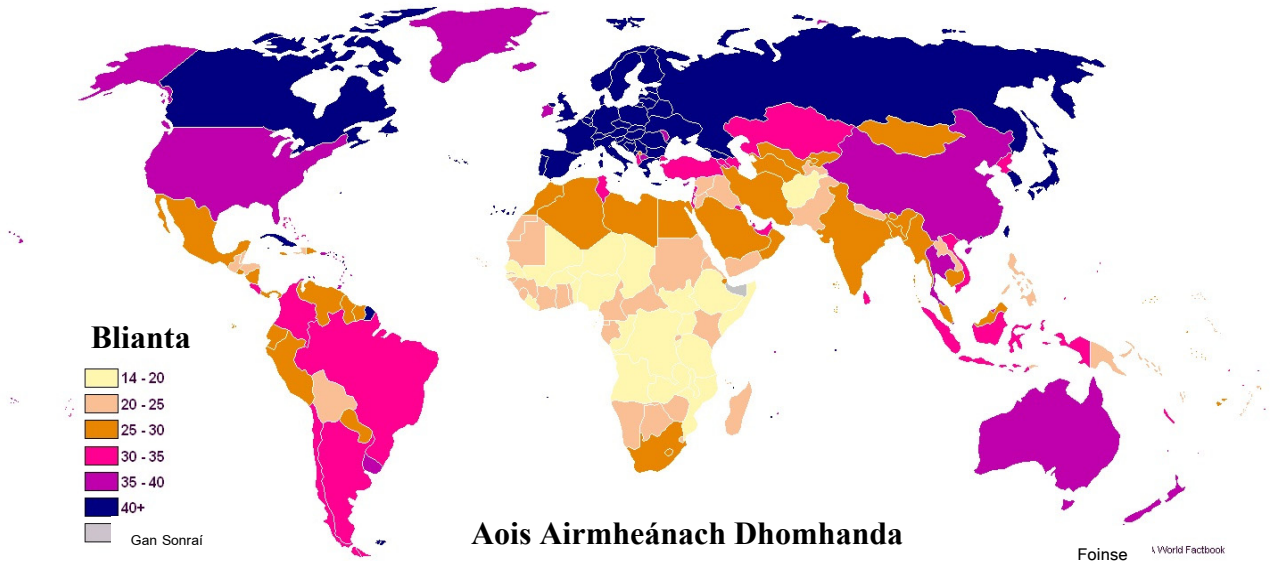
# CEIST 4

24 marc

## ÉAGOTHROIME AN DOMHAIN – TEACHT AR OIDEACHAS

(24 marc)

Féach ar an ngraf, ansin léigh an t-eolas agus freagair na ceisteanna a leanann é.



Is í an 'aois airmheánach' an aois a roinneann daonra tíre ina dhá leath. Mar shampla, ar an léarscáil seo, taispeántar Éire mar bhándearg dorcha. Mar sin, tá leath ár ndaonra níos sine ná 30-35 agus leath níos óige ná 30-35 bliain d'aois. D'fhéadfadh sé go mbeadh sé deacair ar thíortha a bhfuil aois airmheánach íseal acu fostaíocht mhaith agus seirbhísí oideachais atá go maith a chur ar fáil, mar go bhfuil an oiread sin daoine ag iarraidh iad a úsáid.

1. Cén aois airmheánach atá i bhformhór thíortha na hEorpa?

(2)

2. Ainmnigh tír **AMHÁIN** (seachas tír na hÉireann) a bhfuil aois airmheánach 35-40 aici.

(2)

3. Cén ilchríoch ina bhfuil an aois airmheánach is ísle ar an iomlán?

(2)

4. Déan cur síos ar **THRÍ** dhifriocht idir do shaol féin in Éirinn agus saol páiste óig i dtír bhocht. *Leideanna – teacht ar chúram sláinte, teacht ar oideachas, ionchas saoil, neamhchosaint ar ghalar, teacht ar uisce glan, etc.*

(6)

## ATHCHÚRSÁIL

*Féach ar na fótagraif. Léigh an t-eolas agus freagair na ceisteanna a leanann é.*



In oirthear na hAfraice, déanann daoine seanbhoinn a athchúrsáil mar chuaráin agus mar bhróga. Tugtar 'bróga deich míle míle' orthu siúd. Díoltar le daoine áitiúla iad chomh maith le turasóirí agus is féidir an t-airgead a thuilltear a úsáid chun trealamh a chur ar fáil do scoileanna sna sráidbhailte. Cosnaíonn seanbhonn amháin 30c ach is féidir sé phéire bróg a dhéanamh as, a chosnaíonn dhá euro an péire. Is féidir seanbhoinn a úsáid freisin mar bhealach saor chun urláir agus troscán a dhéanamh.

5. Cé mhéad brabúis is féidir le gréasaí a dhéanamh má dhíolann sé/sí sé phéire de na 'bróga deich míle míle'?

*Leid: Is é an brabús an méid a dhéanann sé/sí nuair a dhíoltar iad, lúide costas na n-ábhar.*

\_\_\_\_\_ (2)

6. Tabhair cúis **AMHÁIN** a gceapann tú go dtugtar 'bróga deich míle míle' ar na bróga.

\_\_\_\_\_ (2)

7. Déan cur síos ar bhealach **AMHÁIN** a ndéanaimid boinn a athúsáid nó a athchúrsáil in Éirinn.

\_\_\_\_\_ (2)

8. *"Is é an bealach chun cinn don Afraic ná gnólachtaí inbhuanaithe, faoi úinéireacht áitiúil."* An aontaíonn tú nó an esaontaíonn tú leis an ráiteas sin? Tabhair fáthanna le do fhreagra.

\_\_\_\_\_ (6)

# CEIST 5

24 marc

Seiceáil an bhfuil léarscáil agus fótagraf agat sula bhfreagraíonn tú na ceisteanna seo.

Scrúdaigh an léarscáil 1:50,000 de chuid na Suirbhéireachta Ordanáis agus an t-aerfótagraf a ghabhann leis an bpáipéar seo. Ansin freagair na ceisteanna thíos.

Taispeánann an léarscáil agus an fótagraf baile Neidín agus an ceantar ina thimpeall.

1. Ainmnigh **DHÁ** bhóthar réigiúnach a thaispeántar ar an léarscáil.

\_\_\_\_\_ agus \_\_\_\_\_ (2)

2. Tabhair ainmneacha **DHÁ** abhainn a thaispeántar ar an léarscáil.

\_\_\_\_\_ agus \_\_\_\_\_ (2)

3. Tabhair ainmneacha **DHÁ** loch a thaispeántar ar an léarscáil.

\_\_\_\_\_ agus \_\_\_\_\_ (2)

4. An bhfuil daonra ard sa cheantar ag Céim an Daimh (V860 775)? Tabhair cúis **AMHÁIN** le do fhreagra.

\_\_\_\_\_  
\_\_\_\_\_ (4)

5. Cén fáth a gceapann tú go bhfuil carrchlós ag V863 773?

\_\_\_\_\_  
\_\_\_\_\_ (4)

6. Agus úsáid á baint agat as an léarscáil agus as an bhfótagraf atá agat, cé acu díobh seo a leanas a chuireann síos ar phatrún na sráideanna i lár Neidín? Cuir tic sa bhosca ar do rogha.

Dhá chearnóg  Cearnóg agus triantán  Dhá thriantán  (4)

7. Tabhair **DHÁ** chúis go mb'fhéidir go meallfadh conairí rothaíochta tiomnaithe cosúil le Rotharbhealach Mhórchuaird Chiarraí agus Rotharbhealach Bhealach Bhéara turasóirí chuig ceantar Neidín.

\_\_\_\_\_  
\_\_\_\_\_  
\_\_\_\_\_  
\_\_\_\_\_  
\_\_\_\_\_ (6)