

RABHADH

Freagair gach ceist sna spásanna cuí ar an bpáipéar seo.

Scríobh do Scrúduithe anseo.



Coimisiún na Scrúduithe Stáit

SCRÚDÚ AN TEASTAIS SHÓISEARAIGH, 2015

STAIDEÁR IMSHAOIL AGUS SÓISIALTA

ARDLEIBHÉAL

DÉ hAOINE, 5 MEITHEAMH – MAIDIN 9.30 - 11.30

Treoracha d'iarrthóirí:

Don scrúdaitheoir amháin:

Freagair GACH CEANN de na CÚIG cheist laistigh

- Ceist 1 ar leathanaigh 2, 3, 4 agus 5
Freagair codanna (A), (B) agus (C)
- Ceist 2 ar leathanaigh 6, 7, 8 agus 9
Freagair cuid (A) nó (B)
- Ceist 3 ar leathanaigh 10, 11, 12 agus 13
Freagair cuid (A). Ansin freagair cuid (B) nó (C)
- Ceist 4 ar leathanaigh 14 agus 15
- Ceist 5 ar leathanach 16
Seiceáil ar dtús an bhfuil an léarscáil agus an t-aerfótagraf agat. Freagair na ceistanna go léir.

Ceist	MARC
1	
2	
3	
4	
5	
IOMLÁN	
GRÁD	

CEIST 1

24 marc

Freagair GACH ceann de na TRÍ chuid – (A) agus (B) agus (C)

(A) CEISTEANNA ILROGHNACHA

(12 mharc)

Freagair 12 de na ceisteanna seo a leanas. Cuir tic (✓) sa bhosca ceart i ngach cás.

Sampla: Is é an chathair is mó in Éirinn ná:

- | | | | | |
|-----------------------|-------------------------------------|------------------|--------------------------|-----|
| (a) Gaillimh | <input type="checkbox"/> | (b) Béal Feirste | <input type="checkbox"/> | |
| (c) Baile Átha Cliath | <input checked="" type="checkbox"/> | (d) Port Láirge | <input type="checkbox"/> | (1) |

1. Duine a dhéanann léarscáileanna is ea:

- | | | | | |
|----------------|--------------------------|-----------------|--------------------------|-----|
| (a) seandálaí | <input type="checkbox"/> | (b) cartagrafaí | <input type="checkbox"/> | |
| (c) cartlannaí | <input type="checkbox"/> | (d) geolaí | <input type="checkbox"/> | (1) |

2. Ciallaíonn ‘Réabhlóid’:

- | | | | | |
|------------------------|--------------------------|-------------------|--------------------------|-----|
| (a) iompú thart iomlán | <input type="checkbox"/> | (b) crainn a chur | <input type="checkbox"/> | |
| (c) treabhadh | <input type="checkbox"/> | (d) cogadh | <input type="checkbox"/> | (1) |

3. Tír atá á rialú ag tír eile is ea:

- | | | | | |
|-----------------|--------------------------|-------------|--------------------------|-----|
| (a) cúige | <input type="checkbox"/> | (b) rialtas | <input type="checkbox"/> | |
| (c) coilíneacht | <input type="checkbox"/> | (d) oileán | <input type="checkbox"/> | (1) |

4. Is í an abhainn is faide in Éirinn ná:

- | | | | | |
|------------------|--------------------------|---------------|--------------------------|-----|
| (a) An tSionainn | <input type="checkbox"/> | (b) An Life | <input type="checkbox"/> | |
| (c) An Laoi | <input type="checkbox"/> | (d) An Bhearú | <input type="checkbox"/> | (1) |

5. Ar léarscáil na Suirbhéireachta Ordanáis tomhaiseann comhrianta:

- | | | | | |
|-------------------------------------|--------------------------|------------|--------------------------|-----|
| (a) airde os cionn leibhéal na mara | <input type="checkbox"/> | (b) fad | <input type="checkbox"/> | |
| (c) treo | <input type="checkbox"/> | (d) daonra | <input type="checkbox"/> | (1) |

6. Is é an t-aigéan amach ó iarthar na hÉireann ná:

- | | | | | |
|------------------------|--------------------------|--------------------------|--------------------------|-----|
| (a) An tAigéan Indiach | <input type="checkbox"/> | (b) An tAigéan Artach | <input type="checkbox"/> | |
| (c) An tAigéan Ciúin | <input type="checkbox"/> | (d) An tAigéan Atlantach | <input type="checkbox"/> | (1) |

7. Scoil a bhfuil Brat Glas aici tá dea-chleachtas aici sa réimse seo:

- | | | | | |
|---------------|--------------------------|------------------------|--------------------------|-----|
| (a) ríomhairí | <input type="checkbox"/> | (b) torthaí scrúduithe | <input type="checkbox"/> | |
| (c) spórt | <input type="checkbox"/> | (d) athchúrsáil | <input type="checkbox"/> | (1) |

8. Is ionaid iad clubanna óige, páirceanna agus linnte snámha do cheann acu seo:

- | | | | | |
|-------------------|--------------------------|-----------------------|--------------------------|-----|
| (a) tionsclaíocht | <input type="checkbox"/> | (b) caitheamh aimsire | <input type="checkbox"/> | |
| (c) oideachas | <input type="checkbox"/> | (d) airgeadas | <input type="checkbox"/> | (1) |

9. Sampla is ea Sí an Bhrú i gContae na Mí de cheann acu seo:

- | | | | | |
|--------------------|--------------------------|-------------|--------------------------|-----|
| (a) tuama pasáiste | <input type="checkbox"/> | (b) dolmain | <input type="checkbox"/> | |
| (c) ráth | <input type="checkbox"/> | (d) crannóg | <input type="checkbox"/> | (1) |

10. Is é is mó a fhaightear i gceantar tuaithe ná:

- | | | | | |
|--------------------------|--------------------------|-------------------|--------------------------|-----|
| (a) oifigí | <input type="checkbox"/> | (b) talamh feirme | <input type="checkbox"/> | |
| (c) stáisiúin chumhachta | <input type="checkbox"/> | (d) árasáin | <input type="checkbox"/> | (1) |



11. Taispeánann an pictiúr thuas foirgneamh ina bhfuil:

- | | | | | |
|----------------|--------------------------|------------|--------------------------|-----|
| (a) bungalónna | <input type="checkbox"/> | (b) oifigí | <input type="checkbox"/> | |
| (c) árasáin | <input type="checkbox"/> | (d) siopaí | <input type="checkbox"/> | (1) |

12. Is é a thugtaí ar áit chun príosúnaigh a choinneáil i gcaisleán ná:

- | | | | | |
|----------------------|--------------------------|---------------|--------------------------|-----|
| (a) doinsiún | <input type="checkbox"/> | (b) forbhalla | <input type="checkbox"/> | |
| (c) droichead tógála | <input type="checkbox"/> | (d) daingean | <input type="checkbox"/> | (1) |

13. Cé acu díobh seo a leanas atá ina fhoinse phríomha?

- | | | | | |
|---|--------------------------|--------------------|--------------------------|-----|
| (a) scannán faisnéise | <input type="checkbox"/> | (b) leabhar staire | <input type="checkbox"/> | |
| (c) scannán a rinneadh don phictiúrlann | <input type="checkbox"/> | (d) dialann | <input type="checkbox"/> | (1) |

14. Uirbiú a thugtar ar an acmhainn seo a fhorbairt:

- | | | | | |
|---------------------------|--------------------------|----------------|--------------------------|-----|
| (a) bailte agus cathracha | <input type="checkbox"/> | (b) bóithre | <input type="checkbox"/> | |
| (c) talamh feirme | <input type="checkbox"/> | (d) páirceanna | <input type="checkbox"/> | (1) |

(C) LONNAÍOCHT ÉIREANNACH

(6 mharc)

Taispeánann na fótagraif thíos dhá lonnaíocht. Mainistir is ea ceann de na lonnaíochtaí agus is longfort Lochlannach é an ceann eile.

Déan staidéar ar na fótagraif agus ansin freagair na ceisteanna a leanann iad.



Lonnaíocht A



Lonnaíocht B

1. Líon isteach na focail atá in easnamh sna habairtí seo a leanas:

_____ is ea Lonnaíocht A.

Is eol dom é sin mar gheall ar an _____ san fhótagraf.

_____ is ea Lonnaíocht B.

Is eol dom é sin mar gheall ar an _____ san fhótagraf. (4)

2. Cén phríomhghníomhaíocht a bhí ar siúl i Lonnaíocht B?

_____ (1)

3. Ainmnigh ábhar tógála **AMHÁIN** a úsáideadh i Lonnaíocht A.

_____ (1)

CEIST 2

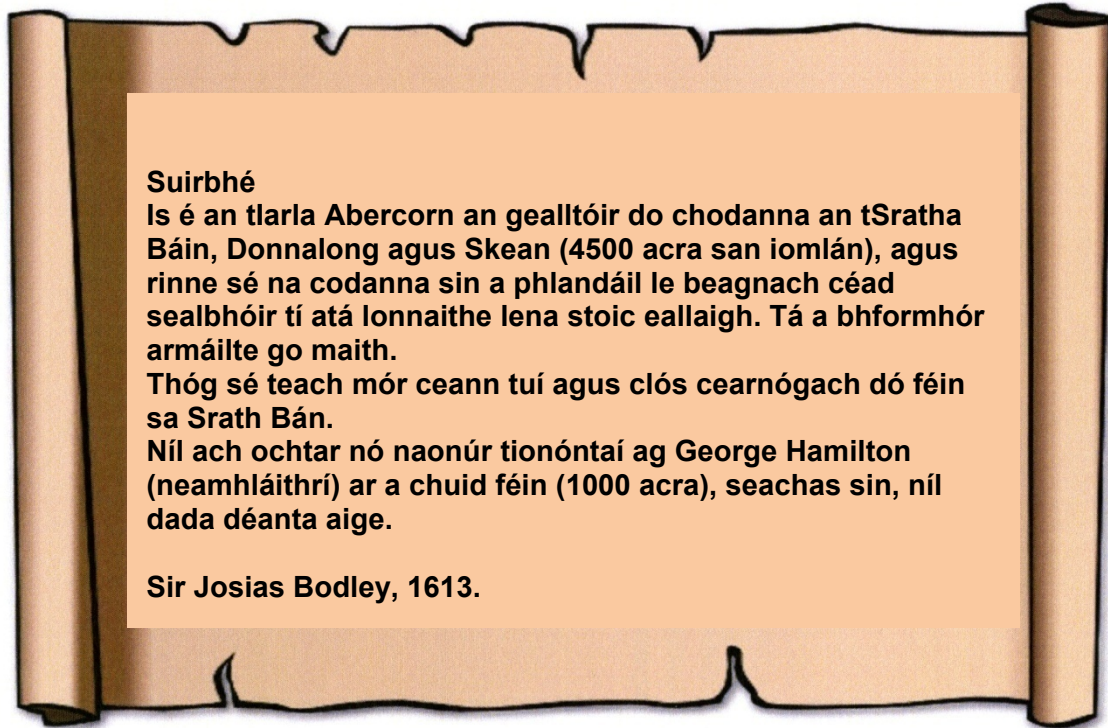
24 marc

Freagair cuid (A) nó (B)

(A) PLANDÁIL IN ÉIRINN SA 17ú hAOIS

(24 marc)

Féach ar an íomhá thíos. Is cuid de shuirbhé í faoi dhul chun cinn Phlandáil Uladh. Ansin freagair na ceisteanna a leanann í.



1. Cathain a rinneadh an suirbhé? _____ (1)
2. Cé a rinne an suirbhé? _____ (1)
3. Ainmnigh **DHÁ** cheantar a phlandáil Iarla Abercorn.
a. _____ agus b. _____ (2)
4. Cé mhéad sealbhóir tí a lonnigh Iarla Abercorn ar a chodanna féin?
_____ (2)
5. Luaigh **DHÁ** chineál bia a d'fhéadfadh na lonnaitheoirí a tháirgeadh leis an eallach a thug siad leo.
a. _____ agus b. _____ (2)
6. Cén fáth a raibh na lonnaitheoirí armáilte?

_____ (2)

7. Cén cineál tí a thóg an tIarla Abercorn sa Srath Bán?

_____ (2)

8. Luaigh **DHÁ** phíosa fianaise a thaispeánann nár ghealltóir rathúil é George Hamilton.

a. _____

agus

b. _____ (2)

9. Ainmnigh **DHÁ** arm a úsáideadh in aimsir na bplandálacha.

a. _____ agus b. _____ (2)

10. Luaigh cúis **AMHÁIN** a raibh tábhacht ag baint le gealltóirí le go n-éireodh le Plandáil Uladh.

_____ (2)

11. Scríobh alt faoi cheann **AMHÁIN** díobh seo a leanas:

- (a) Na cúiseanna a bhí le Plandáil Uladh.
- (b) Saol plandálaí i gCúige Uladh.
- (c) Cuideachtaí London.
- (d) Saol Éireannaigh a chaill talamh.

Scríobhfaidh mé faoi _____

_____ (6)

Féach ar na fótagraif agus léigh an t-eolas thíos agus freagair na ceistanna ar an leathanach thall.

Bhí cluichí ceannais Chorn an Domhain FIFA ar siúl sa Bhrasaíl in 2014. Chuige sin, bhí ar an mBrasaíl mórán staidanna nua a thógáil chun na cluichí a imirt iontu. Thóg siad iad i gcathracha nó gar dóibh sa chaoi go bhféadfaidís naisc mhaithé iompair a chruthú chuig na cluichí agus uathu.



Thóg siad roinnt staidanna a bhí go hálainn ar fad.

Ar an drochuair, tógadh formhór na staidanna seo in áiteanna a raibh daoine ina gcónaí cheana féin in *favelas*. Brúdh na daoine a bhí ina gcónaí sna háiteanna sin amach nuair a bhí na *favelas* á leagan chun spás a dhéanamh do na staidanna peile. Anois tá cónaí orthu níos faide amach ó na cathracha i bpubaill agus i scáthláin déanta as leathánra plaisteach.



Chuir Corn an Domhain feabhas ar na naisc iompair sna cathracha ach, chomh luath agus a bhí sé ar fad thart, ardaíodh na táillí iompair ar fad; ardaíodh cíosanna; ardaíodh praghsanna sna siopaí.



1. Cén fáth ar tógadh na staideanna peile seo i gcathracha nó gar dóibh? Tabhair **DHÁ** chúis.

(4)

2. An dóigh leat go ndearna Corn an Domhain FIFA a bhí ar siúl sa Bhrasaíl difear do shaol na ndaoine saibhre? Tabhair **DHÁ** chúis le do fhreagra.

(4)

3. Cén fáth a gcuirfeadh táillí iompair níos airde as do dhaoine bochta go mór mór sna cathracha seo?

(4)

4. Bogann mórán daoine ó cheantair thuaithe sa Bhrasaíl chuig na cathracha móra. Tabhair **TRÍ** chúis a mbogann daoine chuig na cathracha.

(6)

5. Déan cur síos ar na fadhbanna a d'fhéadfadh a bheith ag daoine a bhogann ón tuath chuig na cathracha. Tabhair **TRÍ** shampla ar a laghad.

(6)

CEIST3


24 marc

Freagair cuid (A), ansin freagair cuid (B) nó (C)


(A) AN RÉABHLÓID THIONSCLAÍOCH

(12 mharc)

Úsáid na pictiúir agus an tábla eolais thíos chun na ceisteanna ar an leathanach thall a fhreagairt.



Ceantar Uirbeach sa Bhreatain	Daonra 1801	Daonra 1851
Glaschú	77,000	345,000
Leeds	53,000	172,000
Manchain	75,000	303,000
Birmingham	71,000	233,000
Learpholl	82,000	376,000



1. Taispeánann an tábla ar an leathanach thall gur tháinig fás tapa ar an daonra i gceantair uirbeacha sa Bhreatain idir 1801 agus 1851.

Tabhair **DHÁ** chúis a mhíníonn an fás tapa seo ar an daonra.

An Chéad Chúis _____

_____ (2)

An Dara Cúis _____

_____ (2)

2. Déan cur síos ar **DHÁ** fhadhb a bheadh ag daoine a bhí ina gcónaí i gceantair uirbeacha in 1851.

An Chéad Fhadhb _____

_____ (2)

An Dara Fhadhb _____

_____ (2)

3. Mínigh **DHÁ** cheann de na téarmaí seo a leanas:

Tionscal Baile Réabhlóid Thionsclaíoch Ceardchumann Luddaigh

An Chéad Téarma _____
_____ (2)

An Dara Téarma _____

_____ (2)

FREAGAIR CUID (B) NÓ CUID (C)

(B) AN CHÉAD CHOGADH DOMHANDA

(12 mharc)

Féach ar an bhfótagraf agus freagair na ceisteanna thíos.



Grianghrafadóir -Michael Day

Is é atá san fhótagraf seo ná cuimhneachán ag Túr Londan, chun comóradh a dhéanamh ar na saighdiúirí sna seirbhísí Briotanacha, mórán Éireannach ina measc, a maraíodh sa Chéad Chogadh Domhanda. Rinneadh é le 888,246 poipín ceirmeach lámhdhéanta. Nuair a bhí sé críochnaithe, bhí an móta ar fad lán le poipíní.

1. Cén fáth a n-úsáidtear an poipín i gcuimhne orthu siúd a throid agus a bhásaigh sa Chéad Chogadh Domhanda?
_____ (1)
2. Cén fáth a raibh an oiread sin cuimhneachán ar an gCéad Chogadh Domhanda in 2014?
_____ (1)
3. An dóigh leat go bhfuil an cuimhneachán san fhótagraf oiriúnach chun an Chéad Chogadh Domhanda a thabhairt chun cuimhne? Tabhair cúis **AMHÁIN** le do fhreagra.
_____ (2)
4. Scríobh alt gearr faoi cheann **AMHÁIN** díobh seo a leanas:
(a) Airm nua a úsáideadh sa Chéad Chogadh Domhanda;
(b) Na fadhbanna a bhí roimh shaighdiúirí nuair a d'fhill siad abhaile ón gCéad Chogadh Domhanda.

_____ (8)

NÓ

(C) AN DARA COGADH DOMHANDA

(12 mharc)

Tugadh ciondáiil isteach sa Ríocht Aontaithe le linn an Dara Cogaidh Dhomhanda. Ceadaíodh méid áirithe bia agus comhábhar do gach saoránach gach seachtain. Taispeánann an pictiúr ciondáiil seachtaine do dhuine fásta.



1. Cén fáth a raibh gá le ciondáiil? Tabhair **DHÁ** chúis.

(2)

2. Leanadh den chiondáiil sa Ríocht Aontaithe go dtí 1954, cé gur tháinig deireadh leis an gcogadh in 1945. Tabhair cúis **AMHÁIN** ar leanadh den chiondáiil, dar leat.

(2)

3. Scríobh alt gearr faoi cheann **AMHÁIN** díobh seo a leanas:

- (a) Cath A **AINMNÍONN TÚ** sa Dara Cogadh Domhanda
- NÓ**
- (b) Na sluachampaí géibhinn

(8)

CEIST 4

24 marc

4. (a) MNÁ SA DOMHAN FORBARTHA AGUS SA DOMHAN I mBÉAL FORBARTHA

(12 mharc)

Léigh an t-eolas thíos agus freagair na ceisteanna a leanann é.

Sa tSualainn (An Eoraip)

Is é ionchas saoil mná ná 84 bliain
Faigheann duine as gach 330 cailín bás roimh aois a cúig
Beirtear beirt pháistí do mhná, ar an meán
Is féidir le 99% de mhná léamh
Maireann oideachas éigeantach ar feadh deich mbliana
Téann 96% de chailíní ar an meánscoil



In Angóla (An Afraic)

Is é ionchas saoil mná ná 53 bliain
Faigheann duine as gach seisear cailíní bás roimh aois a cúig
Beirtear cúigear nó seisear páistí do mhná, ar an meán
Is féidir le 54% de mhná léamh
Maireann oideachas éigeantach ar feadh sé bliana
Téann 17% de chailíní ar an meánscoil



1. Cé acu tír a bhfuil ionchas saoil níos airde inti? _____ (1)
2. Cé acu tír a bhfuil an ráta báis níos airde inti i measc páistí faoi bhun cúig bliana d'aois?

_____ (1)
3. Mínigh go hachomair **TRÍ** dhifríocht atá idir an dá thír thuas.
 - a. _____

 - b. _____

 - c. _____
_____ (6)
4. Mínigh **DHÁ** shlí ina bhféadfaí saol na mban in Angóla a fheabhsú.
 - a. _____

 - b. _____
_____ (4)

(b) DÚSHAOTHRÚ EACNAMAÍOCH TÍORTHA I mBÉAL FORBARTHA (12 mharc)
Déan staidéar ar an eolas agus ar na híomhánna thíos agus freagair na ceisteanna a leanann iad.

Tá fosuithe móra de mhianraí agus de mhiotail luachmhara ag mórán tíortha san Afraic. Mar sin féin, tá mórán tíortha san Afraic ar na tíortha is boichte ar domhan.

Seo roinnt tíortha san Afraic agus a gcuid earraí easpórtála:

An Bhotsuáin – diamaint, copar, nicil, luaith shóide agus ór
An Congó – diamaint, peitreal, cóbalt agus copar
An Ghabúin – peitreal agus mangainéis
An Ghuine – báicsít, alúmana, ór agus diamaint
Siarra Leon - diamaint
An tSúdáin – peitreal agus ór
Mailí – ór
An Mháratáin – iarnmhian
Mósaimbíc – alúmanam
An Namaib – diamaint, úráiniam, ór agus sinc
An tSaimbia – copar agus cóbalt



5. Cad is 'earra easpórtála' ann? _____
_____ (2)
6. Cad is 'dúshaothrú' ann? _____
_____ (2)
7. Ainmnigh **DHÁ CHEANN** de na mianraí Afracacha thuas ar eol duit iad a bheith luachmhar.
_____ agus _____ (4)

Tá an cartún á úsáid le caoinchead polyp.org.uk



'GOLD DIGGERS'

8. Is é teideal an chartúin seo ná 'Tochtóirí Óir'. An dóigh leat gur teideal maith é sin don chartún? Tabhair cúis **AMHÁIN** le do fhreagra.

_____ (4)

CEIST 5

24 marc

Seiceáil an bhfuil léarscáil agus fótagraf agat sula bhfreagraíonn tú na ceisteanna seo. (24 mharc)

Scrúdaigh an léarscáil Suirbhéireachta Ordanáis 1: 50,000 agus an t-aerfótagraf a ghabhann leis an bpáipéar seo. Ansin freagair na ceisteanna thíos.

Taispeánann an léarscáil agus an fótagraf baile Dhún Garbhán agus an ceantar ina timpeall.

1. Ainmnigh an príomhbhóthar náisiúnta a thaispeántar ar an léarscáil.

_____ (2)

2. Tabhair ainmneacha **DHÁ** abhainn a thaispeántar ar an léarscáil

_____ agus _____ (2)

3. Is beann é Cruachán atá 484 méadar ar airde. Tabhair tagairt eangaí sé fhigiúr do Chruachán.

_____ (4)

4. Ainmnigh an príomhchineál úsáide a bhaintear as an talamh timpeall ar Chruachán.

_____ (4)

5. Tabhair **DHÁ** phíosa fianaise go bhfuil daoine lonnaithe sa cheantar timpeall ar Dhún Garbhán le fada.

_____ (4)

6. Féach ar an léarscáil agus ar an bhfótagraf. Cén fhianaise atá ann do na feidhmeanna seo a leanas i nDún Garbhán? **NÍ** gá duit tagairtí eangaí a thabhairt.

Feidhm	Fianaise
Feidhm chosanta	
Feidhm leighis	
Feidhm thurasóireachta	
Feidhm reiligiúin	
Feidhm chónaitheach	Feicim eastáit tithíochta san fhótagraf

(4)

7. Cén fhianaise atá ann, ón léarscáil agus ón bhfótagraf, nach féidir le báid mhóra ná le longa calafort Dhún Garbhán a shroicheadh? _____

_____ (4)