

RABHADH

Freagair gach ceist sna spásanna atá ann dóibh ar an bpáipéar seo.

Scríobh do Scrúduithe anseo.



Coimisiún na Scrúduithe Stáit

SCRÚDÚ AN TEASTAIS SHÓISEARAIGH, 2013

STAIDEÁR IMSHAOIL AGUS SÓISIALTA

ARDLEIBHÉAL

DÉ hAOINE, 7 MEITHEAMH – MAIDIN 9.30 – 11.30

Treoracha d'iarrthóirí:

Don Scrúdaitheoir amháin:

Freagair GACH CEANN de na CÚIG Cheist laistigh

- Ceist 1 ar na leathanaigh 2, 3, 4 agus 5
Freagair na codanna (A), (B) agus (C)
- Ceist 2 ar na leathanaigh 6, 7, 8 agus 9
Freagair cuid (A) nó (B)
- Ceist 3 ar na leathanaigh 10, 11, 12 agus 13
Freagair cuid (A). Ansin freagair cuid (B) nó (C)
- Ceist 4 ar na leathanaigh 14 agus 15
- Ceist 5 ar leathanach 16
Déan deimhin de ar dtús go bhfuil an léarscáil agus an t-aerfótagraf agat. Freagair na ceistanna go léir.

Ceist	MARC
1	
2	
3	
4	
5	
IOMLÁN	
GRÁD	

CEIST 1

24 marc

Freagair GACH ceann de na TRÍ chuid – (A) agus (B) agus (C)

(A) CEISTEANNA ILROGHNACHA (12 mharc)
Freagair 12 de na ceisteanna seo a leanas. Cuir tic (✓) sa bhosca ceart i ngach cás.

Sampla: Is í an chathair is mó in Éirinn ná:

- | | | | | |
|-----------------------|-------------------------------------|------------------|--------------------------|-----|
| (a) Gaillimh | <input type="checkbox"/> | (b) Béal Feirste | <input type="checkbox"/> | |
| (c) Baile Átha Cliath | <input checked="" type="checkbox"/> | (d) Port Láirge | <input type="checkbox"/> | (1) |

1. Is é a thugtar ar dhuine a dhéanann léarscáileanna ná:

- | | | | | |
|----------------|--------------------------|-----------------|--------------------------|-----|
| (a) seandálaí | <input type="checkbox"/> | (b) cartagrafaí | <input type="checkbox"/> | |
| (c) cartlannaí | <input type="checkbox"/> | (d) geolaí | <input type="checkbox"/> | (1) |

2. Ciallaíonn ‘réabhlóid’:

- | | | | | |
|---------------------------|--------------------------|---------------|--------------------------|-----|
| (a) iompú timpeall iomlán | <input type="checkbox"/> | (b) cur crann | <input type="checkbox"/> | |
| (c) treabhadh | <input type="checkbox"/> | (d) cogadh | <input type="checkbox"/> | (1) |

3. Is é a thugtar ar thír atá á rialú ag tír eile ná:

- | | | | | |
|-----------------|--------------------------|-------------|--------------------------|-----|
| (a) cúige | <input type="checkbox"/> | (b) rialtas | <input type="checkbox"/> | |
| (c) coilíneacht | <input type="checkbox"/> | (d) oileán | <input type="checkbox"/> | (1) |

4. Is í an abhainn is faide in Éirinn ná:

- | | | | | |
|------------------|--------------------------|---------------|--------------------------|-----|
| (a) An tSionainn | <input type="checkbox"/> | (b) An Life | <input type="checkbox"/> | |
| (c) An Laoi | <input type="checkbox"/> | (d) An Bhearú | <input type="checkbox"/> | (1) |

5. Ar léarscáil Suirbhéireachta Ordanáis baintear úsáid as línescála chun tomhas a dhéanamh:

- | | | | | |
|--------------|--------------------------|----------------|--------------------------|-----|
| (a) ar airde | <input type="checkbox"/> | (b) ar fhad | <input type="checkbox"/> | |
| (c) ar threo | <input type="checkbox"/> | (d) ar dhaonra | <input type="checkbox"/> | (1) |

6. Is é an t-aigéan atá ar an taobh thiar d’Éirinn ná:

- | | | | | |
|------------------------|--------------------------|--------------------------|--------------------------|-----|
| (a) An tAigéan Indiach | <input type="checkbox"/> | (b) An tAigéan Artach | <input type="checkbox"/> | |
| (c) An tAigéan Ciúin | <input type="checkbox"/> | (d) An tAigéan Atlantach | <input type="checkbox"/> | (1) |

7. Tá dea-chleachtas ag scoil le Brat Glas sa réimse a bhaineann le:

- (a) ríomhairí (b) torthaí scrúduithe
(c) athchúrsáil (d) spórt (1)

8. Is ionaid iad bainc, comhair chreidmheasa agus oifigí poist:


- (a) do chaitheamh aimsire (b) do thionsclaíocht
(c) d'oideachas (d) d'airgeadas (1)

9. Is é atá i Sí an Bhrú i gContae na Mí ná sampla:

- (a) de thuama pasáiste (b) de dholmain
(c) de ráth (d) de chrannóg (1)

10. Is é atá i gceantar cónaithe den chuid is mó ná:

- (a) oifigí agus siopaí (b) oifigí
(c) tithe (d) stáisiúin chumhachta (1)



11. Is é atá san obair chloiche ag barr ballaí caisleáin ná:

- (a) an droichead tógála (b) an geata crochta
(c) na forbhallaí (d) na poill lámhaigh (1)

12. Is é a thugtar ar ghluaiseacht daoine ó tír go tír ná:

- (a) lonnaíocht (b) imirce
(c) lárú (d) dílárú (1)

13. Cé acu díobh seo a leanas atá ina *fhoinse phríomha*?

- (a) scannán faisnéise (b) leabhar staire
(c) scannán a rinneadh don phictiúrlann (d) dialann (1)

14. Ciallaíonn uirbiú forbairt:

- (a) ar bhailte agus cathracha (b) ar bhóithre
(c) ar thalamh feirme (d) ar pháirceanna (1)



Féach ar an lógó agus freagair na ceisteanna thíos.

1. Cad a chiallaíonn ‘laghdaigh agus athúsáid’?

(2)

2. Ainmnigh **DHÁ** chineál ní a ndéantar iad a athchúrsáil ó thithe in Éirinn go rialta.

(2)

3. Ainmnigh **DHÁ** tháirge nó ní ar féidir iad a dhéanamh as ábhar athchúrsáilte.

(2)

4. Cad iad na tíortha ónar tháinig na plandóirí?

_____ (2)

5. Conas a roghnaíodh na plandóirí chun talamh a fháil in Éirinn?

_____ (2)

6. Mínigh **DHÁ** cheann de na téarmaí seo a leanas:

Gealltóir _____

Bábhún _____

Seirbheoir _____

_____ (4)

7. Tabhair **DHÁ** thoradh fhadtéarmacha a bhí ar phlandáil in Éirinn.

1. _____

2. _____

_____ (4)

8. Scríobh faoin gcaoi ar athraíodh saol na nÉireannach dúchasach de bharr plandála.

_____ (6)

Féach ar na fótagraif agus ar an eolas thíos agus freagair na ceisteanna ar an leathanach thall.



Fótagraf: Thiago Trajana

Tá feabhas an-mhór tagtha ar gheilleagar na Brasaíle le blianta anuas. Tá roinnt daoine atá an-saibhir sa Bhrasaíl agus tá mórán comhlachtaí idirnáisiúnta tagtha chun dul i mbun gnó sa Bhrasaíl.

Mar sin féin, tá mórán daoine atá an-bhocht, nach bhfuil an t-oideachas ná na cáilíochtaí acu le poist mhaithe a fháil. Bíonn dálaí maireachtála an-dona ag cuid acu. Beidh Corn an Domhain sa Pheil ar siúl sa Bhrasaíl in 2014 agus dá bharr sin cuirfear mórán post ar fáil do roinnt grúpaí sa Bhrasaíl.



FIFA CORN AN DOMHAIN
Brasil



Fótagraf Michael Renner

Tógadh na fótagraif ar fad ar an leathanach thall i gcathair darb ainm Recife sa Bhrasaíl.

1. Tabhair **DHÁ** phíosa fianaise ó na fótagraif go bhfuil mórán daoine saibhre ina gcónaí i Recife.

(4)

2. Tabhair **DHÁ** phíosa fianaise ó na fótagraif go bhfuil mórán daoine bochta ina gcónaí i Recife.

(4)

3. An dóigh leat go ndéanfaidh Corn an Domhain FIFA, a bheidh ar siúl sa Bhrasaíl, difríocht do shaol na ndaoine atá an-bhocht ar fad? Tabhair **DHÁ** chúis le do fhreagra.

(4)

4. Bogann mórán daoine ó cheantair thuaithe sa Bhrasaíl chuig na cathracha móra. Tabhair **TRÍ** chúis a mbogann daoine chuig na cathracha.

(6)

5. Déan cur síos ar na fadhbanna a d'fhéadfadh a bheith ag daoine a chónaíonn in **FAVELA**.

(6)



CEIST 3

24 marc

Freagair cuid (A), agus ansin freagair cuid (B) nó (C)

(A) AN RÉABHLÓID THIONSCLAÍOCH

(12 mharc)



Barr: Roimh an innealra nua

Lár: Innealra nua ar fheirmeacha

Bun: Sprae antaiseipteach Lister á úsáid le linn obráidí

Féach ar na fótagraif agus freagair na ceisteanna thíos.



Seo fótagraif ó Chath Passchendaele sa Chéad Chogadh Domhanda. Tharla sé idir mí an Mheithimh agus mí na Samhna 1917 agus bhásaigh breis agus 600,000 saighdiúir.

1. Is cosúil go bhfuil trioblóid ag na fir sa chéad fhótagraf lena ngunna mór airtléire. Cén fhadhb atá ann dar leat?

_____ (2)


2. Tá na fir sa dara fótagraf ag leagan síos ‘mataí trinse’. Conas a d’fhéadfadh na ‘mataí trinse’ seo a bheith mar chabhair dar leat?

_____ (2)

3. Scríobh alt gearr faoi cheann **AMHÁIN** díobh seo a leanas:

- (a) Uirlisí nua troda a úsáideadh sa Chéad Chogadh Domhanda;
- (b) Mná le linn an Chéad Chogaidh Dhomhanda;
- (c) An saol sna Trinsí;
- (d) Na fadhbanna a raibh ar shaighdiúirí aghaidh a thabhairt orthu nuair a tháinig siad ar ais ón gCéad Chogadh Domhanda;

_____ (8)



Le linn an Dara Cogadh Domhanda, chuaigh mná isteach i bhfórsaí airm mórán tíortha. San Aontas Sóivéadach, throid siad ar bhéal an chatha. Ba mhná iad mórán de na páirtínigh nó na trodaithe frithbheartaíochta san Eoraip.

Ní dheachaigh mórán ban isteach san arm sa Bhreatain ná sna Stáit Aontaithe, ach ina áit sin d'oibrigh siad i monarchana nó ar fheirmeacha don 'iarracht chogaidh'.

1. Cén fáth a raibh an oiread sin ban ag teastáil le hoibriú sna monarchana?

_____ (2)

2. Cad a chiallaíonn an sluán 'Saighdiúirí gan ghunnaí' dar leat?

_____ (2)

3. Scríobh alt gearr faoi cheann **AMHÁIN** díobh seo a leanas:

(a) Bean nó cailín ón Dara Cogadh Domhanda ar fhoghlaim mé fúithi

NÓ

(b) Na Campaí Géibhinn

_____ (8)

CEIST 4

24 marc

ÉAGOTHROIME AN DOMHAIN – TEACHT AR OIDEACHAS

(24 marc)

Déan staidéar ar na fótagraif agus ar an tábla eolais agus freagair na ceisteanna ina ndiaidh.



Íomhá le caoinchead ó user africa / FreeDigitalPhotos.net
Forget



Fótagraf le Yann



Íomhá le caoinchead ó user: africa / FreeDigitalPhotos.net



Fótagraf le Peter Griffin

	Éire An Eoraip	An Tansáin An Afraic	An Bhangleidéis An Áise	Meicsiceo Críocha Mheiriceá	Gána An Afraic	An India An Áise	An Bhrasaíl Críocha Mheiriceá
Meánlíon blianta a chaith daoine fásta ar scoil	9.4 bliain	2.7 bliain	2.6 bliain	7.2 bliain	3.9 bliain	5.1 bliain	4.9 bliain
An líon daltaí in aghaidh an mhúinteora bunscoile	18	56	51	28	32	40	22
% a fhanann san oideachas i ndiaidh na meánscoile	48%	0.7%	7%	21%	3.3%	10%	16%
% de dhaoine fásta atá ábalta léamh agus scríobh go maith	99%	69.4%	56.8%%	86.1%	67.3%	74%	88.6%

(figiúirí ó www.nationmaster.com agus *CIA WorldBook*)

1. Cé acu tír (díobh siúd atá liostaithe) ina gcaitheann daoine fásta an méid is mó ama ar scoil?

_____ (2)

2. Cé acu tír (díobh siúd atá liostaithe) ina gcaitheann daoine fásta an méid is lú ama ar scoil?

_____ (2)

3. Cé acu tír ina bhfuil an líon is lú daoine fásta atá ábalta léamh agus scríobh go maith?

_____ (2)

4. Cé acu tír ina bhfuil an líon is lú daltaí in aghaidh an mhúinteora?

_____ (2)

5. Ag féachaint ar na fótagraif duit, luaigh **CEITHRE** dhifríocht is féidir leat a fheiceáil idir do scoil féin agus na scoileanna sna fótagraif.

a. _____

b. _____

c. _____

d. _____

_____ (8)

6. Déan cur síos ar **CHEITHRE** chúis a bhféadfadh deacracht a bheith ag páiste sa Bhanglaidéis nó sa Tansáin fanacht ar scoil chomh fada le páiste in Éirinn.

_____ (8)

CEIST 5

24 marc

Déan deimhin go bhfuil léarscáil agus fótagraf agat sula bhfreagraíonn tú na ceisteanna seo.

Scrúdaigh léarscáil na Suirbhéireachta Ordanáis, 1: 50,000 agus an t-aerfótagraf a thagann leis an bpáipéar seo. Ansin freagair na ceisteanna thíos.

Taispeántar Cora Droma Rúisc agus an ceantar ina thimpeall ar an léarscáil agus san fhótagraf.

1. Ainmnigh an príomhbhóthar náisiúnta a thaispeántar ar an léarscáil.

_____ (2)

2. Tabhair ainmneacha **DHÁ** abhainn a thaispeántar ar an léarscáil.

_____ agus _____ (2)

3. Tabhair ainmneacha **DHÁ** loch a thaispeántar ar an léarscáil.

_____ agus _____ (2)

4. Cad a chiallaíonn an líne phoncaithe a shíneann le hais na habhann ar an léarscáil?

_____ (2)

5. Ainmnigh an príomhchineál úsaíde a bhaintear as an talamh ag Charlestown (M985 980).

_____ (4)

6. Tá canáil sa chúinne thoir theas den léarscáil in M99 95.
Tabhair **DHÁ** dhifríocht idir canáil agus abhainn.

_____ (4)

7. Cén fhianaise atá ann, ón léarscáil agus ón bhfótagraf, go bhfuil tóir ag turasóirí ar cheantar Chora Droma Rúisc mar cheann scríbe?

_____ (8)