

**RABHADH**

Freagair gach ceist sna spásanna atá ann dóibh ar an bpáipéar seo.

Scríobh do Scrúduithe anseo.



## Coimisiún na Scrúduithe Stáit

SCRÚDÚ AN TEASTAIS SHÓISEARAIGH, 2012

STAIDEAR IMSHAOIL AGUS SÓISIALTA

ARDLEIBHÉAL

DÉ hAOINE, 8 MEITHEAMH – MAIDIN 9.30 – 11.30

### Treoracha d'iarrthóirí:

Freagair **GACH CEANN** de na **CÚIG** Cheist laistigh

- Ceist 1 ar na leathanaigh 2, 3, 4 agus 5  
Freagair na codanna (A), (B) agus (C)
- Ceist 2 ar na leathanaigh 6, 7, 8 agus 9  
Freagair cuid (A) nó (B)
- Ceist 3 ar na leathanaigh 10, 11, 12 agus 13  
Freagair cuid (A). Ansin freagair cuid (B) nó (C)
- Ceist 4 ar na leathanaigh 14 agus 15
- Ceist 5 ar leathanach 16  
Déan deimhin de ar dtús go bhfuil an léarscáil agus an t-aerfótagraf agat. Freagair na ceisteanna go léir.

### Don Scrúdaitheoir amháin:

Ceist	MARC
1	
2	
3	
4	
5	
<b>IOMLÁN</b>	
<b>GRÁD</b>	

# CEIST 1

## 24 marc

Freagair GACH ceann de na TRÍ chuid – (A) agus (B) agus (C)

### (A) CEISTEANNA ILROGHNACHA

(12 mharc)

Freagair 12 de na ceisteanna seo a leanas. Cuir tic (✓) sa bhosca ceart i ngach cás.

*Sampla:* Is í an chathair is mó in Éirinn ná:

- |                       |                                     |                  |                          |     |
|-----------------------|-------------------------------------|------------------|--------------------------|-----|
| (a) Gaillimh          | <input type="checkbox"/>            | (b) Béal Feirste | <input type="checkbox"/> |     |
| (c) Baile Átha Cliath | <input checked="" type="checkbox"/> | (d) Port Láirge  | <input type="checkbox"/> | (1) |

1. Is duine é geolaí a oibríonn:

- |                                |                          |                     |                          |     |
|--------------------------------|--------------------------|---------------------|--------------------------|-----|
| (a) le déantáin agus fothracha | <input type="checkbox"/> | (b) le crainn       | <input type="checkbox"/> |     |
| (c) le músaem                  | <input type="checkbox"/> | (d) le carraigeacha | <input type="checkbox"/> | (1) |

2. Ag caint ar an Réabhlóid Thionsclaíoch, ciallaíonn ‘réabhlóid’:

- |                                |                          |                   |                          |     |
|--------------------------------|--------------------------|-------------------|--------------------------|-----|
| (a) casadh timpeall go hiomlán | <input type="checkbox"/> | (b) crainn a chur | <input type="checkbox"/> |     |
| (c) treabhadh                  | <input type="checkbox"/> | (d) cogadh        | <input type="checkbox"/> | (1) |

3. Is iad na daoine a d’fhorbair bailte in Éirinn ar dtús ná:

- |                  |                          |              |                          |     |
|------------------|--------------------------|--------------|--------------------------|-----|
| (a) Normannaigh  | <input type="checkbox"/> | (b) Manaigh  | <input type="checkbox"/> |     |
| (c) Lochlannaigh | <input type="checkbox"/> | (d) Ceiltigh | <input type="checkbox"/> | (1) |

4. Is í an abhainn is faide in Éirinn ná:

- |                  |                          |               |                          |     |
|------------------|--------------------------|---------------|--------------------------|-----|
| (a) An tSionainn | <input type="checkbox"/> | (b) An Life   | <input type="checkbox"/> |     |
| (c) An Laoi      | <input type="checkbox"/> | (d) An Bhearú | <input type="checkbox"/> | (1) |

5. Ar léarscáil na Suirbhéireachta Ordanáis, is í an tsiombail do stáisiún Gardaí ná:

- |                    |                          |                  |                          |     |
|--------------------|--------------------------|------------------|--------------------------|-----|
| (a) triantán dearg | <input type="checkbox"/> | (b) carbhán      | <input type="checkbox"/> |     |
| (c) puball         | <input type="checkbox"/> | (d) réalta ghorm | <input type="checkbox"/> | (1) |

6. Is ionaid iad aerfoirt, stáisiúin traenach, stáisiúin bus agus teirminéil farantóireachta:

- |                           |                          |                 |                          |     |
|---------------------------|--------------------------|-----------------|--------------------------|-----|
| (a) d’airgeadas           | <input type="checkbox"/> | (b) d’iompar    | <input type="checkbox"/> |     |
| (c) do chaitheamh aimsire | <input type="checkbox"/> | (d) d’oideachas | <input type="checkbox"/> | (1) |

7. Báisteach, sneachta agus clocha sneachta; is cineálacha iad ar fad:

- (a) de dhigitiú  (b) de thiúchan   
(c) de ghalú  (d) de fhrasaíocht  (1)

8. Is ionaid iad scoileanna, coláistí agus ollscoileanna:

- (a) do chaitheamh aimsire  (b) do thionsclaíocht   
(c) d'oideachas  (d) d'airgeadas  (1)



9. Taispeánann an pictiúr thuas an láthair is mó is díol spéise do thurasóirí in Éirinn. Is í sin:

- (a) Aillte an Mhothair  (b) Pluaiseanna na hAille Buí   
(c) Clochán an Aifir  (d) Oileán an Bhulla  (1)

10. Is é a bhíonn laistigh de limistéar tionsclaíoch den chuid is mó ná:

- (a) oifigí agus siopaí  (b) páirceanna   
(c) scoileanna  (d) stáisiúin tástála  (1)

11. Is cineál é *móta agus bábhún*:

- (a) de dhamhsa searmanach  (b) de phaidir Lochlannach   
(c) d'uirlis ceoil  (d) de chaisleán Normannach  (1)

12. Is é a thugtar ar ghluaiseacht daoine ó tír amháin go tír eile ná:

- (a) lonnaíocht  (b) lárú   
(c) imirce  (d) dílárú  (1)

13. Cé acu díobh seo a leanas atá mar *fhoinsé thánaisteach*?

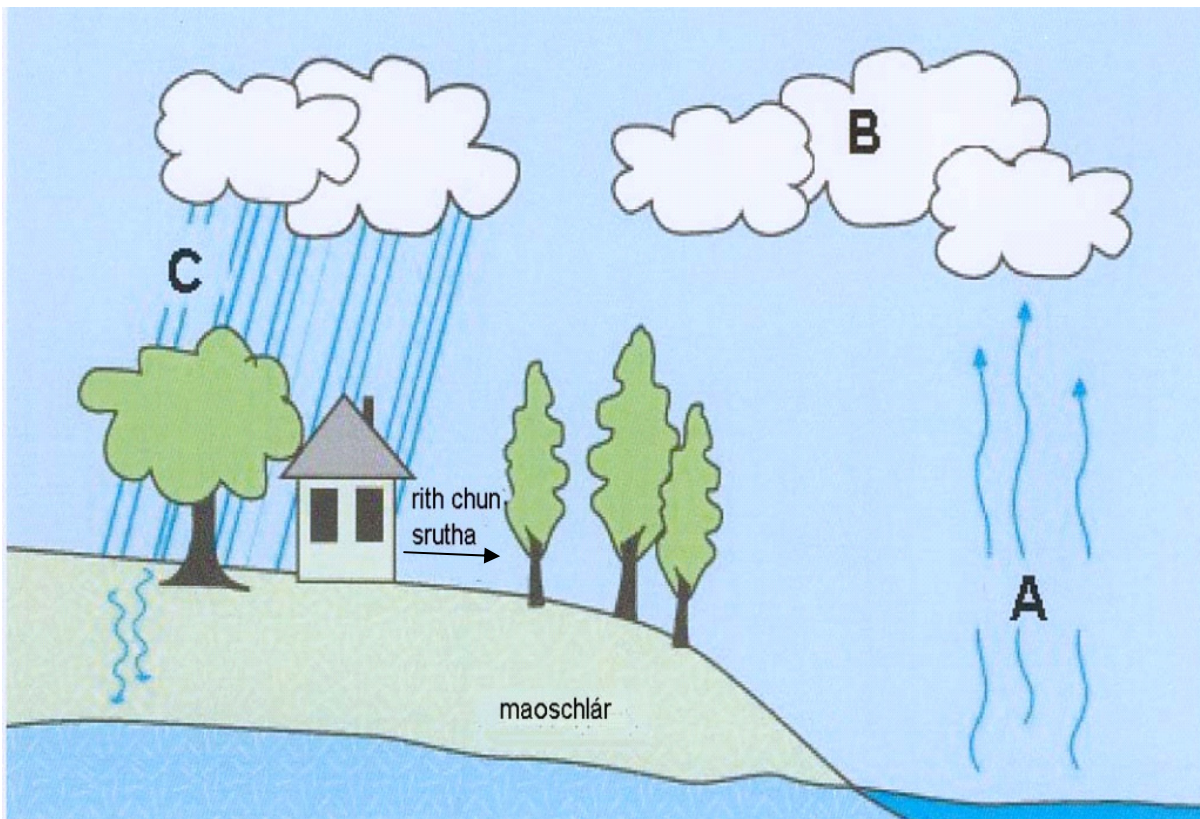
- (a) dialann  (b) leabhar staire   
(c) teastas breithe  (d) litir  (1)

14. Ciallaíonn uirbiú go bhfuil forbairt á déanamh:

- (a) ar thalamh feirme  (b) ar bhóithre   
(c) ar bhailte agus ar chathracha  (d) ar pháirceanna  (1)

[ **Thall**





Taispeánann an léaráid seo an Timthriall Uisce.  
Féach ar an léaráid agus freagair na ceistanna thíos.

1. Líon isteach na bearnaí.

Ag **A**, tá an ghrian ag soilsiú ar an bhfarraige agus is é sin is cúis le \_\_\_\_\_

Ag **B**, tá an t-uisce ag comhdhlúthú agus ag déanamh scamall.

Ag **C**, \_\_\_\_\_ (2)

2. Conas a thaispeánann an léaráid seo gur acmhainn *inathnuaite* é uisce?

\_\_\_\_\_  
\_\_\_\_\_  
\_\_\_\_\_ (2)

3. Tabhair fáth **AMHÁIN** a bhfuil crainn agus plandaí tábhachtach sa chomhshaol.

\_\_\_\_\_  
\_\_\_\_\_  
\_\_\_\_\_ (2)

## CEIST 2

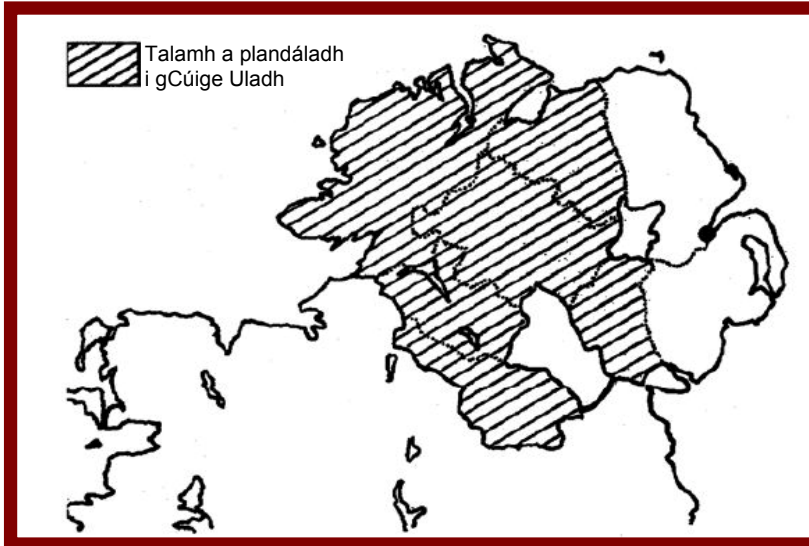
24 marc

Freagair cuid (A) nó (B)

(A) PLANDÁIL IN ÉIRINN SA 17ú hAOIS

(24 marc)

Foinse A Déan staidéar ar an léarscáil agus ansin freagair na ceisteanna thíos.



1. Ainmnigh contae AMHÁIN i gCúige Uladh a plandáladh. \_\_\_\_\_ (1)

2. Ainmnigh contae AMHÁIN i gCúige Uladh nár plandáladh. \_\_\_\_\_ (2)

3. Tabhair cúis AMHÁIN ar plandáladh Cúige Uladh.

\_\_\_\_\_  
\_\_\_\_\_ (2)

Foinse B

Léigh an sliocht seo a leanas as suirbhé ar ghealltóirí agus ansin freagair na ceisteanna ina thíos.

Tá Iarla Abercorn, atá ina ghealltóir do sciartha an tSratha Bháin, Donnalong agus....Skean atá sannta do Sir Thom Boide [4,500 acra san iomlán], i ndiaidh na sciartha seo a phlandáil le beagnach céad sealbhóir tí atá lonnaithe ... lena stoc Eallaigh ansin, agus den chuid is mó tá dóthain arm acu...Tá líon na n-eastát i saorsheilbh agus ar léas níos mó, ... ná an líon is gá de réir airteagal [na plandála]. Tá teach mór ceann tuí tógtha aige thart ar chúirt chearnógach ag an tSrath Bán dá úsáid féin anois...

Níl ag George Hamilton (neamhláithrí) ach 8 nó 9 de thionóntaí ar an sciar atá aigesean [1,000 acra], seachas sin níl dada déanta air.

Tá teach agus bábhún maith go leor ag James Claphoune a fuair sé agus iad tógtha cheana féin ag Newtown laistigh dá sciar féin [2,000 acra] agus tá an talamh tugtha dá cheathrar mac aige. Níl thar leath a chuid tionóntaí ar an talamh fós, tá sé ar intinn aige an chuid eile a sholáthar...

Níl aon tionónta ar sciar James Haige [1,500 acra] fós, níl aon rud tógtha air agus tá sé féin as láthair.

4. Cén mhéid a bhí san eastát ba mhó? \_\_\_\_\_ (1)

5. Cén mhéid a bhí san eastát ba lú? \_\_\_\_\_ (1)

6. Cé acu de na gealltóirí a raibh níos mó tionóntaí aige ná a theastaigh de réir na gcoinníollacha?  
\_\_\_\_\_  
\_\_\_\_\_ (1)

7. Ag úsáid an tsleachta ar an leathanach roimhe seo, cé acu fear a dtabharfá ‘neamhláithrí’ air?  
\_\_\_\_\_  
\_\_\_\_\_ (2)

8. Cén fáth ar iarradh ar na lonnaitheoirí airm a thabhairt leo?  
\_\_\_\_\_  
\_\_\_\_\_ (2)

9. Ag úsáid an tsleachta ar an leathanach roimhe seo, luaigh **DHÁ** ghné a bhain le tithe a tógadh le linn an ama seo.

a. \_\_\_\_\_

b. \_\_\_\_\_ (2)

10. Ag úsáid an tsleachta ar an leathanach roimhe seo, cén tuiscint atá agat ar na téarmaí seo a leanas?

Gealltóir: \_\_\_\_\_

\_\_\_\_\_

Léas: \_\_\_\_\_

\_\_\_\_\_

Neamhláithrí: \_\_\_\_\_

\_\_\_\_\_ (6)

11. Tabhair **DHÁ** thionchar a bhí ag Plandáil Uladh.

1. \_\_\_\_\_

\_\_\_\_\_

2. \_\_\_\_\_

\_\_\_\_\_ (4)

[ Thall



Léigh an t-eolas thíos agus freagair na ceistanna a leanann é.



Fótagraf cóipcheart Rhett A. Butler [www.mongabay.com](http://www.mongabay.com)  
*Foraois bháistí de chuid na hAmasóine atá glanta ag lománaithe*



*Plandáil chaife i gcathair São João do Manhuaçu - Stát Minas Gerais State – an Bhrasaíl*

*Thóg Fernando Rebêlo an fótagraf seo i mí Eanáir 2004.*

Is fótagraf de phlandáil chaife sa Bhrasaíl atá thuas. Tá an phlandáil déanta in áit a raibh cuid d’fhoraois bháistí na Brasaíle uair amháin.

1. Seachas le talamh a ghlanadh d’fheirmeoireacht, tabhair **DHÁ** chúis le dífhoraoisiú sa Bhrasaíl.

---



---



---

(4)

2. Nuair a tharlaíonn dífhoraoisiú, cad a tharlaíonn do na daoine a chónaíodh san fhoraois bháistí?

---



---

(4)

3. Tabhair **DHÁ** shampla de thosca **tarraingthe** a d’fhéadfadh daoine díláithrithe a spreagadh chun dul chuig na cathracha sa Bhrasaíl.

---



---

(4)





# CEIST 3

24 marc


Freagair cuid (A), agus ansin freagair cuid (B) nó (C)

(A) AN RÉABHLÓID THIONSCLAÍOCH

(12 mharc)







Is tanc Briotanach Mark-Vstar atá anseo. Bhí an tanc ar cheann de mhórán arm nua a úsáideadh den chéad uair sa Chéad Chogadh Domhanda.

1. Tabhair buntáiste **AMHÁIN** agus míbhuntáiste **AMHÁIN** a bhain leis na tancanna luatha.

Buntáiste: \_\_\_\_\_

Míbhuntáiste: \_\_\_\_\_ (2)

2. Ainmnigh **DHÁ** arm eile a úsáideadh den chéad uair sa Chéad Chogadh Domhanda.

\_\_\_\_\_ agus \_\_\_\_\_ (4)

3. Scríobh alt gearr faoi cheann **AMHÁIN** díobh seo a leanas:

- (a) An Lusitania á chur faoi uisce;
- (b) Na cúiseanna a bhí leis an gCéad Chogadh Domhanda;
- (c) An saol sna Trinsí;
- (d) Suaitheadh catha.

\_\_\_\_\_

\_\_\_\_\_

\_\_\_\_\_

\_\_\_\_\_

\_\_\_\_\_

\_\_\_\_\_

\_\_\_\_\_

\_\_\_\_\_

\_\_\_\_\_ (6)





## CEIST 4

24 marc

### ÉAGOTHROIME AN DOMHAIN – IONCHAS SAOIL AGUS SLÁINTE

(24 marc)

Déan staidéar ar na táblaí eolais agus freagair na ceisteanna ina ndiaidh.

(figiúirí ón Eagraíocht Dhomhanda Sláinte, 2009)

Tír	Ionchas saoil nuair a bheirtear iad Fireannaigh	Ionchas saoil nuair a bheirtear iad Baineannaigh
An Bhurúin	49 bliain	51 bliain
An Aetóip	53 bliain	56 bliain
An Fhrainc	78 bliain	85 bliain
An India	63 bliain	66 bliain
Éire	77 bliain	82 bliain
An Iorua	79 bliain	83 bliain
An tSiombáib	47 bliain	50 bliain

Tír	Dochtúirí (in aghaidh gach 10000 duine)	Leapacha Ospidéil (in aghaidh gach 10000 duine)	Caiteachas bliantúil ar shláinte in aghaidh an duine (US\$)
An Bhurúin	0.3	7	20
An Aetóip	0.2	2	19
An Fhrainc	35	71	2922
An India	6	9	40
Éire	31.9	52	2920
An Iorua	40.8	35	4091
An tSiombáib	1.6	30	Níl sé ar fáil



fótagraf: Public Domain / Dre007



fótagraf: Public Domain file / Jason Hutchens as Sydney, An Astráil

1. Cé acu tír (astu siúd atá liostaithe) a bhfuil an t-ionchas saoil is ísle d'fhireannaigh aici?

\_\_\_\_\_ (3)

2. Cé acu tír (astu siúd atá liostaithe) a bhfuil an t-ionchas saoil is ísle do bhaineannaigh aici?

\_\_\_\_\_ (3)

3. Cé acu tír ina bhfuil an bhearna is mó idir ionchas saoil na bhfireannach agus na mbaineannach ?

\_\_\_\_\_ (3)

4. Cé acu tír a bhfuil an líon is mó leapacha ospidéal aici in aghaidh gach 10000 duine?

\_\_\_\_\_ (3)

5. Ag féachaint ar na tíortha Eorpacha (an Fhrainc, Éire, an Iorua), cé acu tír, dar leat, a fhaigheann an buntáiste is mó as an méid a chaitear ar shláinte in aghaidh na bliana? Mínigh do fhreagra.

\_\_\_\_\_  
\_\_\_\_\_  
\_\_\_\_\_  
\_\_\_\_\_  
\_\_\_\_\_  
\_\_\_\_\_  
\_\_\_\_\_  
\_\_\_\_\_  
\_\_\_\_\_  
\_\_\_\_\_  
\_\_\_\_\_  
\_\_\_\_\_ (6)

6. Scríobh faoi **THRÍ** thoise a bhféadfadh tionchar a bheith acu ar ionchas saoil.

\_\_\_\_\_  
\_\_\_\_\_  
\_\_\_\_\_  
\_\_\_\_\_  
\_\_\_\_\_  
\_\_\_\_\_  
\_\_\_\_\_  
\_\_\_\_\_  
\_\_\_\_\_  
\_\_\_\_\_  
\_\_\_\_\_  
\_\_\_\_\_ (6)



# CEIST 5

24 marc

**Bí cinnte go bhfuil léarscáil agus fótagraf agat sula bhfreagraíonn tú na ceisteanna seo.**

Scrúdaigh léarscáil na Suirbhéireachta Ordanáis, 1 : 50,000 agus an t-aerfótagraf a thagann leis an bpáipéar seo. Ansin freagair na ceisteanna thíos.

Taispeántar Daingean Uí Chúis agus an ceantar ina thimpeall ar an léarscáil agus san fhótagraf.

1. Ainmnigh an Bóthar Náisiúnta den Dara Grád a thaispeántar ar an léarscáil.

\_\_\_\_\_ (2)

2. Tabhair ainmneacha **DHÁ** abhainn a thaispeántar ar an léarscáil.

\_\_\_\_\_ agus \_\_\_\_\_ (2)

3. Tabhair ainmneacha **DHÁ** loch a thaispeántar ar an léarscáil.

\_\_\_\_\_ agus \_\_\_\_\_ (2)

4. Tabhair ainm trá **AMHÁIN** a thaispeántar ar an léarscáil.

\_\_\_\_\_ (2)

5. Ag féachaint ar na comhrianta in Q 50 06, cad iad na ‘Srianta Feithicle’ (Vehicle Restrictions) atá sa Chonair, dar leat?

\_\_\_\_\_  
\_\_\_\_\_  
\_\_\_\_\_  
\_\_\_\_\_  
\_\_\_\_\_ (4)

6. Tá an bhinn ar a dtugtar An Cnapán Mór (Q523 046) ag airde \_\_\_\_\_ méadar. (4)

7. Cén fhianaise atá ann ón léarscáil agus ón bhfótagraf go bhfuil tóir ag turasóirí ar cheantar an Daingin mar cheann scríbe?

\_\_\_\_\_  
\_\_\_\_\_  
\_\_\_\_\_  
\_\_\_\_\_  
\_\_\_\_\_  
\_\_\_\_\_  
\_\_\_\_\_ (8)