

RABHADH

Freagair gach ceist sna spásanna atá ann chuige ar an bpáipéar seo.

Scríobh do Scrúduithe anseo.



Coimisiún na Scrúduithe Stáit

SCRÚDÚ AN TEASTAIS SHÓISEARAIGH, 2004

STAIÉAR IMSHAOIL AGUS SÓISIALTA

ARDLEIBHÉAL

DÉ LUAIN, 14 MEITHEAMH – TRÁTHNÓNA 1.30 – 3.30

Treoracha d'iarrthóirí:

Freagair GACH CEANN de na CÚIG CHEIST laistigh

- Maidir le Ceist 1 ar leathanaigh 2, 3, 4 agus 5
Freagair na trí chuid (A), (B) agus (C)
- Maidir le Ceist 2 ar leathanaigh 6, 7, 8, 9 agus 10
Freagair cuid (A) nó cuid (B)
- Maidir le Ceist 3 ar leathanaigh 11, 12 agus 13
Freagair cuid (A) AGUS cuid (B) nó cuid (C)
- Maidir le Ceist 4 ar leathanaigh 14, 15 agus 16
Freagair an DÁ chuid (A) agus (B)
- Maidir le Ceist 5 ar leathanaigh 17 agus 18
Seiceáil ar dtús go bhfuil an léarscáil agus an t-aerfhótagraf agat. Freagair na ceistanna go léir

Don Scrúdaitheoir amháin:

Ceist	MARC
1	
2	
3	
4	
5	
IOMLÁN	
GRÁD	

CEIST 1

24 marc

Freagair GACH ceann de na TRÍ chuid (A) agus (B) agus (C)

(A) CEISTEANNA ILROGHA

(12 mharc)

Freagair 12 de na ceisteanna seo a leanas. Cuir tic (✓) sa bhosca ceart i ngach cás.

Sampla: Bhaintí úsáid as seol snáithe:

- (a) san fhíodóireacht (b) sa scríbhneoireacht
(c) sa ghlantóireacht (d) sa chócaireacht (1)

1. Is é a thugtar ar chuardach seandálaíochta ná?

- (a) déantán (b) tochailt
(c) carn cúirte (d) fulacht fiadh (1)

2. Sa saol Ceilteach in Éirinn, draoi ba ea:

- (a) sagart (b) feirmeoir
(c) saighdiúir (d) rí (1)

3. Soilsíonn an ghrian taobh istigh de Bhrú na Bóinne ar:

- (a) 21 Márta (b) 21 Meitheamh
(c) 21 Meán Fómhair (d) 21 Nollaig (1)

4. Cén ceann díobh seo **NACH** cathair í sa Bhrasaíl?

- (a) Sao Paulo (b) Rio de Janeiro
(c) Maidrid (d) Brasilia (1)

5. Is é is airde ann ná:

- (a) fad ón meánchiorcal (b) fad ón bhfarraige
(c) airde os cionn leibhéal na farraige (d) an treo a luíonn fána (1)

6. Cén ceann díobh seo a leanas ar sampla de thionscal éadrom é?

- (a) déantúsaíocht carranna (b) iarann agus cruach
(c) longthógáil (d) sliseanna ríomhaireachta (1)

7. Bhunaigh na Lochlannaigh longphoirt in Éirinn. Ba iad seo:

- (a) feirmeacha (b) poirt
(c) caisleáin (d) mainistreacha (1)

8. Cén grúpa daoine ar bhain an searmanas “dubbing” leo sna Meánaoiseanna:

- (a) ridirí (b) mná
(c) daoine bochta (d) manaigh (1)

9. Cén ceann díobh seo **NACH** n-úsáidte chun caisleáin a ionsaí sna Meánaoiseanna:

- (a) crann tabhail (b) reite cogaidh
(c) túr léigir (d) giústáil (1)

10. Is é is fairsingiú fásaigh ann ná:

- (a) fásach ag leathnú (b) mianadóireacht i bhfásach
(c) lonnú i bhfásach (d) cúrsaí iompair i bhfásach (1)

11. Déantar hidrileictreachas a tháirgeadh as:

- (a) móin (b) solas na gréine
(c) uisce (d) gual (1)

12. Is é a chiallaíonn **P** ar léarscáil Shuirbhéireacht Ordanáis ná:

- (a) oifig phoist (b) stáisiún gardaí
(c) páirceáil (d) ionad picnice (1)

13. Cén duine díobh seo a raibh baint aige le bunú an C.E.E.?

- (a) Robert Schuman (b) Tony Blair
(c) An Ginearál Eisenhower (d) Mao Tse-tung (1)

14. Cén duine díobh seo **NACH** raibh ina Ard-Rúnaí ar na Náisiúin Aontaithe?

- (a) Kofi Anan (b) Kurt Waldheim
(c) U Thant (d) John F. Kennedy (1)

(C) TÍORTHA SAN AFRAIC

(6 mharc)

Foinse A

Déan staidéar ar an tábla thíos agus ansin freagair na ceisteanna a leanann é.

	An Aetóip	Uganda	An Chéinia	An Nigéir
Daonra (m)	61	21	29	121
Ionchas saoil tráth breithe (blianta)	43	42	51	53
Ráta litearthachta aosach (%)	50	46	27	48
Míchothú (% díobh sin faoi chúig bliana; 1992-98)	48	26	23	39

1. Ainmnigh an tír ar an tábla leis an daonra is airde.

_____ (1)

2. Ainmnigh an tír leis na rátaí is measa don litearthacht aosach.

_____ (1)

3. Ainmnigh an tír leis an ionchas saoil is airde.

_____ (1)

4. Cén ráta míchothú naíonán atá san Aetóip?

_____ (1)

5. Luaigh **DHÁ** chúis a bhfuil an ráta míchothú naíonán chomh hard sin san Aetóip.

1. _____

2. _____

_____ (2)

CEIST 2

24 marc

Freagair Cuid (A) nó (B)

(A) PLANDÁLACHA IN ÉIRINN SA 17ú hAOIS

(24 marc)

Foinse A

Déan staidéar ar an sliocht thíos agus ansin freagair na ceisteanna a leanann é:

I mí Dheireadh Fómhair 1649, thosaigh fórsaí Chromail ar Loch Garman a ghabháil. Seo mar a scríobh duine d’fhir Chromail chuig cara dó: *Inné ghabhamar an dún anseo os comhair Loch Garman a bhí os cionn an chuain, agus is linne anois é. Theitheadar isteach i bhfrigéad lámh leis an dún a tiomáineadh isteach ag ár loingeas féin. Ghabhadar an frigéad freisin, ártach nua le Tiarna Aontroma, agus 14 gunna uirthi. Bhí 7 gunna sa dún. Tá a lán long eile thuas ag an mbaile agus le toil Dé titfidh an baile. Tá 1500 fear curtha isteach sa bhaile acu áit a raibh 2000 cheana féin. Tá talamh breá méith anseo. Níl uainn anois ach breis fear chun seilbh a ghlacadh air. Ba bhreá liom dá mbeadh ár gcuid saighdiúirí i Sasana inár dteannta anseo chun go bhfaighidís seilbh. Íoctar ár gcuid fear go léir go maith – faigheann saighdiúirí ar chapall 2s. 3d. in aghaidh an lae agus saighdiúirí coise 4s. 10d. in aghaidh na seachtaine. Tagann mórán de mhionuaisle na tuaithe isteach gach lá ag lorg dídine. Tá flit thart ar 20 seol againn anseo os comhair an chuain.*

1. Cén uair a thosaigh fórsaí Chromail ar Loch Garman a ghabháil?

_____ (1)

2. Theith na hÉireannaigh i longa ar a dtugtaí frigéid. Ainmnigh úinéir frigéid amháin díobh seo.

_____ (1)

3. Cén fáth ar mhaith leis an scríbhneoir breis saighdiúirí Sasanacha a bheith ann?

_____ (2)

4. Cén saighdiúir a fhaigheann an pá is mó – an saighdiúir ar chapall **NÓ** an saighdiúir coise?

_____ (2)

5. Tagann mórán de mhionuaisle na tuaithe isteach sa bhaile ag lorg dídine. Cén fáth a bhfuil dídean uathu dar leat?

_____ (2)

6. Mínigh na téarmaí seo a leanas a bhaineann le Plandáil Chromail:

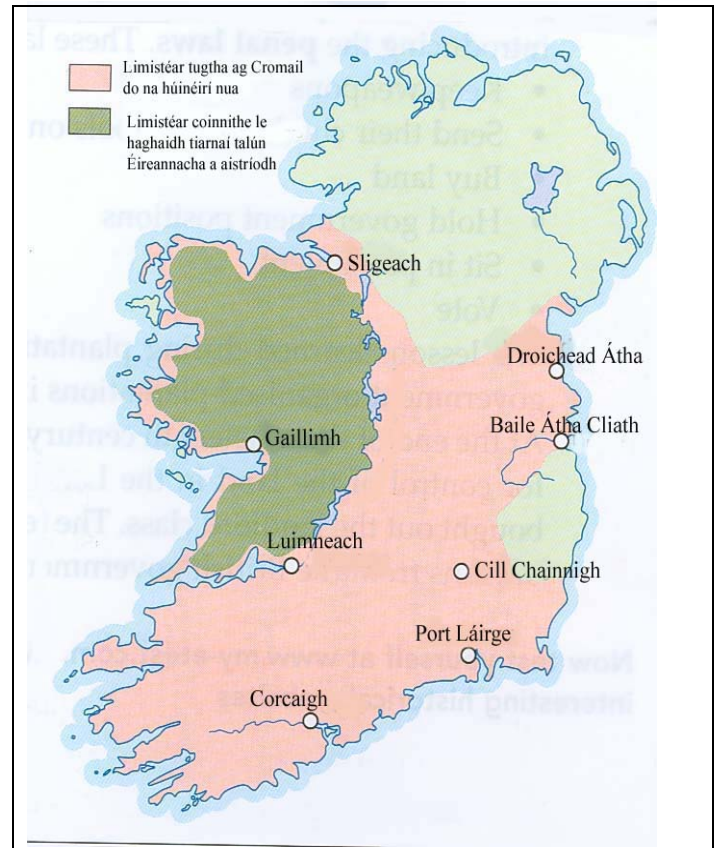
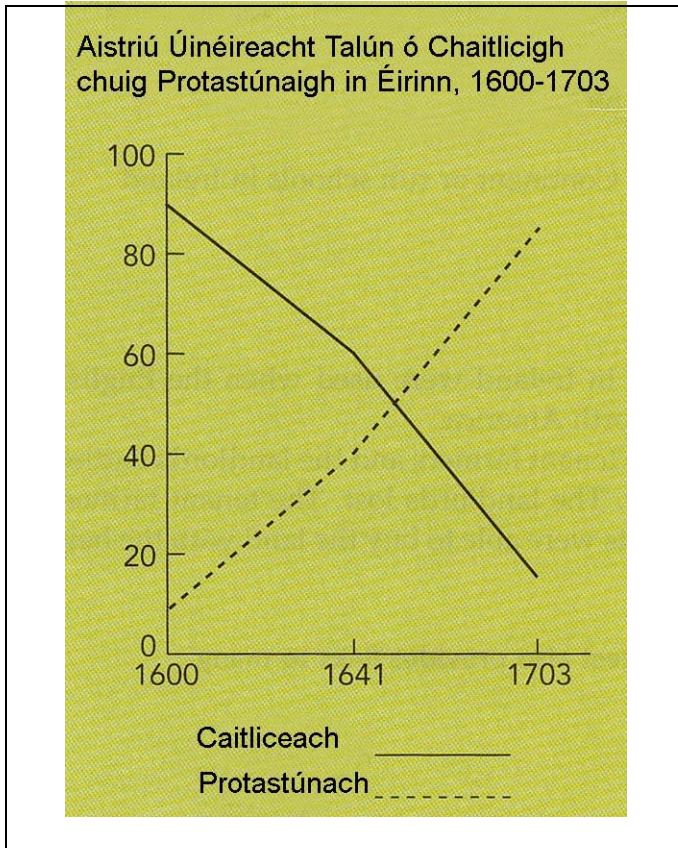
Eachtránaí _____

An Down Survey _____

_____ (4)

Foinse B

Déan staidéar ar an ngraf agus ar an léarscáil thíos agus ansin freagair na ceisteanna a leanann.



7. Bain úsáid as an ngraf thuas agus luaigh **DHÁ** phointe i dtaobh úinéireacht talún in Éirinn idir 1600 agus 1703.

1. _____

2. _____
_____ (4)

8. Is féidir a fheiceáil ar an léarscáil go raibh Connachta coinnithe mar limistéar le haghaidh “*tiarnaí talún Éireannacha a aistriodh*”. Mínigh cad ba bhrí leis seo.

_____ (2)

9. Níor thug Cromail limistéar Uladh ná an limistéar ó dheas ó Bhaile Átha Cliath do thiarnaí talún nua. Mínigh cén fáth a bhí leis seo.

(2)

10. Luaigh **DHÁ** mhórtionchar a bhí ag na plandálacha.

1. _____

(2)

2. _____

(2)

NÓ

(B) AN BHRASAÍL SA 20ú hAOIS

(24 marc)

Foinse A

Déan staidéar ar an bhfótagraf thíos agus ansin freagair na ceisteanna a leanann.



1. Déan cur síos ar fhásra nádúrtha abhantrach na hAmasóine mar a léirítear é san fhótagraf.

(2)

2. Déan cur síos ar aeráid abhantrach na hAmasóine faoi na ceannteidil thíos:

Teocht

Fliuchras

(4)

Foinse B

Léigh an sliocht thíos agus ansin freagair na ceistanna a leanann.

Ó na 1960idí i leith tá méadú áirithe tagtha ar dhaoine abhantrach na hAmasóine de réir mar a rinne rialtas na Brasaíle iarracht ar é a choilíniú.

Rinne bóithre móra ar nós an Mhór-Bhóthar Tras-Amasóine gearradh trí na foraoiseacha báistí agus scaoileadh na céadta míle lonnaitheoirí isteach ann. Bunaíodh bailte agus feirmeacha in aice leis na bóithre. Ghlan comhlachtaí idirnáisiúnta mearbhia réimsí ollmhóra mar fhéarach do bheithigh le haghaidh burgar mairteola. D'oscail comhlachtaí móra mianadóireachta mianaigh ollmhóra.

Ar mhórán bealaí, tubaist is ea coilíniú fhoraoiseacha báistí na hAmasóine. Dúnmharáíodh Ameirindiaigh áitiúla agus rinne 'lucht forbartha' ruathair orthu a chuir as seilbh a dtailte iad. Díothaíodh speicis ainmhithe agus plandaí, de réir mar a rinneadh loisceadh agus glanadh ar limistéir ollmhóra foraoise. Agus an cumhdach foraoise scriosta, ba ghearr go raibh an ithir neamhthorthúil agus á creimeadh ag báisteach throm. Tháinig fuarlach sna haibhneacha agus bhí tuilte coitianta. B'éigean do mhórán lonnaitheoirí teitheadh ón talamh a bhí scriosta acu.

3. Déan cur síos ar an gceineál oibre ba ghá a dhéanamh chun an Mór-Bhóthar Tras-Amasóine a thógáil.

(2)

4. Ainmnigh **DHÁ** chineál comhlachta a chuaigh i mbun gnó i bhforaoiseacha báistí na hAmasóine.

1. _____ 2. _____ (2)

5. Liostaigh **CEITHRE** fhadhb ag éirí as tógáil an Mhór-Bhóthair seo.

1. _____ 2. _____
3. _____ 4. _____ (4)

6. Mínigh na téarmaí seo a leanas mar a bhaineann le foraoiseacha báistí na hAmasóine:

Ameirindiach _____

Comhlacht Ilnáisiúnta _____

Coilíniú _____

(6)

7. Cén fáth a gceapann tú gur ceist dhomhanda is ea gearradh na bhforaoiseacha báistí? Luaigh **DHÁ** pointe.

1. _____

2. _____

(4)

CEIST 3

24 marc

Freagair cuid (A). Ansin freagair cuid (B) NÓ (C)

(A) AN RÉABHLÓID THIONSCLAÍOCH

(12 mharc)

Foinse A

Léigh an sliocht thíos agus ansin freagair na ceisteanna a leanann.

Gach lá, théadh na páistí síos sa mhianach guail dorcha. Théadh cuid acu ag lámhacán ar feadh an tseaftha mianaigh go dtí an áit a mbíodh na mianadóirí ag tochailt an ghuail. Lódáilidís cairteacha agus tharraingidís iad go dtí béal an mhianaigh. ‘Comhladóirí’ a thugtaí ar pháistí áirithe. Thugaidís an lá go léir ina suí ag na comhlaí aeir á n-oscailt agus á ndúnadh chun an t-aer a scaoileadh isteach. Dúirt cailín hocht mbliana d’aois, Sarah Goodber: “Ní thraochann sé mé ach bíonn orm na comhlaí a oibriú gan aon solas agus bím scanraithe. Ní théim a chodladh riamh. Uaireanta bím ag canadh nuair atá solas agam ach ní chanaim sa dorchadas. Bíonn eagla orm canadh an uair sin. Ní maith liom a bheith sa pholl guail.”

1. Déan cur síos ar **DHÁ** chineál oibre a dhéanadh páistí sna mianaigh ghuail.

1. _____

2. _____

(4)

2. Déan cur síos ar **DHÁ** chontúirt do pháistí a bhíodh ag obair sna mianaigh ghuail.

1. _____

2. _____

(4)

3. Mheas Lord Shaftesbury nach raibh sé ceart caitheamh le páistí ar an gcaoi seo. D’áitigh sé ar an rialtas dlíthe a achtú chun an saol a fheabhsú do pháistí.

Luaigh **DHÁ** ghné ar tháinig feabhas orthu.


1. _____

2. _____

(4)

Fótagraf A

Déan staidéar ar an bhfótagraf thíos agus freagair na ceistanna a leanann.



Taispeánann Fótagraf A lucht síniúcháin na gconarthaí i bPáras: Foch agus Clemenceau na Fraince, Lloyd George na Breataine, Orlando agus Sonnino na hIodáile. Phléigh siad bealaí chun pionós a chur ar an nGearmáin tar éis an Chogaidh, agus tháinig síniú Chonradh Versailles dá thoradh seo.

1. Ainmnigh **DHÁ** thír a bhfuil ionadaithe acu san fhótagraf.

1. _____

2. _____ (2)

2. Cén cuspóir a bhí ag an gcrúinniú seo?

_____ (2)

3. Mínigh na téarmaí seo a leanas maidir le Conradh Versailles:

Clásal Chiontacht Chogaidh

Íocaíochtaí Cúitimh

Limistéar dímhíleataithe

Conradh na Náisiún

_____ (8)

Fótagraf B

Déan staidéar ar an bhfótagraf thíos agus freagair na ceistanna a leanann.



Taispeánann Fótagraf B Churchill na Breataine, Roosevelt na Stát Aontaithe agus Stailín Aontas na Sóivéide ag Comhdháil Yalta mí Feabhra 1945 chun todhchaí na Gearmáine a phlé agus Eagraíocht na Náisiún Aontaithe a bhunú.

1. Ainmnigh **DHÁ** thír a bhfuil ionadaithe acu ag Comhdháil Yalta.

- 1. _____
- 2. _____ (2)

2. Cén cuspóir a bhí ag an gcrúinniú seo?

- _____
- _____ (2)

3. Mínigh na téarmaí seo a leanas maidir leis an Dara Cogadh Domhanda:

Deliverance Day (D-Day)

- _____
- _____

Buama Adamhach

- _____
- _____

Na Náisiúin Aontaithe

- _____
- _____

An Cogadh Fuar

- _____
- _____ (8)

CEIST 4

24 marc

Freagair na TRÍ chuid – (A) agus (B) agus (C)

(A) MNÁ AG OBAIR SA DOMHAN I mBÉAL FORBARTHA

(8 marc)

Fótagraf A

Déan staidéar ar an bhfótagraf thíos agus freagair na ceisteanna a leanann.



1. Déan cur síos ar an gcineál oibre atá ar siúl ag na mná i bhFótagraf A.

_____ (2)

2. Scríobh síos **DHÁ** phointe a léiríonn go bhfuil an mhonarcha seo sa domhan i mbéal forbartha.

1. _____

2. _____

_____ (4)

3. Scríobh síos bealach **AMHÁIN** arbh fhéidir cúinsí oibre a fheabhsú do na mná seo.

_____ (2)

Fótagraf B

Déan staidéar ar an bhfótagraf thíos agus freagair na ceisteanna a leanann.



1. Cén cineál oibre atá ar siúl ag an mbean i bhFótagraf B?

(2)

2. Scríobh síos **DHÁ** phointe a thaispeánann go léiríonn an fótagraf seo an domhan forbartha.

1. _____


2. _____

(4)


3. Luaigh cúis **AMHÁIN** a mbíonn poist íoctha go maith ag mná sa domhan forbartha i gcomparáid le mná sa domhan i mbéal forbartha.

(2)

Déan staidéar ar an dá fhótagraf seo agus ansin freagair na ceisteanna a leanann.



Fótagraf C



Fótagraf D

1. Tógadh Fótagraf C in Iarthar na hÉireann. Agus fianaise ón bhFótagraf agat, scríobh síos **DHÁ** chúinse a thug ar dhaoine an ceantar seo a fhágáil.

1. _____

2. _____

_____ (2)

2. Tógadh Fótagraf D in Mali. Agus fianaise ón bhFótagraf agat, scríobh síos **DHÁ** chúinse a thug ar dhaoine an ceantar seo a fhágáil.

1. _____

2. _____

_____ (2)

3. Scríobh síos **DHÁ** thionchar ag an imirce ar Iarthar na hÉireann **NÓ** ar Mali.

Ainm an Réigiúin _____

1. _____

2. _____

_____ (4)

CEIST 5

24 marc

Déan deimhin de go bhfuil léarscáil agus fótagraf agat sula bhfreagraíonn tú na ceisteanna seo.

Scrúdaigh an léarscáil S.O. 1:50,000 agus an tAerfhótagraf Daite a thagann leis an bpáipéar seo agus freagair na ceisteanna thíos.

Taispeánann an léarscáil agus an fótagraf Béal an Átha, Co. Maigheo.

1. Ainmnigh an abhainn a shníonn trí bhaile Bhéal an Átha.

_____ (2)

2. Cén treo a sníonn an abhainn seo?

aduaidh/ó dheas	<input type="checkbox"/>	anoir/siar	<input type="checkbox"/>
aneas/ó thuaidh	<input type="checkbox"/>	aniar/soir	<input type="checkbox"/>

(2)

3. Ainmnigh an bóthar tánaisteach náisiúnta a théann trí lár Bhéal an Átha.

_____ (2)

4. Tá dhá oifig phoist i mbaile Bhéal an Átha. Seachas iad seo, taispeánann an léarscáil oifig phoist amháin. Ainmnigh an áit ina bhfuil sé.

_____ (2)

5. Bain úsáid as an léarscáil, agus luaigh tagairt ghreille cheithre fhigiúr do ghabhal an dá bhóthar R310 agus N26 ó dheas ó Bhéal an Átha.

_____ (2)

6. Ríomh an t-achar ar feadh an líne iarnróid ó imeall theas na léarscáile OS go dtí an chéad stáisiún traenach ar imeall bhaile Bhéal an Átha.

_____ ciliméadar (4)

7. Luaigh **DHÁ** shampla den úsáid talún mar a thaispeántar san fhótagraf.

1. _____

2. _____

(4)

8. Bain úsáid as fianaise ón léarscáil O.S. agus/nó ón bhfótagraf, agus luaigh **TRÍ** chúis a mbíonn fonn ar thurasóirí teacht chuig ceantar Bhéal an Átha.

1. _____

2. _____

(4)