

**RABHADH**

Freagair gach ceist sna spásanna atá ann chuige sin ar an bpáipéar seo.

Scríobh d'Uimhir Scrúdaithe anseo.



## Coimisiún na Scrúduithe Stáit

SCRÚDÚ AN TEASTAIS SHÓISEARAIGH, 2003

STAIDEÁR IMSHAOIL AGUS SÓISIALTA

ARDLEIBHÉAL

DÉ LUAIN, 9 MEITHEAMH – IARNÓIN 1.30 – 3.30

### Treoracha d'iarrthóirí:

Freagair GACH CEANN de na CÚIG CHEIST laistigh

- Maidir le Ceist 1 *ar leathanaigh 2, 3, 4 agus 5*, freagair na TRÍ CHUID – (A), (B) agus (C)
- Maidir le Ceist 2 *ar leathanaigh 6, 7, 8, 9 agus 10*, freagair cuid (A) NÓ cuid (B)
- Maidir le Ceist 3 *ar leathanaigh 11, 12 agus 13*, freagair cuid (A). Ansin freagair cuid (B) NÓ cuid (C)
- Maidir le Ceist 4 *ar leathanaigh 14 agus 15*, freagair an DÁ chuid – (A) agus (B)
- Maidir le Ceist 5 *ar leathanaigh 16 agus 17*, seiceáil ar dtús go bhfuil an léarscáil agus an t-aerfótagraf agat. Freagair na ceisteanna GO LÉIR.

### Don Scrúdaitheoir amháin:

Ceist	MARC
1	
2	
3	
4	
5	
IOMLÁN	
GRÁD	

# CEIST 1

24 marc

Freagair GACH ceann de na TRÍ chuid - (A) agus (B) agus (C)

## (A) CEISTEANNA ILROGHA

(12 marc)

Freagair 12 de na ceisteanna seo a leanas trí tic (✓) a chur sa bhosca ceart i ngach cás.

*Sampla:* Bhaintí úsáid as seol snáithe:

- (a) san fhíodóireacht  (b) sa scríbhneoireacht   
(c) sa ghlantóireacht  (d) sa chócaireacht  (1)

1. Cén ceann díobh seo a leanas **NACH** foinse phríomhúil é?

- (a) beathaisnéis  (b) griangraf   
(c) dírbheathaisnéis  (d) teastas breithe  (1)

2. Is éard a bhí i *gcrannóg* in Éirinn na gCeilteach:

- (a) áit chónaithe  (b) áit adhlactha   
(c) páirc catha  (d) áit reiligiúnach  (1)

3. Modh amháin a úsáideann seandálaithe chun dáta a chur le rudaí is ea:

- (a) peannaireacht  (b) griangrafadóireacht   
(c) stratagrafaíocht  (d) radagrafaíocht  (1)

4. Is í príomhchathair na Brasaíle:

- (a) Brasilia  (b) Rio de Janeiro   
(c) Sao Paulo  (d) Recife  (1)

5. Is féidir *bustees* a fháil i gcathracha sa domhan i mbéal forbartha. Is éard atá iontu:

- (a) árasáin só  (b) slumanna   
(c) blocanna oifige  (d) tithe leathscoite  (1)

6. Is sampla d'acmhainn inathnuaite é:

- (a) móin  (b) ola   
(c) amhiarann  (d) uisce  (1)

7. Is sampla de thionscal seirbhíse is ea:

- |                    |                          |                   |                          |     |
|--------------------|--------------------------|-------------------|--------------------------|-----|
| (a) feirmeoireacht | <input type="checkbox"/> | (b) turasóireacht | <input type="checkbox"/> |     |
| (c) déantúsaíocht  | <input type="checkbox"/> | (d) iascaireacht  | <input type="checkbox"/> | (1) |

8. Sa Mheánaois, d'úsáid tógálaithe áirsí cruinn os cionn doirse. Is éard a thugtar ar an stíl sin ná:

- |                 |                          |               |                          |     |
|-----------------|--------------------------|---------------|--------------------------|-----|
| (a) Clasaiceach | <input type="checkbox"/> | (b) Rómhanúil | <input type="checkbox"/> |     |
| (c) Gotach      | <input type="checkbox"/> | (d) Barócach  | <input type="checkbox"/> | (1) |

9. Ba ghné a bhain de ghnáth le caisleán meánaoiseach é *móta*. Is éard a bhí ann ná:

- |                    |                          |                   |                          |     |
|--------------------|--------------------------|-------------------|--------------------------|-----|
| (a) balla ard      | <input type="checkbox"/> | (b) túr faire     | <input type="checkbox"/> |     |
| (c) trinse domhain | <input type="checkbox"/> | (d) geata iarainn | <input type="checkbox"/> | (1) |

10. Le linn na Réabhlóide Tionsclaíche, d'fhionn James Hargreaves:

- |                                  |                          |                                      |                          |     |
|----------------------------------|--------------------------|--------------------------------------|--------------------------|-----|
| (a) an Mhiúil Sníofa (Mule)      | <input type="checkbox"/> | (b) an spól crochta (Flying Shuttle) | <input type="checkbox"/> |     |
| (c) an Fráma Uisce (Water Frame) | <input type="checkbox"/> | (d) an Sinéidín (Spinning Jenny)     | <input type="checkbox"/> | (1) |

11. Is éard an toradh a bhíonn ar dhlús íseal daonra go minic ná:

- |               |                          |                           |                          |     |
|---------------|--------------------------|---------------------------|--------------------------|-----|
| (a) plódú     | <input type="checkbox"/> | (b) easpa spáis oscailte  | <input type="checkbox"/> |     |
| (c) truailliú | <input type="checkbox"/> | (d) dúnadh síos seirbhísí | <input type="checkbox"/> | (1) |

12. Is éard a chiallaíonn dílárnú ná postanna seirbhíse poiblí a aistriú ó:

- |   |                          |  |                          |     |
|---|--------------------------|--|--------------------------|-----|
| (a) ceantair áitiúla go dtí an tuaisceart | <input type="checkbox"/> | (b) an lár go dtí ceantair áitiúla       | <input type="checkbox"/> |     |
| (c) ceantair áitiúla go dtí an lár        | <input type="checkbox"/> | (d) ceantair áitiúla go dtí an deisceart | <input type="checkbox"/> | (1) |

13. Seasann an eagraíocht de chuid na Náisiúin Aontaithe E.D.S. do:

- |                                   |                          |                                  |                          |     |
|-----------------------------------|--------------------------|----------------------------------|--------------------------|-----|
| (a) Eagraíocht Dhomhanda Síochána | <input type="checkbox"/> | (b) Eagraíocht Dhomhanda Sláinte | <input type="checkbox"/> |     |
| (c) Eagraíocht Dhomhanda Siúlóide | <input type="checkbox"/> | (d) Eagraíocht Dhomhanda Staire  | <input type="checkbox"/> | (1) |

14. Chuir Conradh na Róimhe (1957) é seo ar bun:

- |                        |                          |  |                          |     |
|------------------------|--------------------------|--|--------------------------|-----|
| (a) N.A.T.O.           | <input type="checkbox"/> | (b) Na Náisiúin Aontaithe              | <input type="checkbox"/> |     |
| (c) Conradh na Náisiún | <input type="checkbox"/> | (d) Comhphobal Eacnamaíochta na hEorpa | <input type="checkbox"/> | (1) |

**(B) AN SAOL LOCHLANNACH IN ÉIRINN**

**(6 mharc)**

Déan cur síos ar shaol na Lochlannach in Éirinn. Is féidir leat na ceannteidil seo a leanas a úsáid mar threoirlínte:

Bia agus Deoch  
Tithe  
Éadaí  
Trádáil

---

---

---

---

---

---

---

---

---

---

---

---

---

---

---

---

---

---

---

---

---

---

---

---

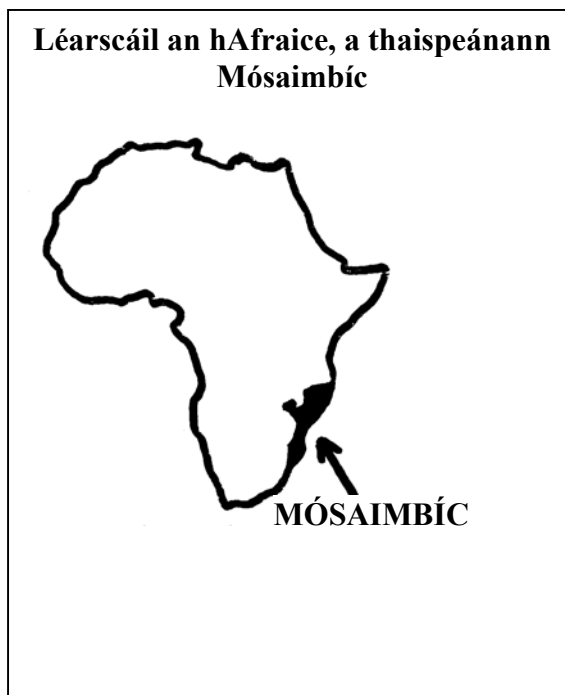
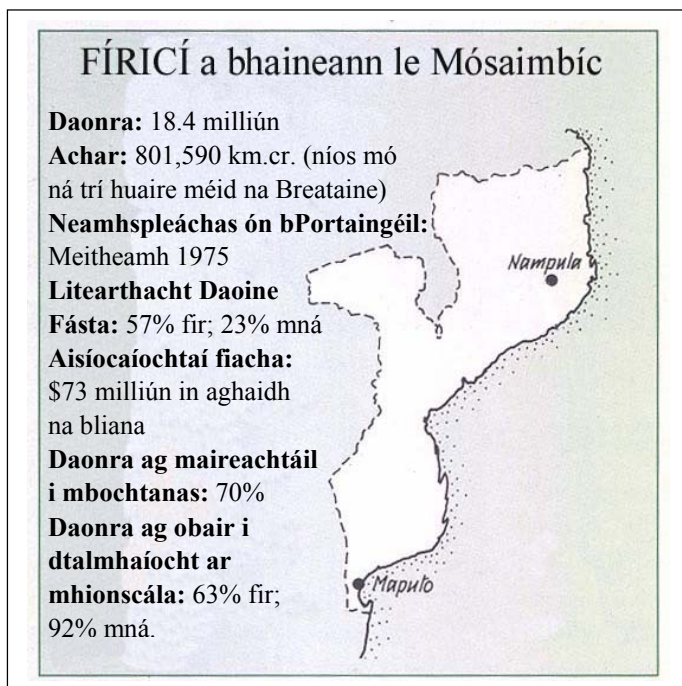
(6)

## (C) MÓSAIMBÍC

(6 mharc)

### Foinse A

Déan staidéar ar an tábla thíos agus ansin freagair na ceisteanna a leanas.



1. Cén daonra atá ag Mósaimbíc?  
\_\_\_\_\_ (1)
2. Cad é an ráta litearthachta do mhná?  
\_\_\_\_\_ (1)
3. Cén fáth a bhfuil an oiread sin bochtanais (70%) sa tír seo i do thuairim? Luaigh píosa **AMHÁIN** fianaise i do fhreagra ón eolas a tugadh.  
\_\_\_\_\_  
\_\_\_\_\_ (2)
4. Is sampla de *thír i mbéal forbartha* í Mósaimbíc. Mínigh slí **AMHÁIN** a bhfuil difríocht idir an saol ansin agus an saol i *dtír fhorbartha*.  
\_\_\_\_\_  
\_\_\_\_\_ (2)

## CEIST 2

24 marc

Freagair cuid (A) nó (B)

(A) PLANDÁIL ULADH

(24 marc)

### Foinse A

Déan staidéar ar an sliocht thíos agus ansin freagair na ceisteanna a leanann é.

#### *Cuallachtaí Londain*

*D'áitigh Séamas I ar dhá cheann déag de Chuallachtaí saibhre Londain **An Cumann Onórach Éireannach** (The Honourable Irish Society) a bhunú chun Contae Chúil Raithin a phlandáil. Athainmníodh an contae Londonderry and Coleraine. Thóg gach cuallacht sráidbhaile nó sráidbhailte ar na tailte a dáileadh orthu, mar shampla, Draperstown (Baile na Croise), Saltertown. Ar mhaithe le sochar, is fíor-bheagán tionóntaí Briotanacha a thug siad isteach agus choinnigh siad líon mór tionóntaí Éireannacha in ainneoin na gconarthaí a bhí déanta acu leis an rialtas.*

1. Cén fáth ar áitigh Séamas I ar dhá cheann déag de Chuallachtaí Londain ‘An Cumann Onórach Éireannach’ a bhunú?

\_\_\_\_\_ (2)

2. Cad a rinne gach cuallacht ar an talamh a tugadh dóibh?

\_\_\_\_\_ (2)

3. I do thuairim, conas a fuair an talamh ar a dtugtar Draperstown **NÓ** Salterstown a ainm?

\_\_\_\_\_ (2)

4. Cén fáth ar thug na Cuallachtaí isteach fíor-bheagán tionóntaí Briotanacha?

\_\_\_\_\_ (2)

5. Tabhair **DHÁ** chúis gur dóigh leat gur bhain tábhacht le Cuallachtaí Londain i bPlandáil Uladh.

1. \_\_\_\_\_

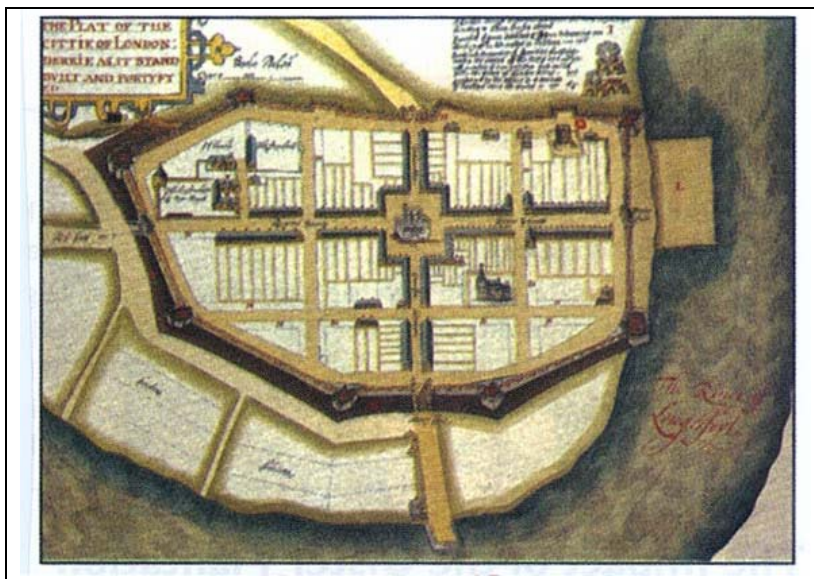
\_\_\_\_\_

2. \_\_\_\_\_

\_\_\_\_\_ (4)

## Foinse B

Déan staidéar ar an léarscáil de bhaile plandála thíos agus ansin freagair na ceisteanna a leanann é.



6. Bain úsáid as an léarscáil, agus tabhair **DHÁ** phointe fianaise le taispeáint go mba bhaile pleanáilte é seo.

1. \_\_\_\_\_

\_\_\_\_\_

2. \_\_\_\_\_

\_\_\_\_\_ (4)

7. Ainmnigh gné chosanta **AMHÁIN** de chuid an bhaile seo.

\_\_\_\_\_

\_\_\_\_\_ (2)

8. D'fhás na bailte plandála go mall. Tabhair cúis **AMHÁIN** leis sin.

\_\_\_\_\_

\_\_\_\_\_ (2)

9. Le cois bailte nua a bhunú, luaigh **DHÁ** thoradh eile a bhí ar Phlandáil Uladh.

1. \_\_\_\_\_

\_\_\_\_\_

2. \_\_\_\_\_

\_\_\_\_\_ (4)

## NÓ

(B) AN BHRASAÍL SA 20ú hAOIS

(24 marc)

### Foinse A

Déan staidéar ar an sliocht thíos agus ansin freagair na ceisteanna a leanas.

*Bhí Maria Santoz ina cónaí in Vila Prudente, bruachbhaile de chuid Sao Paulo, ar feadh na daichead is a cúig bliana seo caite. Bhí sí ar dhuine de na chéad daoine a lonnigh sa cheantar seo, tar éis teacht di ón taobh thiar-thuaidh lena fear céile ag lorg oibre.*

*Fuair a fear céile obair ar an líne chóimeála i monarcha Ford agus saothraíonn sé an méid a dtugann go leor i mBéarla “whipping wage” air (pá spionta). I gcathair ina bhfuil níos mó daoine ná postanna, bíonn fir agus mná sásta uaireanta fada oibre a dhéanamh ar mhaithe le pá an-íseal. Nuair a dhéanann daoine iarracht troid a dhéanamh trí cheardchumann ar mhaithe le coinníollacha agus pá níos fearr, is minic a bhristear as a bpost iad.*

*Nuair a tháinig siad go Sao Paulo i dtosach, ní raibh aon áit chónaithe ag Maria agus a fear céile. Tharla sé gur le linn dá fear céile a bheith ag lorg oibre gur aimsigh sé an favela ag Vila Prudente. Na daoine a bhí ina gcónaí ansin bhí siad ag lonnú ar an talamh go neamhdhlíthiúil ach ní raibh aon duine sásta iad a ruaigeadh as an áit. Is é ba chúis leis sin ná gur píosa talún a bhí ann a bhí sáinnithe idir bóthar iarainn agus bóthar mór agus nach raibh mórán maitheasa ann do dhuine ar bith. Tá cuimhne ag Maria ar na chéad tithe a tógadh ann. Tógadh iad go léir beagnach de na boscaí pacála adhmaid ón monarcha. Ní raibh leictreachas ná córas séarachais sa favela. Chun uisce sábháilte a fháil le hól, théadh Maria tuairim is míle go dtí an píobán uisce ba ghaire agus bhíodh uirthi é sin a dhéanamh cúig huaire sa lá.*

1. Cé mhéad bliain atá caite ag Maria ina cónaí i Vila Prudente?

\_\_\_\_\_ (1)

2. Cá bhfuair fear céile Maria obair?

\_\_\_\_\_ (1)

3. Cad is ciall leis an téarma ‘whipping wage’?

\_\_\_\_\_  
\_\_\_\_\_ (2)

4. Mínigh na téarmaí seo a leanas:

### Ceardchumann

\_\_\_\_\_  
\_\_\_\_\_

### Favela

\_\_\_\_\_  
\_\_\_\_\_ (4)



5. Cén fáth nár ruaigeadh Maria agus a fear céile ón talamh ar a raibh siad lonnaithe?

---

---

(2)

6. Cad de a tógadh na chéad tithe sa favela?

---

(1)

7. Liostáil **TRÍ** fhadhb a bhí os comhair Maria ina teach i Vila Prudente.

1. \_\_\_\_\_

---

2. \_\_\_\_\_

---

3. \_\_\_\_\_

---

(3)

8. Tabhair cúis **AMHÁIN** a mealltar an oiread sin daoine ar nós le Maria agus a fear céile go cathair ar nós Sao Paulo.


---

---

(2)

## Foinse B: Príomhshráid i Vila Prudente

Déan staidéar ar an bhfótagraf thíos agus ansin freagair na ceisteanna a leanas.



9. Bain úsáid as an bhfótagraf, agus luaigh **DHÁ** phíosa fianaise a léiríonn gur ceantar bochtanais é seo.

1. \_\_\_\_\_

\_\_\_\_\_

2. \_\_\_\_\_

\_\_\_\_\_ (2)

10. Luaigh **DHÁ** rud a d'fhéadfaí a dhéanamh chun an tsráid seo a fheabhsú.

1. \_\_\_\_\_

\_\_\_\_\_

2. \_\_\_\_\_

\_\_\_\_\_ (4)

11. Cén fáth, an dóigh leat, a bhfuil ceantair den chineál bochtanais seo i dtír ar nós na Brasaíle?

\_\_\_\_\_

\_\_\_\_\_

\_\_\_\_\_ (2)

# CEIST 3

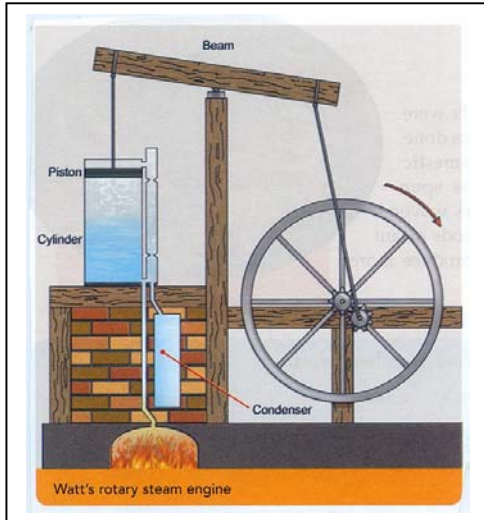
24 marc

Freagair cuid (A). Ansin freagair cuid (B) nó cuid (C)


## (A) AN RÉABHLÓID THIONSCLAÍOCH

(12 marc)

Déan staidéar ar na pictiúir thíos agus ansin freagair na ceisteanna a leanas.



**Inneall Gaile Watt**



**Tiontaire Bhessemer**

1. Scríobh pointe **AMHÁIN** le cur in iúl conas a d'oibrigh inneall gaile Watt.

\_\_\_\_\_ (2)

2. Ainmnigh foinse chumhachta **AMHÁIN** a bhí ann sular fionnadh inneall gaile Watt.

\_\_\_\_\_ (1)

3. Mínigh conas a chuidigh inneall gaile Watt leis na tionscail seo a leanas:

**Cadás**

\_\_\_\_\_

**Gual**

\_\_\_\_\_ (4)

4. Modh saor chun cruach a dhéanamh ba ea Tiontaire Bhessemer. Ainmnigh an mhian a úsáideadh sa phróiseas seo.

\_\_\_\_\_ (1)

5. Luaigh **DHÁ** éifeacht a bhaineann le cruach shaor a bheith ar fáil go héasca.

1. \_\_\_\_\_

2. \_\_\_\_\_

\_\_\_\_\_ (4)

Léigh an sliocht thíos agus ansin freagair na ceisteanna a leanas.

***Cath na Somme (1916)***

*I Mí Iúil na bliana 1916 chuir na Briotanaigh faoin nGinearál Haig tús le hionsaí ollmhór. Rinneadh é sin ar bhealach chun an brú ar na Francaigh ag Verdun a mhaolú agus ar bhealach mar gur creideadh go bhféadfadh ionsaí millteach ón slua coisí ar feadh Abhainn na Somme bua mór a bhaint amach. Thosaigh an t-ionsaí tar éis bombardú ar na trinsí a sheas ar feadh roinnt mhaith laethanta. Ach níor tharla aon bhriseadh tríd i gceart. Ina áit sin, is amhlaidh gur sheas an cath i bhfad gan mórán dul chun cinn ar ceachtar taobh. Nuair a tháinig deireadh leis i Mí na Samhna, bhí 420,000 fear cailte ag na Briotanaigh, 190,000 ag na Francaigh agus 450,000 ag na Gearmánaigh.*

1. Bain úsáid as an sliocht thuas, agus luaigh **DHÁ** chúis gur tharla Cath na Somme.

1. \_\_\_\_\_  
\_\_\_\_\_  
2. \_\_\_\_\_  
\_\_\_\_\_ (2)

2. Ainmnigh ceannaire na bhfórsaí Briotanacha.

- \_\_\_\_\_ (1)

3. Ar tharla Cath na Somme ar an bhFronta Thiar **NÓ** ar an bhFronta Thoir?

- \_\_\_\_\_ (1)

4. D'ionsaigh na Briotanaigh na trinsí Gearmánacha. Luaigh **DHÁ** chúis gur úsáideadh trinsí sa Chéad Chogadh Domhanda.

1. \_\_\_\_\_  
\_\_\_\_\_  
2. \_\_\_\_\_  
\_\_\_\_\_ (4)

5. Bain úsáid as an sliocht, agus luaigh **DHÁ** thoradh a bhaineann le Cath na Somme.

1. \_\_\_\_\_  
\_\_\_\_\_  
2. \_\_\_\_\_  
\_\_\_\_\_ (4)

Déan staidéar ar an sliocht thíos agus ansin freagair na ceisteanna a leanas.

**An Eoraip faoi Smacht na Nazi**

*Faoin mbliain 1942, bhí smacht ag Gearmáin Hitler ar mhór-roinn na hEorpa ó chósta na Fraince san iarthar go dtí Moscó agus Stalingrad san oirthear. I ndiaidh an airm, tháinig an S.S. agus an Gestapo chun smacht na Nazi a chur i bhfeidhm.*

*Baineadh úsáid as obair sclábhaithe chun gilleagar na Gearmáine a choinneáil ar siúl i rith an chogaidh. Faoin mbliain 1944, bhí breis is 7.5 milliún oibrí eachtrannacha á gcoinneáil sna mílte campa oibre. Bhí siad ag obair i ngach cuid den gheilleagar, ó fheirmeacha beaga go monarchana móra airm. Caitheadh go cruálach lena lán díobh.*

*De réir mar a réabh arm na Gearmáine trasna na hEorpa, tháinig na milliúin Giúdach faoi smacht na Nazi, go háirithe in oirthear na hEorpa. Bailíodh Giúdaigh agus locadh iad i ngeitonna nó cuireadh i dtraenacha eallach iad go campaí géibhinn. Is é an rud a bhí beartaithe ag Hitler ná na Giúdaigh go léir a mharú. Faoin mbliain 1945, bhí 6 mhilliún Giúdach maraithe ag na Nazi. Il-loscadh nó Holocaust a thugtar air sin.*

1. Bain úsáid as fianaise ón sliocht thuas, agus ainmnigh **DHÁ** eagraíocht, seachas an t-arm, a chuir smacht na Nazi i bhfeidhm.

1. \_\_\_\_\_
2. \_\_\_\_\_ (2)

2. Mínigh na téarmaí seo a leanas:

**Obair sclábhaithe** \_\_\_\_\_  
\_\_\_\_\_

**Campa Géibhinn** \_\_\_\_\_  
\_\_\_\_\_

**Il-loscadh (Holocaust)** \_\_\_\_\_  
\_\_\_\_\_ (6)

3. Cén fáth, dar leat, nár thaitin na Giúdaigh le Hitler?

\_\_\_\_\_  
\_\_\_\_\_ (2)

4. Cén fáth ar buadh ar an nGearmáin sa Dara Cogadh Domhanda?

\_\_\_\_\_  
\_\_\_\_\_ (2)

# CEIST 4

24 marc


Freagair an DÁ chuid – (A) agus (B)

(A) ÉAGOTHROIME SA DOMHAN INNIU


(12 marc)

## Foinse A

Déan staidéar ar **Fhótagraf A** agus ar **Fhótagraf B** thíos agus ansin freagair na ceisteanna a leanas.



Fótagraf A



Fótagraf B

1. Ainmnigh **TRÍ** ghné i bhFótagraf A a léiríonn bochtanas.

1. \_\_\_\_\_
2. \_\_\_\_\_
3. \_\_\_\_\_ (3)

2. Ainmnigh **TRÍ** ghné i bhFótagraf B a léiríonn saibhreas.

1. \_\_\_\_\_
2. \_\_\_\_\_
3. \_\_\_\_\_ (3)

3. Cruthaíonn Fótagraf A agus Fótagraf B go bhfuil ‘éagthroime mhór sa domhan’. Mínigh an chiall a bhaineann tú as an bhfrás sin.

- \_\_\_\_\_
- \_\_\_\_\_
- \_\_\_\_\_ (2)


4. Scríobh síos **DHÁ** bheart ar cheart a chur i bhfeidhm chun éagthroime sa domhan inniu a laghdú.

1. \_\_\_\_\_
  2. \_\_\_\_\_
- \_\_\_\_\_ (4)



Foinse B

Déan staidéar ar an gcartún thíos agus ansin freagair na ceisteanna a leanas.



1. Bain úsáid as an gcartún thuas, agus ainmnigh **DHÁ** aigéad is cúis le báisteach aigéadach.

- 1. \_\_\_\_\_
- 2. \_\_\_\_\_ (2)

2. Luaigh cúis **AMHÁIN** a bhfuil na haigéid sin le fáil i mbáisteach aigéadach.

\_\_\_\_\_ (2)

3. Déan cur síos ar na héifeachtaí a bhíonn ag báisteach aigéadach orthu seo a leanas:

**Talmhaíocht** \_\_\_\_\_

\_\_\_\_\_

**Fóraoisí** \_\_\_\_\_

\_\_\_\_\_

**Uisce** \_\_\_\_\_

\_\_\_\_\_

**Turasóireacht** \_\_\_\_\_

\_\_\_\_\_ (8)

## CEIST 5

24 marc

Déan deimhin de go bhfuil léarscáil agus fótagraf agat sula bhfreagraíonn tú na ceisteanna seo.

Scrúdaigh an léarscáil S.O. 1:50,000 agus an t-aerfótagraf daite a thagann leis an bpáipéar seo agus ansin freagair na ceisteanna a leanas.

Léiríonn an léarscáil agus an fótagraf baile Ceatharlach agus an ceantar ina thimpeall.

1. Bain úsáid as an léarscáil S.O., agus ainmnigh an phríomhabhainn a ritheann trí bhaile Ceatharlach.  
\_\_\_\_\_  
(2)
2. Bain úsáid as fianaise na léarscáile, agus luaigh **DHÁ** chúis gur fhás Ceatharlach san áit seo.
  1. \_\_\_\_\_  
\_\_\_\_\_
  2. \_\_\_\_\_  
\_\_\_\_\_(4)
3. Tá na himlínte comhairde an-ghar dá chéile ag S67 71. Cad a insíonn sé sin dúinn?  
\_\_\_\_\_  
\_\_\_\_\_  
(2)
4. Luaigh **DHÁ** bhuntáiste atá ag an gceantar ar an léarscáil don talmhaíocht.
  1. \_\_\_\_\_  
\_\_\_\_\_
  2. \_\_\_\_\_  
\_\_\_\_\_(4)
5. Ainmnigh na láithreacha stairiúla (scríofa i ndearg) ag na tagairtí eangaí seo a leanas:
  1. S733 740 \_\_\_\_\_
  2. S687 729 \_\_\_\_\_(4)
6. Bain úsáid as an bhfótagraf, agus liostáil **CEITHRE** chineál dhifriúla slí ina n-úsáidtear talamh i mbaile Ceatharlach..
  1. \_\_\_\_\_
  2. \_\_\_\_\_
  3. \_\_\_\_\_
  4. \_\_\_\_\_(4)



7. Léirítear roinnt carrchlós nach bhfuil ar na sráideanna san fhótagraf de bhaile Ceatharlach. Luaigh buntáiste **AMHÁIN** a bhaineann leis sin don bhaile.

---

---

(2)

8. Is féidir le haibhneacha a bheith ina gcúis le fadhbanna i mbailte ar nós Ceatharlach. Mínigh fadhb **AMHÁIN** a d'fhéadfadh tarlú de bharr aibhneacha i mbaile Ceatharlach.

---

---

(2)

# **Leathanach Bán**

# **Leathanach Bán**

# **Leathanach Bán**