

RABHADH

Freagair gach ceist sna spásanna atá ann dóibh ar an bpáipéar seo.

Scríobh do Scrúduithe anseo.



Coimisiún na Scrúduithe Stáit

SCRÚDÚ AN TEASTAIS SHÓISEARAIGH, 2012

STADÉAR IMSHAOIL AGUS SÓISIALTA

GNÁTHLEIBHÉAL

DÉ hAOINE, 8 MEITHEAMH – MAIDIN 9.30 – 11.30

Treoracha d'iarrthóirí:

Freagair GACH CEANN de na CÚIG cheist laistigh

- Ceist 1 ar na leathanaigh 2, 3, 4 agus 5
Freagair na codanna (A), (B) agus (C)
- Ceist 2 ar na leathanaigh 6, 7, 8 agus 9
Freagair cuid (A) nó (B)
- Ceist 3 ar na leathanaigh 10, 11, 12 agus 13
Freagair cuid (A). Ansin freagair cuid (B) nó (C)
- Ceist 4 ar na leathanaigh 14 agus 15
Freagair na codanna (A) agus (B)
- Ceist 5 ar leathanach 16
Déan deimhin de ar dtús go bhfuil an léarscáil agus an t-aerfótagraf agat. Freagair na ceisteanna go léir.

Don Scrúdaitheoir amháin:

Ceist	MARC
1	
2	
3	
4	
5	
IOMLÁN	
GRÁD	

Ceist 1

24 marc

Freagair GACH ceann de na TRÍ chuid – (A) agus (B) agus (C)

(A) CEISTEANNA ILROGHNACHA

(12 mharc)

Freagair 12 de na ceisteanna seo a leanas. Cuir tic (✓) sa bhosca ceart i ngach cás.

Sampla: Is í an chathair is mó in Éirinn ná:

- | | | | | |
|-----------------------|-------------------------------------|------------------|--------------------------|-----|
| (a) Gaillimh | <input type="checkbox"/> | (b) Béal Feirste | <input type="checkbox"/> | |
| (c) Baile Átha Cliath | <input checked="" type="checkbox"/> | (d) Port Láirge | <input type="checkbox"/> | (1) |

1. Tomhaistear airde os cionn leibhéal na farraige:

- | | | | | |
|------------------|--------------------------|-------------------|--------------------------|-----|
| (a) i gcéimeanna | <input type="checkbox"/> | (b) i gcileagraim | <input type="checkbox"/> | |
| (c) i méadair | <input type="checkbox"/> | (d) i milleabair | <input type="checkbox"/> | (1) |

2. Is é a chuirtear in iúl le compás ná:

- | | | | | |
|---------------|--------------------------|------------------|--------------------------|-----|
| (a) fad | <input type="checkbox"/> | (b) solas gréine | <input type="checkbox"/> | |
| (c) fliuchras | <input type="checkbox"/> | (d) treo | <input type="checkbox"/> | (1) |

3. Faightear foirgnimh a dtugtar ‘cloigthithe’ orthu:

- | | | | | |
|-----------------|--------------------------|--------------------------|--------------------------|-----|
| (a) i mainistir | <input type="checkbox"/> | (b) i mbaile Lochlannach | <input type="checkbox"/> | |
| (c) ar fheirm | <input type="checkbox"/> | (d) i gcalafort | <input type="checkbox"/> | (1) |

4. De ghnáth, is é a bhíonn le fáil in ‘eastát tionsclaíoch’ ná mórán:

- | | | | | |
|----------------|--------------------------|----------------------|--------------------------|-----|
| (a) tithe | <input type="checkbox"/> | (b) clubanna sláinte | <input type="checkbox"/> | |
| (c) feirmeacha | <input type="checkbox"/> | (d) monarchana | <input type="checkbox"/> | (1) |

5. Ar léarscáil na Suirbhéireachta Ordanáis, is í an tsiombail do stáisiún traenach ná:

- | | | | | |
|-------------------------------|--------------------------|-------------------------------------|--------------------------|-----|
| (a) spota dearg ar líne dhubh | <input type="checkbox"/> | (b) ciorcal le cearnóg timpeall air | <input type="checkbox"/> | |
| (c) réalta ghorm | <input type="checkbox"/> | (d) an litir mhór ‘H’ | <input type="checkbox"/> | (1) |

6. Is í bratach an Aontais Eorpaigh ná:

- | | | | | |
|---------------------------------|--------------------------|-------------------------------------|--------------------------|-----|
| (a) Gorm le ‘EU’ scríofa uirthi | <input type="checkbox"/> | (b) gorm le ciorcal de réaltaí órga | <input type="checkbox"/> | |
| (c) dearg, bán agus gorm | <input type="checkbox"/> | (d) gorm agus bán | <input type="checkbox"/> | (1) |

7. Tháinig na Lochlannaigh go hÉirinn:

- | | | | | |
|---------------------------|--------------------------|---------------------|--------------------------|-----|
| (a) ar bhád | <input type="checkbox"/> | (b) de shiúl na gos | <input type="checkbox"/> | |
| (c) ar chapall agus cairt | <input type="checkbox"/> | (d) ar thraein | <input type="checkbox"/> | (1) |

8. Is ionaid iad bainc, comhair chreidmheasa agus oifigí poist:

- | | | | | |
|---------------------------|--------------------------|-----------------|--------------------------|-----|
| (a) d'airgeadas | <input type="checkbox"/> | (b) d'oideachas | <input type="checkbox"/> | |
| (c) do chaitheamh aimsire | <input type="checkbox"/> | (d) do thaighde | <input type="checkbox"/> | (1) |

9.



Is é seo an lógó atá ag grúpa ar a dtugtar:

- | | | | | |
|---------------|--------------------------|-----------------------------|--------------------------|-----|
| (a) UNICEF | <input type="checkbox"/> | (b) Cumann na Croise Deirge | <input type="checkbox"/> | |
| (c) FairTrade | <input type="checkbox"/> | (d) Concern | <input type="checkbox"/> | (1) |

10. Is é a tugadh ar an uisce timpeall ar chaisleán ná:

- | | | | | |
|----------------------|--------------------------|--------------|--------------------------|-----|
| (a) túirín | <input type="checkbox"/> | (b) daingean | <input type="checkbox"/> | |
| (c) droichead tógála | <input type="checkbox"/> | (d) móta | <input type="checkbox"/> | (1) |

11. Is é a tugadh ar na daoine a tháinig go hÉirinn tar éis na Lochlannaigh ná:

- | | | | | |
|-----------------|--------------------------|----------------|--------------------------|-----|
| (a) Draoithe | <input type="checkbox"/> | (b) Ceiltigh | <input type="checkbox"/> | |
| (c) Normannaigh | <input type="checkbox"/> | (d) Sacsanaigh | <input type="checkbox"/> | (1) |

12. Cé acu díobh seo a leanas **NACH** cineál frasaíochta atá ann?

- | | | | | |
|---------------|--------------------------|---------------------|--------------------------|-----|
| (a) báisteach | <input type="checkbox"/> | (b) sneachta | <input type="checkbox"/> | |
| (c) gal | <input type="checkbox"/> | (d) clocha sneachta | <input type="checkbox"/> | (1) |

13. D'úsáid na Ceiltigh **fulacht fiadh**:

- | | | | | |
|--|--------------------------|----------------------------|--------------------------|-----|
| (a) chun foscadh a thabhairt d'eallach | <input type="checkbox"/> | (b) chun feoil a chócaráil | <input type="checkbox"/> | |
| (c) chun a gcuid marbh a adhlacadh | <input type="checkbox"/> | (d) chun airm a ghéarú | <input type="checkbox"/> | (1) |

14. Is é is cumhacht na gréine ann ná:

- | | | | | |
|------------------------|--------------------------|---------------------------------|--------------------------|-----|
| (a) cumhacht ón ngaoth | <input type="checkbox"/> | (b) cumhacht ó thonnta | <input type="checkbox"/> | |
| (c) cumhacht ó ola | <input type="checkbox"/> | (d) cumhacht ó sholas na gréine | <input type="checkbox"/> | (1) |

(B) MUINTIR AN tSEANSAOIL

AN tSEANRÓIMH, AN tSEANGHRÉIG, AN tSEANÉIGIPT NÓ DOMHAN NA nINCEACH

(6 mharc)

I gcás ceann amháin de na sibhialtachtaí thuas, scríobh faoi cheann **AMHÁIN** díobh seo a leanas:

(a) Saighdiúir nó trodaí

NÓ

(b) Saol na mban ag an am sin

NÓ

(c) Nósanna adhlactha

NÓ

(d) Éadaí a chaith siad

Is í an tsibhialtacht a scríobhfaidh mé fúithi ná _____

(6)

Féach ar an bpictiúr thíos agus freagair na ceisteanna ina dhiaidh.



Fótagraf ó pdphoto.org Cóipcheart Jon Sullivan

1. Ainmnigh **DHÁ** ábhar a úsáideadh chun an caisleán seo a thógáil.

_____ agus _____ (2)

2. Déan cur síos ar **DHÁ** ghné chosanta a d'fhágfadh go mbeadh sé deacair an caisleán seo a ionsaí.

_____ (4)

CEIST 2

24 marc

Freagair cuid (A) nó cuid (B).

(A) PLANDÁIL IN ÉIRINN SA 17ú hAOIS

(24 marc)

Léigh an sliocht thíos agus ansin freagair na ceisteanna a leanann é.

Suirbhé a rinneadh sa bhliain 1619

..... laistigh de chontaetha Ard Mhacha, Thír Eoghain, Dhún na nGall, Fhear Manach, an Chabháin agus Londain-Dhoire tá an méid seo a leanas tógtha anois

107 caisleán le bábhúin

19 gcaisleán gan bábhúin

42 bábhún gan caisleáin ná tithe

1897 teach cloiche nó adhmaid.....

Nicholas Pynnar

1. Cé a rinne an suirbhé seo? _____ (1)
2. Cathain a rinneadh an suirbhé? _____ (1)
3. Cá mhéad contae atá ainmnithe sa suirbhé?
_____ (2)
4. Cén phlandáil a dtagraíonn an suirbhé dí?
_____ (2)
5. Cén **DÁ** chineál caisleáin a luaitear sa suirbhé?
 1. _____
 2. _____ (2)
6. Cá mhéad caisleán a bhí tógtha faoin mbliain 1619?
_____ (2)

7. Tabhair fáth **amháin** ar thóg na plandóirí an oiread sin caisleán.

(2)

8. Mínigh **DHÁ CHEANN** de na téarmaí seo a leanas:

Gealltóir

Bábhún

Seirbheoir

(4)

9. Scríobh alt faoi cheann **AMHÁIN** díobh seo a leanas:

- (a) Na fáthanna a raibh an rí Sasanach ag iarraidh Cúige Uladh a phlandáil;
- (b) Na fáthanna a raibh plandóirí Albanacha ag iarraidh lonnú in Éirinn;
- (c) Tionchair Phlandáil Uladh;
- (d) Mothúcháin Éireannaigh a cuireadh amach as a chuid talún le linn plandála.

(8)

(B) AN BHRASAÍL SA FICHIÚ hAOIS

(24 marc)

Féach ar an eolas agus ar na pictiúir thíos agus freagair na ceisteanna a leanann iad.

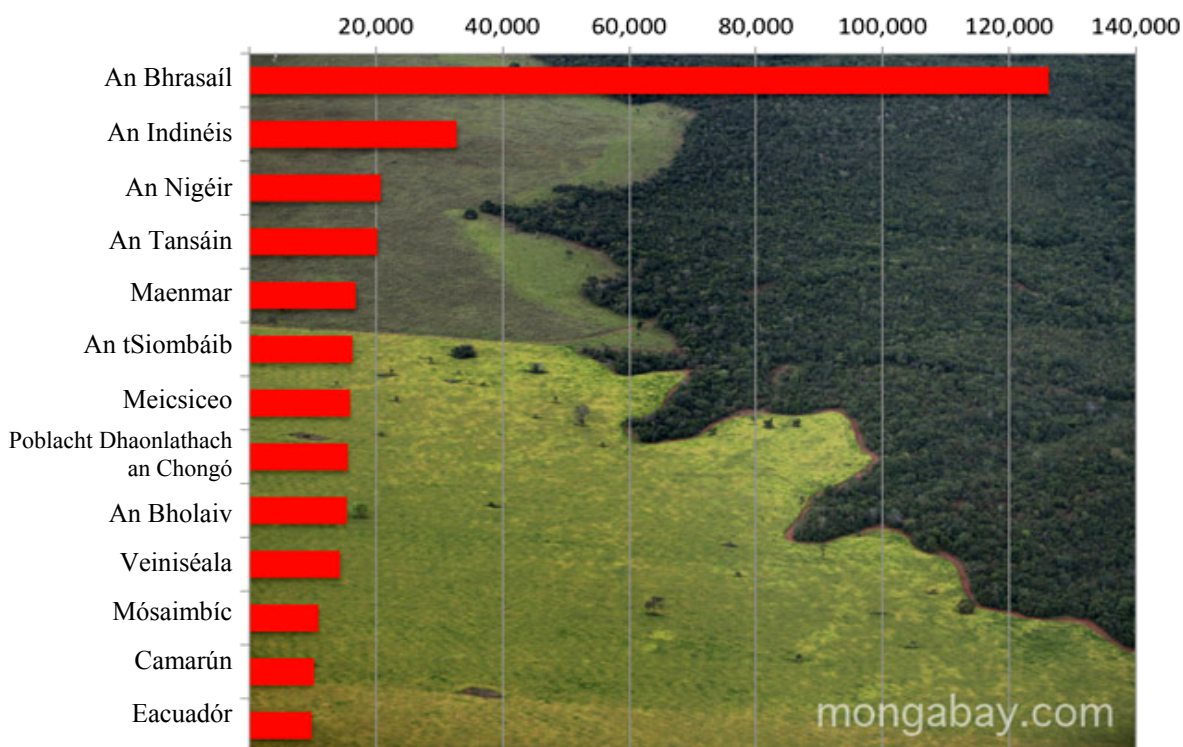
Tá mórán foraoisí báistí sa domhan, a bhformhór i dtíortha bochta.

Is daoine atá mar phríomhchúis le scrios foraoisí báistí.

Táimid ag leagan foraoisí báistí ar mhórán cúiseanna, lena n-áirítear:

- ▲ adhmaid d'earraí adhmaid agus chun tinte a dhéanamh;
- ▲ talmhaíocht d'fheirmeacha, idir bheag agus mhór;
- ▲ talamh d'fheirmeoirí bochta nach bhfuil aon áit chónaithe eile acu;
- ▲ talamh féaraigh d'eallach;
- ▲ laíon chun páipéar a dhéanamh;
- ▲ tógáil bóithre; agus
- ▲ baint mhianraí agus fuinnimh.

An chailliúint ab airde d'fhoraois bháistí idir 2005 agus 2010
(ciliméadair chearnach)



I aispeanann an graf seo an méid d'fhoraois bháistí atá á cailleadh i dtíortha éagsúla.

Réimsí nuaghlanta d'fhoraois bháistí.



Fótagraif cóipcheart Rhett A. Butler, www.mongabay.com

1. Is daoine atá mar _____ le scrios foraoisí báistí. (2)
2. Cén **DÁ** thír a bhí freagrach as an dá réimse is mó d'fhoraois bháistí a cailleadh idir 2005 agus 2010?
_____ agus _____ (4)
3. Tabhair **TRÍ** chúis a bhfuil foraoisí báistí á leagan.

_____ (6)
4. Cén tionchar atá ag leagan fhoraois bháistí na hAmasóine ar na daoine a chónaíonn ansin?

_____ (2)
5. An bhfuil aon tionchair ag leagan fhoraois bháistí na hAmasóine **TAOBH AMUIGH** den Bhrasaíl? Mínigh do fhreagra.

_____ (4)
6. Scríobh a bhfuil ar eolas agat faoi **FAVELAS**, ceantair na mbochtán i gcathracha na Brasaíle ina gcónaíonn mórán de dhaoine bochta na Brasaíle.

Leideanna – sábháilteacht, soláthairtí uisce, leictreachas, oideachas, seirbhísí, coiriúlacht, pobal

_____ (6)


CEIST 3

24 marc



Freagair cuid (A), ansin freagair cuid (B) nó (C)

(A) AN RÉABHLÓID THIONSCLAÍOCH


(12 mharc)



Páistí mar oibríthe sa Réabhlóid Thionsclaíoch



Dálaí maireachtála i gcathracha le linn na Réabhlóide Tionsclaíche



Na feabhsúcháin san iompar le linn na Réabhlóide Tionsclaíche

FREAGAIR CUID (B) NÓ CUID (C)

(B) AN CHÉAD CHOGADH DOMHANDA

(12 mharc)

Taispeánann an grianghraf seo trinse Briotanach le linn Chath an Somme i mí Iúil 1916. Féach air agus freagair na ceisteanna thíos.



Ó bhailiúchán an Imperial War Museum – Lt. J. W. Brooke a thóg an fótagraf

1. Cad atá á dhéanamh ag an bhfear ar thaobh na láimhe deise ag an mbarr, dar leat?

(2)

2. Ainmnigh **DHÁ** arm nua a úsáideadh sa Chéad Chogadh Domhanda.

(4)

3. Scríobh faoi dhálaí maireachtála sna trinsí.

(6)

Is le caoinchead ó Tom Poederbach a úsáideadh an grianghraf



Le linn an Dara Cogadh Domhanda, chuaigh mórán de na Giúdaigh i bhfolach san Eoraip. Bhí Anne Frank ar dhuine de na daoine seo. Chuaigh sí i bhfolach lena teaghlach i dteach in Amstardam. Fad agus a bhí sí ina cónaí ansin, choinnigh sí dialann.

Go mí-ámharach, tháinig na Naitsithe ar Anne agus a teaghlach agus seoladh chuig campaí géibhinn iad.

Bhásaigh Anne de bharr galair i mí an Mhárta nó mí Aibreáin 1945, tamall gairid sular tháinig deireadh leis an gcogadh san Eoraip. Níl aon duine baileach cinnte den dáta a bhfuair sí bás.

1. Conas atá an oiread sin ar eolas againn faoi Anne Frank?

(3)

2. Tabhair sampla **AMHÁIN** de dhlí i gcoinne na nGiúdach a chur iallach ar mhórán de na Giúdaigh dul i bhfolach.

(3)

3. Scríobh faoi cheann **AMHÁIN** díobh seo a leanas:

- (a) Campaí Géibhinn (b) Aslonnú (c) An Fhrithbheartaíocht (d) Blitzkrieg

(6)

CEIST 4

24 marc

Freagair an DÁ chuid – (A) agus (B).

AN DOMHAN FORBARTHA AGUS AN DOMHAN I mBÉAL FORBARTHA FREAGAIR (A) AGUS (B)

(A) DIFRÍOCHTAÍ IN ÉIRINN

(12 mharc)

Féach ar na fótagraif agus freagair na ceistanna a leanann iad:



*Fótagraf a tógadh in aice le Dúlainn, Co. an Chláir
Cóipcheart C. Michael Hogan*



*Fótagraf a tógadh i mBaile Phib, Baile Átha Cliath
Cóipcheart Eric Jones*

1. Tabhair **DHÁ** dhifríocht idir na ceantair a thaispeántar sna fótagraif

1. _____
2. _____ (2)

2. Tabhair **DHÁ** bhealach ina bhféadfadh daoine slí mhaireachtála a bhaint amach i gCo. an Chláir.

1. _____
2. _____ (2)

3. Tabhair **DHÁ** bhealach ina bhféadfadh daoine slí mhaireachtála a bhaint amach i mBaile Átha Cliath.

1. _____
2. _____ (2)

4. Mínigh an fáth a mbeadh Co an Chláir sláintiúil mar áit chónaithe.

1. _____
2. _____ (2)

5. Tabhair **DHÁ** chúis a d'fhéadfadh a bheith ag daoine óga le bogadh ó Cho. an Chláir go Baile Átha Cliath.

1. _____
2. _____ (2)



6. Tabhair **DHÁ** chúis a d'fhéadfadh a bheith ag daoine óga le bogadh ó Bhaile Átha Cliath go Co. an Chláir.

1. _____
2. _____ (2)

(B) IMIRCE – TOSCA BRÚ/TARRAINGTHE

(12 mharc)

Féach ar na pictiúir, léigh an t-eolas agus freagair na ceisteanna ar fad atá thíos.



Bogann daoine ón áit ina gcónaíonn siad chuig áit eile ar roinnt cúiseanna.

Cuireann cúiseanna áirithe **BRÚ** ar dhaoine a seanáiteanna cónaithe a fhágáil, is **TARRAINGT** atá i gcúiseanna eile chun cónaí in áit nua.

1. Féach ar an liosta thíos agus scríobh síos pé acu tosa **BRÚ** nó **TARRAINGTHE** iad d'imircigh. Tá dhá cheann déanta duit.

Cogadh sa bhaile	<u>BRÚ</u>	Teip ar bharráí	_____
Pá níos fearr sa tír nua	_____	Gan aon jabanna sa seantír	_____
Scoileanna maithe	<u>TARRAINGT</u>	Cúram sláinte níos fearr	_____
Crith talún	_____	Tuile	_____
Seans maith ar jab a fháil	_____	Gorta	_____

(8)

2. Nuair a thagann na himircigh chuig a dtír nua, bíonn fadhbanna acu, uaireanta. Tabhair **DHÁ** shampla de na fadhbanna a d'fhéadfadh a bheith acu.

(4)

CEIST 5

24 marc

Bí cinnte go bhfuil léarscáil agus fótagraf agat sula bhfreagraíonn tú an cheist seo.

Scrúdaigh an léarscáil 1 : 50,000 de chuid na Suirbhéireachta Ordanáis agus an t-aerfótagraf a thagann leis an bpáipéar seo. Ansin freagair na ceisteanna thíos.

Taispeánann an léarscáil agus an fótagraf Daingean Uí Chúis agus an ceantar ina thimpeall.

1. Ainmnigh **DHÁ** loch a thaispeántar ar an léarscáil.

_____ agus _____ (4)

2. Ó bheith ag féachaint ar an léarscáil, marcáil na ráitis seo **FÍOR** nó **BRÉAGACH** de réir mar is cuí.

a. Tá aerfort sa Daingean FÍOR BRÉAGACH

b. Tá stáisiún traenach sa Daingean FÍOR BRÉAGACH

c. Tá oifig turasóireachta sa Daingean FÍOR BRÉAGACH

d. Tá oifig an phoist sa Daingean FÍOR BRÉAGACH (4)

3. Ag úsáid na léarscáile, tabhair ainmneacha **DHÁ** abhainn sa cheantar.

_____ agus _____ (4)

4. Ag féachaint ar an bhfótagraf, cén fhianaise atá ann go n-úsáideann mórán daoine an Daingean mar bhunáit i gcomhair iascaireachta?

_____ (4)

5. Cad a bheadh le fáil agat ag Q 462 001?

_____ (4)

6. Tá turasóir a bhfuil suim aige/aici i **spóirt** agus sa **stair** ar cuairt sa Daingean.

Ag úsáid na léarscáile agus an fhótagraif, cad iad na gníomhaíochtaí a d'fhéadfá a mholadh dóibh a dhéanamh sa cheantar?

_____ (4)