

Staidéar Gnó TS – Gnáthleibhéal Amháin
LEABHRÁN SCRÚDAITHE

Scrúduimhir an Iarrthóra



Coimisiún na Scrúduithe Stáit

SCRÚDÚ AN TEASTAIS SHÓISEARAIGH 2017

STAIÉAR GNÓ – GNÁTHLEIBHÉAL

DÉ MÁIRT 13 MEITHEAMH 2017 – MAIDIN 9.30-12.00

Freagair Roinn A (ag tosú ar Leathanach 2) agus Roinn B (ag tosú ar Leathanach 9)

Teastas
Sóisearach
Gnáthleibhéal

STAMPA AN
IONAID

Ceist	Marcanna an Scrúdaitheora	Marcanna an Scrúdaitheora Chomhairligh
Iomlán Roinn A		
Roinn B		
1		
2		
3		
4		
5		
6		
7		
8		
Iomlán		
Bónas don Ghaeilge		
Móriomlán		
Grád		

Is ceadmhach áireamháin a úsáid.

Déanamh agus Múnla an Áireamháin a Úsáideadh:



1. Suim na n-iomlán bun leathanaigh	
2. Móriomlán na gceisteanna/ceiste a dícheadaíodh	
3. An marc iomlán a bronnadh (1 lúide 2)	
4. Bónas don fhreagairt trí mheán na Gaeilge	
5. An marc iomlán a bronnadh má tá Bónas don fhreagairt trí Ghaeilge san áireamh (3 + 4)	
Nóta: Caithfidh an marc ar líne 3 (nó líne 5 má bhronntar Bónas don Ghaeilge) a bheith mar an gcéanna leis an marc sa bhosca Móriomlán.	

ROINN A

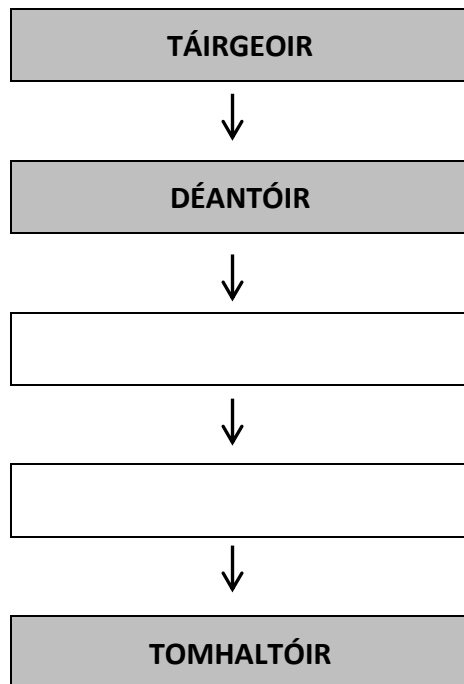
(100 marc)

Freagair an 20 ceist ar fad. Tá 5 mharc ag gabháil le gach ceist.

1. Cad dó a seasann na litreacha seo a leanas? (Scríobh **gach** freagra go hiomlán sa spás atá ar fáil dó.)

ÍMAT	
AE	

2. Líon isteach an **dá** spás atá folamh sa Slabhra Dáileacháin seo a leanas:



3. Luaigh **trí** chineál institiúidí airgeadais ar féidir le daoine an t-airgead atá coigilte acu a chur iontu:

- (i) _____
- (ii) _____
- (iii) _____

4. Tabhair sampla **amháin** de **gach ceann** de na cineálacha táirgeachta seo a leanas:


Cineál Táirgeachta	Sampla
Príomhúil	
Seirbhísí	

5. Tá cinneadh déanta ag Faisin Uí Cheallaigh Teo athrú ó fhógraíocht sna páipéir nuachta go dtí fógraíocht ar an idirlíon. Luaigh **dhá** bhuntáiste a bhaineann leis an athrú seo.

1.

2.

6. Is féidir Málaí Tae de Barra a cheannach i dtrí bhoscámhéid, 80 mála, 160 mála agus 600 mála.

	80 Mála	160 Mála	600 Mála
	€4.00 an bosca	€6.40 an bosca	€27.00 an bosca

Ríomh cén bhoscámhéid acu a thugann an luach is fearr ar airgead. Taispeáin do chuid oibre.

Freagra	
Boscámhéid:	Mála

Obair:

7. Taistealaíonn bean díolachán ón gCabán go Gaillimh agus as sin go Baile Átha Cliath, mar a bhfanann sí thar oíche. Ón Tábla Faid thíos, ríomh cé mhéad ciliméadar a thaistealaíonn sí an lá sin.

TÁBLA FAID (Km)

Ceatharlach




172	An Cabhán					
188	300	Corcaigh				
296	110	400	Dún na nGall			
84	112	260	222	Baile Átha Cliath		
172	82	325	158	85	Dún Dealgan	
178	200	142	260	232	256	Inis
188	167	198	205	210	238	70 Gaillimh

Freagra:	Km
Obair:	

8. Cuir tic (✓) i ndiaidh **gach** ráitis le taispeáint cé acu an FÍOR nó BRÉAGACH é:

	FÍOR	BRÉAGACH
Tá Brabús Glan comhionann le Brabús Comhlán móide Speansais.		
Tá Brabús Glan comhionann le Díolacháin lúide Speansais.		
Tá Brabús Glan comhionann le Brabús Comhlán lúide Speansais.		

9. Sna spásanna thíos, ainmnigh **gach ceann** de na comhpháirteanna ríomhaire uimhrithe 1, 2, 3.

		
1.	2.	3.

10. I **ngach** spás thíos, scríobh an focal ceart as an liosta seo a leanas:

CÚLÚ CEANNACHÁIN PRAGHSANNA IONCAM FÁS

(I measc na bhfocal thuas tá **trí** cinn nach gcomhlánaíonn aon cheann de na habairtí thíos.)

- (i) Is é is ciall le boilsciú ná ardú ar _____ ó bhliain go céile.
- (ii) Is é is ciall le _____ eacnamaíochta ná méadú ar líon na n-earraí agus na seirbhísí a thairgtear i dtír ó bhliain go céile.

11. Líon isteach an **dá** Thoisic Tháirgeachta atá in easnamh sna spásanna thíos:

TALAMH			FIONTRAÍOCHT
---------------	--	--	---------------------

12. Ón mbuiséad Rialtais seo a leanas don bhliain 2018, ríomh an difríocht idir Ioncam Iomlán agus Caiteachas Iomlán. Luaigh cé acu **buiséad barrachais** nó **buiséad easnaimh** é.

Buiséad Rialtais 2018	
	€ (milliúin)
Ioncam Iomlán	175,850
Caiteachas Iomlán	186,340

13. An gceadaítear do shiopaí na fógraí seo a leanas a thaispeáint de réir dhlí tomhaltais na hÉireann?

Cuir tic (✓) faoi 'ceadaítear' nó 'ní cheadaítear' i ngach cás.

Airgead Tirim Amháin	
Ceadáítear	Ní cheadaítear

Ní dhéantar aisíocaíochtaí	
Ceadáítear	Ní cheadaítear

14. Tógadh na figiúirí seo ó leabhair ag Ó Dufaigh Teo:

Cúlchistí €18,500
Áitreabh €640,000

Airgead sa Bhanc €11,250
Scairchaipiteal Eisithe €300,000

Iontráil agus suimigh an rannán 'Maoinithe ag' sa sliocht seo a leanas, as an gClár Comhardaithe ag Ó Dufaigh Teo mar a bhí ar an 31 Nollaig 2016:

Sliocht as Clár Comhardaithe ag Ó Dufaigh Teo. mar a bhí ar 31-12-2016	
Maoinithe ag:	€
IOMLÁN AN CHAIPITIL IN ÚSÁID	

15. Tá feirmeoir ag iarraidh iasacht de €45,000 a fháil chun inneall nua a cheannach.

(i) Sainaithe an fhoinsé airgeadais is oiriúnaí as an liosta seo a leanas.
Cuir tic (✓) faoin bhfoinsé cheart.

MORGÁISTE	IASACHT TÉARMA	FRUILCHEANNACH

(ii) Luaigh cúis **amháin** le do fhreagra.

16. Tá liosta de théarmaí a bhaineann le caidreamh tionsclaíoch i **gColún 1**. I **gColún 2** tá liosta míniúcháin féideartha ar na téarmaí sin. (*Míniúchán amháin acu, ní bhaineann sé le téarma ar bith díobh.*)

Colún 1 – Téarmaí	Colún 2 – Míniúcháin
1. Obair de réir rialach	A. Ionadaí a thoghtar ag fostaithe i gceardchumann
2. Stíobhard Ceardlainne	B. Glacann fostaithe seilbh ar an áitreabh ina n-oibríonn siad
3. Stailc	C. Ní chomhlíonann fostaithe ach a ndualgais riachtanacha
	D. Éiríonn fostaithe a gcuid saothair mar gheall ar aighneas

Meitseáil an dá liosta agus cuir litir an mhíniúcháin atá ceart faoin uimhir chuí thíos:

1.	2.	3.

17. Freagair (A) nó (B).

(A) Comhardaigh an Cuntas Airgid seo thíos agus tabhair anuas an t-iarmhéid ag deireadh na míosa:

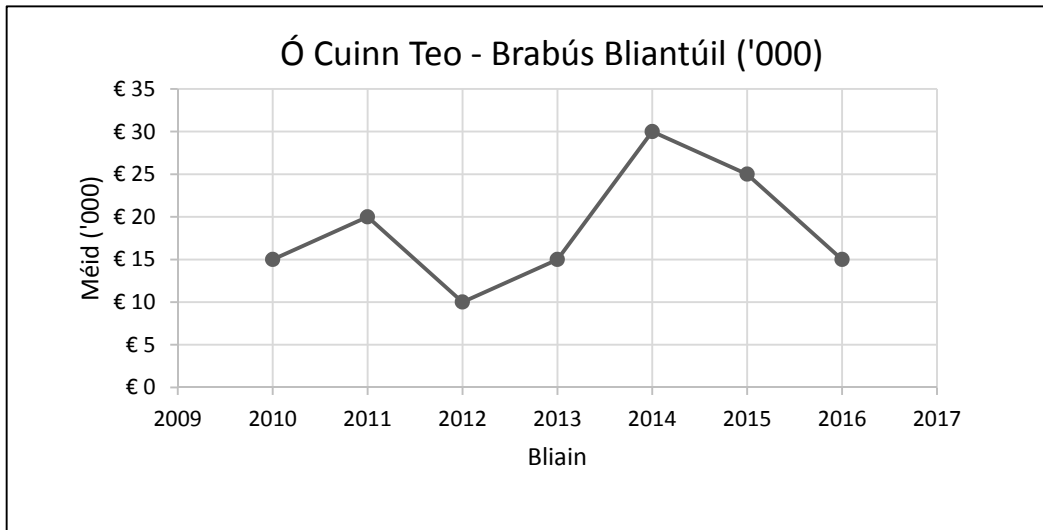
Cuntas Airgid							
Dr				Sr			
Dáta	Sonraí	F	Iomlán	Dáta	Sonraí	F	Iomlán
2017			€	2017			€
Beal. 1	Iarmhéid	t/a	490	Beal. 9	Pá	MLG ₇	295
16	Díolacháin	MLG ₂	870	23	Ceannacháin	MLG ₃	485

NÓ

(B) Comhardaigh an Cuntas Airgid seo agus líon isteach na trí líne dheiridh den cholún 'Iarmhéid'.

Cuntas Airgid					
Dáta	Sonraí	F	Dr	Sr	Iarmhéid
2017			€	€	€
Beal 1	Iarmhéid	t/a			490
9	Pá	MLG ₇		295	
16	Díolacháin	MLG ₂	870		
23	Ceannacháin	MLG ₃		485	

18. Taispeánann an líneghraf thíos an brabús bliantúil ag Ó Cuinn Teo thar sheacht mbliana:



Bain úsáid as an ngraf thuas agus freagair **gach ceann** de na ceistanna seo a leanas:

	Ceistanna	Freagraí
(i)	Sainaithin bliain an bhrabúis ba mhó.	
(ii)	Sainaithin bliain an bhrabúis ba lú.	
(iii)	Cén brabús a bhí ag an gcuideachta sa bhliain 2015?	€

19. Cuir sloinnte na gcustaiméirí seo a leanas in ord aibítre:

LIAM Ó FATHARTA MÍCHAEL Ó FAOGHAILL SÉAMUS Ó FATHAIGH SEÁN Ó FAOLÁIN

(i)	
(ii)	
(iii)	
(iv)	

20. Cheannaigh Proinséas Ní Laoi earraí grósaera ar **€70.86** sa siopa áitiúil. Thug sí **ceithre nóta €20** don chúntóir siopa agus fuair sí a sóinseáil. D'úsáid an cúntóir siopa an líon ba lú nótaí agus bonn ab fhéidir nuair a bhí sí ag comhaireamh shóinseáil Phroinséas.

Comhlánaigh an anailís nótaí/bonn agus taispeáin cé mhéad sóinseála a tugadh do Phroinséas agus cé mhéad nótaí agus bonn de gach sórt a tugadh di.

ANAILÍS NÓTAÍ/BONN												
SÓINSEÁIL	€50	€20	€10	€5	€2	€1	50c	20c	10c	5c	2c	1c
€												

Don scrúdaitheoir amháin:	lomlán na marcanna ar Roinn A		lomlán carnach t/aa:	
---------------------------	-------------------------------	--	----------------------	--

Nóta:

Ar na leathanaigh seo a leanas, tá spás ar fáil do fhreagraí ar gach ceist i Roinn B.

Freagair **cúig** cheist ar bith.

Léigh na ceisteanna i Roinn B go cúramach sula bhfreagraíonn tú iad.

Is ceadmhach an spás seo a úsáid le haghaidh obair gharbh, más gá.

Le húsáid le ROINN B – Ceist 1

(A)

TEAGHLACH UÍ FHATHAIGH	IÚIL	LÚNASA	M. FOMH.	D. FOMH.	IOMLÁN
IONCAM PLEANÁILTE	€	€	€	€	€
Máire Uí Fhathaigh - tuarascal					
Seán Ó Fathaigh - tuarascal					
Sochar leanaí					
A. IONCAM IOMLÁN					
CAITEACHAS PLEANÁILTE					
<i>Seasta</i>					
Cíos Tí					
Árachas Tí					
Árachas Sláinte					
Fo-iomlán					
<i>Neamhrialta</i>					
Costais teaghlaigh					
Costais ghluaisteáin					
Solas agus Teas					
Costais oideachais					
Costais teileafóin					
Fo-iomlán					
<i>Roghnach</i>					
Costais siamsaíochta					
Coigilteas saoire					
Fo-iomlán					
B. CAITEACHAS IOMLÁN					
Airgead Glan (A – B)					
Airgead tosaigh					
Airgead deiridh					

(B)	Ar bhonn an bhuiséid chomhlánaithe do cheithre mhí, an bhfuil sé d'acmhainn ag an teaghlach aisíocaíochtaí morgáiste de €1,700 in aghaidh na míosa a dhéanamh?	TÁ	NÍL
	Mínigh do fhreagra:		
(C)	Tá teaghlach Uí Fhathaigh ag coigilt do shaoire i mí an Mheithimh 2018. Ríomh cé mhéad a bheidh coigilte ag an teaghlach faoi 31 Nollaig 2017. Taispeáin do fhreagra agus do chuid oibre.	Obair:	
		Freagra: €	

Don scrúdaitheoir amháin:	Iomlán t/a:	Iomlán ar Cheist 1:	Iomlán carnach t/aa:
---------------------------	-------------	---------------------	----------------------

Le húsáid le ROINN B – Ceist 2

(A) (i)

Cuntas Trádála, Leithghabhála Brabúis agus Cailteanais de chuid Fuinseoig Teo don bhliain dar críoch 31 Nollaig 2016.				
		€	€	€

Tá spás don Chlár Comhardaithe ar an gcéad leathanach eile

Obair:

Le húsáid le ROINN B – Ceist 2 (ar leanúint)

(A) (ii)

Clár Comhardaithe de chuid Fuinseog Teo mar a bhí ar				
		€	€	€

(B)	(i)	Mínigh an téarma 'Rótharraingt Bhainc' sa Chomhardú Trialach.	Don oifig amháin	

	(ii)	Ríomh Ráta na Díbhinne Íoctha mar chéatadán den Scairchaipiteal Eisithe. Bain úsáid as an bhfoirmle seo thíos. Taispeáin do fhreagra agus do chuid oibre.		
--	-------------	---	--	--

$$\frac{\text{Díbhinn Íoctha}}{\text{Scairchaipiteal Eisithe}} \times \frac{100}{1}$$

	Freagra:	%		Obair:			
--	-----------------	---	--	---------------	--	--	--

Don scrúdaitheoir amháin:	Iomlán t/a:		Iomlán do Cheist 2:		Iomlán carnach t/aa:	
---------------------------	-------------	--	---------------------	--	----------------------	--

Le húsáid le ROINN B – Ceist 3

(A)	Scríobh an litir a chuir Máire Ní Cheallaigh chuig Tomás agus Síle Ó hÓgáin ar 13 Meitheamh 2017.	Don oifig amháin

Le húsáid le ROINN B – Ceist 3 (ar leanúint)

			Don oifig amháin

(B)	Sna spásanna thíos, ainmnigh an dá cheann de na cúig dhoiciméad seo a leanas a bhíonn ag teastáil nuair a bhíonn Cuideachta Phríobháideach Theoranta á bunú:		
	RÁITEAS CUNTAIS MEABHRÁN COMHLACHAIS AIRTEAGAIL CHOMHLACHAIS LUACHAN FOIRM THOGRA		
	1.		
	2.		

(C)	Nuair a bhunóidh siad cuideachta, tá sé i gceist ag Tomás agus Síle veain a cheannach a chosnóidh €24,000, mar aon le sraith dréimír a chosnóidh €1,750, folúsghlantóir tionsclaíoch a chosnóidh €2,850 agus píobán cumhachta a chosnóidh €1,400. Tá €10,000 coigilte acu i gcuntas bainc faiona gcoinne sin.				
	(i)	Cé mhéad a chaithfidh siad a fháil ar iasacht chun iad a cheannach? Taispeáin do fhreagra agus do chuid oibre.			
		Freagra: €	Obair:		
	(ii)	Má thugann an banc iasacht dóibh ar ráta 8% in aghaidh na bliana, ríomh cé mhéad úis a bheidh le hóc acu sa chéad bhliain den iasacht. Taispeáin do fhreagra agus do chuid oibre.			
	Freagra: €	Obair:			

Don scrúdaitheoir amháin:	Iomlán t/a:	Iomlán do Cheist 3:	Iomlán carnach t/aa:
---------------------------	-------------	---------------------	----------------------

Le húsáid le ROINN B – Ceist 4

(A)	Baineann na téarmaí seo a leanas le pá: Asbhaintí Reachtúla Tascráta Coimisiún Sochar Comhchineáil Amráta	Don oifig amháin	
	Mínigh trí cinn de na téarmaí thuas.		
	1.		
	2.		
	3.		

(B)	<i>Taispeáin do fhreagra agus do chuid oibre i ngach cás.</i>	Freagra	Obair		
(i)	Ón duillín pá, ríomh an bunphá in aghaidh na huaire atá ag Mona Bhreathnach.	€			
(ii)	Ríomh cé mhéad a thuilleann sí as uair amháin ragoibre.	€			
(iii)	Ríomh an líon uaireanta an chloig ragoibre a d'oibrigh sí i Seachtain 20.				

Le húsáid le ROINN B – Ceist 4 (ar leanúint)

(C) An tseachtain dár gcionn d’oibrigh Móna ar feadh 42 uair an chloig. Rinneadh €94.86 a asbhaint mar ÍMAT agus 7% dá hollphá a asbhaint mar ÁSPC. Ní raibh aon athrú ar a bunphá ná ar an asbhaint don Scéim Rothaíocht chun na hOibre.
Bain úsáid as an eolas seo agus comhlánaigh a duillín pá do Sheachtain 21.

Fostaí Uimhir 15	Mona Bhreatnach		Seachtain 21	Data:	
PÁ:	€	ASBHAINTÍ:		€	Saol an Fhaisin Teo
BUNPHÁ		ÍMAT			
RAGOB AIR		ÁSPC			
		SCÉIM ROTHÁÍOCHTA			
OLLPHÁ		ASBHAINTÍ IOMLÁNA			GLANPHÁ
					€

(D)	Mínigh dhá cheart atá ag Móna agus dhá fhreagracht atá uirthi mar fhostaí i Saol an Fhaisin Teo.	Don oifig amháin	
	Ceartha:		
	1.		
	2.		
	Freagrachtaí:		
	1.		
	2.		

Don scrúdaitheoir amháin:	lomlán t/a:		lomlán do Cheist 4:		lomlán carnach t/aa:	
---------------------------	-------------	--	---------------------	--	----------------------	--

Le húsáid le ROINN B – Ceist 5

(A) (i) Comhlánaigh an Sonrasc:


Earraí Tí Teo		Sonrasc Uimh. 420		
Eastát an Radhairc Bhreá, Mala, Co. Chorcaí				
Teileafón: 021-4831758				Cláruimhir CBL IE6239745
ríomhphost: earraítí@gmail.com				
Dáta: _____ Uimhir d’ Ordaithe: _____				
CAINNÍOCHT	TUAIRISC	UIMH. MHÚNLA	PRAGHAS AN CEANN €	IOMLÁN €
Carraeireacht íoctha E & E E	Iomlán (Gan CBL san áireamh) Lascaine Thrádála Fo-iomlán CBL Iomlán (CBL san áireamh)			

Obair (más gá):

Le húsáid le ROINN B – Ceist 5 (ar leanúint)

(A)	(ii) Luaigh cúis amháin gur doiciméad tábhachtach é sonrasc.
	Freagra:

(B) Comhlánaigh an seic agus an comhdhuille:

Dáta		Banc AIB		93-26-52
Chuig		Bóthar na Mainistreach, An tAonach, Co. Thiobraid Árann	Dáta	
Iarmhéid	€ 35,500.00	Íoc	Nó ordú	
An seic seo	€		€	
Iarmhéid Nua	€		CISTINEACHA Teo	
				
	74235	74235	932652	38767592

(C) Iontráil an íocaíocht seic i gcuntas bainc Cistineacha Teo:

Cistineacha Teo – Cuntas Bainc							
Dr	2017	Sonraí	F	€	2017	Sonraí	Sr

NÓ

Cistineacha Teo – Cuntas Bainc					
Dáta	Sonraí	F	Dr	Sr	Iarmhéid
2017			€	€	€

Don scrúdaitheoir amháin:	Iomlán t/a:		Iomlán do Cheist 5:		Iomlán carnach t/aa:
---------------------------	-------------	--	---------------------	--	----------------------

Le húsáid le ROINN B – Ceist 6 (ar leanúint)

(B)	Ríomh an barrachas nó easnamh a rinne an club tar éis an crannchur a eagrú i mí na Bealtaine. Taispeáin do fhreagra agus do chuid oibre.		Don oifig amháin	
	Freagra: €	Obair:		

(C)	(i)	Mínigh an téarma ‘urraíocht’.			
		(ii)	Luaigh cúis amháin a d’fhéadfadh bheith ag Amasán Teo le hurraíocht a dhéanamh ar Chlub Imir Galf Dhá Mhaide.		

Don scrúdaitheoir amháin:	Iomlán t/a:		Iomlán do Cheist 6:		Iomlán carnach t/aa:	
---------------------------	-------------	--	---------------------	--	----------------------	--

Le húsáid le ROINN B – Ceist 7 (ar leanúint)

(B)	(i)	Luaigh dhá chúis a mbíonn Éire ag trádáil le tíortha eile.	Don oifig amháin	
		1.		
		2.		
	(ii)	Ainmnigh dhá chineál earraí, seachas táirgí bia, a easpórtáiltear as Éirinn.		
		1.		
		2.		
	(iii)	Mínigh dhá dheacracht a d'fhéadfadh a bheith ag Agratháirgí Teo más mian leis glasraí pacáilte a easpórtáil go dtí an tSeapáin.		
		1.		
	2.			

(C)	Is bainisteoir díolachán in Agratháirgí Teo é Seán Ó Cionnaith. Faigheann sé dréacht bainc de £1,790.46 (steirling) ó chustaiméir i Leeds. Más é €1 = £0.87 an Ráta Malairte, ríomh an méid euro a gheobhaidh sé nuair a bhrisfidh sé an dréacht bainc ina bhanc áitiúil. Taispeáin do fhreagra agus do chuid oibre.			
	Freagra: €	Obair:		

Don scrúdaitheoir amháin:	lomlán t/a:		lomlán do Cheist 7:		lomlán carnach t/aa:	
---------------------------	-------------	--	---------------------	--	----------------------	--

Le húsáid le ROINN B – Ceist 8

(A) Comhlánaigh foirm thogra Phroinsias le haghaidh mótarárachais:

FOIRM THOGRA			
ÁRACHAS NA SCÉITHE TEO FOIRM THOGRA FAOI CHOINNE MÓTARÁRACHAIS			
Sloinne		Ainm	
Seoladh			
Teileafón			
Dáta breithe			
Gairm bheatha			
SONRAÍ FEITHICLE			
Cineál feithicle		Luach reatha	
Déanamh agus Múnla		Cláruimhir	
SONRAÍ ÁRACHAIS			
Cineál árachais atá de dhíth	ÁRACHAS TRIÚ PÁIRTÍ AMHÁIN		(Cuir tic (✓) sa bhosca ceart.)
	ÁRACHAS TRIÚ PÁIRTÍ, DÓITEÁIN AGUS GADAÍOCHTA		
	ÁRACHAS CUIMSITHEACH		
Cineál ceadúnais tiomána	CEADÚNAS SEALADACH		(Cuir tic (✓) sa bhosca ceart.)
	LÁNCHEADÚNAS		
Árachas de dhíth ó (dáta)			
Cuideachta árachais roimhe seo			
Líon blianta ag tiomáint			
Sonraí an éilimh is déanaí (más ann dó)	Bliain		Méid éilithe
Cúis an Éilimh			
Pointí Pionóis (más ann dóibh)	Uimhir		Cúis
SÍNIÚ:			DÁTA

Le húsáid le ROINN B – Ceist 8 (ar leanúint)

(B)	(i)	Bain úsáid as an eolas sa luachan árachais agus ríomh an costas iomlán glan ar árachas do theach Phroinsias Uí Mhaonaigh agus dá inneachar. Taispeáin do fhreagra agus do chuid oibre.	Don oifig amháin
		Obair:	
		Freagra: €	
	(ii)	Luaigh teideal an duine sa chuideachta árachais a ríomhann an phréimh.	
	Freagra:		
(iii)	Ghlac Proinsias leis an luachan agus d'íoc sé an méid iomlán ar líne le hÁrachas Sócmhainní Teo lena chárta dochair Visa. Chuir Árachas Sócmhainní Teo Admháil (Uimh. 612), sínithe ag Michelle de Faoite, chuig Phroinsias ar 8 Meitheamh 2017. Comhlánaigh an Admháil:		

Admháil Uimh. 612	
Árachas Sócmhainní Teo	
An tSráid Mhór, Cill Chainnigh	Teileafón : 056 672986
Dáta:	
Fuarthas ó:	
An tSuim:	€
Modh íocaíochta:	
Le buíochas	Sínithe: (Airgeadóir)

(C)	I ngach spás bán thíos, breac an téarma ceart as an liosta seo a leanas do gach ceann de na míniúcháin thíos:		
	CÚITEAMH POLASAÍ MEASÚNÓIR RIOSCA SLÁNAÍOCHT		
	<i>(Tá téarma amháin thuas nach mbaineann le míniúchán ar bith thíos)</i>		
	MÍNIÚCHÁN	TÉARMA	
	(i)	Tá sonraí chonradh an árachais scríofa ann.	
	(ii)	Dóchúlacht chaillteanais.	
(iii)	Ní ceadmhach brabús a dhéanamh as árachas.		
(iv)	An t-airgead a íoctar nuair a dhéantar éileamh.		

Don scrúdaitheoir amháin:	iomlán t/a:	iomlán do Cheist 8:	iomlán carnach
---------------------------	-------------	---------------------	----------------

Leathanach Bán