

RABHADH

Ní mór duit an páipéar seo a thabhairt ar ais le do fhreagarleabhar, nó caillfear marcanna.

Scrúduimhir an Iarrthóra

**Coimisiún na Scrúduithe Stáit**

SCRÚDÚ AN TEASTAIS SHÓISEARAIGH, 2008

STAIÉAR GNÓ – GNÁTHLEIBHÉAL

DÉ MÁIRT, 10 MEITHEAMH 2008 – MAIDIN, 9.30 a.m. – 12.00 p.m.

ROINN A**(100 marc)**

Freagair an 20 ceist. Tá 5 mharc ag gabháil le gach ceist.

Is ceadmhach áireamhain a úsáid.
Déanamh agus Sórt an Áireamhain a Úsáideadh:



1. Cad dó a seasann na litreacha seo a leanas? (*Scríobh gach freagra go hiomlán sa spás atá ar fáil dó.*)

ÁSPC	
CGB	

2. Cuir ainmneacha na gcustaiméirí seo a leanas in ord aibítire:

MÁIRE NÍ DHONNABHÁIN
MÉABH NÍ DHÚBHDA

MÁIRE NÍ DHOCHARTAIGH
MÁIRE NÍ DHONNCHÚ

(i)	
(ii)	
(iii)	
(iv)	

3. Líon isteach an dá Phríomhghné Mhargaíochta atá in easnamh sna spásanna thíos:

		CUR CHUN CINN	ÁIT
--	--	---------------	-----

4. Ainmnigh an t-airgeadra atá ina dhlíthairiscint i ngach tír thíos faoi seach:

Tír	Airgeadra
AN FHRAINIC	
AN tSEAPÁIN	
STÁIT AONTAITHE MHEIRICEÁ (SAM)	

5. Déan cur síos ar **dhá** úsáid a bhainfí as ríomhaire i réachtáil scoile:

(i)

(ii)

6. Cé acu **ceann** díobh seo a leanas atá ina **Allmhaire Shofheicthe** go hÉirinn?

Turasóirí Francacha ag teacht go hÉirinn ar saoire iascaigh.

Mórdhíoltóirí Éireannacha ag ceannach i-fóin ó dhíoltóirí i Stáit Aontaithe Mheiriceá.

Lucht tacaíochta na hÉireann ag dul go dtí na Cluichí Oilimpeacha sa tSín.

(Cuir tic (✓) sa bhosca cúí.)

7. Is ó leabhair Farley Tta don bhliain dar chríoch 31 Nollaig 2007 a tógadh na figiúirí seo a leanas:

Airgead sa Bhanc €15,250 Áitreabh €70,000 Innealra €25,800 Ceannacháin €63,950

Sa sliocht seo a leanas as Clár Comhardaithe Farley Tta ar an dáta sin, iontráil agus suimigh na Sócmhainní Seasta:

Sliocht as Clár Comhardaithe Farley Tta mar a bhí ar an 31-12-07	
SÓCMHAINNÍ SEASTA	€
SÓCMHAINNÍ SEASTA IOMLÁNA	

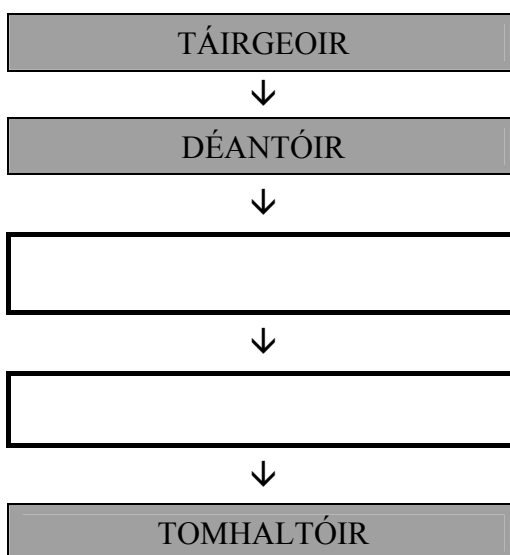
8. I ngach spás thíos scríobh ainm an doiciméid is cuí ón liosta seo a leanas:

SONRASC LUACHAN ORDÚ RÁITEAS NÓTA SEACHADTA

(Tá dhá cheann de na doiciméid thuas nach mbaineann le míniú ar bith thíos.)

	DOICIMÉAD	MÍNIÚ
(i)		Tugann sé seo eolas roimh ré ar phraghas na n-earraí agus ar na téarmaí díolacháin.
(ii)		Seo achoimre ar bhearta míosa a chuireann díoltóir chuig custaiméir.
(iii)		Taispeánann sé seo cainníocht, sonraí, praghas agus costas iomlán na n-earraí a ceannaíodh.

9. Líon isteach an dá bhosca atá folamh sa Slabhra Dháileacháin seo a leanas:



10. Is liosta de théarmaí caidreamh tionsclaíoch atá i gColún 1. I gColún 2 tá liosta mínithe a d'fhéadfaí a dhéanamh, b'fhéidir, ar na téarmaí sin. (Tá míniú amháin nach mbaineann le téarma ar bith.)

Colún 1 – Téarmaí	Colún 2 – Mínithe
1. Stíobhard Ceardlainne	A. Tarraingíonn fostaithe atá in aighneas siar a gcuid saothair
2. Stailc	B. Fostaithe dífhostaithe de bharr easpa oibre
3. Iomarcaíocht	C. Diúltaíonn fostaithe ragobair ar bith a dhéanamh
	D. Ionadaí tofa na bhfostaithe i gCeardchumann

Meitseáil an dá liosta. Déan litir an mhínithe atá ceart a chur faoin uimhir chúí thíos:

1.	2.	3.

11. Cuir in iúl cé acu de na tíortha seo a leanas atá san Aontas Eorpach nó nach bhfuil. Cuir tic (✓) sa bhosca cuí, TÁ nó NÍL, i ngach cás:

	TÁ	NÍL
AN PHOLAINN		
AN AIRGINTÍN		
AN IODÁIL		

12. I ngach spás thíos scríobh an focal nó an téarma is cuí ón liosta seo a leanas:

RÍOMHAIRE GLÚINE CRUA-EARRAÍ MONATÓIR BOGEARRAÍ MÓIDEIM

(Tá dhá fhocal ar an liosta nach gcomhlánaíonn abairt ar bith thíos.)

- (i) Is é a thugtar ar chláir a stóráiltear ar ríomhaire ná _____.
- (ii) Is é an t-ainm coitianta a thugtar ar ríomhaire iniompartha ná _____.
- (iii) Ainm eile ar aonad amharcthispeána ná _____.
13. Comhlánaigh an admháil airgid seo a leanas. Ríomh (i) an t-iomlán dlite agus (ii) an méid sóinseála as €10.

STÓR BEAGCHOSTAIS Tta AN MUILEANN gCEARR	
	€
ARÁN	1.50
CÁIS	1.70
IRIS	1.49
SPAIGITÍ	1.29
(i) IOMLÁN DLITE	
AIRGEAD TIRIM	10.00
(ii) SÓINSEÁIL	

14. Comhlánaigh an abairt seo a leanas:

I gcúrsaí árachais, ciallaíonn **slánaíocht**

15. Tá gnólacht tacsáí ag ullmhú Ráiteas Oibriúcháin (Cuntas Ioncaim agus Caiteachais/Cuntas Brabúis agus Caillteanais) agus Clár Comhardaithe ag deireadh na bliana airgeadais. Cuir in iúl cé acu sa Ráiteas Oibriúcháin nó sa Chlár Comhardaithe ba cheart gach mír atá sa liosta thíos a bheith.

		RÁITEAS OIBRIÚCHÁIN	CLÁR COMHARDAITHE
(a)	Costais Teileafóin		
(b)	Rótharraingt Bhainc		
(c)	Costais pheitрил agus díosail		

Cuir tic (✓) sa spás cuí i ngach cás.

16. Freagair (A) nó (B):

- (A) Comhardaigh an Cuntas Airgid seo a leanas agus tabhair anuas an iarmhéid ag deireadh na míosa:

Dr		Cuntas Airgid						Sr
Dáta	Sonraí	F	Iomlán	Dáta	Sonraí	F	Iomlán	
2008			€	2008			€	
Aib 1	Iarmhéid	t/a	285	Aib 12	Ceannacháin	MLG1	195	
19	Díolacháin	MLG2	370	24	Teas	MLG7	220	

NÓ

- (B) Comhardaigh an Cuntas Airgid seo a leanas trí na trí línte deiridh den cholún 'Iarmhéid' a chomhlánú:

Cuntas Airgid						
Dáta	Sonraí	F	Dr	Sr	Iarmhéid	
2008			€	€	€	
Aib 1	Iarmhéid	t/a			285	
12	Ceannacháin	MLG1		195		
19	Díolacháin	MLG2	370			
24	Teas	MLG7		220		

17. Ón gCuntas Ioncaim agus Caiteachais seo a leanas ag club don bhliain dar chríoch 31 Nollaig 2007, ríomh an difríocht idir Ioncam Iomlán agus Caiteachas Iomlán. Cuir in iúl cé acu **iarmhéid barrachais** nó **iarmhéid easnaimh** é:

Cuntas Ioncaim agus Caiteachais don bhliain dar chríoch 31-12-07	
	€
Ioncam Iomlán	94,345
Caiteachas Iomlán	89,760

18. I ngach spás thíos scríobh an focal nó an téarma is cuí ón liosta seo a leanas:

AIRGEAD TIRIM IN-AISGHABHÁLA ÚINÉIR
 COMHTHAOBHACHT FIACH TRÁTHCHODANNA

(Tá dhá fhocal ar an liosta nach gcomhlánaíonn abairt ar bith thíos.)

(i) Is é is Fruilcheannach ann ná córas chun íoc as earraí ina _____ ach ní tú _____ na n-earraí tú go dtí go ndéantar an íocaíocht dheireanach.

(ii) Is é is Drochfhiach ann ná _____ nach bhfuil _____.

19. Fuair Seán Ó hCí a phá mar airgead tirim. D'úsáid a fhostóir an líon ba lú nótaí agus monaí ab fhéidir nuair a bhí an t-airgead á chur isteach i gclúdach pá Sheáin. Agus tú ag úsáid an Duillín Anailíse Nótaí/Monaí thíos, ríomh pá iomlán Sheáin:

ANAILÍS NÓTAÍ/MONAÍ												
€100	€50	€20	€10	€5	€2	€1	50c	20c	10c	5c	2c	1c
3		2							1		2	

Freagra:	
PÁ IOMLÁN	€

Obair:

20. Comhlánaigh an abairt seo a leanas:

Ceann de na doiciméid dlíthiúla a ullmhaítear agus _____ príobháideach teoranta á bhunú ná _____ Chomhlachais.

Don scrúdaitheoir amháin:	Iomlán na Marcanna ar Roinn A:	Iomlán carnach t/aa:
---------------------------	--------------------------------	----------------------

Le húsáid le ROINN B – Ceist 1

1. (A)

TEAGHLACH UÍ AODHA	IÚIL	LÚNASA	MEÁN FÓMH	DEIR FÓMH	IOMLÁN
IONCAM PLEANÁILTE	€	€	€	€	€
Séamas Ó hAodha – Tuarastal					
Cearúl Uí Aodha – Tuarastal					
Sochar Leanaí					
A. IONCAM IOMLÁN					
CAITEACHAS PLEANÁILTE					
<i>Seasta</i>					
Morgáiste tí					
Préimh árachais tí					
Préimh árachais sláinte					
Fo-iomlán					
<i>Neamhrialta</i>					
Costais teaghlaigh					
Costais iompair					
Costais oideachais					
Solas agus teas					
Costais teileafóin					
Fo-iomlán					
<i>Roghnach</i>					
Costais lá breithe					
Costais siamsaíochta					
Costais saoire					
Fo-iomlán					
B. CAITEACHAS IOMLÁN					
Airgead Tirim Glan (A – B)					
Airgead Tirim Tosaigh					
Airgead Tirim Deiridh					

1. (B)	Préimh Árachais:
1. (C)	Sampla amháin de chomhlacht a sholáthraíonn árachas sláinte in Éirinn:

Don scrúdaitheoir amháin:	Iomlán t/a:		Iomlán ar Cheist 1:		Iomlán carnach t/aa:	
---------------------------	-------------	--	---------------------	--	----------------------	--

Le húsáid le ROINN B – Ceist 3

(A)	Scríobh an litir a sheol Réamann Ó Drisceoil chuig Micheál Ó Broin ar an 1 Márta 2008.	Don Oifig Amháin	

Le húsáid le ROINN B – Ceist 3 (ar lean.)

		Don Oifig Amháin

(B)	Mínigh go hachomair cad is brí le híocaíocht le Cárta Creidmheasa nó le Laser.		

(C)	Ainmnigh dhá ghníomhaireacht a d'fhéadfadh cabhrú le Réamann dá mbeadh sé míshásta leis an bhfreagra ó MB Leictreach Tta. I ngach cás, scríobh abairt amháin ag míniú conas a d'fhéadfadh an ghníomhaireacht cabhrú leis.		
	(i)		
	(ii)		


Don scrúdaitheoir amháin:	Iomlán t/a:		Iomlán ar Cheist 3:		Iomlán carnach t/aa:	
---------------------------	-------------	--	---------------------	--	----------------------	--

Le húsáid le ROINN B – Ceist 4

(A)	Ríomh an méid ina euro a bheadh ar Mhicheál de Brún a sheoladh ionas go bhfaigheadh a mhac £300 Steirling.	Don Oifig Amháin
	Freagra: €	Obair:

(B)	Comhlánaigh an Fhoirm “Chun Airgead a Sheoladh”.		
-----	--	--	--

Chun Airgead a Sheoladh



Ceann Scríbe (cathair, tír): _____ Méid: _____

Méid i bhfocail: _____ €

Glacadóir

Céadainm: _____ Ainm Láir _____

Sloinne: _____

Seoladh _____

Uimhir Theileafóin: () _____

Seoltóir

Céadainm: _____ Ainm Láir _____

Sloinne: _____

Seoladh _____

Uimhir Theileafóin: () _____

An mbeidh Cárta Aitheantais bailí ag an nglacadóir? Beidh Ní bheidh

Mura mbeidh, soláthair Ceist Tástála – Teorainn 4 fhocal

Ceist Tástála: _____

Freagra: _____

Síniú an Chustaiméara: _____

Dáta: _____

Le húsáid le ROINN B – Ceist 4 (ar lean.)

(C)	(i) Ríomh an táille a bhí ar Mhicheál de Brún a íoc.	Don Oifig Amháin	
		Freagra: €	Obair:

	(ii) Ríomh an méid iomlán a bhí air a thabhairt don airgeadóir ag An Post.		
		Freagra: €	Obair:

(D)	(i) Tabhair trí chúis ar cheart do dhaoine airgead a choigilt.		
	(a)		
	(b)		
	(c)		

	(ii) Ainmnigh dhá sheirbhís a chuireann An Post ar fáil i gcomhair coigilteas airgid.		
	(a)		
	(b)		

	(iii) Ainmnigh dhá shaghas institiúid airgeadais, seachas An Post, inar féidir le daoine an t-airgead atá coigilte acu a chur.		
	(a)		
	(b)		

Don scrúdaitheoir amháin:	Iomlán t/a:		Iomlán ar Cheist 4:		Iomlán carnach t/aa:	
---------------------------	-------------	--	---------------------	--	----------------------	--


(A) Sonrasc

Mórdhíoltóirí Ama Tta			SONRASC Uimh. 1477	
Eastát Tionsclaíochta Carlton, Droichead Átha, Co. Lú				
Teileafón: 041-7957443		Uimh. Chlár CBL IE 6285531		
Facs: 041-7957492				
r-phost: mordhioltoiriama@camcor.ie				
Dáta: _____				
D'Uimhir Ordaithe: _____				
CAINNÍOCHT	TUAIRISC	CÓD- UIMHIR	PRAGHAS AN CEANN €	IOMLÁN €
Carraeireacht íoctha E & E E				Iomlán (Gan CBL san áireamh)
				Lasaine Thrádála
				Fo-iomlán
				CBL
				Iomlán (CBL san áireamh)

Obair:

Le húsáid le ROINN B – Ceist 5 (ar lean.)

(B) Seic agus Comhdhuille

Dáta		Banc AIB	93-74-22
Do			An tSráid Ard, Dún Dealgan, Co. Lú
Iarmhéid	€ 11,500.00	Íoc	nó ordú euro euro euro
An Seic seo	€		€
Iarmhéid Nua	€		DOLMAIN Tta
			
	800573	800573 937422 79667418	

(C) Cuntas Baine

Dolmain Tta – Cuntas Baine							
Dr							Sr
Dáta	Sonraí	F	€	Dáta	Sonraí	F	€

NÓ

Dolmain Tta – Cuntas Baine						
Dáta	Sonraí	F	Dr	Sr	Iarmhéid	
			€	€	€	

(D) Is é is Siopa Ilrannach ann ná	Don Oifig Amháin

Don scrúdaitheoir amháin:	Iomlán t/a:		Iomlán ar Cheist 5:		Iomlán carnach t/aa:	
---------------------------	-------------	--	---------------------	--	----------------------	--

Le húsáid le ROINN B – Ceist 6
Leabhar an Mhionairgid

(A)

Dr			Sr								
Dáta	Sonraí	Iomlán	Dáta	Sonraí	Uimhir Dhearbháin	Iomlán	Postas	Páipéarachas	Glantachán	Deisiúchán	Eile
2008		€	2008			€	€	€	€	€	€

Obair:

Le húsáid le ROINN B – Ceist 6 (ar lean.)

(B)	Cé mhéad airgid a gheobhaidh Rita ón bpríomhairgeadóir ionas gur féidir léi tosú an mhí dár gcionn agus óinchiste de €250 aici?	Don Oifig Amháin
	<p>Freagra:</p> <p align="center">€</p>	<p>Obair:</p>

(C)	<p>Mínigh dhá cheann de na téarmaí seo a leanas:</p> <p>Dearbhán Mionairgid Óinchiste Forchostais Táillí Dola</p>	
(i)		
(ii)		

Don scrúdaitheoir amháin:	Iomlán t/a:		Iomlán ar Cheist 6:		Iomlán carnach t/aa:	
---------------------------	-------------	--	---------------------	--	----------------------	--

Le húsáid le ROINN B – Ceist 7

(A)	(i) Tabhair trí chúis a mbainfeadh feidhmeannach gnó úsáid as córas aeriompair.	Don Oifig Amháin	
	(a)		
	(b)		
	(c)		

	(ii) Ríomh cé mhéad ama a thógann an eitilt ó Bhaile Átha Cliath go dtí an Bhruiséil ar gach aon aerlíne acu.		
	Aerlíne:	Mín-Aer	Sciath-Aer
	Freagraí:		
	Obair:		

(B)	(i) Ríomh costas iomlán na heitilte ar Linda le gach aon aerlíne acu.		
	Aerlíne:	Mín-Aer	Sciath-Aer
	Freagraí:		
	Obair:		
	Táille taistil		
	Cánacha aerfoirt		
	Táille áirithinte		
	Táille cláraithe		
	Árachas taistil		
	Táille cláraithe mála		

Le húsáid le ROINN B – Ceist 7 (ar lean.)

(B)	(ii) Agus tú ag cur an chostais san áireamh, cé acu aerlíne a molfá do Linda taisteal léi?	Don Oifig Amháin
Freagra:		

(C)	Comhlánaigh, go hiomlán, gach abairt thíos agus tú ag baint úsáide as an míniú is cuí.	
	(i) Is é is margadh ann ná	
	(ii) Is é is taighde margaidh ann ná	
	(iii) Is é is ceistneoir ann ná	
	(iv) Is é is tástáil margaidh ann ná	
	(v) Is é is brandáil ann ná	

Tá spás curtha ar fáil ar an gcéad leathanach eile le haghaidh an fhreagra ar Cheist 8.

Don scrúdaitheoir amháin:	Iomlán t/a:		Iomlán ar Cheist 7:		Iomlán carnach t/aa:	
---------------------------	-------------	--	---------------------	--	----------------------	--

Le húsáid le ROINN B – Ceist 8

(A)	(i) Tabhair trí shampla den Táirgeacht Phríomhúil.	Don Oifig Amháin
	(a)	
	(b)	
	(c)	

	(ii) Míneigh, agus tú ag tabhairt sampla, cad is brí le Táirgeacht Thánaisteach.	

	(iii) Tabhair ceithre shampla den tionscal Seirbhíse.	
	(a)	
	(b)	
	(c)	
	(d)	

(B)	(i) I gcúrsaí eacnamaíochta, míneigh an difríocht atá idir ‘riachtanais’ agus ‘teastálacha’. Tabhair dhá shampla de gach ceann acu.	
	Riachtanais:	
	Samplaí de Riachtanais:	
	Teastálacha:	
	Samplaí de Theastálacha:	

Le húsáid le ROINN B – Ceist 8 (ar lean.)

(B)	(ii)	Mínigh dhá cheann de na tosca táirgeachta.	Don Oifig Amháin
	(a)		
	(b)		

(C)	(i)	Dréachtaigh Buiséad Náisiúnta Rialtas Rainland don bhliain 2008.	
	(ii)	Luaigh cé acu buiséad ‘barrachais’ nó buiséad ‘easnaimh’ é.	

(i) Buiséad Náisiúnta Rialtas Rainland do 2008			
		€	€
	IONCAM		
	CAITEACHAS		
(ii)			

***NÁ DÉAN DEARMAD AN ROINN ‘A’ CHOMHLÁNAITHE SEO
A CHUR AR AIS LE DO FHREAGARLEABHAR***

Don scrúdaitheoir amháin:	Iomlán t/a:		Iomlán ar Cheist 8:		Iomlán carnach t/aa:	
---------------------------	-------------	--	---------------------	--	----------------------	--

Leathanach Bán