

RABHADH

Ní mór duit an páipéar seo a thabhairt ar ais le do fhreagarleabhar, nó caillfear marcanna.

Scrúduimhir an Iarrthóra



Coimisiún na Scrúduithe Stáit

SCRÚDÚ AN TEASTAIS SHÓISEARAIGH, 2003

STAIÉAR GNÓ - GNÁTHLEIBHÉAL

ROINN A

(100 Marc)

DÉ CÉADAON, 11 MEITHEAMH 2003 - MAIDIN, 9.30 - 12.




Freagair na 20 ceist. Tá 5 mharc ag dul le gach ceist. Is ceadmhach áireamhain a úsáid.

1. Cad dó a seasann na litreacha seo a leanas?

(Scríobh **gach** freagra go hiomlán sa spás atá ar fáil dó)

C.B.L.	
C.G.B. (A.G.M.)	

2. Ainmnigh táirge nó seirbhís **AMHÁIN** a bhfuil baint aige le **gach** ceann de na lógónna seo a leanas:

Lógó	Táirge nó Seirbhís
1. 	
2. 	
3. 	

3. Ní sócmhainn seasta ceann **amhain** díobh seo a leanas.

Áitreabh

Airgead sa Bhanc

Trealamh Oifige

(Cuir tic (✓) sa bhosca cuí)

4. Líon isteach an **dá** Thoise Táirgthe atá in easnamh sna spásanna atá ann dóibh:

	SAOTHAR		FIONTRAÍOCHT
--	----------------	--	---------------------

5. Cuir ainmneacha na gcustaiméirí seo a leanas in ord aibítire:

ÁINE NIC DHÓNAILL

LIAM MAC DONNCHA

RÉ MAC DÓNAILL

1.	
2.	
3.	

6. Cé acu de na tíortha seo a leanas atá san Aontas Eorpach? Cuir tic (✓) sa bhosca cuí **TÁ** nó **NÍL** i ngach cás)

	TÁ	NÍL
AN SPÁINN		
AN TSEAPÁIN		
AN OSTAIR		

7. Níl ach ceann amháin díobh seo a leanas **nach** sochar comhchineál é.

Carr cuideachta

Pá

Dearbháin lóin

(Cuir tic (✓) sa bhosca cuí)

8. Tá a cuntas reatha ag Siobhán Ní Chléirigh i mBanc na hÉireann, Trá Lí. Ar Meitheamh 2003, d'íoc sí seic ar €200.00 le Kerrygold Teo.

Is í Siobhán Ní Chléirigh _____ an tseic sin.

(1) TARRAINGEOIR (2) TARRAINGÍ (3) ÍOCAÍ.

(Scríobh an freagra ceart sa spás atá ann dó)

9. Cuir tic (✓) i ndiaidh gach ráitis lena thaispeáint cé acu FÍOR nó BRÉAGACH é.

	FÍOR	BRÉAGACH
(a) Ciallaíonn babhtáil malartú táirge amháin ar cheann eile.		
(b) Ciallaíonn dlíthairiscint íocaíocht as comhairle dlíodóra.		

10. Meaitseáil na cineálacha buiséid i gColún 1 leis na mínithe i gColún 2 trín litir don mhíniú ceart a chur faoin uimhir chúí thíos.

Cineál Buiséid	Míniú
1. Buiséad comhardaithe	A. Ioncam níos mó ná Caiteachas
2. Barrachas sa bhuiséad	B. Ioncam níos lú ná Caiteachas
3. Easnamh sa bhuiséad	C. Ioncam cothrom le Caiteachas

1	2	3

11. Is é is dleacht chustaim ann ná cáin ar:

Allmhairí

Onnmhairí

Fostaíocht

(Cuir tic (✓) sa bhosca cuí)

12. Ainmnigh trí chúis a d'fhéadfadh a bheith le hAighneas Tionsclaíoch nó le Stailc.

1.	
2.	
3.	

13. Sna spásanna atá ann dóibh, scríobh an t-airgeadra ar dlíthairiscint é i ngach tír:

Tír	Airgeadra
NA STÁIT AONTAITHE	
AN FHRAINIC	

14. Ciallaíonn **Leas Inárachais**:

Is féidir leat árachas a chur ar mhéid an úis a thuilleann tú ar do Chuntas Taisce.	
Baineann tú leas airgeadais as an mír atá faoi árachas agat a bheith ann.	
Ní theastaíonn uait íoc as árachas	

(Cuir tic (✓) os comhair an fhreagra is oiriúnaí)

15. Is éard is **S.I.P.T.U.** ann ná

Comhar Creidmheasa

Ceardchumann Múinteoirí

Ceardchumann

(Cuir tic (✓) sa bhosca cuí)

16. Cónaíonn Hillary i Manchain, agus beidh sí ag teacht go hÉirinn do na hOilimpicí Speisialta. Tá £1,300.00 Steirling coigilte aici mar airgead le caitheamh. Téann sí go dtí an banc áitiúil chun an Steirling (airgeadra Sasanach) a mhalartú ar euro. Deirtear léi gurb é an ráta reatha malairte ná **€1 = £0.65** Steirling.

Áirigh an méid euro a gheobhaidh sí ar £1,300.00 Steirling.

Freagra:
€

Oibriúcháin:

17. Féach ar an Tábla Faid agus ríomh é seo a leanas:

Déanann cúiréir taisteal ón gCabhán go hInis. Ansin seachadann sí paicéad le gnólacht i mBaile Átha Cliath sula bhfillleann sí ar an gCabhán. Cé mhéad ciliméadar a thaistealaíonn sí ar fad?

TÁBLA FAID (Km)

Cabhán

300	Corc-aigh					
110	400	Dún na nGall				
112	260	222	Baile Átha Cliath			
82	325	158	85	Dun Dealgan		
200	142	260	232	256	Inis	
166	210	205	216	238	70	Gaillimh

Freagra:

Oibriúcháin:

18. Níl ach ceann *amháin* díobh seo a leanas ina CHOMHLACHT LEATHSTÁIT. Cé acu ceann? (Cuir tic (✓) sa bhosca cuí)

Banc AIB

Comhar Creidmheasa

An Post

19. Comhlánaigh an abairt seo a leanas:

Ciallaíonn **Stoc ar Deiridh**

20. *Tabhair freagra ar (A) nó (B):*

(A) Déan an Cuntas Bainc seo a leanas a chomhardú agus tabhair anuas an t-iarmhéid ag deireadh na míosa:

Dr				Cuntas Bainc				Sr
Dáta	Sonraí	F	€	Dáta	Sonraí	F	€	
2003				2003				
M. F. 1	Iarmhéid	t/a	1,360	M. F. 3	Fógraíocht	L17	255	
8	Díolachán	L12	1,570	15	Ceannacháin	L25	1,340	
16	Díolachán	L12	850	29	Pá	L27	590	

NÓ

(B) Comhlánaigh na 5 líne dheiridh sa cholún “Iarmhéid” sa Chuntas Bainc seo a leanas:

Cuntas Bainc						
Dáta	Sonraí	F	Dr	Sr	Iarmhéid	
2003			€	€	€	
M. F. 1	Iarmhéid	b/d			1,360	
3	Fógraíocht	L17		255		
8	Díolacháin	L12	1,570			
15	Ceannacháin	L25		1,340		
16	Díolacháin	L12	850			
29	Pá	L27		590		

CUIMHNIGH AN ROINN ‘A’ COMHLÁNÁITHE SEO A CHUR AR AIS LE DO FHREAGARLEABHAR

1. (A)

MUINTIR BHROIN	M.FÓMH.	D.FÓMH.	SAMH.	NOLL.	IOMLÁN
IONCAM PLEANÁILTE	€	€	€	€	€
Liam Ó Broin – Tuarastal					
Carol Uí Broin – Tuarastal					
Liúntas Leanaí					
A. IONCAM IOMLÁN					
CAITEACHAS PLEANÁILTE					
<i>Seasta</i>					
Morgáiste Tí					
Árachas Tí					
Árachas Gluaisteáin					
Fo-iomlán					
<i>Neamhrialta</i>					
Costais Teaghlaigh					
Costais Reatha Ghluaisteáin					
Leabhair Scoile					
Solas agus Teas					
Costais Teileafóin					
Fo-iomlán					
<i>Roghnach</i>					
Bronntanais					
Siamsaíocht					
Fo-iomlán					
B. CAITEACHAS IOMLÁN					
Airgead Tirim (A-B)					
Airgead Tirim Tosaigh					
Airgead Tirim Deiridh					


1 (B)	Morgáiste Tí:

1 (C)	Ticéidí do Chluiche Ceannais na hÉireann:

Le húsáid le Roinn B – Ceist 4

(A) Freagra:


(B) Duillín Lóisteála:

Memorandum only Lóisteáil Brainse Ainm Uimhir an Cuntas Branda/Céadlitreacha	 AIB Reatha Taisce Cashsave Tic an cuntas cui Branda/Céadlitreacha	Lóisteáil Don bhanc amháin Cód Sortála Náisiúnta N B P T M 93	Uimhir an Chuntais € Nótai Monai 1 & 2 € Monai Eile Airgead Iomlán Seiceanna (liosta ar chúl) euro euro euro
		AIB Bank Brainse Ainm Cuntais Seoladh Iochta ag Tuairisc	044 288 044 288 89

(C) Admháil:

Cumann Naomh Uinseann de Pól (Craobh an Inbhir Mhóir) Bóthar na Mara, An tInbhear Mór, Co. Chill Mhantáin Teileafón 061-339987		Uimh. 29771
Dáta:		
Faighte ó:		
Suim:		€
<i>Le Buíochas</i>	Sínithe:	(Rúnaí)

(D) Duillín Aistarraingt:

 AIB Reatha Taisce Cashsave Tic an Cuntas cui Branda/Céadlitreacha	Aistarraingt Uimhir Brainse 93	Uimhir Chuntais Don Bhanc Amháin B P T M N euro euro euro €
	Brainse Faighte ó Bhanc Aontas Éireann p.l.c. Sínithe Seoladh Tuairisc	Do Chomhchuntais Taisce Dearbhaím go bhfuil gach páirt i sa chuntas beo ar an dáta seo Dáta Sínithe


Le húsáid le Roinn B – Ceist 4 (ar lean)

(E) Freagra:	
Cúis Uimh. 1	
Cúis Uimh. 2	

Bain úsáid as an spás seo i gcóir obair gharbh

(C)

Le húsáid le Roinn B – Ceist 5 (ar lean)

Dáta		AIB	21-34-99
Do			AN PHRÍOMHSHRÁID, ROSCOMÁIN
Iarmhéid	€ 9,000.00	Íoc	Nó ordú euro euro euro
An seic seo	€		€
Iarmhéid Nua	€		OLLSTÓR MHC SHUIBHNE Tta.
			
	400916	400916	213499 16921851

(D)

Cuntas Bainc – Ollstór Mhic Shuibhne Tta.							
Dr				Sr			
Dáta	Sonraí	F	€	Dáta	Sonraí	F	€

NÓ

Cuntas Bainc – Ollstór Mhic Shuibhne Tta.						
Dáta	Sonraí	F	Dr	Sr	Iarmhéid	

Le húsáid le Roinn B – Ceist 8

(A)

1.	
2.	

(B)

Iarratas ar Chárta Creidmheasa le Banc ANBM Tta.

Sloinne: _____ Céad Ainm: _____ Uasal/Bean/Iníon: _____

Seoladh: _____

Dáta Breithe: _____ Uimh. Theileafóin: _____

Pósta? Singil? Baintreach? Úinéir Tí? Tionónta?

(Cuir tic (✓) sa bhosca cuí le do thoil)

Slí Bheatha: _____ Olltuarastal Bliantúil: € _____

Ainm & Seoladh an Fhostóra: _____

Abair cén bhliain ar thosaigh tú ar an bhfostaíocht seo? _____

Ainm do Bhainc: _____

Seoladh an Bhrainse: _____

Cineál Cuntais: _____ Uimh. An Chuntais:

Cé mhéid bliain leis an mbanc seo: _____

Is mian liom iarratas a dhéanamh ar Chárta Creidmheasa le Banc ANBM Tta.

Síniúchán: _____ Dáta: _____

(C)

NÁ DÉAN DEARMAD AN ROINN 'A' CHOMHLÁNAITHE SEO A CHUR AR AIS LE DO FHREAGARLEABHAR