

RABHADH

Ní mór duit an páipéar seo a thabhairt ar ais le do fhreagarleabhar, nó caillfear marcanna.

Scrúduimhir an Iarrthóra**Coimisiún na Scrúduithe Stáit**

SCRÚDÚ AN TEASTAIS SHÓISEARAIGH 2016

STAIÉAR GNÓ – ARDLEIBHÉAL – PÁIPÉAR I

DÉ MÁIRT 14 MEITHEAMH 2016 – MAIDIN 9.30 – 12.00

ROINN A

(80 marc)

- Tá 4 mharc ag gabháil le gach ceist i Roinn A.
- Freagair **GACH** ceist.
- Bronnfar marcanna ar obair, ar leagan amach agus ar chur i láthair, fóilíonna agus dátaí san áireamh de réir mar is cuí.
- Ba cheart go dtaispeánfaí an lá, an mhí agus an bhliain sna dátaí.
- Is ceadmhach áireamháin a úsáid.

ROINN A

(80 marc)

Freagair an 20 ceist ar fad. Tá 4 mharc ag gabháil le gach ceist.

1. Úsáidtear na ceannlitreacha seo a leanas sa Bhaincéireacht. Cad dó a seasann siad?

UMB (ATM)	
AC	
DD	

2. Ainmnigh comhlacht Stáit **amháin** a bhfuil baint aige le **gach ceann** de na gníomhartha seo a leanas:

CUMARSÁID	
IOMPAR	
TÁIRGEADH	

3. Líon isteach na trí bhosca bhána uimhrithe (i) go (iii) chun an sliocht as an gClár Comhardaithe thíos a chomhlánú:

Sliocht as Clár Comhardaithe ar an 31-12-2015			
Sócmhainní Seasta	Costas	Dímheas	Glanluach Leabhar
	€	€	€
Innealra	165,000	(i)	132,000
Foirgnimh	900,000	(ii)	846,000
	1,065,000	(iii)	978,000

4. Tá na figiúirí seo a leanas sna Cuntais Chríochnaitheacha ag cuideachta:

Stoc Tosaigh €32,000 Costas Díolachán €624,000 Stoc Deiridh €16,000

Ríomhtar Láimhdeachas Stoic mar seo: $\frac{\text{Costas Díolachán}}{\text{Meánstoc}}$

Bain úsáid as na figiúirí thuas agus ríomh an Láimhdeachas Stoic.
Taispeáin do chuid oibre.

Freagra
uaire

Obair

5. Ainmnigh **dhá** cheannteideal i bPlean Gnó.

- (i) _____
- (ii) _____

6. Ar 1 Meitheamh 2016, dhíol R. Ó Catháin earraí ar €2,600 ar cairde le S. Mac Cárthaigh. Ní raibh CBL ar bith le hóc ar na hearraí seo.

Comhlánaigh **cuntais mhórleabhair R. Uí Chatháin** agus taispeáin ainmneacha na gcuntas agus na sonraí ábhartha, uimhrithe ó (i) go (iv):

(i) Cuntas

Dr			Sr		
Dáta	Sonraí	€	Dáta	Sonraí	€
2016 Meith. 1	(ii)	2,600			

(iii) Cuntas

Dr			Sr		
Dáta	Sonraí	€	Dáta	Sonraí	€
			2016 Meith. 1	(iv)	2,600

7. Comhlánaigh **agus** comhardaigh an Cuntas Rialúcháin Creidiúnaithe ar an 31 Bealtaine 2016 ón eolas seo a leanas:

	€
Iarmhéid na gCreidiúnaithe ar an 1 Bealtaine 2016	6,100
Iomlán na gCeannachán ar cairde i mí na Bealtaine	5,900
Airgead tirim iomlán a íocadh le creidiúnaithe i mí na Bealtaine	5,500

Cuntas Rialúcháin Creidiúnaithe					
Dr			Sr		
Dáta	Sonraí	€	Dáta	Sonraí	€

NÓ (Formáid Mhalartach)

Cuntas Rialúcháin Creidiúnaithe				
Dáta	Sonraí	Dr	Sr	Iarmhéid
		€	€	€

8. Míneigh modh **amháin** chun drochfhiacha a laghdú i bhfiontar:

9. Cuir tic (✓) sna colúin chuí chun a thaispeáint cén áit sna cuntais chríochnaitheacha ba cheart na míreanna seo a leanas a iontráil ar an 31/12/2015:

	Cuntas Trádála	Cuntas Brabúis agus Cailteanais	Clár Comhardaithe
Fógraíocht			
Stoc (31/12/2015)			
Scairchaipiteal Eisithe			

10. Mínigh **dhá** dhualgas a bhíonn ar Stíobhard Ceardlainne in aon eagraíocht:

(i) _____

(ii) _____

11. (i) Iontráil na hiarmhéideanna seo a leanas i Leabhar Cúnta Ginearálta Taylor Teo. atá páirtchomhlánaithe:

1 Eanáir 2016	Foirgnimh	€211,100
	Féichiúnaithe	€44,800

- (ii) Ríomh an Gnáth-Scairchaipiteal:

Taylor Teo. – Leabhar Cúnta Ginearálta				
Dáta	Sonraí	F	Dr	Sr
			€	€
	Ró-tharraingt Bhainc	LA ₁		6,600
	Foirgnimh	MLG ₁		
	Féichiúnaithe	MLF ₁		
	Gnáth-Scairchaipiteal	MLG ₂		
	<i>Sócmhainní, Fiachais agus Scairchaipiteal Taylor Teo. ar an dáta seo.</i>			

12. Míneigh an téarma **Saincheadúnas** mar a bhaineann sé le cúrsaí miondíola:

Tabhair sampla **amháin** de shaincheadúnas aithnidiúil:

13. Tá Aindí tagtha abhaile ó na Stáit Aontaithe agus \$850 ina sheilbh aige. Téann sé go dtí a bhanc chun na dollair a mhalartú go euro agus feiceann sé na rátaí seo a leanas luaite:

AIRGEADRA	RÁTA DÍOLA	RÁTA CEANNAIGH
Dollar	1.045	1.120

Ríomh an méid iomlán euro a gheobhaidh Aindí ar a \$850:
(Taispeáin do chuid oibre)

Freagra:
€

Obair:

14. Tabhair breac-chuntas ar **dhá** chúis a n-ullmhaíonn feirmeoirí cuntais:

(i) _____

(ii) _____

15. (i) Bhí €9,800 ar an chostas maireachtála i dtír in 2014. In 2015, €9,996 a bhí air. Ríomh an ráta boilscithe. (Taispeáin do chuid oibre.)

Freagra
%

Obair

- (ii) In Éirinn, cad a thugtar ar thomhas oifigiúil an bhoilscithe?

16. Tabhair breac-chuntas ar **dhá** shlí a bhféadfadh gnólacht creidiúnacht custaiméara nua a mheas.

(i) _____

(ii) _____

17. I **gColún 1** tá liosta de Théarmaí Margaíochta. I **gColún 2** tá liosta ráiteas ar féidir iad a mheaitseáil leis na Téarmaí Margaíochta seo.

(Tá ráiteas amháin ann nach mbaineann le ceann ar bith de na Téarmaí Margaíochta.)

Téarmaí Margaíochta	Ráitis
1. Brandáil	A. Táirge, Praghas, Áit agus Cur Chun Cinn
2. Cumasc Margaíochta	B. Eolas a bhailiú ó agallaimh
3. Taighde Deisce	C. Comhartha, siombail nó ainm a úsáidtear chun idirdhealú idir tháirgí
	D. Eolas a bhailiú ó fhoinsí atá ann cheana féin

Cuir litir an ráitis atá ceart faoin uimhir ábhartha thíos agus meaitseáil an dá liosta:

1.	2.	3.

18. Iontráil an beart seo a leanas i Aischur Amach Saifir Teo.:
Ar an 9 Bealtaine 2016, chuir Saifir Teo. earraí €2,100 ar ais go dtí Gorm Teo. (Nóta Creidmheasa Uimh. 10). Ba é 23% an ráta CBL ar na hearraí seo.




Saifir Teo. – Leabhar Aischur Amach						
Dáta	Sonraí	Uimh. NC	F	Glan €	CBL €	Iomlán €

19. Líon na trí bhosca bhána atá uimhrithe (i) go (iii) chun an Cuntas Leithghabhála Brabúis agus Caillteanais a chomhlánú ón eolas seo a leanas:

Scairchaipiteal Údaraithe	€740,000
Scairchaipiteal Eisithe	€600,000
Díbhinní íoctha	2%

Cuntas Leithghabhála Brabúis agus Caillteanais don bhliain dár críoch 31-12-2015		
Brabús Glan		€ 74,500
Lúide Díbhinní		(i)
(ii)		(iii)

20. Sainaithin trí earnáil dhifriúla i ngeilleagar na hÉireann: Príomhúil, Tánaisteach agus Treasach/Séirbhísí a léirítear thíos. Scríobh do fhreagraí sna spásanna atá curtha ar fáil.

		
(i)	(ii)	(iii)

Le húsáid le Roinn B – Ceist 1 (A)

Ráiteas Comparáide Buiséid le haghaidh theaghlach Walters don bhliain 2015

IONCAM	Buiséad Eanáir – Nollaig €	Iarbhír €	Difríocht €
Tuarastail	54,000		
Sochar Leanaí	4,680		
Ús	240		
Eile			
IONCAM IOMLÁN	58,920		
CAITEACHAS			
<i>Seasta</i>			
Morgáiste	8,040		
Árachas gluaisteáin	560		
Árachas tí	695		
Fo-iomlán	9,295		
<i>Neamhrialta</i>			
Costais teaghlaigh	8,450		
Costais ghluaisteáin	3,600		
Costais éadaí agus bhróg	1,900		
Costais solais agus teasa	2,900		
Árachas sláinte	2,400		
Fo-iomlán	19,250		
<i>Roghnach</i>			
Costais siamsaíochta	1,380		
Féiríní	950		
Laethanta saoire	7,800		
Fo-iomlán	10,130		
CAITEACHAS IOMLÁN	38,675		
Airgead Glan	20,245		
Airgead Tosaigh	800		
Airgead Deiridh	21,045		

Nóta: Ná líon na boscaí scáthaithe

Le húsáid le Roinn B – Ceist 1 (B agus C)

1. (B)

(i)	Cén t-airgead deiridh a bhí buiséadaithe i gcomhair dheireadh 2015?	Freagra:	€
(ii)	Cé mhéad a bhí buiséadaithe le coigilt ag teaghlach Walters i rith 2015?	Freagra:	€
(iii)	Luaigh an méid a chaith teaghlach Walters thar a gcaiteachas Iomlán buiséadaithe.	Freagra:	€
(iv)	Cén t-airgead deiridh iarbhír a bhí acu ag deireadh 2015?	Freagra:	€

(v) Míniú cúis **amháin** a raibh na híocaíochta morgáiste níos lú i mí Lúnasa.

1. (C)

(i) Tabhair breac-chuntas ar **dhá** ghiota comhairle airgeadais a thabharfá do theaghlach Walters i bhfianaise a bhfuil i mBuiséad 'Iarbhír' 2015.

1. _____

2. _____

(ii) Míniú an téarma 'bónas cheal éilimh'

Le húsáid le Roinn B – Ceist 4 (B)

TEIDEAL NA TUARASCÁLA:	
Ó:	
GO:	
DÁTA:	
RÉAMHRÁ:	
FREAGRAÍ AR CHEISTEANNA (i) agus (ii)	(i)
	(ii)
TORTHAÍ AN FHIOSRAITHE:	
MOLTAÍ:	
LE DÉANAMH INA DHIAIDH SEO:	
SÍNIÚ:	
TEIDEAL SCRÍBHNEOIR NA TUARASCÁLA	

NÁ DÉAN DEARMAD AN ‘ROINN A’ SEO A THABHAIRT AR AIS LE DO FHREAGARLEABHAR

Leathanach Bán