

RABHADH

Ní mór duit an páipéar seo a thabhairt ar ais le do fhreagarleabhar, nó caillfear marcanna.

Scrúduimhir an Iarrthóra**Coimisiún na Scrúduithe Stáit****SCRÚDÚ AN TEASTAIS SHÓISEARAIGH 2013****STADÉAR GNÓ – ARDLEIBHÉAL – PÁIPÉAR I**

DÉ MÁIRT 11 MEITHEAMH 2013 – MAIDIN 9.30 – 12.00

ROINN A

(80 marc)

- Tá 4 mharc ag gabháil le gach ceist i Roinn A.
- Freagair **GACH** ceist.
- Bronnfar marcanna ar obair, ar leagan amach agus ar chur i láthair mar aon le fóilíonna agus dátaí da réir mar is cuí.
- Ba cheart go dtaispeánfaí an lá, an mhí agus an bhliain sna dátaí.
- Is ceadmhach áireamhain a úsáid.

ROINN A

(80 marc)

Freagair an 20 ceist ar fad. Tá 4 mharc ag gabháil le gach ceist.

1. Úsáidtear na ceannlitreacha seo a leanas i gcúrsaí ioncaim. Cad dó a seasann siad?

ÍMAT	
MSU	
ÁSPC	

2. Sainaithin sampla **amháin** d'Ioncam Caipitiúil an Rialtais agus sampla **amháin** de Chaiteachas Caipitiúil an Rialtais.

IONCAM CAIPITIÚIL	
CAITEACHAS CAIPITIÚIL	

3. Líon na trí bhosca bhána uimhrithe ó (i) go (iii) chun an sliocht thíos as Clár Comhardaithe a chomhlánú:

Clár Comhardaithe Achomair ar an 31-12-2012		
	€	€
(i)		
Sairchaipiteal		100,000
Cúlchiste		(ii)
		400,000
Fiachais Fhadtéarmacha		130,000
(iii)		530,000

4. Tá na figiúirí seo a leanas sna Cuntais Chríochnaitheacha ag cuideachta:

Stoc Tosaigh €30,000 Costas Díolacháin €450,000 Stoc Deiridh €15,000

Ríomhtar Láimhdeachas Stoic mar seo a leanas: $\frac{\text{Costas Díolachán}}{\text{Meánstoc}}$

Agus tú ag baint úsáide as na figiúirí thuas, ríomh an Láimhdeachas Stoic. Taispeáin do chuid oibre.

<table border="1" style="width: 100%; border-collapse: collapse;"> <tr> <td style="padding: 5px;">Freagra</td> </tr> <tr> <td style="padding: 5px; text-align: right;">uaire</td> </tr> </table>	Freagra	uaire	<table border="1" style="width: 100%; border-collapse: collapse;"> <tr> <td style="padding: 5px;">Obair</td> </tr> <tr> <td style="height: 50px;"></td> </tr> </table>	Obair	
Freagra					
uaire					
Obair					

5. Mínigh **dhá** chúis a n-ullmhaíonn feirmeoirí cuntais.

- (i) _____
- (ii) _____

6. Ar 8 Meitheamh 2013, dhíol B. Mac Adaim, báicéir, earraí ar €50.00 airgead tirim. Ní raibh CBL ar bith le híoc ar na hearraí seo.

Comhlánaigh na **cuntais mhórleabhair le B. Mac Adaim** anseo a thíos agus taispeáin ainmneacha na gcuntas agus na sonraí ábhartha, uimhrithe ó **(i)** to **(iv)**:

(i) Cuntas _____

Dr	Dáta	Sonraí	€	Sr	Dáta	Sonraí	€
	2013 8 Meitheamh	(ii)	50.00				

(iii) Cuntas _____

Dr	Dáta	Sonraí	€	Sr	Dáta	Sonraí	€
					2013 8 Meitheamh	(iv)	50.00

7. Comhlánaigh **agus** comhardaigh an Cuntas Rialacháin Creidiúnaithe ar 31 Bealtaine 2013 ón eolas seo a leanas:

	€
Iarmhéid Creidiúnaithe ar 1 Bealtaine 2013	4,400
Ceannacháin iomlána creidmheasa i mí na Bealtaine	9,300
Airgead tirim iomlán íoctha le creidiúnaithe i mí na Bealtaine	11,900

Cuntas Rialúcháin Creidiúnaithe					
Dr					Sr
Dáta	Sonraí	€	Dáta	Sonraí	€

NÓ (Formáid Mhalartach)

Cuntas Rialúcháin Creidiúnaithe				
Dáta	Sonraí	Dr	Sr	Iarmhéid
		€	€	€

8. Luaigh **trí** fheidhm a bhaintear as Teicneolaíocht Faisnéise sa teaghlach.

- (i) _____
- (ii) _____
- (iii) _____

9. Cuir tic (✓) sa cholún/sna colúin cuí chun a thaispeáint cén áit i gCuntais Chríochnaitheacha Fiaclóra (gnó seirbhíse) ba cheart na míreanna seo a leanas a iontráil ar 31/12/2012:

	Ráiteas Oibriúcháin	Clár Comhardaithe
Trealamh		
Ioncam ó Othair		
Stoc d'Ábhair Fiaclóireachta 31/12/2012		

10. Luaigh **dhá** phrionsabal i ndlithé tomhaltais na hÉireann a bhaineann le fógraíocht.

(i) _____

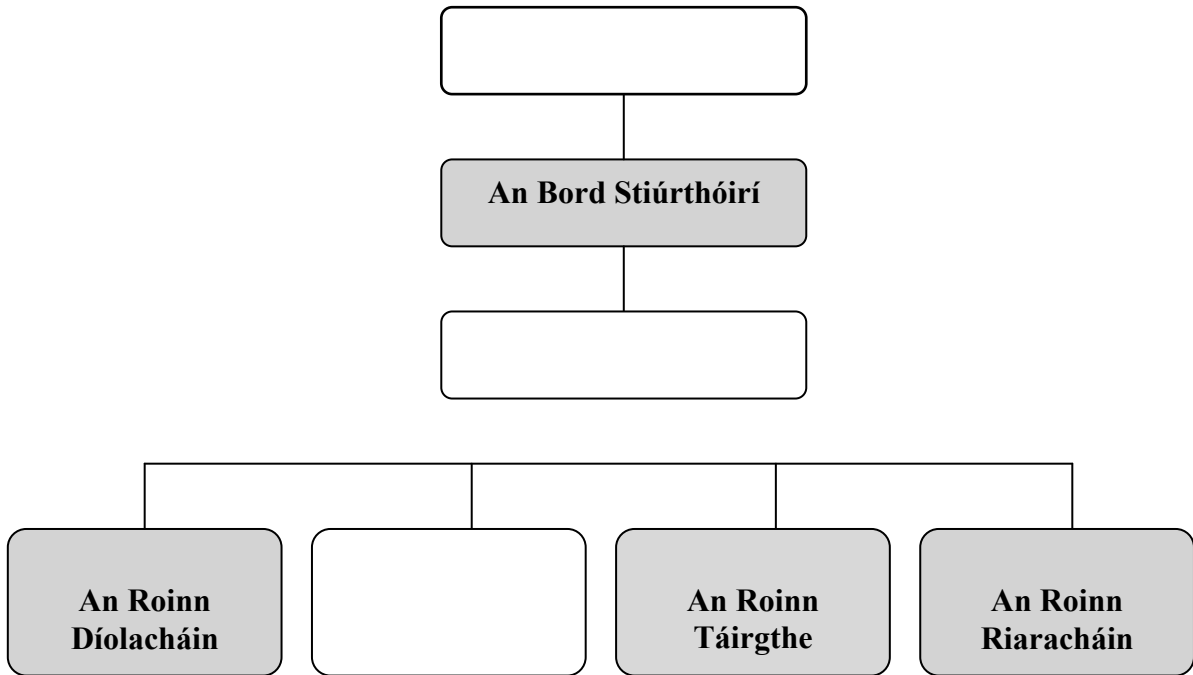
(ii) _____

11. Iontráil na hiarmhéideanna seo a leanas i Leabhar Cúnta Ginearálta Uí Chuimín Tta atá páirt-chomhlánaithe:

1 Eanáir 2013	Foirgnimh	€520,500
	Creidiúnaithe	€12,800
	Gnáth-Scairchaipiteal	€513,600

Ó Cuimín Tta – Leabhar Cúnta Ginearálta				
Dáta	Sonraí	F	Dr	Sr
			€	€
	Banc	LA ₁	5,900	
	Foirgnimh	MLG ₁		
	Creidiúnaithe	MLC ₁		
	Gnáth-scairchaipiteal	MLG ₂		
	<i>Sócmhainní, Fiachais agus Scairchaipiteal Uí Chuimín Tta ar an dáta seo.</i>			

12. Comhlánaigh an Chairt Eagraíochta do chuideachta theoranta a bhfuil ceithre roinn inti, agus líon na **trí** bhosca bhána:



13. Comhlánaigh an sliocht seo a leanas as sonrasc:

	€
Iomlán (gan CBL san áireamh)	900.00
Lascaine Thrádála 15%	
Fo-iomlán	
CBL 23%	
Iomlán (CBL san áireamh)	

14. Úsáid an t-eolas atá agat ar airgeadraí agus comhlánaigh an tábla thíos :

	Tír	Airgeadra
(i)	An Ríocht Aontaithe	
(ii)	An tSeapáin	
(iii)	S.A.M. (U.S.A)	


15. (i) Ba é an costas maireachtála i dtír sa bhliain 2011 ná €8,500. Sa bhliain 2012, €8,755 a bhí ann.

Ríomh an ráta boilscithe. (Taispeáin do chuid oibre.)

Freagra	Obair
%	

- (ii) In Éirinn, cad a thugtar ar thomhas oifigiúil an bhoilscithe?

16. Scrúdaigh an bealach dailte seo a leanas:



- (i) Luaigh táirge nó seirbhís a bheadh oiriúnach don bhealach dailte seo.

- (ii) Luaigh buntaiste **amháin** a bheadh ag an déantóir **nó** an tomhaltóir as an mbealach dailte seo?

17. I **gColún 1** tá Téarmaí a bhaineann le Margaíocht. I **gColún 2** tá liosta Ráiteas ar féidir iad a mheaitseáil leis na Téarmaí Margaíochta seo.

(Tá ráiteas amháin ann nach mbaineann le Téarma Margaíochta ar bith díobh.)

Téarmaí Margaíochta	Ráitis
1. Spriocmhargadh	A. Eolas a bhailiú ó fhoinsí atá ar fáil cheana
2. Cumasc Margaíochta	B. Tá súil ann go mbeidh na daoine seo ina gcustaiméirí
3. Taighde Deisce	C. Eolas a bhailiú ó agallaimh
	D. Táirge, Praghas, Áit agus Cur Chun Cinn

Meaitseáil an dá liosta ar trí litir an ráitis atá ceart a chur faoin uimhir ábhartha thíos:

1.	2.	3.

18. Iontráil an beart seo a leanas i Leabhar Aischur Amach Ó Díoman Tta:

Ar 9 Bealtine 2013, chuir Ó Díoman Tta earraí de luach €12,500 ar ais chuig Páirc Tta (Nóta Creidmheasa Uimh. 10). Is é an ráta CBL a bhí ar na hearraí seo ná 23%.



Ó Díoman Tta – Leabhar Aischur Amach						
Dáta	Sonraí	Uimh. NC	F	Glan €	CBL €	Iomlán €

19. Comhlánaigh an Cuntas Leithghabhála Brabúis agus Cailteanais agus lion na **trí** bhosca bhána uimhrithe **(i)** go **(iii)**, ón eolas seo a leanas:

Sairchaipiteal Údaraithe	€900,000
Sairchaipiteal Eisithe	€800,000
Díbhinní íoctha	2%

Cuntas leithghabhála Brabúis agus Cailteanais don bhliain dar chríoch 31-12-2012		
		€
Brabús Glan		90,000
Lúide Díbhinní		(i)
(ii)		(iii)

20. Sainaithin **trí shaghas** éagsúla cumarsáide atá ar taispeáint thíos. Scríobh do fhreagraí sna boscaí faoi gach ceann acu.

	<p>Conas an mhaith le Lady Gaga a stéig?</p>  <ul style="list-style-type: none"> ■ Lánbhruite ■ Tearcbhruite ■ Meán Tearcbhruite ■ AMH AMH AMH AMH 	<p style="text-align: center;">ABC Tta</p> <p style="text-align: center;">Meabhrán</p> <p style="text-align: center;">Ó: Máirtín Ó Corbáin Dáta: 11 Meitheamh 2013</p> <p style="text-align: center;">Cuimhnigh, le do thoil, go mbeidh Cruinniú Foirne ann amárach ar 11.00 r.n.</p>
(i)	(ii)	(iii)

Le húsáid le Roinn B - Ceist 1(A)

Ráiteas Comparáide Buiséid le haghaidh theaghlach Uí Fheinneadha don bhliain 2012

IONCAM	Buiséad Ean – Noll €	Iarbhír €	Difríocht €
Tuarastail	42,500		
Sochar leanaí	3,360		
Ús	200		
Eile			
IONCAM IOMLÁN	46,060		
CAITEACHAS			
<i>Seasta</i>			
Morgáiste	12,600		
Árachas gluaisteáin	430		
Árachas tí	640		
Fo-iomlán	13,670		
<i>Neamhrialta</i>			
Costais teaghlaigh	7,200		
Costais ghluaisteáin	1,800		
Costais éadaí agus bróg	2,050		
Costais solais agus teasa	3,400		
Árachas sláinte	2,300		
Fo-iomlán	16,750		
<i>Roghnach</i>			
Costais siamsaíochta	2,400		
Bronntanais	600		
Laethanta saoire	4,300		
Fo-iomlán	7,300		
CAITEACHAS IOMLÁN	37,720		
Airgead Tirim Glan	8,340		
Airgead Tirim Tosaigh	1,200		
Airgead Tirim Deiridh	9,540		

Nóta: Ná líon na boscaí scáthaithe

Le húsáid le Roinn B – Ceist 1(B agus C)

1. (B)

(i)	Cén t-airgead tirim deiridh a bhí buiséadaithe i gcomhair dheireadh 2012?	Freagra:	€
(ii)	Cé mhéad a bhí buiséadaithe ag teaghlach Uí Fheinneadha le coigilt i rith na bliana 2012?	Freagra:	€
(iii)	Luaigh an méid a chaith teaghlach Uí Fheinneadha anuas ar a gcaiteachas iomlán buiséadaithe.	Freagra:	€
(iv)	Cén t-airgead tirim deiridh iarbhír a bhí acu ag deireadh 2012?	Freagra:	€

(v) Mínigh cúis **amháin** a raibh an t-árachas gluaisteáin níos lú ná mar a bhí buiséadaithe.

1. (C)

(i) Tabhair breac-chuntas ar **dhá** phíosa comhairle airgeadais a thabharfá do theaghlach Uí Fheinneadha de bharr an Bhuiséid ‘Iarbhír’ i 2012.


1. _____

2. _____

(ii)	Ainmnigh an cháin atá iníoctha ar an ús a fhaigheann teaghlach Uí Fheinneadha.	Cáin:	
------	--------------------------------------------------------------------------------	--------------	--

Le húsáid le Roinn B - Ceist 3 (B) (i)

(B) (i) Déan barrachairt chun an t-eolas a thaispeáint.

A large grid of graph paper, consisting of 20 columns and 20 rows of small squares, intended for drawing a bar chart.

Le húsáid le Roinn B - Ceist 4 (A) (i)

Árachas Mhic an Bháird – Foirm Éilimh			
Ainm			
Seoladh			
Uimhir Pholasáí			
Slí Bheatha			
Sonraí Cailteanais/Damáiste			
Dáta			
Láthair			
Sonraí earraí cailte/damáistithe	Luach (€)	Dáta a Ceannaíodh	
Ar tuairiscíodh an cailteanas/damáiste don Gharda Síochána? <i>(Cuir tic(✓) le Tuairiscíodh nó Níor Tuairiscíodh.)</i>	Tuairiscíodh		Níor Tuairiscíodh
Má ‘Tuairiscíodh’, comhlánaigh an roinn seo, le do thoil:	⇒	Dáta tuairiscithe	
		Stáisiún Gardaí	
		An Garda a ghlac na sonraí	
Sínithe			
Dáta			

Doiciméad le húsáid le Roinn B – Ceist 6 (A) (ii)

Obair

Ollphá	ÍMAT
Creidmheas Cánach	Eile

(ii)

Duillín Pá		
Ainm:		
Uimh. Seachtaine:		
Bunphá	€	
Ragobair	€	
Ollphá	—————→	€
Creidmheas Cánach	€	
Asbhaintí		
ÍMAT	€	
ÁSPC/MSU	€	
Árachas Sláinte	€	
Coigilteas	€	
Asbhaintí Iomlána	—————→	€
Glanphá	—————→	€

NÁ DÉAN DEARMAD AN ROINN ‘A’ SEO A THABHAIRT AR AIS LE DO FHREAGARLEABHAR

Leathanach Bán

Leathanach Bán