



**MANDARIN AB INITIO – STANDARD LEVEL – PAPER 1**  
**MANDARIN AB INITIO – NIVEAU MOYEN – ÉPREUVE 1**  
**MANDARÍN AB INITIO – NIVEL MEDIO – PRUEBA 1**

Friday 2 November 2001 (morning)  
Vendredi 2 novembre 2001 (matin)  
Viernes 2 de noviembre de 2001 (mañana)

1 h 30 m

Name/Nom/Nombre

--

Number/Numéro/Número

--	--	--	--	--	--	--	--	--	--

**QUESTION AND ANSWER BOOKLET – INSTRUCTIONS TO CANDIDATES**

- The Simplified version is followed by the Traditional version. Choose one version.
- Write your name and candidate number in the boxes above.
- Do not open this booklet until instructed to do so.
- This booklet contains all the Paper 1 questions (Text handling).
- Refer to the Text Booklet which accompanies this booklet.
- Answer the questions in the spaces provided.
- One mark is allocated per question unless otherwise indicated.

**LIVRET DE QUESTIONS ET RÉPONSES – INSTRUCTIONS DESTINÉES AUX CANDIDATS**

- La version simplifiée est suivie de la version traditionnelle. Choisir une version.
- Écrire votre nom et numéro de candidat dans les cases ci-dessus.
- Ne pas ouvrir ce livret avant d’y être autorisé.
- Ce livret contient toutes les questions de l’épreuve 1 (Lecture interactive).
- Se référer au livret de textes qui accompagne ce livret.
- Répondre à toutes les questions dans le livret de questions et réponses.
- Un point par question sauf indication contraire.

**CUADERNO DE PREGUNTAS Y RESPUESTAS – INSTRUCCIONES PARA LOS ALUMNOS**

- La versión simplificada es seguida por la versión tradicional. Elija una versión.
- Escriba su nombre y número de alumno en las casillas de arriba.
- No abra este cuaderno hasta que se lo autoricen.
- Este cuaderno contiene todas las preguntas de la Prueba 1 (Manejo y comprensión de textos).
- Refiérase al cuaderno de textos que acompaña a este cuaderno.
- Conteste todas las preguntas en el cuaderno de preguntas y respuestas.
- Cada pregunta tiene un valor de un punto, a menos que se indique algo distinto.

EXAMINER EXAMINATEUR EXAMINADOR	TEAM LEADER CHEF D’ÉQUIPE LÍDER DE EQUIPO	IBCA
TOTAL /50	TOTAL /50	TOTAL /50



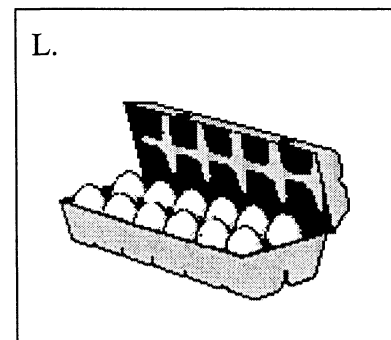
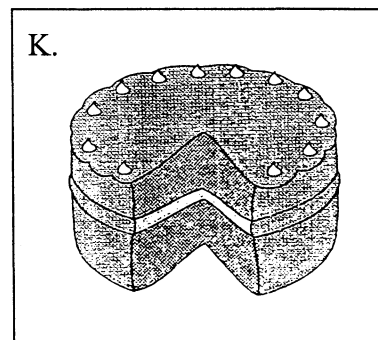
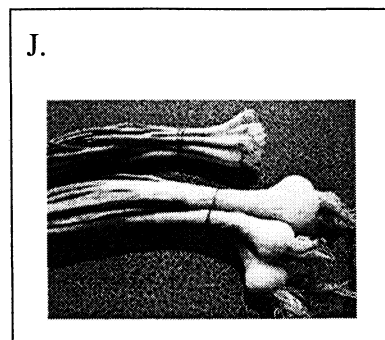
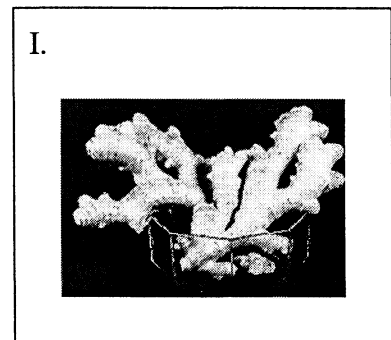

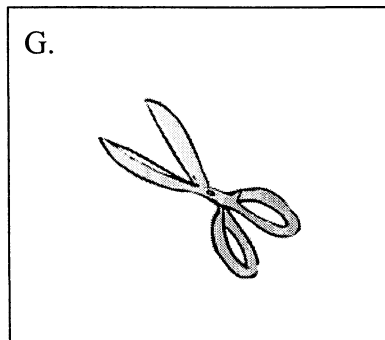
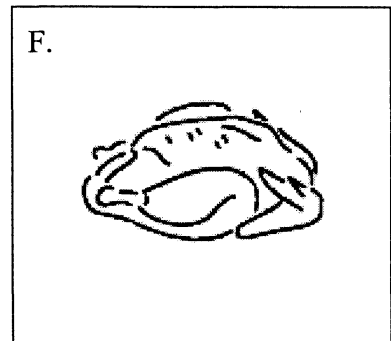
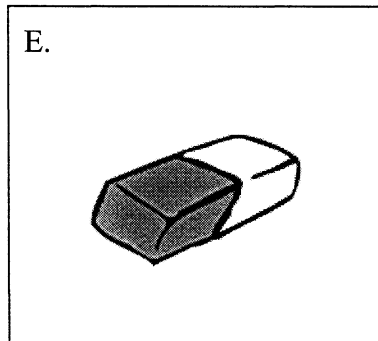
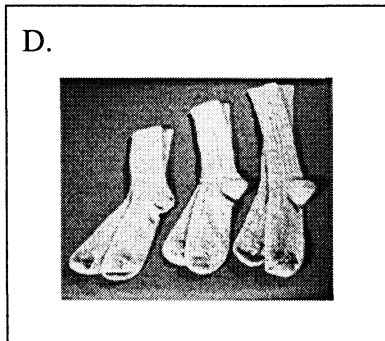
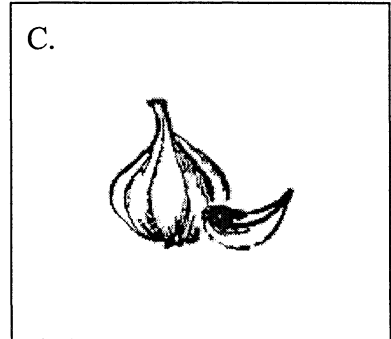


MANDARIN *AB INITIO*  
SIMPLIFIED VERSION

MANDARIN *AB INITIO*  
VERSION SIMPLIFIÉE

MANDARÍN *AB INITIO*  
VERSIÓN SIMPLIFICADA

第一部分

~~~~~  
请在下图中找出广告上写到的东西（8分）：



1 例：   A  

\_\_\_\_\_

\_\_\_\_\_

\_\_\_\_\_

\_\_\_\_\_

\_\_\_\_\_

\_\_\_\_\_

\_\_\_\_\_

\_\_\_\_\_

请根据广告的内容以打勾√的方式判断对错：

例：这是一则广告。

对   √                        错           

2 天园百货商店是一家新百货商店。

正                                 错           

3 新学期是指寒假以后的学期。

对                                 错

4 家乐电影院在天园百货商店的东边。

对\_\_\_\_\_ 错\_\_\_\_\_

5 天园百货每天开门十四个小时。

对\_\_\_\_\_ 错\_\_\_\_\_

6 “价格合理”是指什么东西都有。

对\_\_\_\_\_ 错\_\_\_\_\_

第二部分

~~~~~  
请把下面的词填在诗中：

哪儿	谁	什么	的	个
都	怎么	有	地	是

例：\_\_\_\_\_ 谁 \_\_\_\_\_

7 \_\_\_\_\_

8 \_\_\_\_\_

9 \_\_\_\_\_

10 \_\_\_\_\_

11 \_\_\_\_\_

12 \_\_\_\_\_

13 \_\_\_\_\_

### 第三部分

~~~~~  
14 请根据短文的内容找出正确的句子（4分）：

- (a)丹丹是一个学生。 例: (a)
- (b)这是丹丹给艺术学校写的广告。 \_\_\_\_\_
- (c)这是丹丹给大姨妈的一封信。 \_\_\_\_\_
- (d)丹丹的大姨妈病了。 \_\_\_\_\_
- (e)这个暑假过得很快。 \_\_\_\_\_
- (f)“小百花艺术学校”只是在暑假的时候开。 \_\_\_\_\_
- (g)除了创作班以外，“小百花艺术学校”还有美术班和舞蹈班等。
- (h)“小百花艺术学校”在报纸上作了广告。

请根据短文回答下列问题：

15 丹丹在“小百花艺术学校”里学习什么？

\_\_\_\_\_

16 创作班的学生都是从哪里来的？

\_\_\_\_\_



17 丹丹在这个暑假里写了多少篇文章？

---

18 暑假还有多长时间结束？

---

19 丹丹请大姨来学校做什么？

---

### 第四部分

~~~~~  
请根据短文，用打勾√的方式判断对错：

20 出租车费是按时间计算的。

对\_\_\_\_\_ 错\_\_\_\_\_

21 在北京出租车在什么地方都可以随便停车。

对\_\_\_\_\_ 错\_\_\_\_\_

22 北京的公共汽车上下班时间人很多。

对\_\_\_\_\_ 错\_\_\_\_\_

23 坐地铁要在车上买票。

对\_\_\_\_\_ 错\_\_\_\_\_

请根据短文回答下列问题：

24 在北京夜间有没有出租车？

\_\_\_\_\_

25 在北京坐公共汽车和地铁哪个更便宜？

\_\_\_\_\_

26 北京的地铁线有几条？

---

27 早上几点开始有地铁？

---

28 如果要看北京本地人的生活应该去什么地方？

---

29 在北京哪里可以找到脚踏三轮车？

---

第五部分



请根据短文选择正确的答案：

30 长江每年注入东海的水量是\_\_\_\_\_ (a)一万亿立方米

31 长江流过的地区平均每年降雨\_\_\_\_\_ (b)一千两百毫米

(c)一十亿立方米

(d)一万两千毫米

请根据短文判断对错：

32 长江是世界上最大的一条河流。

对\_\_\_\_\_ 错\_\_\_\_\_

33 长江上游的水来自高山上的冰雪。

对\_\_\_\_\_ 错\_\_\_\_\_

34 大量的雨水从地上和地下流入长江。

对\_\_\_\_\_ 错\_\_\_\_\_

请根据短文在右边找出下列词语的意思：

35 丰富（第2、9行）\_\_\_\_\_ (a)很有钱

36 融化（第4、6行）\_\_\_\_\_ (b)发达

(c)很多

(d)变成水

37 请根据短文指出长江水都用在哪些方面（4分）：

长江水用于：

(a)工厂 \_\_\_\_\_

(b)医院 \_\_\_\_\_

(c)交通 \_\_\_\_\_

(d)农田 \_\_\_\_\_

(e)旅游

(f)电力

(g)商业

(h)绿化

---



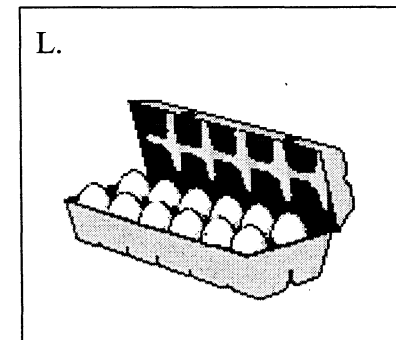
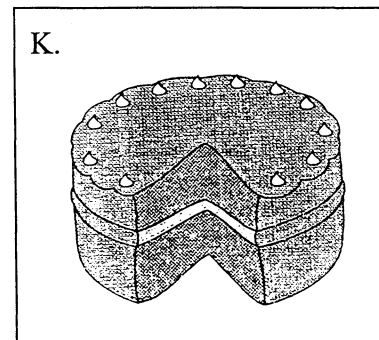
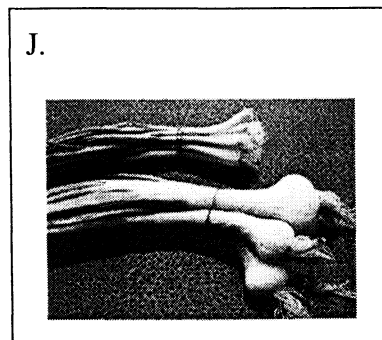
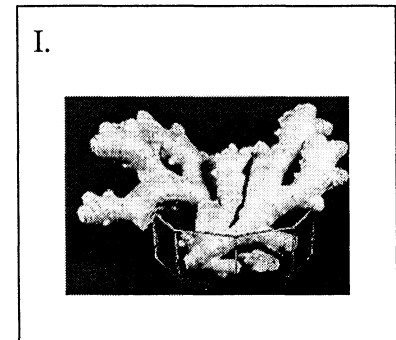

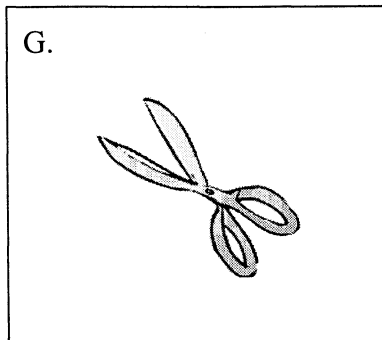
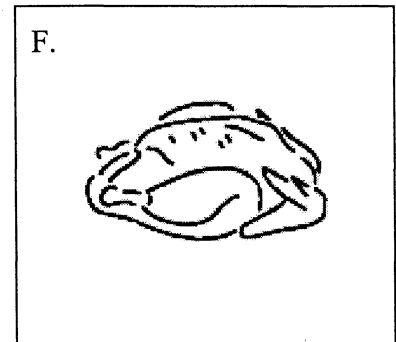
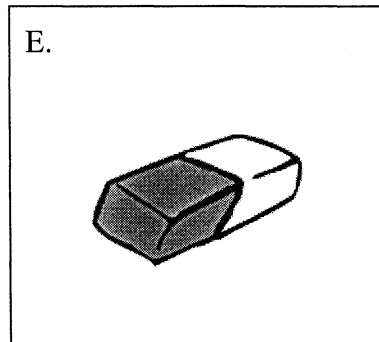
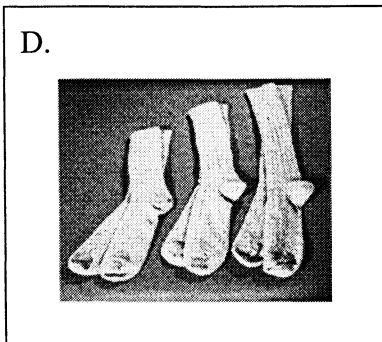
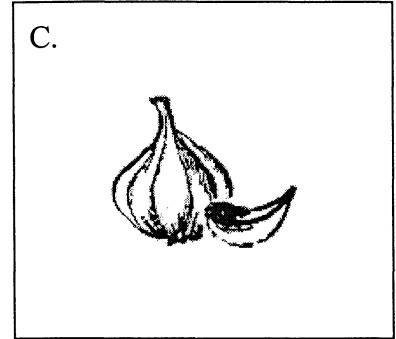


MANDARIN *AB INITIO*  
TRADITIONAL VERSION

MANDARIN *AB INITIO*  
VERSION TRADITIONNELLE

MANDARÍN *AB INITIO*  
VERSIÓN TRADICIONAL

第一部分

~~~~~  
請在下圖中找出廣告上寫到的東西（8分）：





1 例：   A  

\_\_\_\_\_

\_\_\_\_\_

\_\_\_\_\_

\_\_\_\_\_

\_\_\_\_\_

\_\_\_\_\_

\_\_\_\_\_

\_\_\_\_\_

請根據廣告的內容以打勾 V 的方式判斷對錯：

例：這是一則廣告。

對   V  

錯 \_\_\_\_\_

2 天園百貨商店是一家新百貨商店。

正 \_\_\_\_\_

錯 \_\_\_\_\_

3 新學期是指寒假以後的學期。

對 \_\_\_\_\_

錯 \_\_\_\_\_

4 家樂電影院在天園百貨商店的東邊。

對\_\_\_\_\_ 錯\_\_\_\_\_

5 天園百貨每天開門十四個小時。

對\_\_\_\_\_ 錯\_\_\_\_\_

6 “價格合理”是指什麼東西都有。

對\_\_\_\_\_ 錯\_\_\_\_\_

第二部分

~~~~~  
請把下面的詞填在詩中：

哪兒	誰	什麼	的	個
都	怎麼	有	地	是

例：\_\_\_\_\_ 誰 \_\_\_\_\_

7 \_\_\_\_\_

8 \_\_\_\_\_

9 \_\_\_\_\_

10 \_\_\_\_\_

11 \_\_\_\_\_

12 \_\_\_\_\_

13 \_\_\_\_\_

### 第三部分

~~~~~  
14 請根據短文的内容找出正确的句子（4分）：

- (a)丹丹是一個學生。
- (b)這是丹丹給藝術學校寫的廣告。
- (c)這是丹丹給大姨媽的一封信。
- (d)丹丹的大姨媽病了。
- (e)這個暑假過得很快。
- (f)“小百花藝術學校”只是在暑假的時候開。
- (g)除了創作班以外，“小百花藝術學校”還有美術班和舞蹈班等。
- (h)“小百花藝術學校”在報紙上作了廣告。

例：(a) \_\_\_\_\_

\_\_\_\_\_

\_\_\_\_\_

\_\_\_\_\_

\_\_\_\_\_

請根據短文回答下列問題：

15 丹丹在“小百花藝術學校”里學習什麼？

\_\_\_\_\_

16 創作班的學生都是從哪里來的？

\_\_\_\_\_

17 丹丹在這個暑假里寫了多少篇文章？

---

18 暑假還有多長時間結束？

---

19 丹丹請大姨來學校做什麼？

---

第四部分

~~~~~  
請根據短文，用打勾√的方式判斷對錯：

20 出租車費是按時間計算的。

對\_\_\_\_\_ 錯\_\_\_\_\_

21 在北京出租車在什麼地方都可以隨便停車。

對\_\_\_\_\_ 錯\_\_\_\_\_

22 北京的公共汽車上下班時間人很多。

對\_\_\_\_\_ 錯\_\_\_\_\_

23 坐地鐵要在車上買票。

對\_\_\_\_\_ 錯\_\_\_\_\_

請根據短文回答下列問題：

24 在北京夜間有沒有出租車？

\_\_\_\_\_

25 在北京坐公共汽車和地鐵哪個更便宜？

\_\_\_\_\_

26 北京的地鐵線有幾條？

---

27 早上幾點開始有地鐵？

---

28 如果要看北京本地人的生活應該去什麼地方？

---

29 在北京哪里可以找到腳踏三輪車？

---

第五部分

~~~~~  
請根據短文選擇正確的答案：

30 長江每年注入東海的水量是\_\_\_\_\_ (a)一萬億立方米

31 長江流過的地區平均每年降雨\_\_\_\_\_ (b)一千兩百毫米

(c)一千億立方米

(d)一萬兩千毫米

請根據短文判斷對錯：

32 長江是世界上最大的一條河流。

對\_\_\_\_\_ 錯\_\_\_\_\_

33 長江上游的水來自高山上的冰雪。

對\_\_\_\_\_ 錯\_\_\_\_\_

34 大量的雨水從地上和地下流入長江。

對\_\_\_\_\_ 錯\_\_\_\_\_



請根據短文在右邊找出下列詞語的意思：

35 豐富（第2、9行）\_\_\_\_\_ (a) 很有錢

36 融化（第4、6行）\_\_\_\_\_ (b) 發達

(c) 很多

(d) 變成水

37 請根據短文指出長江水都用在哪些方面（4分）：

長江水用于：

(a) 工廠 \_\_\_\_\_

(b) 醫院 \_\_\_\_\_

(c) 交通 \_\_\_\_\_

(d) 農田 \_\_\_\_\_

(e) 旅游

(f) 電力

(g) 商業

(h) 綠化

---