




IB DIPLOMA PROGRAMME
PROGRAMME DU DIPLÔME DU BI
PROGRAMA DEL DIPLOMA DEL BI

N07/3/GEOGR/BP2/SPA/TZ0/XX/RE



88075212

GEOGRAFÍA
NIVEL SUPERIOR Y NIVEL MEDIO
PRUEBA 2 - CUADERNILLO DE CONSULTA

Martes 13 de noviembre de 2007 (mañana)

INSTRUCCIONES PARA LOS ALUMNOS

- No abra este cuadernillo de consulta hasta que se lo autoricen.
- Utilice la información del cuadernillo en relación con la prueba 2.

A3. Los medios áridos y su gestión

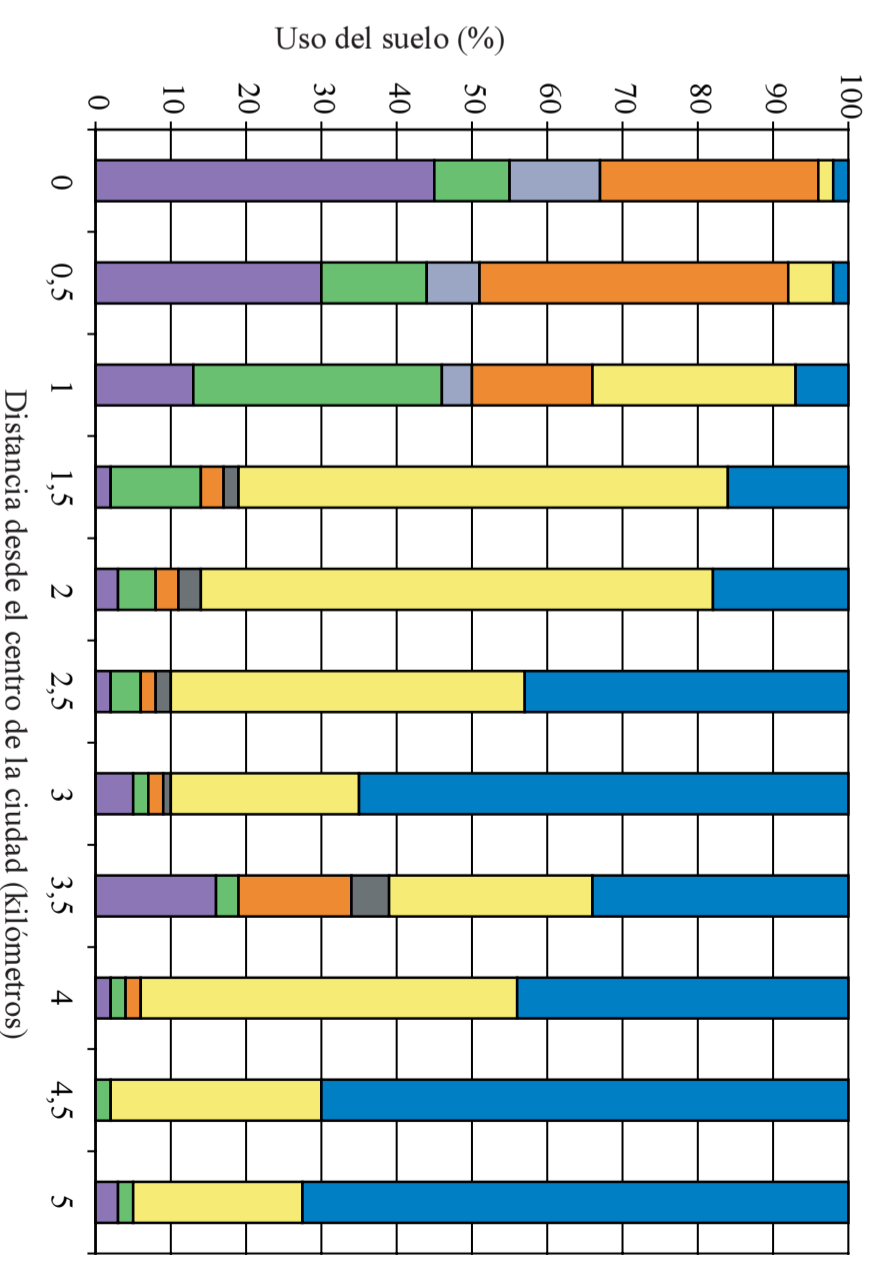
(b) La fotografía muestra el paisaje de parte de Monument Valley en Arizona (EE UU).



[Fuente: http://mazaca.com/west/monument_valley.jpg]

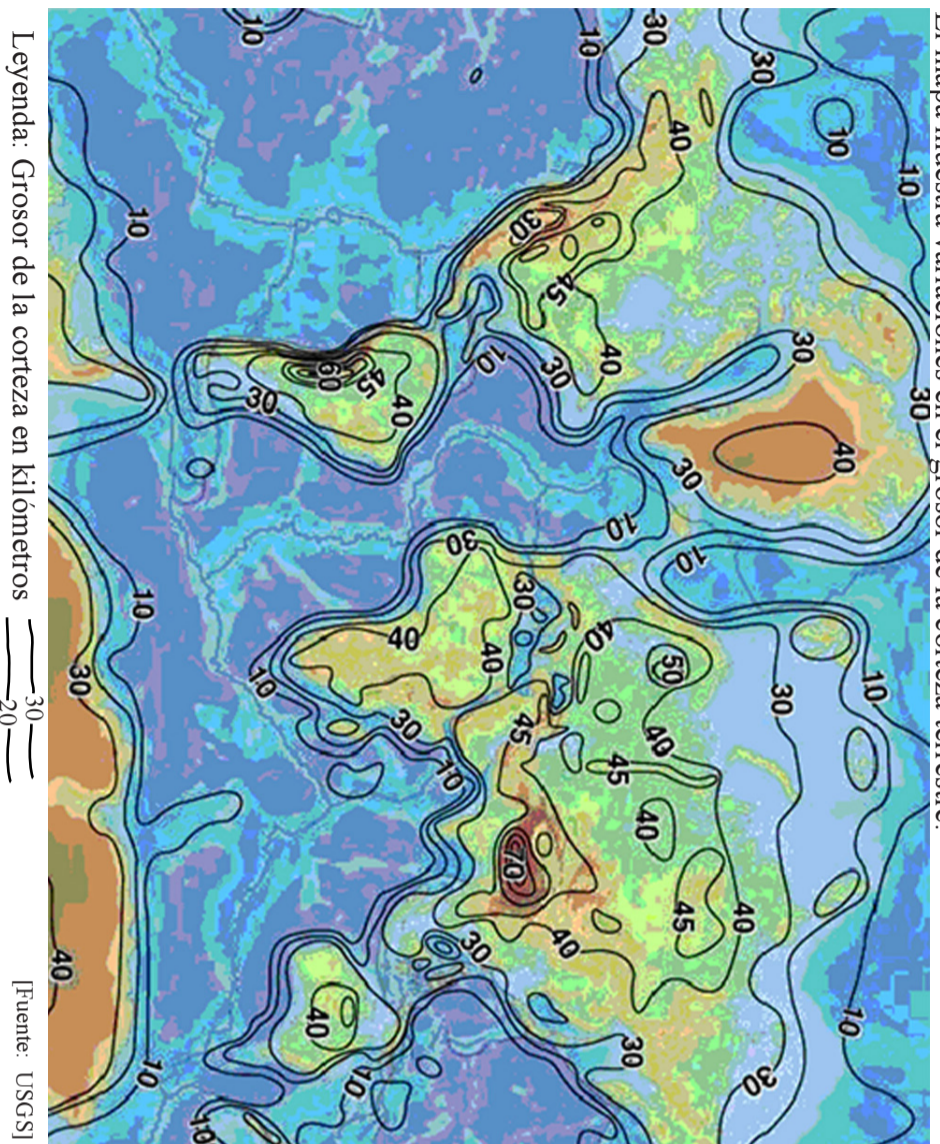
B8. Asentamientos humanos

(b) El gráfico muestra los cambios en el uso del suelo en un transecto urbano de una ciudad de Europa occidental.



A4. Procesos y riesgos litosféricos

(b) El mapa muestra variaciones en el grosor de la corteza terrestre.



[Fuente: USGS]