



ECONOMÍA
NIVEL SUPERIOR
PRUEBA 3

Miércoles 7 de mayo de 2003 (mañana)

2 horas

INSTRUCCIONES PARA LOS ALUMNOS

- No abra esta prueba hasta que se lo autoricen.
- Conteste una pregunta de la sección A y una pregunta de la sección B.
- Utilice diagramas cuando corresponda.

SECCIÓN A

Conteste **una** pregunta de esta sección.

Pregunta 1

Estudie el texto que se muestra a continuación y conteste las siguientes preguntas.

Los cuatro pasos del FMI para la condena económica

- 1 Robert Stiglitz, antiguo Director Económico del Banco Mundial, cree que existen **cuatro pasos** típicos de los programas de ayudas estructurales:
- 2 El **Primer Paso** es la **privatización**: Stiglitz señala que en lugar de poner objeciones, muchos políticos no han tenido ningún problema en vender sus empresas de agua y electricidad; de hecho, “se les abrían los ojos como platos” ante la posibilidad de llevarse comisiones por recortar unos cuantos miles de millones del precio de venta.
- 3 Los círculos de poder, apoyados por Estados Unidos, despojaron a Rusia de sus valores industriales, con lo que la producción nacional se quedó reducida casi a la mitad.
- 4 El **Segundo Paso** es la liberalización del mercado de capitales. En teoría, esto haría que el capital de inversión pudiera entrar y salir. Sin embargo, en ocasiones el dinero se limita a salir, como sucede en Indonesia y en Brasil.
- 5 Cuando esto sucede, para persuadir a los especuladores de que retornen los fondos de capital que pertenecen al país, el FMI exige que estos países eleven sus tipos de interés de una forma sustancial.
- 6 “El resultado era predecible”, afirma Stiglitz. Los tipos de interés elevados arruinan el valor de los bienes inmuebles, atacan directamente la producción industrial y disminuyen la riqueza del país.
- 7 El **Tercer Paso** es la **fijación de precios basada en el mercado**, que consiste fundamentalmente en elevar el precio de los alimentos, el agua y el gas utilizado para cocinar. Esto conduce al paso “Tres y medio”, que Stiglitz denomina “los disturbios del FMI”.
- 8 Dichos “disturbios” predecibles, como cuando el FMI suprimió las subvenciones de alimentación y combustible a los pobres en Indonesia en 1998, provocando múltiples desórdenes callejeros.
- 9 Los “disturbios” del FMI provocan nuevas fugas de capital y la bancarrota del estado. Este “incendio” económico tiene su parte buena para los extranjeros, que pueden quedarse con los activos que quedan a precios de saldo.
- 10 De este modo surge un modelo claro, en el que hay muchos perdedores, pero los ganadores claramente parecen ser los bancos de países occidentales y el Tesoro norteamericano.
- 11 Así se llega al **Paso Cuatro**: el libre comercio. Los europeos y norteamericanos en la actualidad están derribando las barreras a las ventas en Asia, Sudamérica y África, a la vez que cierran a cal y canto sus propios mercados a la agricultura del Tercer Mundo.
- 12 A Stiglitz le preocupan dos aspectos en lo que concierne a la estrategia del FMI y del Banco Mundial: en primer lugar, dicha estrategia debilita las democracias, ya que estos planes se preparan en secreto; en segundo lugar, esta estrategia no parece ser muy efectiva: por ejemplo, la renta de África cayó en un 23% después de se le prestara “ayuda” estructural.

[Source: Adaptado de Gregory Palast, *Observer*, 29 de abril de 2001]

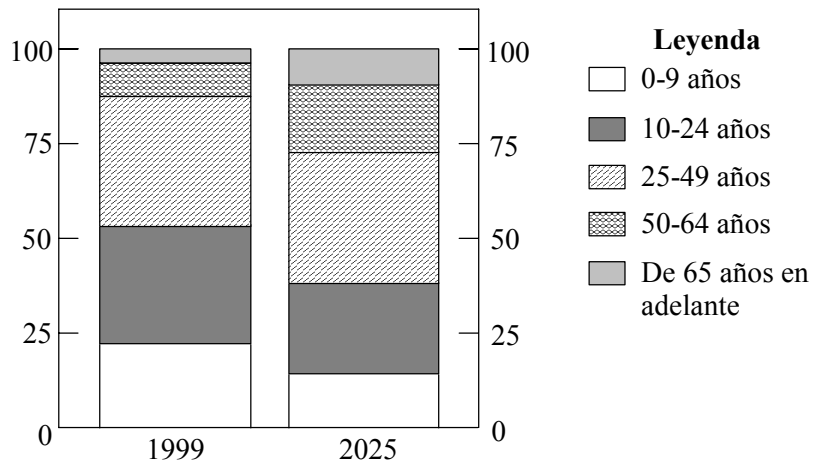
- (a) Con referencia al artículo, defina los siguientes términos, que están marcados en negrita en el texto.
- (i) privatización (párrafo 2) *[2 puntos]*
 - (ii) fijación de precios basada en el mercado (párrafo 7) *[2 puntos]*
- (b) Utilice un gráfico de demanda y oferta para explicar por qué la fijación de precios basada en el mercado (párrafos 7 y 8) puede tener como resultado unos precios más elevados. *[4 puntos]*
- (c) Explique por qué el FMI y el Banco Mundial exigen que los países necesitados de fondos de capital eleven sus tipos de interés (párrafos 4 y 5). *[4 puntos]*
- (d) Discuta **una** de las consecuencias de las políticas del FMI y del Banco Mundial en lo que afecta al libre comercio para cada uno de los siguientes.
- (i) los países industrializados avanzados *[3 puntos]*
 - (ii) los países menos desarrollados cuya economía se basa en la agricultura *[3 puntos]*
- (e) Basándose en el texto y en su conocimiento de la economía, evalúe el punto de vista que afirma que las políticas del FMI y del Banco Mundial tienen como objetivo favorecer los intereses de los países más desarrollados a costa de los menos desarrollados. *[7 puntos]*

Pregunta 2

Estudie los datos que se muestran a continuación y conteste las siguientes preguntas.

Punto 1

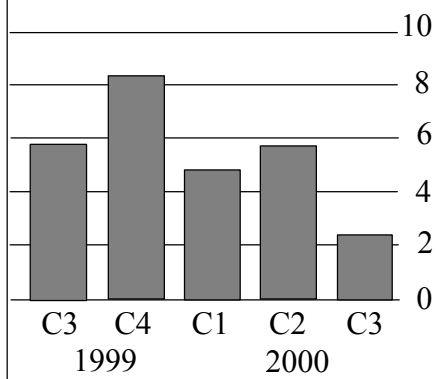
Población mexicana estimada en 1999 y en 2025
Grupos de edad como porcentajes de la población total



[Fuente: OCDE]

Punto 2

PIB de EEUU
% de incremento respecto del trimestre anterior a tasa anual

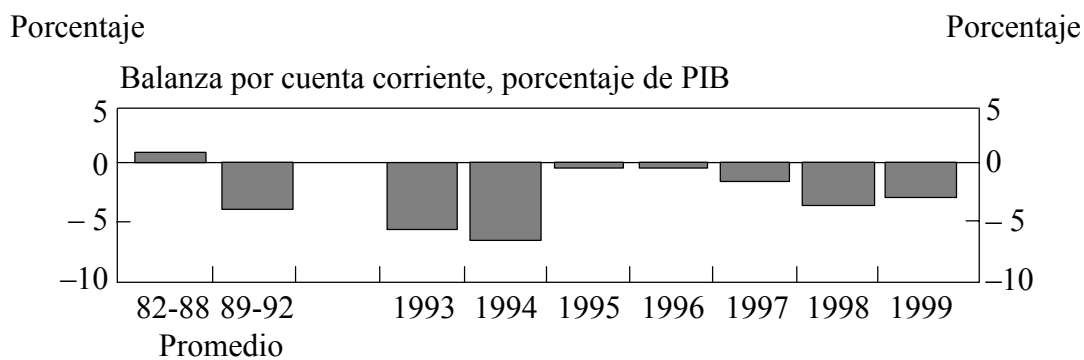
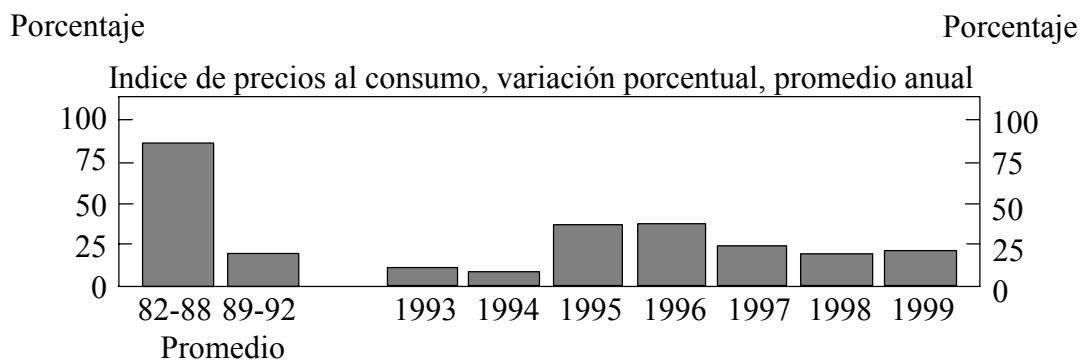
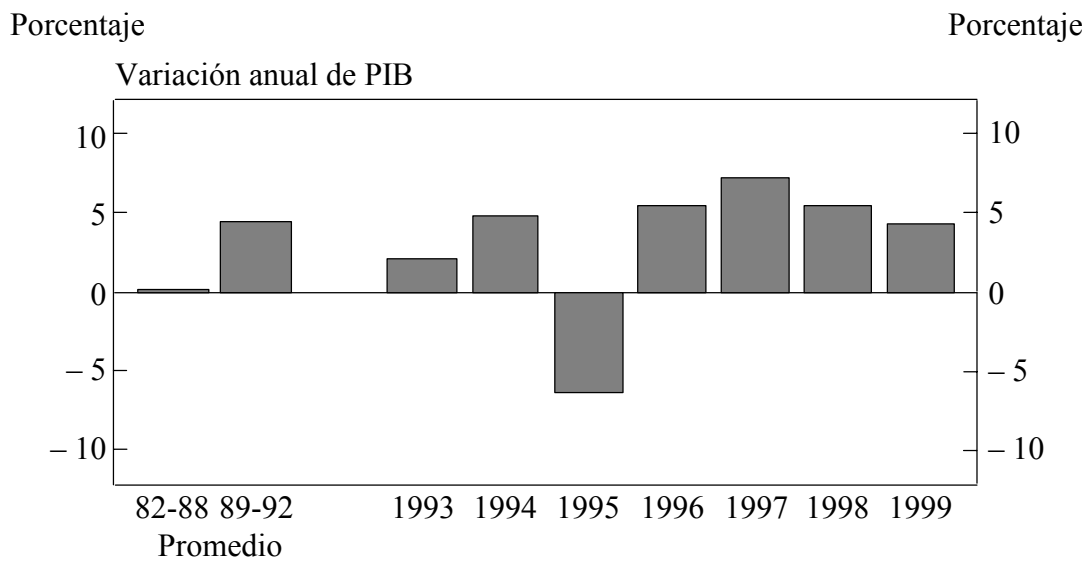


Cuando EEUU estornuda, el resto del mundo se constipa. Pero ¿quién sufre más cuando la economía norteamericana empeora? Es fácil saberlo observando la cuota de PIB que un país exporta a EEUU: según este factor, Canadá y México, los países limítrofes con EEUU por el norte y por el sur respectivamente, son los que se enfrentan a los mayores riesgos.

[Fuente: Agencia de Análisis Económico]

Punto 3

Resultados económicos de México



[Fuente: Instituto Nacional de Estadística Geografía e Informática (INEGI): OECD, *Presupuestos Nacionales*]

- (a) Respecto al Punto 1, describa
- (i) los cambios proyectados en la estructura demográfica de México entre 1999 y 2025. *[2 puntos]*
 - (ii) el impacto probable de estos cambios en el gasto público y los impuestos de México. *[3 puntos]*
- (b) Usando los datos que se proporcionan
- (i) explique el término balanza por cuenta corriente, porcentaje de PIB (Punto 3). *[2 puntos]*
 - (ii) describa los cambios del PIB de EEUU durante el período indicado (Punto 2). *[2 puntos]*
 - (iii) explique cómo los cambios que ha identificado en la pregunta (b)(ii) pueden afectar a las exportaciones a EEUU de México. *[4 puntos]*
- (c) Explique otras **dos** formas en que puede verse afectada la macroeconomía de México por cambios en el PIB de EEUU. *[5 puntos]*
- (d) Usando los datos que se proporcionan y su conocimiento de la economía, evalúe los resultados de la economía mexicana durante los años 90. *[7 puntos]*

SECCIÓN B

Conteste **una** pregunta de esta sección.

Pregunta 3

- (a) ¿Qué papel tienen los precios en la asignación de recursos en economías de libre mercado? *[12 puntos]*
- (b) Evalúe las opciones de que disponen los gobiernos para superar los fallos del mercado que surgen debido a la producción y el consumo de bienes de demérito. Ilustre su respuesta con ejemplos siempre que sea posible. *[13 puntos]*

Pregunta 4

- (a) Explique las diversas formas en que puede surgir un poder monopolista. *[10 puntos]*
- (b) ¿Deberían los gobiernos tratar de controlar el crecimiento del poder monopolista? *[15 puntos]*

Pregunta 5

Discuta el punto de vista que afirma que el principal objetivo de la política económica de un gobierno debería ser el logro de la estabilidad de los precios. *[25 puntos]*

Pregunta 6

- (a) Describa las principales barreras al desarrollo económico que pueden sufrir los países. *[12 puntos]*
- (b) Evalúe el punto de vista que afirma que es más probable que los países con una distribución de la renta y las riquezas más equitativa experimenten mayores niveles de desarrollo. *[13 puntos]*