



ÉCONOMIE
NIVEAU SUPÉRIEUR
ÉPREUVE 3

Mercredi 7 mai 2003 (matin)

2 heures

INSTRUCTIONS DESTINÉES AUX CANDIDATS

- N'ouvrez pas cette épreuve avant d'y être autorisé.
- Section A : répondez à une question.
Section B : répondez à une question.
- Utilisez des diagrammes dans les cas appropriés.

SECTION A

Répondez à **une** question de cette section.

Question 1

Lisez l'article ci-dessous et répondez aux questions qui suivent.

La damnation du FMI en quatre étapes

- 1 D'après Robert Stiglitz, l'ancien économiste en chef de la Banque Mondiale, il existe **quatre étapes** qui caractérisent les programmes d'assistance structurelle :
- 2 **Première étape : la privatisation.** Stiglitz fait remarquer que certains politiciens ont vendu allègrement leurs compagnies d'électricité et d'eau au lieu de s'y opposer. « Vous auriez vu leurs yeux s'écarquiller » à l'idée de recevoir une commission en échange d'une diminution de quelques milliards du prix de vente.
- 3 Les élites au pouvoir soutenus par le gouvernement américain ont dépouillé la Russie de ses actifs industriels, si bien que la production nationale fut réduite de près de la moitié.
- 4 **Deuxième étape :** la libéralisation du marché des capitaux. En théorie, cela permet les entrées et les sorties de capitaux. Malheureusement, comme en Indonésie et au Brésil, souvent les capitaux ne font que sortir.
- 5 Et, quand ceci se produit, pour encourager les spéculateurs à réinvestir leurs capitaux dans un pays, le FMI exige que ce pays augmente substantiellement ses taux d'intérêt.
- 6 « Le résultat était prévisible » déclare Stiglitz. Des taux d'intérêt plus élevés dépriment le marché de l'immobilier, massacrent la production industrielle et vident les caisses des États.
- 7 **Troisième étape : la fixation des prix en fonction du marché** – essentiellement en augmentant les prix des denrées alimentaires, de l'eau et du gaz de ville. Nous voici alors à mi-chemin entre la troisième et la quatrième étape : ce que Stiglitz nomme « le déchaînement provoqué par le FMI ».
- 8 Le déchaînement provoqué par le FMI est douloureusement prévisible, comme lorsque le FMI a supprimé en 1998 les subventions sur les denrées alimentaires et le carburant dont bénéficiaient les pauvres en Indonésie. Des émeutes ont éclaté en Indonésie.
- 9 Le déchaînement provoqué par le FMI entraîne la fuite des capitaux et la faillite des gouvernements. Cette incendie économique volontaire a son bon côté pour les étrangers qui peuvent alors récupérer les actifs restants au prix le plus bas.
- 10 Une tendance émerge. Il y a beaucoup de perdants, mais les grands gagnants semblent être les banques occidentales et le Trésor américain.
- 11 Nous arrivons désormais à la **quatrième étape :** le libre-échange. Aujourd'hui, les Européens et les Américains font tomber les barrières pour vendre en Asie, en Amérique Latine et en Afrique alors qu'ils ferment leurs propres marchés à l'agriculture du Tiers Monde.
- 12 Stiglitz a deux craintes en ce qui concerne la stratégie du FMI et de la Banque Mondiale. Premièrement, elle menace la démocratie puisque les plans sont conçus en secret. Deuxièmement, elle n'est pas efficace : par exemple, avec l'aide de « l'assistance » structurelle, le revenu de l'Afrique a chuté de 23 %.

[Source : d'après Gregory Palast, *Observer*, 29 avril 2001]

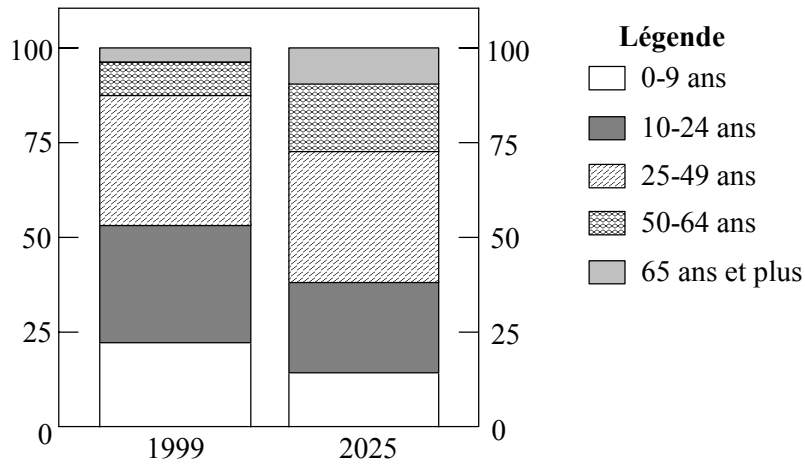
- (a) En vous reportant à l'article, définissez les termes suivants en caractères gras.
- (i) privatisation (paragraphe 2) *[2 points]*
 - (ii) fixation des prix en fonction du marché (paragraphe 7) *[2 points]*
- (b) À l'aide d'un diagramme de l'offre et de la demande, expliquez pourquoi la fixation des prix en fonction du marché (paragraphe 7 et 8) peut entraîner l'augmentation des prix. *[4 points]*
- (c) Expliquez pourquoi le FMI et la Banque Mondiale exigent que les pays ayant besoin de capitaux augmentent leurs taux d'intérêt (paragraphe 4 et 5). *[4 points]*
- (d) Présentez **une** conséquence des politiques du FMI et de la Banque Mondiale concernant le libre-échange pour chacun des groupes de pays suivants.
- (i) les pays industrialisés avancés *[3 points]*
 - (ii) les pays agricoles moins avancés *[3 points]*
- (e) À l'aide du texte et de vos connaissances en économie, discutez l'affirmation selon laquelle les politiques du FMI et de la Banque Mondiale sont conçues pour avantager les intérêts des pays plus développés aux dépens des pays moins avancés. *[7 points]*

Question 2

Lisez les documents ci-dessous et répondez aux questions qui suivent.

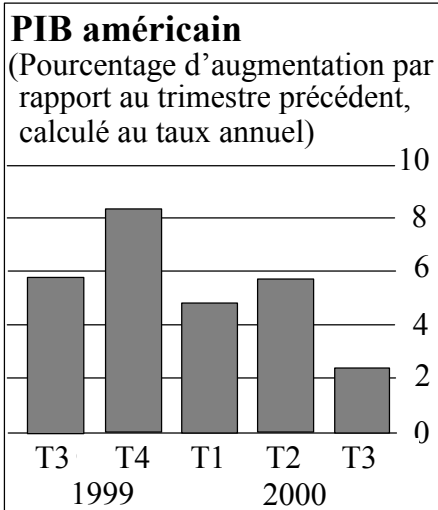
Graphique 1

Estimation de la population mexicaine en 1999 et en 2025
Groupes d'âge en pourcentage de la population totale



[Source: OCDE]

Graphique 2



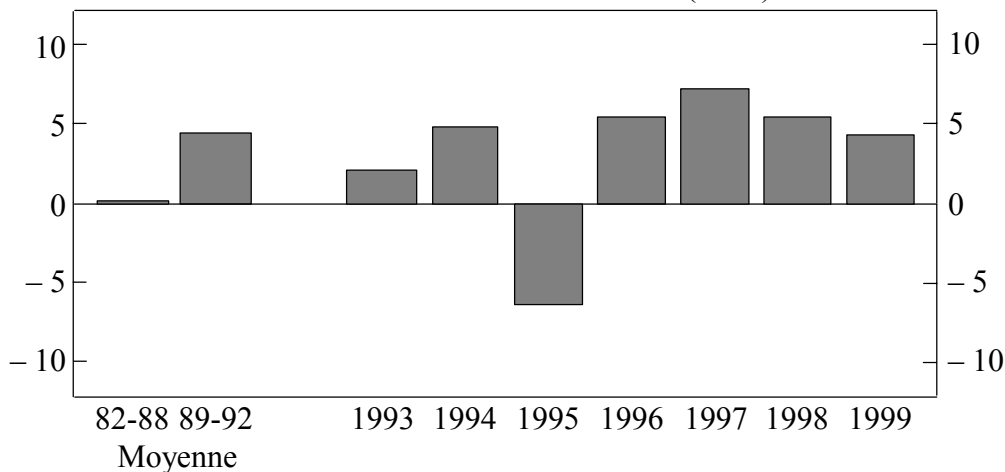
Quand les États-Unis éternuent, le reste du monde s'enrhume. Mais qui souffre le plus quand l'économie américaine entre en récession ? Pour répondre, le plus simple est de s'intéresser à la part du PIB d'un pays exportée aux États-Unis. Sur la base de ce critère, le Canada et le Mexique, voisins des États-Unis au nord et au sud, affrontent les plus grands risques.

[Source: Bureau d'Analyse Économique]

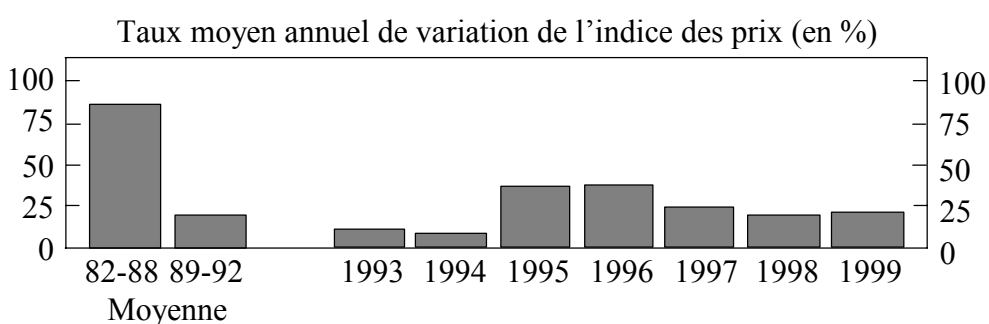
Graphique 3

Indicateurs économiques pour le Mexique

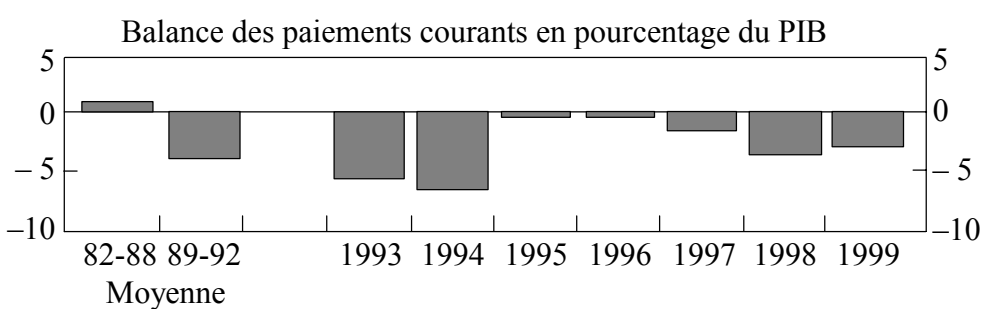
Pour cent Taux annuel de variation du PIB (en %) Pour cent



Pour cent Taux moyen annuel de variation de l'indice des prix (en %) Pour cent



Pour cent Balance des paiements courants en pourcentage du PIB Pour cent



[Source : Instituto Nacional de Estadística Geografía e Informática (INEGI) : OCDE, Comptes Nationaux.]

- (a) En vous reportant au graphique 1, décrivez
- (i) les changements anticipés de la structure de la population du Mexique entre 1999 et 2025 *[2 points]*
 - (ii) l'impact éventuel de ces changements sur les dépenses publiques et la fiscalité au Mexique. *[3 points]*
- (b) À l'aide des données fournies
- (i) expliquez le terme « balance des paiements courants en pourcentage du PIB » (graphique 3) *[2 points]*
 - (ii) décrivez les changements survenus dans le PIB aux États-Unis pendant la période étudiée (graphique 2) *[2 points]*
 - (iii) expliquez comment les changements identifiés dans la question (b)(ii) ci-dessus peuvent avoir une incidence sur les exportations du Mexique aux États-Unis. *[4 points]*
- (c) Présentez **deux** autres variables économiques dont les variations par rapport au PIB des États-Unis pourraient influencer l'économie du Mexique. *[5 points]*
- (d) À l'aide des données et de vos connaissances en économie, analysez les résultats de l'économie mexicaine pendant les années 1990. *[7 points]*

SECTION B

Répondez à **une** question de cette section.

Question 3

- (a) Quel rôle jouent les prix dans l'allocation des ressources dans les économies de marché ? *[12 points]*
- (b) Quelles sont les options qui s'offrent aux gouvernements pour surmonter la défaillance des marchés résultant de la production et de la consommation de biens à externalité négative ? Illustrez si possible votre réponse avec des exemples. *[13 points]*

Question 4

- (a) Exposez brièvement les conditions d'émergence du pouvoir de monopole. *[10 points]*
- (b) Est-ce que les gouvernements devraient chercher à contrôler la croissance du pouvoir de monopole ? *[15 points]*

Question 5

Que pensez-vous du point de vue selon lequel la stabilité des prix devrait devenir l'objectif principal de la politique économique du gouvernement ? *[25 points]*

Question 6

- (a) Décrivez les principales barrières au développement économique que les pays peuvent rencontrer. *[12 points]*
- (b) Que pensez-vous du point de vue selon lequel les pays avec une distribution plus égalitaire du revenu et des richesses ont plus de chance de connaître de plus hauts niveaux de développement ? *[13 points]*