

**ECONOMÍA  
NIVEL SUPERIOR  
PRUEBA 1**

Lunes 4 de noviembre de 2002 (tarde)

1 hora

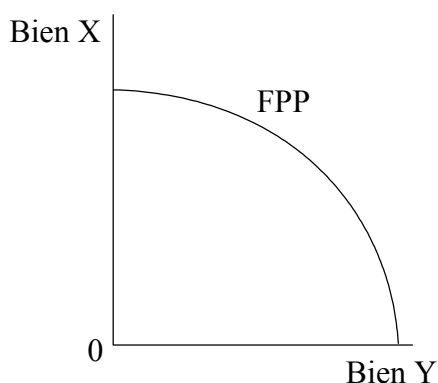
---

**INSTRUCCIONES PARA LOS ALUMNOS**

- No abra esta prueba hasta que se lo autoricen.
- Conteste todas las preguntas.
- Seleccione la respuesta que considere más apropiada para cada pregunta e indique su elección en la hoja de respuestas provista.

1. En economía, un bien “escaso” es aquel que:
  - A. lo suministra el gobierno.
  - B. tiene un coste de oportunidad.
  - C. tiene una utilidad creciente a medida que aumenta su consumo.
  - D. se conoce como un bien Veblen.

2. El siguiente gráfico muestra una Frontera de Posibilidades de la Producción (FPP).



La FPP, a corto plazo, se curva hacia fuera:

- A. porque el bien X es un bien económico y el bien Y es un bien libre.
  - B. por la ley de los rendimientos decrecientes.
  - C. porque el bien X es un bien de capital y el bien Y es un bien de consumo.
  - D. por la ley de ventaja comparativa.
3. La economía positiva se distingue de la economía normativa en que la economía positiva se basa en:
    - A. la suposición de que el gobierno debería fijar las prioridades.
    - B. un comportamiento económico racional.
    - C. proposiciones que pueden verificarse mediante la observación empírica.
    - D. la maximización del bienestar económico.

4. El balance de situación semanal en dólares de una empresa individual es el siguiente:

Ingresos totales	200
Renta	50
Salarios	100
Pagos de intereses	25

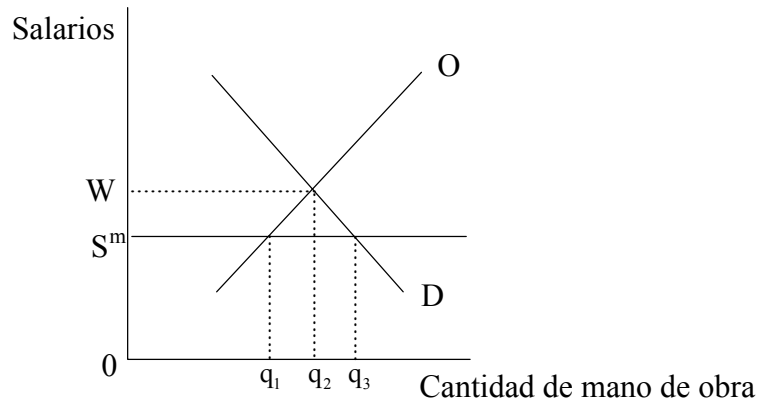
El/la empresario/a cree que podría obtener un sueldo de 50 dólares semanales trabajando por cuenta ajena. Según un economista, el/la empresario/a esta semana ha tenido:

- A. una pérdida de 25 dólares.
  - B. una pérdida de 50 dólares.
  - C. un beneficio de 25 dólares.
  - D. un beneficio de 200 dólares.
5. Según un artículo periodístico, *“Las medidas del gobierno de Tailandia, como por ejemplo las subvenciones a la exportación tienen como objetivo ayudar a pequeños terratenientes en Tailandia”*:

La decisión del gobierno de Tailandia quedaría reflejada en un gráfico de demanda y oferta de la siguiente forma:

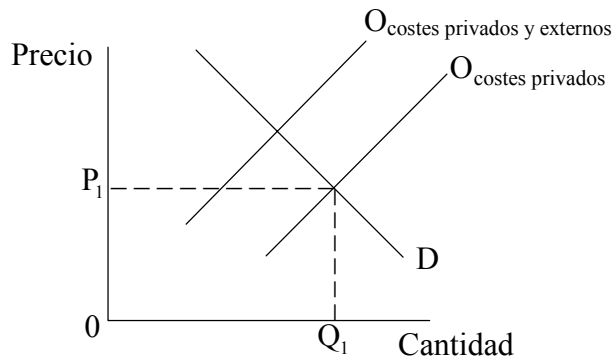
- A. como un desplazamiento hacia la izquierda de la curva de la oferta.
- B. como un desplazamiento hacia la derecha de la curva de la oferta.
- C. como un desplazamiento hacia la izquierda de la curva de la demanda.
- D. como un desplazamiento hacia la derecha de la curva de la demanda.

6. El siguiente gráfico muestra el mercado laboral de un país en el que se introduce un salario mínimo en el punto  $S^m$ :



El efecto del salario mínimo será:

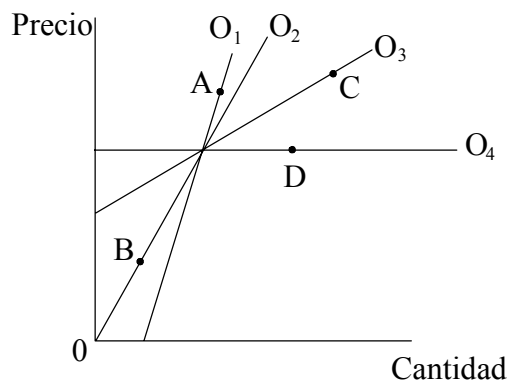
- A. desempleo  $q_1$   $q_3$ .
  - B. escasez de mano de obra  $q_1$   $q_3$ .
  - C. el empleo permanece sin cambio alguno en  $0q_2$ .
  - D. un exceso de demanda de mano de obra.
7. El siguiente gráfico muestra el mercado de un artilugio determinado:



Una empresa que produce al precio  $P_1$  y la cantidad  $Q_1$  :

- A. tendría eficiencia asignativa.
- B. estaría creando externalidades positivas de producción.
- C. estaría recibiendo subvenciones para incrementar la oferta.
- D. estaría haciendo una asignación inadecuada de los recursos.

8. Un estudiante escucha música mientras hace los ejercicios de economía. Otro estudiante escucha también música y además la disfruta. Este sería un ejemplo de:
- un coste de producción externo.
  - un coste de consumo externo.
  - un beneficio de producción externo.
  - un beneficio de consumo externo.
9. Un bolígrafo que se ha usado para firmar un documento famoso se vende en una subasta por 11.000 dólares USA. Un economista justificaría lo elevado del precio del bolígrafo valiéndose del concepto de:
- un bien Giffen.
  - la elasticidad precio de la oferta igual a cero.
  - la elasticidad precio de la demanda igual a menos uno.
  - los efectos renta y sustitución de los cambios de precio.
10. El siguiente gráfico muestra cuatro curvas de oferta diferentes para el bien X:



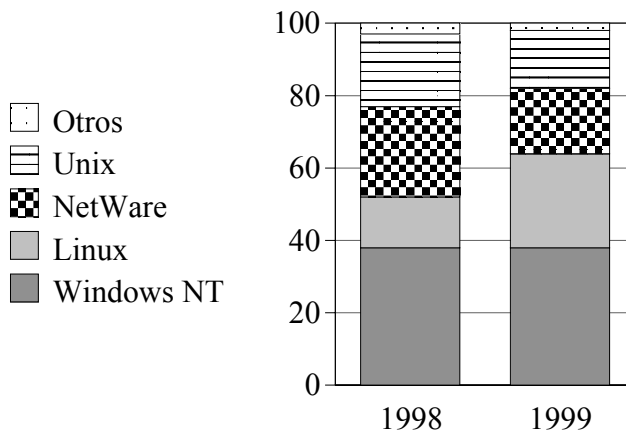
¿Cuál de las siguientes afirmaciones sobre la elasticidad de la oferta en los puntos A, B, C y D es correcta?

- No es posible hacer una comparación de elasticidades sin valores numéricos en los ejes.
- La elasticidad de la oferta en el punto B es mayor que la elasticidad de la oferta en el punto C.
- La elasticidad de la oferta en el punto D es menor que la elasticidad de la oferta en el resto de puntos.
- La elasticidad de la oferta en el punto A es menor que la elasticidad de la oferta en el punto C.

11. La elasticidad cruzada de la demanda de la mantequilla respecto a la margarina muestra:
- A. que tanto los productores de mantequilla como los de margarina cambian los precios cuando cambia la renta de los consumidores.
  - B. que un cambio en el precio de la mantequilla afecta a la cantidad de margarina que se compra.
  - C. que los productores de mantequilla cambian la producción en respuesta a un cambio de precio.
  - D. que un cambio del precio de la margarina afecta a la cantidad de mantequilla que se compra.

12. El siguiente cuadro muestra la cuota de mercado de empresas que suministran sistemas operativos de computadores:

**Sistemas operativos de servidores, % cuota de mercado**



¿Cuál de las siguientes opciones describe mejor el tipo de estructura de mercado que se muestra en el cuadro?

- A. Competencia perfecta
- B. Monopolio
- C. Oligopolio
- D. Liderazgo de precios

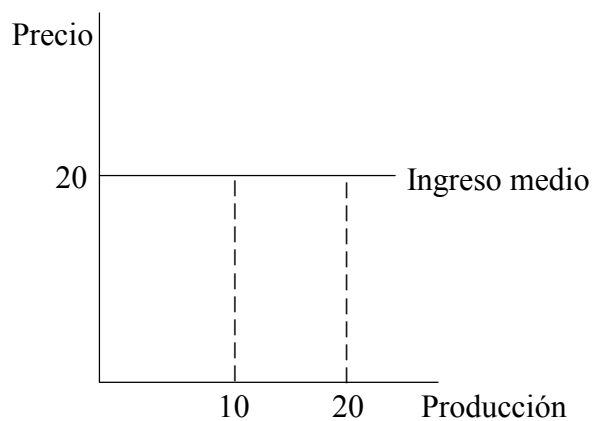
13. La siguiente tabla muestra cómo varían los costes de producción de una empresa en función de su producción:

Producción	Costes Fijos Medios (\$)	Costes Variables Totales (\$)
5	20	20
10	10	50
20	5	80
25	4	100

El coste marginal por unidad del incremento de la producción de 20 a 25 unidades es:

- A. 0.
- B. 1.
- C. 4.
- D. 20.

14. Obsérvese el siguiente gráfico:



¿Cuál de los siguientes representa el ingreso marginal de la empresa por generar una unidad extra de producción?

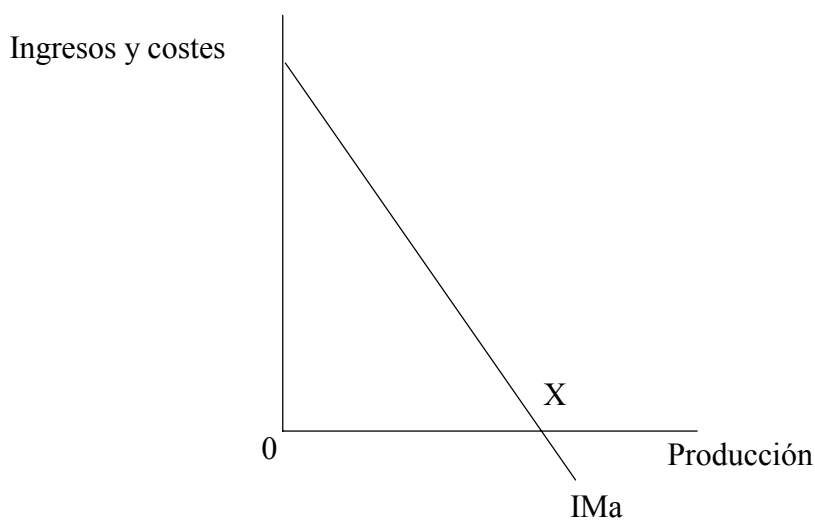
- A. 0
- B. 20
- C. 200
- D. 400

15. Una empresa que maximiza los beneficios se encuentra en equilibrio a largo plazo en condiciones de competencia monopolística. Su precio y producción presentan la/s siguiente/s característica/s:

- I. el coste marginal es igual al ingreso marginal.
- II. el precio es igual al coste medio.
- III. el ingreso total está en el máximo y el coste medio total está en el mínimo.

- A. Solamente I
- B. Solamente I y II
- C. Solamente II y III
- D. I, II y III

16. Obsérvese el siguiente gráfico, que muestra la curva de ingreso marginal de una empresa que maximiza los beneficios:



El punto X muestra el nivel de producción en que la empresa:

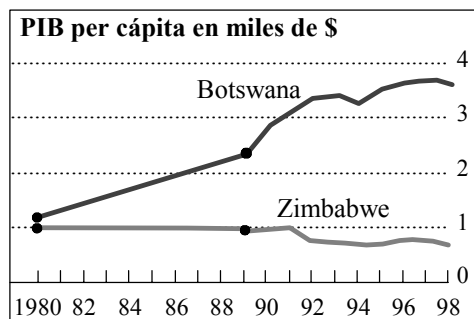
- A. maximizará el ingreso total.
- B. maximizará los beneficios.
- C. minimizará los costes.
- D. maximizará la producción.



17. La diferencia entre el valor de la renta nacional de un país a precio de mercado y su renta nacional a coste de factores se explica por:

- A. impuestos indirectos (sobre el gasto) y subvenciones.
- B. la tasa de inflación.
- C. el consumo de capital (amortización).
- D. los pagos de transferencia.

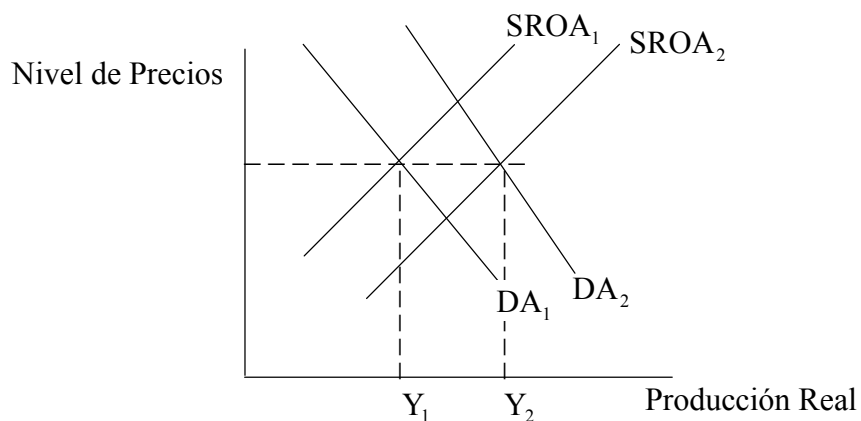
18. Obsérvese el siguiente cuadro:



¿Cuál de las siguientes conclusiones obtendría un economista de este cuadro?

- A. La inflación ha sido más alta en Botswana que en Zimbabwe en los años 90.
- B. El PIB fue mayor en Botswana que en Zimbabwe en 1998.
- C. Botswana tuvo una tasa de crecimiento económico mayor que Zimbabwe en los años 90.
- D. Botswana y Zimbabwe tuvieron resultados casi idénticos en el Índice de Desarrollo Humano en 1980.

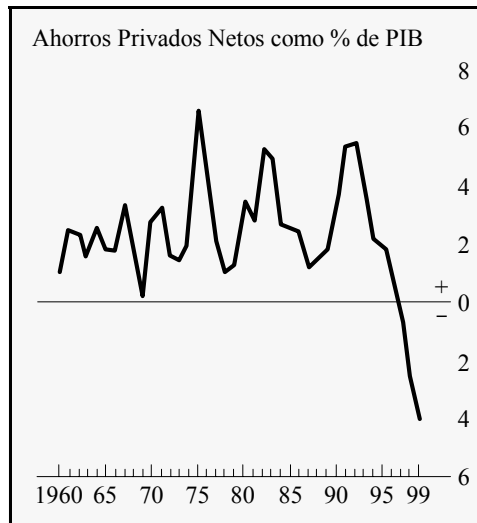
19. Esta pregunta hace referencia al siguiente gráfico de demanda agregada / oferta agregada:



El movimiento de  $Y_1$  a  $Y_2$  del gráfico podría deberse a:

- A. un incremento de los tipos de interés y del salario mínimo.
- B. un incremento del gasto del consumidor y de la productividad.
- C. una caída de las exportaciones y un incremento de los precios del petróleo.
- D. una disminución de los tipos de interés y un incremento del índice de inflación.

20. El siguiente gráfico muestra los ahorros privados netos de Estados Unidos en % de PIB:

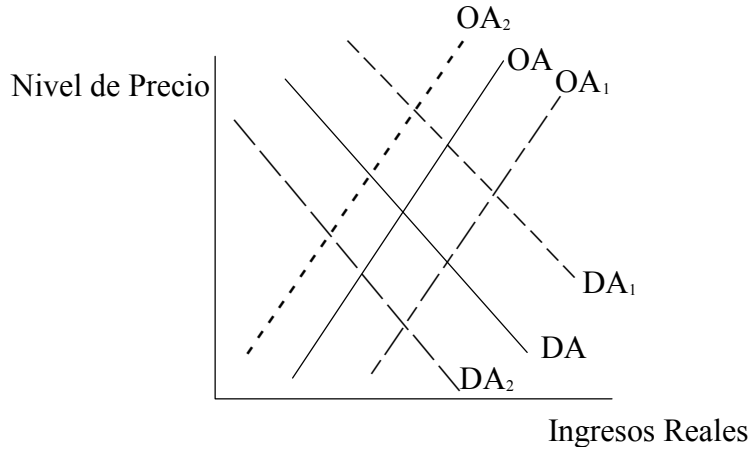


Si todo lo demás permanece igual, podría llegarse a la siguiente conclusión:

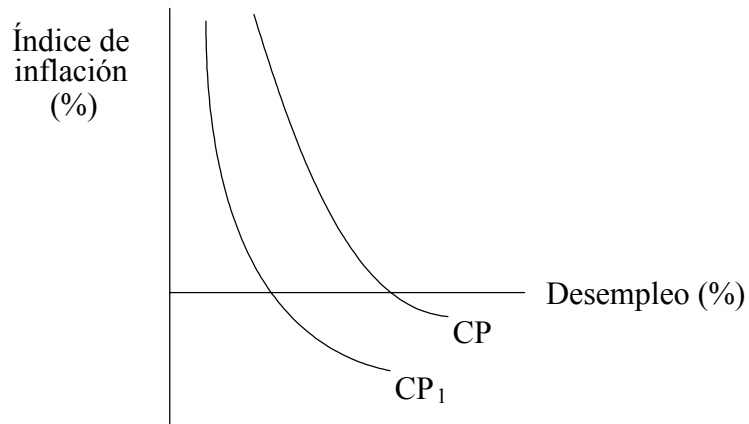
- A. es muy probable que haya habido un incremento destacado de la deuda pública entre 1975 y 1978.
- B. hasta 1997, el gobierno mantuvo un índice de ahorro positivo.
- C. el valor del multiplicador aumentó de forma regular entre 1993 y 1999.
- D. el desempleo aumentó de forma regular entre 1993 y 1999.

21. Esta pregunta se basa en un gráfico de demanda y oferta agregadas (gráfico 1) y en un gráfico de la curva Phillips (gráfico 2):

**Gráfico 1**



**Gráfico 2**



Basándose en el análisis Keynesiano, el movimiento de la curva Phillips (CP) en el gráfico 2 desde CP a CP<sub>1</sub> sería el resultado de **uno** de los siguientes desplazamientos de la Demanda Agregada (DA) o de la Oferta Agregada (OA) del gráfico 1:

- A. de DA a DA<sub>1</sub>
- B. de DA a DA<sub>2</sub>
- C. de OA a OA<sub>1</sub>
- D. de OA a OA<sub>2</sub>

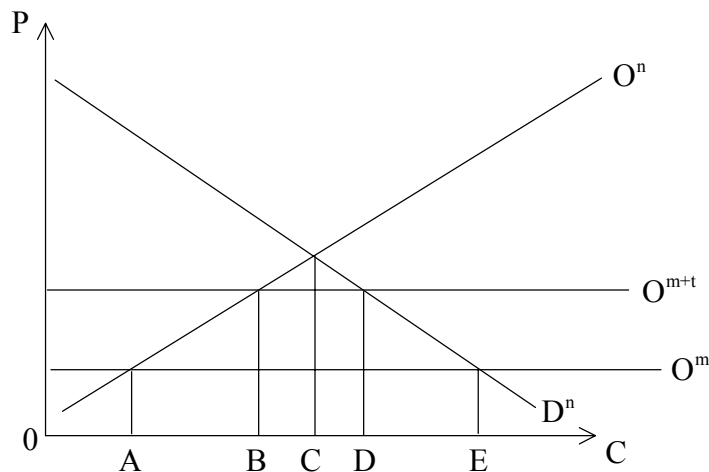
- 22.** ¿**Cuál** de las siguientes opciones describe mejor el desempleo estructural?
- A. Los trabajadores desempleados no pueden encontrar trabajo porque no tienen la cualificación adecuada.
  - B. Los estudiantes son incapaces de encontrar trabajo durante sus vacaciones.
  - C. Una persona está desempleada de forma temporal como consecuencia de cambiar de un trabajo a otro.
  - D. Los trabajadores de las economías dirigidas tienen empleo pero en realidad no tienen trabajo que hacer.
- 23.** ¿**Cuál** de las siguientes afirmaciones sobre la curva Phillips a largo plazo es cierta?
- A. Es vertical en la tasa natural de desempleo.
  - B. Refleja la relación inversa entre inflación y desempleo.
  - C. Se mueve fácilmente hacia la derecha usando técnicas de gestión de la demanda.
  - D. Ilustra el resultado cuando el índice de inflación previsto es mayor que el índice de inflación real.
- 24.** Para una economía en recesión, ¿**cuál** de las siguientes opciones se consideraría una herramienta efectiva de política monetaria?
- A. El incremento del salario mínimo
  - B. El aumento de las subvenciones a empresas nacientes
  - C. La compra de moneda nacional en el mercado de divisas por los Bancos Centrales
  - D. La reducción de los tipos de interés

25. Que un mismo bien tenga un precio distinto en dos países diferentes se puede explicar por diferencias en:

- I. el nivel de tecnología de los dos países.
- II. la dotación de recursos.
- III. las preferencias del consumidor.

- A. Solamente I
- B. Solamente I y II
- C. Solamente II y III
- D. I, II y III

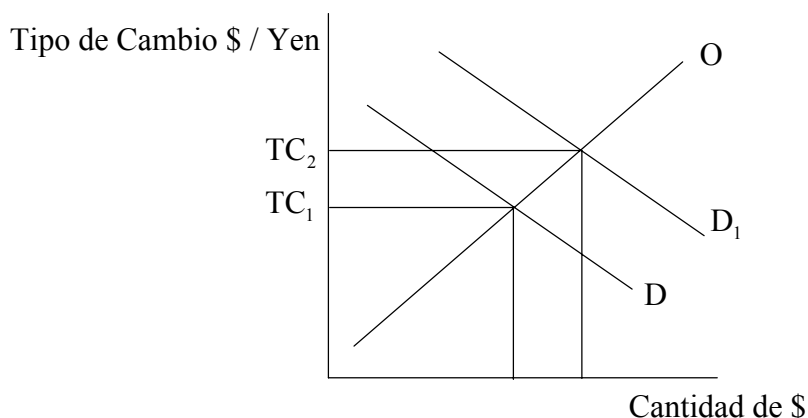
26. El siguiente gráfico muestra la posición de un país que inicialmente practica comercio libre;  $O^n$  representa la oferta nacional,  $D^n$  representa la demanda nacional, y  $O^m$  representa la curva mundial de oferta.



Tras la imposición de una tarifa, la oferta mundial varía a  $O^{m+t}$ . Esto tiene como resultado:

- A. un incremento en la producción nacional de 0A a 0B.
- B. una reducción de las importaciones de 0E a BD.
- C. un incremento en los ingresos fiscales de BD a AE.
- D. una reducción en el consumo nacional de 0E a 0C.

27. En el país X la suma de las elasticidades precio de la demanda de las exportaciones y las importaciones es mayor que uno. El país X también soporta un desempleo alto y un déficit grande por cuenta corriente. ¿Cuál de las siguientes medidas sería la más adecuada en esta situación?
- Una revaluación de la moneda
  - Una reducción de impuestos
  - Una reducción de los tipos de interés
  - Una devaluación de la moneda
28. ¿Cuál de los siguientes titulares periodísticos se basa en una comprensión correcta del concepto de fijación del tipo de cambio?
- La caída de los tipos de interés en México lleva a una apreciación del Peso.
  - La elevada demanda mundial de exportaciones japonesas fortalece el Yen.
  - Los índices de inflación elevados en Brasil y Venezuela pueden disparar sus exportaciones.
  - Se cree que una caída de los ingresos reales en Estados Unidos es la causa del incremento de las importaciones.
29. El siguiente gráfico muestra el tipo de cambio del Dólar Americano (\$) frente al Yen japonés.



Un incremento del tipo de cambio \$ / Yen de  $TC_1$  a  $TC_2$  podría deberse a:

- un incremento de la demanda de bienes y servicios japoneses por parte de clientes americanos.
- las expectativas de un incremento en el valor del Yen.
- un incremento de los tipos de interés japoneses.
- una reducción de las barreras comerciales de Japón frente a los bienes americanos.

30. Los siguientes datos muestran la balanza de pagos por cuenta corriente del país X:

	1998	1999	2000	2001
Balanza comercial visible (\$)	+ 240 m	+ 120 m	- 60 m	- 270 m
Balanza por cuenta corriente (\$)	+ 200 m	+ 100 m	- 50 m	- 250 m

A partir de estos datos, se puede llegar a la conclusión de que la balanza invisible (servicios, transferencias e ingresos):

- A. siempre ha presentado superávit.
  - B. ha sido positiva algunos años y negativa otros.
  - C. siempre ha presentado déficit.
  - D. fue la misma en 1999 y en 2001.
31. ¿Cuál de las siguientes opciones **no** se consideraría beneficiosa para países que formen una unión aduanera?
- A. Un incremento de la competencia
  - B. Las economías de escala
  - C. La desviación de corrientes comerciales
  - D. Mayores niveles de inversión nacional e internacional



32. La siguiente tabla muestra los términos de intercambio de un país determinado:

	<b>Índices de Precios de Exportación</b>	<b>Índices de Precios de Importación</b>
1995	112	112
1996	118	120
1997	130	140
1998	125	130
1999	130	110
2000	160	100

Según su interpretación de estos datos, ¿qué opción u opciones sería/n cierta/s?

- I. Los términos de intercambio mejoraron entre 1998 y 2000.
- II. El año base para el índice es 1995.
- III. Cuando el índice de precios de exportación es mayor que el índice de precios de importación, el país tiene un superávit de balanza comercial.

- A. Solamente I
- B. Solamente I y II
- C. Solamente II y III
- D. I, II y III

33. Es más probable que el crecimiento económico lleve al desarrollo económico si el primero viene acompañado por:

- A. un incremento de los gastos en bienes de mérito.
- B. una transferencia de activos del sector público al privado.
- C. una reducción de la actividad comercial.
- D. un incremento de la inversión extranjera directa.

34. ¿Cuál o cuáles de las siguientes opciones sería/n rasgo/s típico/s de países menos desarrollados?

- I. Un alto porcentaje de la población es menor de 15 años
- II. Una baja productividad
- III. Un consumo alto de energía per cápita

- A. Solamente I
- B. Solamente I y II
- C. Solamente II y III
- D. I, II y III

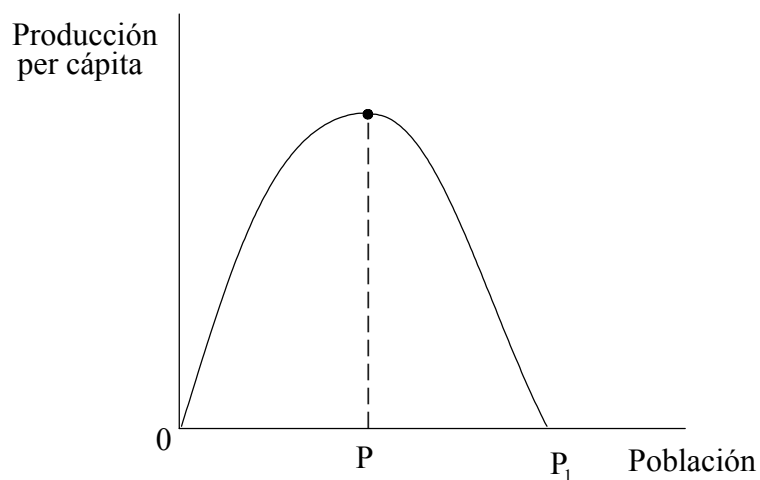
35. Los siguientes datos comparan el Índice de Desarrollo Humano (IDH) en dos países:

	<b>Valor IDH</b>	<b>Rango IDH</b>	<b>Rango PNB per cápita</b>
País A	0,970	9	21
País B	0,965	10	4

A partir de estos datos, se puede llegar a la conclusión de que ambos países son países menos desarrollados, y:

- A. el país A ha asignado más recursos a los bienes públicos.
- B. el país B ha asignado más recursos a los bienes públicos.
- C. el país A ha asignado más recursos a los bienes de mérito.
- D. el país B ha asignado más recursos a los bienes de mérito.

36. El siguiente gráfico establece una relación entre la producción per cápita y el tamaño de la población para una determinada disponibilidad de recursos:



Según este gráfico, habría exceso de población:

- A. solamente en  $0P$ .
  - B. solamente en  $0P_1$ .
  - C. entre los puntos  $0$  y  $P$ .
  - D. entre los puntos  $P$  y  $P_1$ .
37. En un país menos desarrollado, es probable que la inversión en capital humano sea más efectiva que la inversión en capital físico:
- A. porque la mano de obra es abundante y contratarla resulta barato.
  - B. porque el factor de producción mano de obra se encuentra en escasez de oferta.
  - C. porque el capital físico ya está disponible y contratarlo resulta barato.
  - D. porque lleva a una mejora en la infraestructura.

- 38.** La mejor descripción de una política de sustitución de importaciones es:
- A. la decisión que toma un país menos desarrollado para unirse a un bloque comercial regional.
  - B. un avance hacia la liberalización del comercio.
  - C. una política de fuerte proteccionismo para fomentar la producción nacional.
  - D. la producción en masa de exportaciones para la obtención de economías de escala.
- 39.** ¿Cuál o cuáles de la/s siguiente/s opción u opciones sería/n un impedimento para el crecimiento económico en un país menos desarrollado (PMenD)?
- I. Un índice bajo de ahorro
  - II. Una tasa elevada de crecimiento de la población
  - III. Una demanda elástica cara a la renta para las exportaciones de los PMenD
- A. Solamente I
  - B. Solamente I y II
  - C. Solamente II y III
  - D. I, II y III
- 40.** La mejor descripción del desarrollo sostenible es la que afirma que se trata de un desarrollo que:
- A. implica un incremento de la producción real a una tasa anual constante.
  - B. se apoya en un incremento constante de la actividad industrial.
  - C. puede mantenerse en el futuro a las tasas actuales de crecimiento económico.
  - D. no pone en riesgo las necesidades de generaciones futuras.
-