



General Certificate of Secondary Education
2015–2016

Uimhir Lárionaid

--	--	--	--	--

Uimhir Iarrthóra

--	--	--	--	--

Eolaíocht: Teastas Singil

Aonad 1 (Bitheolaíocht)
Bonnsraith



[GSS11]

GSS11

DÉ MÁIRT 17 BEALTAINÉ 2016, IARNÓIN

AM

1 uair an chloig.

TREOIR D'IARRTHÓIRÍ

Scríobh d'Uimhir Lárionaid agus d'Uimhir Iarrthóra sna spásanna chuige sin ag barr an leathanaigh seo.

Ní mór duit na ceisteanna a fhreagairt sna spásanna chuige sin.

Ná scríobh taobh amuigh den achar bhoscáilte ar gach leathanach nó ar leathanaigh bhána.

Comhlánaigh le dúch gorm nó le dúch dubh amháin. **Ná scríobh le peann glóthaí.**

Freagair **gach ceann** de na **naoi** gceist.

EOLAS D'IARRTHÓIRÍ

Is é 60 an marc iomlán don pháipéar seo.

Léiríonn figiúirí idir lúibíní atá priontáilte ar thaobh na lámhe deise de leathanaigh na marcanna atá ag dul do gach ceist nó do gach cuid de cheist.

Measúnófar caighdeán na cumarsáide scríofa i gCeist 9.

10743.03



24GSS1101

LEATHANACH BÁN
NÁ SCRÍOBH AR AN LEATHANACH SEO

10743.03



24GSS1102



- 1 (a) Taispeánann an tábla thíos roinnt cineálacha bia agus na feidhmeanna acu. Comhlánaigh an tábla.

Roghnaigh ó:

iarann : fás agus deisiú : calciam
carbaihiodráit : coisceann iatacht

Cineál bia	Feidhm sa chorp
	tugann fuinneamh dúinn
próitéin	
	faoi choinne fiacla agus cnámha láidre

[3]

- (b) Anseo thíos tugtar dhá neamhord itheacháin agus cur síos orthu. Bain úsáid as línte le gach neamhord itheacháin a nascadh lena chur síos.

Neamhord itheacháin

Cur síos

anoireicse

itheann siad an oiread sin go n-éiríonn siad murtallach

búilime

bíonn babhta itheacháin dosmachtaithe acu agus cuireann siad aníos ansin d'aon ghnó

itheann siad fórbheagán agus cailleann siad meáchan

[2]

[Tiontaigh an leathanach



2 (a) Taispeánann an grianghraf thíos roinnt plandaí pónairí ag fás i bpota.



Foinse: Príomhscrúdaitheoir

Comhlánaigh na habairtí thíos.

Roghnaigh ó:

riospráid uisce fótrópacht tsolais teas

Tá na plandaí ag cromadh i dtreo an _____.

Is é an t-ainm a thugtar ar an phróiseas seo i bplandaí

ná _____.

[2]

(b) Is próiseas eile i bplandaí í fótaisintéis.

(i) Comhlánaigh an chothromóid don fhótaisintéis.

uisce + _____ → stáirse + _____

[2]



(ii) Sa liosta thíos tugtar na céimeanna le tástáil a dhéanamh faoi choinne stáirse i nduilleog ach **níl** siad san ord cheart.

- A Cuir an duilleog ghlas in eatánól (alcól) atá ar fiuchadh
- B Cuir iaidín leis an duilleog
- C Bain duilleog den phlanda agus cuir in uisce atá ar fiuchadh í go ceann 30 soicind
- D Spréigh an duilleog ar thíl bhán
- E Tum an duilleog in uisce atá ar fiuchadh le go n-éireoidh sí bog

Cuir na céimeanna **A, B, C, D** agus **E** san ord cheart.
Tá an chéad cheann déanta duit.

C → _____ → _____ → _____ → _____ [2]

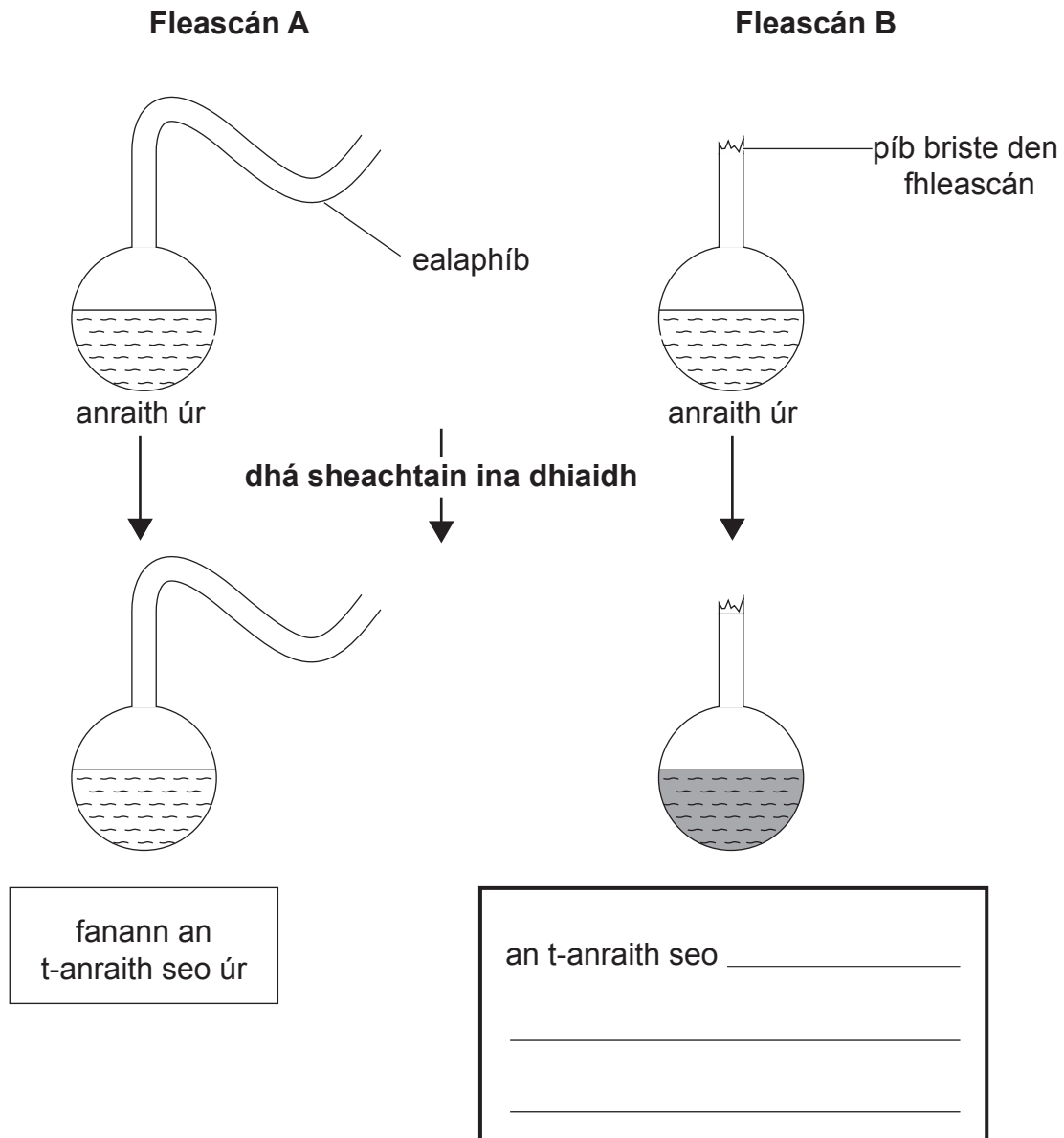
(iii) Míinigh ina iomláine cad chuige a ndéantar an duilleog a fhiuchadh in eatánól.

_____ [2]

[Tiontaigh an leathanach



- 3 (a) Taispeánann an léaráid thíos turgnamh lena fháil amach an miocrorgánaigh is cúis le héilliú bia.



Foinse: CCEA

- (i) Comhlánaigh an bosca sa léaráid thuas le cur síos a dhéanamh ar cad é a tharlaíonn don anraith i bhfleascán B. [1]



(ii) Míneadh an toradh do fhleascán A.

[2]

(iii) Ainmnigh an t-eolaí a rinne turgnamh comhchosúil.

[1]

(b) Is iomaí cosaint nádúrtha ar ghalair atá ag an chorp againn. Cuir síos ar an dóigh a gcuidíonn seicní múcasacha sa tsrón le cosaint in éadan galar sna daoine.

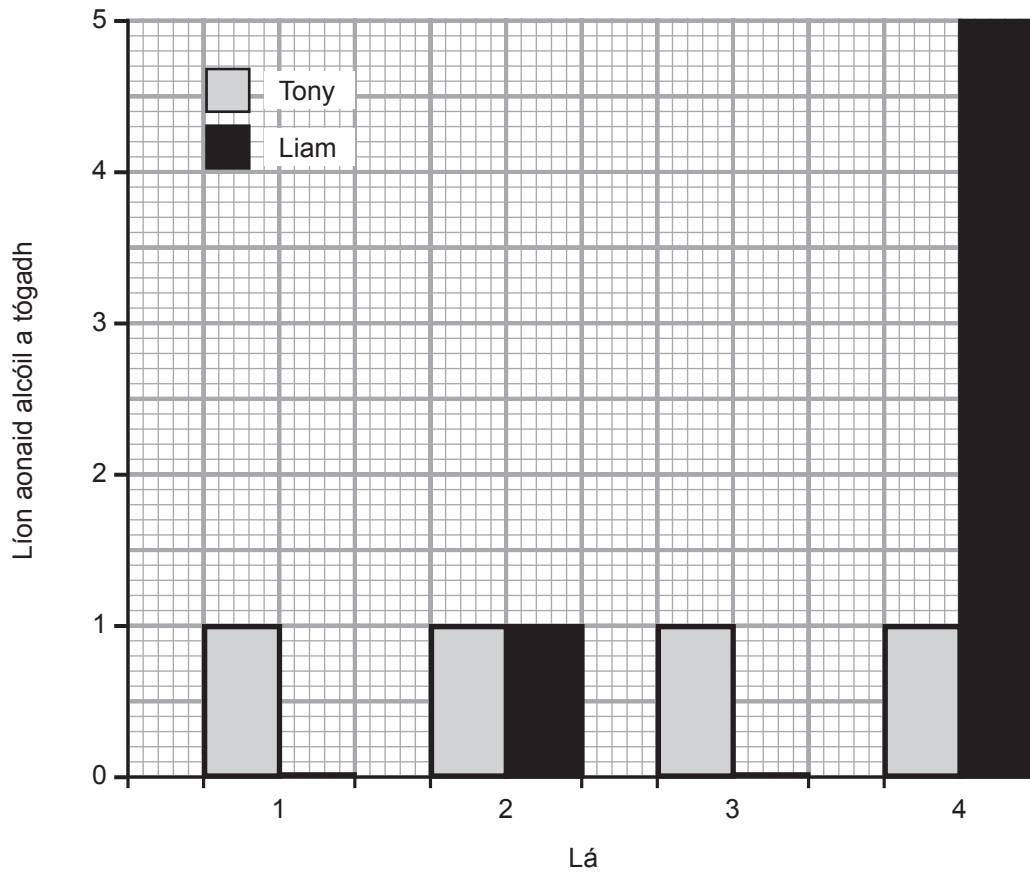
[2]

[Tiontaigh an leathanach



4 Ólann cuid mhór daoine óga níos mó ná an méid molta alcóil.

(a) Rinneadh an líon aonaid alcóil a d'ól beirt fhear 20 bliain d'aois thar thréimhse cheithre lá a thaifeadh. Taispeántar na torthaí sa ghráf thíos.



(i) Ríomh cá mhéad a d'ól Tony thar na ceithre lá.

_____ aonad [1]

(ii) Míneadh cad chuige ar féidir cur síos ar Liam mar 'óltóir ragúis'.

_____ [1]



(b) Cuir síos ar dhóigh amháin ar féidir le hólachán alcóil de bharráocht dochar a dhéanamh don **tsochaí**.

[1]

(c) Seachas staonadh ar fad a dhéanamh ar ólachán alcóil, luaigh **dhá** dhóigh a bhféadfadh duine an t-iontógáil alcóil aige nó aici a laghdú.

1. _____

2. _____ [2]

[Tiontaigh an leathanach



- 5 Taispeánann an tábla thíos líonta na ndaoine atá á ndiagnóisiú le diaibéiteas Chineál 1 agus Chineál 2 i mbaile mór thar thréimhse fiche bliain.

Bliain	Líon othar diagnóisithe le diaibéiteas	
	Cineál 1	Cineál 2
1996 – 2000	9	87
2001 – 2005	12	100
2006 – 2010	18	125
2011 – 2015	26	161

- (a) Tá líon na n-othar a bhíonn diagnóisithe le diaibéiteas Chineál 1 ag méadú le himeacht aimsire. Luaigh **dhá** threocht eile atá taispeánta ag an fhaisnéis seo.

1. _____

2. _____
_____ [2]

- (b) Seachas líon na n-othar, luaigh difríocht **amháin** idir diaibéiteas Chineál 1 agus diaibéiteas Chineál 2.

_____ [1]

- (c) Luaigh éifeacht (aimhréidh) fhadtréimhseach **amháin** a bhaineann le diaibéiteas.

_____ [1]





LEATHANACH BÁN

NÁ SCRÍOBH AR AN LEATHANACH SEO

(Leanann ceisteanna ar an chéad leathanach eile)

[Tiontaigh an leathanach

10743.03



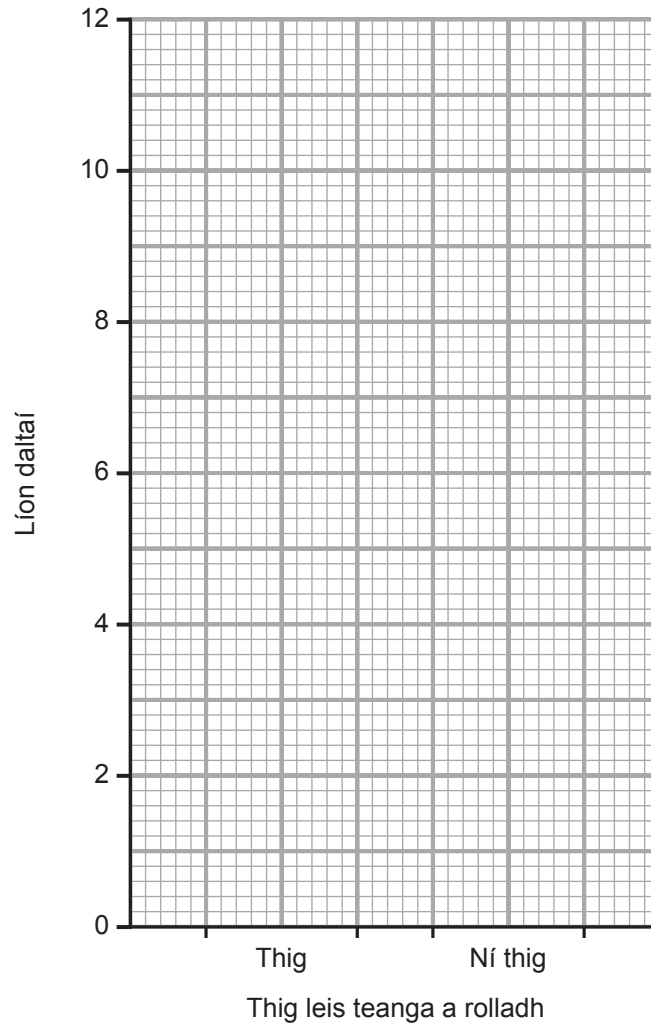
24GSS1111

6 (a) Thig le daoine ceachtar acu a dteanga a rolladh nó gan í a rolladh.

(i) Ainmnigh an cineál éagsúlachta atá á thaispeáint ag rolladh teanga.

[1]

(ii) I rang a bhfuil 20 dalta ann, ní thig ach le 11 a dteanga a rolladh. An fhaisnéis seo in úsáid agat, comhlánaigh an bharrachairt thíos.



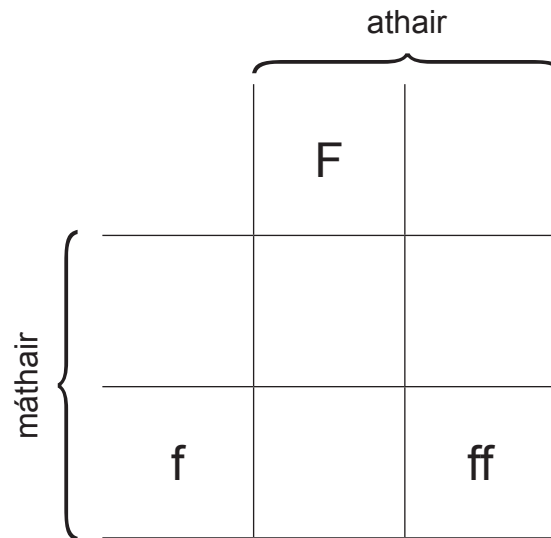
[2]



- (b) Tá difríochtaí idir daoine ann, den chuid is mó, mar gheall ar dhifríochtaí sna géinte acu.

Mar shampla, is riocht géiniteach í fiobrós chisteach. Tá an ailléil normalach (**F**) ceannasach ar an ailléil (**f**) ar cúis í le fiobrós chisteach.

- (i) Comhlánaigh an chearnóg Punnett lena thaispeáint cad é mar is féidir le hathair leis an ghéinitíopa (**Ff**) agus máthair leis an ghéinitíopa (**ff**) páistí a bheith acu le fiobrós chisteach.



- (ii) Ciorclaigh an ghéinitíopa (na géinitíopaí) sa chearnóg Punnett a thaispeánann sliocht le fiobrós chisteach.

[1]

[Tiontaigh an leathanach



7 Is sampla é róslabhras de speiceas iomaíoch ionrach i dTuaisceart Éireann.

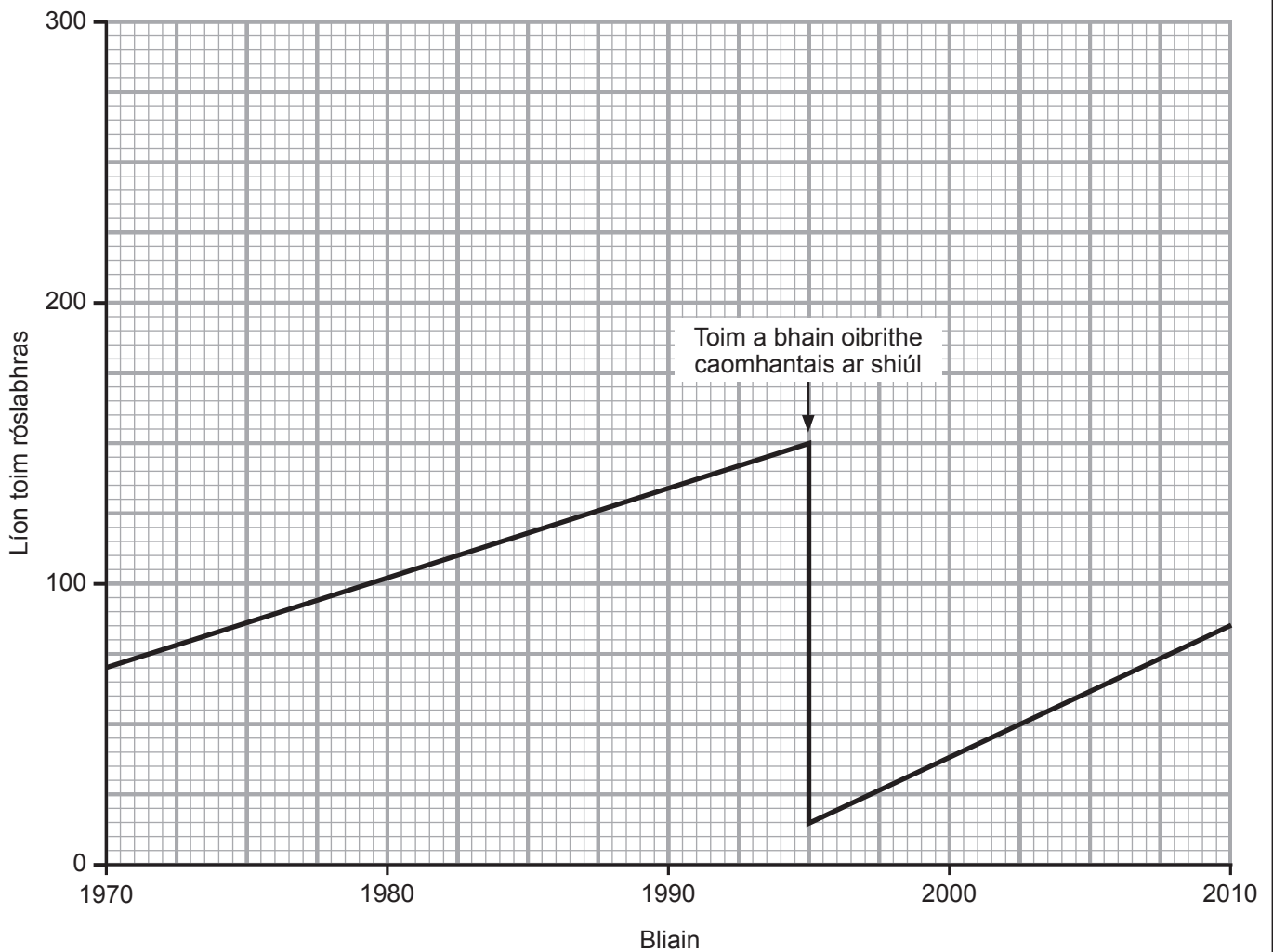
(a) Luaigh **dhá** ghné atá ag 'speicis iomaíocha ionracha' i gcoitianta lena chéile.

1. _____

2. _____

_____ [2]

(b) Taispeánann an graf thíos cad é mar a d'athraigh líon na dtom róslabhras thar thréimhse 40 bliain i limistéar fraochmhá.



10743.03



24GSS1114

(i) Ríomh cá mhéad tom róslabhras a baineadh ar shiúl sa bhliain 1995.

(Taispeáin do chuid oibre.)

_____ [2]

(ii) Ríomh céatadán na dtom nár baineadh ar shiúl sa bhliain 1995.

_____ % [1]


(iii) Tuar cá mhéad tom róslabhras a bheadh ann sa bhliain 2010 mura mbainfí aon toim ar shiúl.

_____ [1]

[Tiontaigh an leathanach



(c) Léiríonn an léaráid thíos tom róslabhras.



dlúthchóiriúchán duilleog ar feadh na bliana (síorghlas) a dtig le fíorbheagán solais an talamh a bhaint amach dá bharr

© Chief Examiner

An fhaisnéis atá curtha ar fáil agus do chuid eolais in úsáid agat, freagair na ceistanna seo a leanas.

(i) Luaigh an éifeacht a bhíonn ag tom róslabhras ar speicis eile plandaí a bhíonn ag fás gar dó. Míneadh do fhreagra.

[3]

(ii) Luaigh an éifeacht ar bhithéagsúlacht, má tá éifeacht ar bith ann, sa fhraochmhá a bhainfidh leis na toim róslabhras a bhaint ar shiúl.

[1]

(d) Ainmnigh speiceas iomaíoch ionrach **amháin** eile.

[1]



8 (a) Tá líon mór tréithchineálacha (sóirt) víris ann ar cúis iad le fliú. Sónn víris fliú go furasta le líon mór tréithchineálacha víris nua a dhéanamh ar cúis iad le fliú.

(i) Míneigh an téarma 'sóchán'.

[2]

Faigheann líon mór daoine sa RA (UK) vacsaíniú fliú gach bliain.

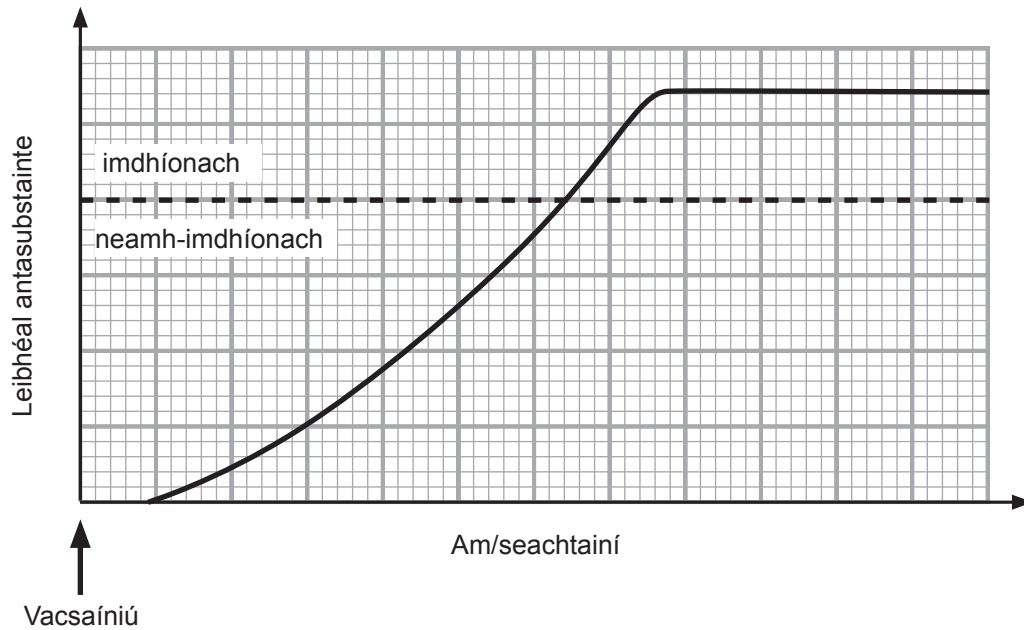
(ii) Cuir síos ina iomláine ar cad é atá i vacsaíniú fliú.

[2]

[Tiontaigh an leathanach



Taispeánann an graf thíos éifeacht vacsaíniú fliú ar leibhéal antasubstainte duine.



Agus iad i mbun vacsaíniú fliú a fhorbairt i mbliain ar leith ar bith, caithfidh eolaithe an tréithchineál víris a thuar (a mheas) is dócha a dhéanfaidh an líon is mó daoine a ionfhabhtú. Ansin forbraíonn siad an vacsaíniú fliú in éadan an tréithchineáil ar leith seo.

An fhaisnéis atá curtha ar fáil in úsáid agat, freagair na ceistanna thíos.

(iii) Úsáid an graf lena mhíniú cad chuige a bhfaigheann daoine vacsaíniú fliú i bhfad sula mbeifí ag dúil le hiad a bheith ionfhabhtaithe ag víreas fliú.

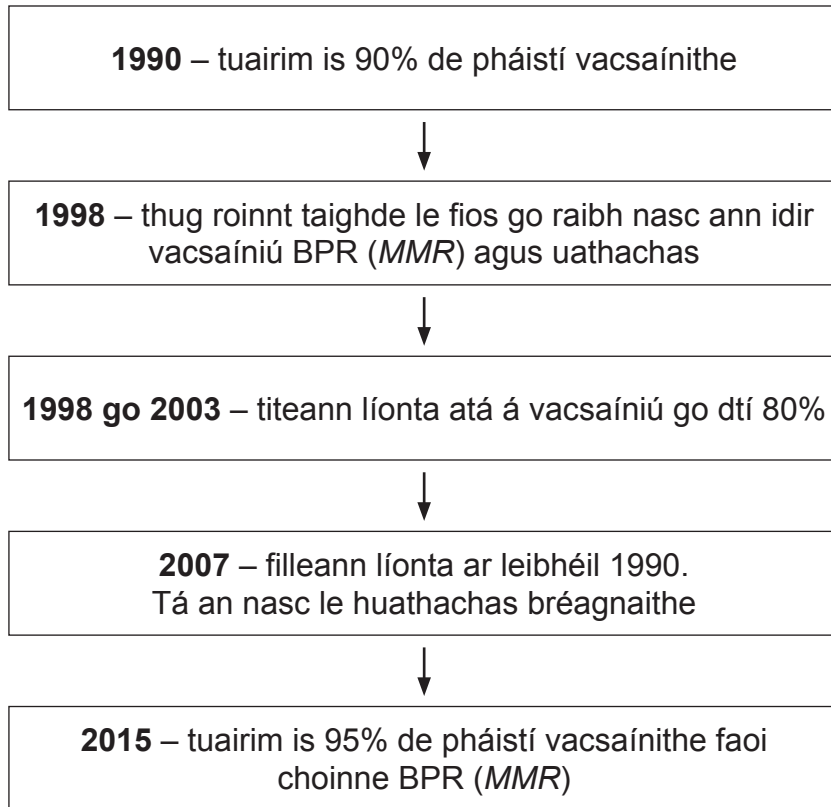
[1]

(iv) Luaigh cad chuige a dtagann an fliú ar roinnt daoine go fóill, líon mór míonna i ndiaidh dóibh vacsaíniú fliú a fháil.

[1]



- (b) Déanann an tsreabhchairt thíos achoimre ar an dóigh ar athraigh líon na páistí a bhíodh á vacsaíniú faoi choinne BPR (*MMR*) ó bhí 1990 ann.



- (i) Cuir síos ina iomláine ar an treocht sa líon páistí a bhíodh á vacsaíniú faoi choinne BPR (*MMR*) idir **2003 agus 2015**. Bain úsáid as sonraí ón tsreabhchairt le tacú le do fhreagra.

[2]

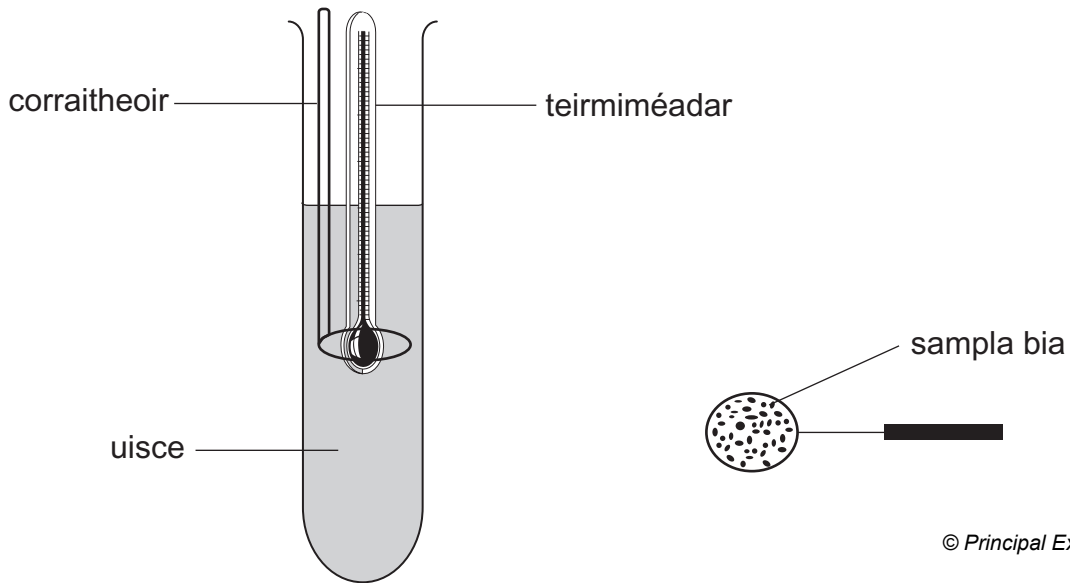
- (ii) Luaigh cad chuige a bhfuil roinnt tuismitheoirí ann go fóill nach ligeann dá gcuid páistí a bheith vacsaínithe faoi choinne BPR (*MMR*).

[1]

[Tiontaigh an leathanach



9 Is féidir an fearas a thaispeántar sa léaráid a úsáid leis an fhuinneamh a scaoiltear ó bhianna difriúla a chur i gcomparáid lena chéile.



Cuir síos ar an dóigh a gcuirfeá an méid fuinnimh a scaoiltear ó bhriosca i gcomparáid leis an méid fuinnimh a scaoiltear ó arán.

Ba chóir go gcuimseodh do fhreagra:

- **dhá** athróg atá le rialú leis an imscrúdú a dhéanamh cothrom
- fáth **amháin** ar dócha go mbeidh na torthaí a fhaightear níos lú ná méid iarbhír an fhuinnimh sna bianna

Sa cheist seo measúnófar thú ar scileanna na cumarsáide scríofa agat lena n-áirítear úsáid saintearmaí eolaíocha.



LEATHANACH BÁN
NÁ SCRÍOBH AR AN LEATHANACH SEO

10743.03



24GSS1122





LEATHANACH BÁN

NÁ SCRÍOBH AR AN LEATHANACH SEO

10743.03



24GSS1123

NÁ SCRÍOBH AR AN LEATHANACH SEO

Don Scrúdaitheoir amháin	
Uimhir Ceiste	Marcanna
1	
2	
3	
4	
5	
6	
7	
8	
9	

Marc Iomlán	
--------------------	--

Uimhir Scrúdaitheora

Cuireadh isteach ar chead chun an t-ábhar cóipchirt uile a atáirgeadh.

I gcásanna áirithe is féidir nár éirigh le CCEA teagmháil a dhéanamh le húinéirí cóipchirt agus beidh sé sásta na hadmhálacha sin a fágadh ar lár a chur ina gceart amach anseo ach é a chur ar an eolas.

10743.03



24GSS1124