



General Certificate of Secondary Education
2014–2015

Uimhir Lárionaid

--	--	--	--	--

Uimhir Iarrthóra

--	--	--	--

Eolaíocht: Teastas Singil

Aonad 1 (Bitheolaíocht)
Ardsraith



[GSS12]

DÉ MÁIRT 24 FEABHRA 2015, MAIDIN

AM

1 uair agus 15 nóiméad.

TREOIR D'IARRTHÓIRÍ

Scríobh d'Uimhir Lárionaid agus d'Uimhir Iarrthóra sna spásanna chuige sin ag barr an leathanaigh seo.
Scríobh do fhreagraí sna spásanna chuige sin sa scrúdpháipéar seo.
Freagair **gach ceann** de na **deich** gceist.

EOLAS D'IARRTHÓIRÍ

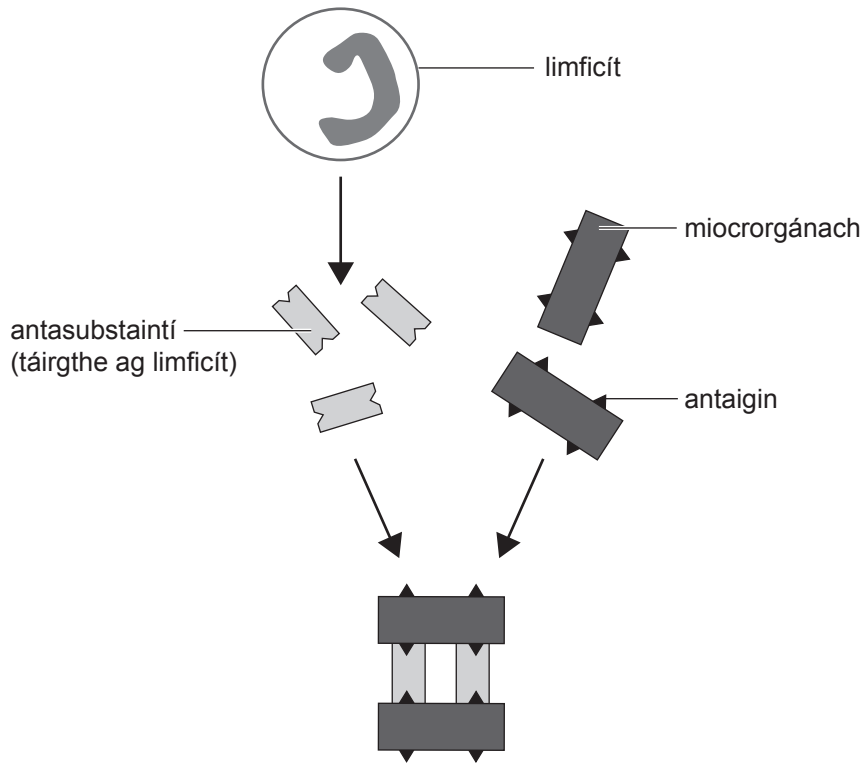
Is é 75 an marc iomlán don pháipéar seo.
Léiríonn figiúirí idir lúibíní ar thaobh na láimhe deise de leathanaigh na marcanna atá ag dul do gach ceist nó do gach cuid de cheist.
Measúnófar caighdeán na cumarsáide scríofa in Ceisteanna **4(a)** agus **10(a)**.

Don Scrúdaitheoir amháin	
Uimhir Ceiste	Marcanna
1	
2	
3	
4	
5	
6	
7	
8	
9	
10	

Marc Iomlán	
--------------------	--

Scrúdaitheoir Amháin	
Marcanna	Athmharc

1 (a) Léiríonn an léaráid thíos an dóigh a dtáirgeann limficítí (fuilchealla bána) antasubstaintí mar fhreagairt ar ionfhabhtú le miocrorgánaigh.



© GCSE Science Single Award For CCEA by James Napier, Alyn G. McFarland, Roy White, publisher Hodder Education (2013). ISBN: 9781444195729. Reproduced by permission of Hodder Education.

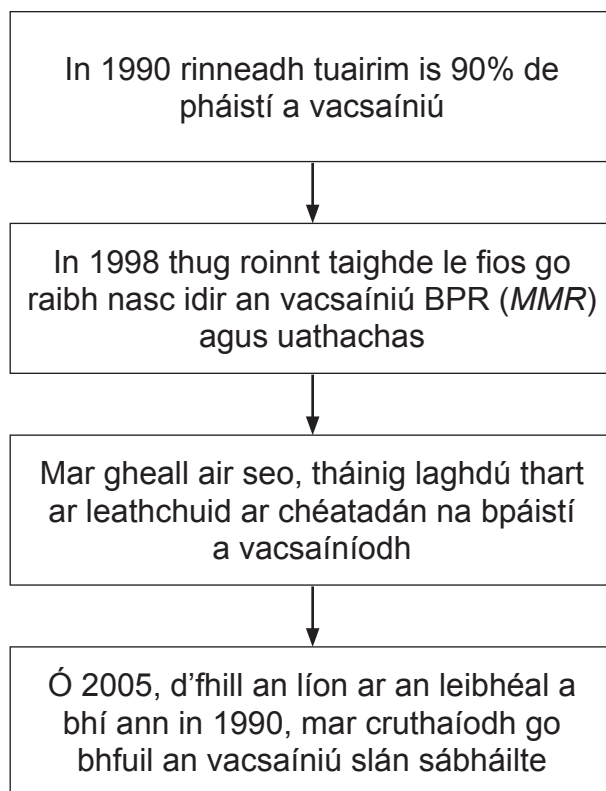
(i) An léaráid agus do chuid eolais in úsáid agat, cuir síos ar, agus mínigh, an dóigh a dtroideann antasubstaintí in éadan ionfhabhtú.

[3]

(ii) Fuilchill bhán de chineál eile, troideann sí fosta in éadan ionfhabhtú, trí fhagaicítóis. Cuir síos ar phróiseas na 'fagaicítóise'.

[2]

- (b) Tugann an tsreabhchairt seo a leanas breac-chuntas ar an dóigh ar athraigh líon na bpáistí a bhí á vacsaíniú do BPR (*MMR*) idir 1990 agus an lá atá inniu ann.



- (i) Cuir síos ar an dóigh ar athraigh líon na bpáistí a fuair an vacsaíniú BPR (*MMR*) idir 1990 agus inniu.

[2]

- (ii) Cad é mar a thugann an fhaisnéis le fios nach bhfuil gach tuismitheoir cinnte go bhfuil an vacsaíniú BPR (*MMR*) sábháilte inniu?

[1]

- (c) Ainmnigh an cineál imdhíonachta atá táirgthe ag vacsaínithe.

[1]

Scrúdaitheoir Amháin	
Marcanna	Athmharc

- 2 (a) Is riocht ó oidhreacht é ailbíneachas. An duine a bhfuil an riocht air, níl sé ábalta an lí chraicinn meilín a dhéanamh. Is í an mheilín is cúis le dath an chraicinn, ach, níos tábhachtaí ná sin, cuidíonn sí le cosaint a thabhairt ar ghathanna dochracha UV na gréine.

Sóchán sa ghéin a rialaíonn táirgeadh na meilín is cúis le hailbíneachas.

- (i) Ainmnigh an chroí-chomhpháirt i ghéin a ndéantar dochar di i sóchán.

_____ [1]

- (ii) Mínigh cad chuige a moltar do dhaoine a bhfuil ailbíneachas orthu fanacht amach as solas láidir na gréine.

_____ [2]

Scrúdaitheoir Amháin	
Marcanna	Athmharc

(b) Tá an ailléil is cúis leis an ailbíneachas cúlaitheach don ghnáthailéil.

- (i) Comhlánaigh an léaráid ghéiniteach thíos leis an tsliocht a léiriú de chrosáil idir beirt tuismitheoirí atá **heitrisigeach** don ailbíneachas.

Úsáid na siombailí: A = gnáthailéil; a = ailléil an ailbínigh

		a
A	AA	

[2]

- (ii) Luaigh an géinitíopa is cúis leis an ailbíneachas.

[1]

- (iii) Ón léaráid ghéiniteach, cad é an dóchúlacht **nach** mbeidh ailbíneachas ar pháiste?

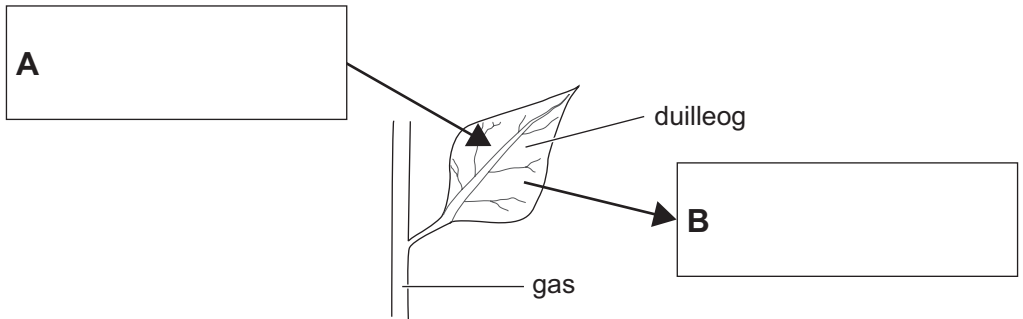
[1]

Scrúdaitheoir Amháin	
Marcanna	Athmharc

Scrúdaitheoir Amháin	
Marcanna	Athmharc

3 (a) An léaráid thíos, taispeánann sí duilleog ó phlanda sa dorchadas.

- (i) Comhlánaigh an léaráid trí na gáis a théann isteach sa duilleog (A) agus a théann amach as an duilleog (B) le linn an dorchadais a ainmniú.

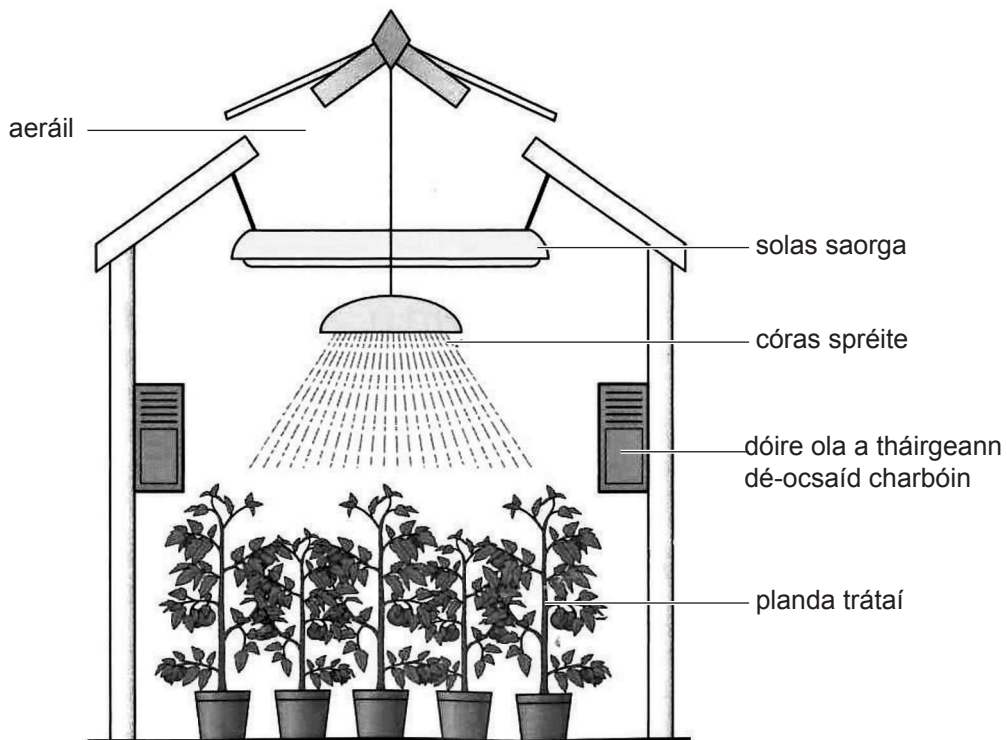


[1]

- (ii) Ainmnigh an próiseas is cúis leis an mhalartú gás seo.

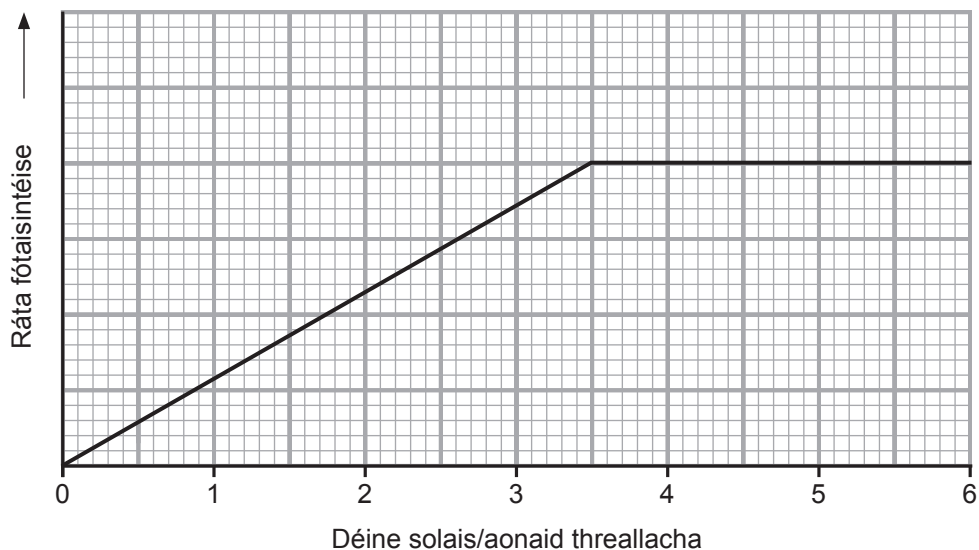
[1]

(b) An léaráid thíos, taispeánann sí plandaí trátaí ag fás i dteach gloine.



© GCSE Biology for CCEA by James Napier, publisher Hodder Education (2011).
ISBN: 9780340983805. Reproduced by permission of Hodder Education.

An graf thíos, taispeánann sé éifeacht déine solais ar ráta na fótaisintéise i bplandaí trátaí i dteach gloine. I dtithe gloine, is féidir soilsiú saorga a úsáid leis an déine solais a mhéadú.



- (i) Ón ghraf, luaigh an déine solais is fearr le húsáid a thabharfadh an brabús is mó dá mbeadh na trátaí ar fás le díol. Mínigh do rogha.

Déine solais _____ aonaid threallacha

Míniú _____

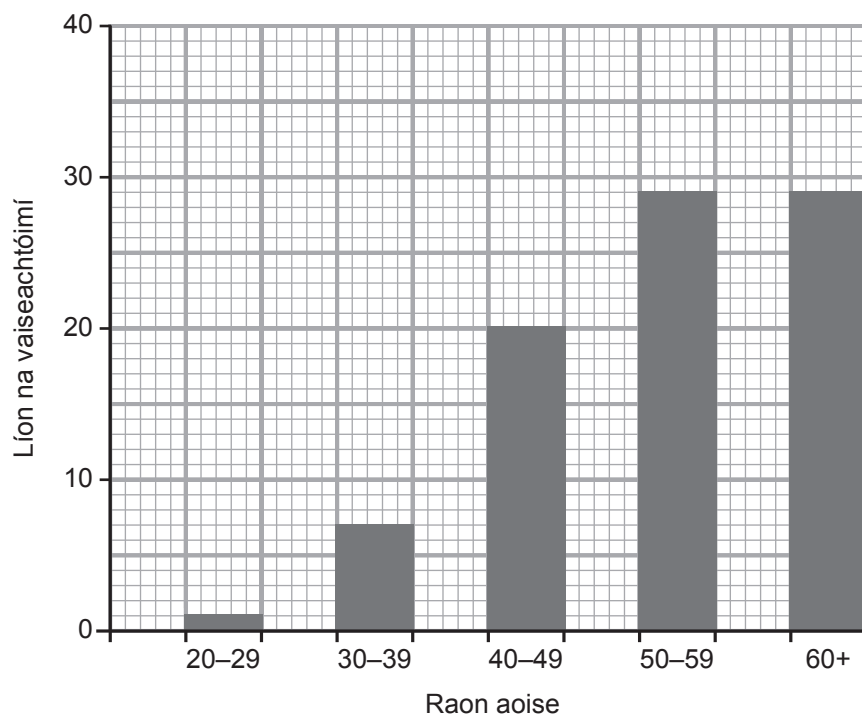
_____ [2]

- (ii) Seachas soilsiú saorga le déine solais a mhéadú, mínigh dóigh **amháin** eile a gcuirtear tithe gloine in oiriúint le ráta fhás na bplandaí a mhéadú.

_____ [1]

Scrúdaitheoir Amháin	
Marcanna	Athmharc

- (b) Taispeánann an bharrachairt thíos líon na bhfear, in aoisghrúpaí ar leith, a raibh vaiseachtóime acu in ospidéal in aon bhliain amháin.



- (i) Cuir síos ina iomláine ar an treocht atá á léiriú ag an fhaisnéis seo.

[2]

- (ii) Luaigh fáth **amháin** nach raibh vaiseachtóime ag fir ar bith níos óige ná 20 bliain d'aois.

[1]

- (c) Is hormón atáirgthe é próigeistéarón a tháirgtear i mbaineannaigh. Cuir síos ar, agus mínigh, feidhm **amháin** le próigeistéarón.

[2]

Scrúdaitheoir Amháin	
Marcanna	Athmharc

- 7 (a) Rinneadh na leibhéal dé-ocsaíd charbóin san atmaisféar a thaifeadh gach cúig bliana ó 1980 go 2000 mar a thaispeántar sa tábla thíos.

Dé-ocsaíd charbóin san atmaisféar/codanna sa mhilliún (csm)(ppm)			
Bliain	Meánluach bliantúil	Meánluach samhraidh	Meánluach geimhridh
1980	342	337	348
1985	348	343	353
1990	354	350	359
1995	359	353	363
2000	365	360	369

- (i) Tuar cad é an **meánluach bliantúil** a bhí ann don dé-ocsaíd charbóin in 2010.

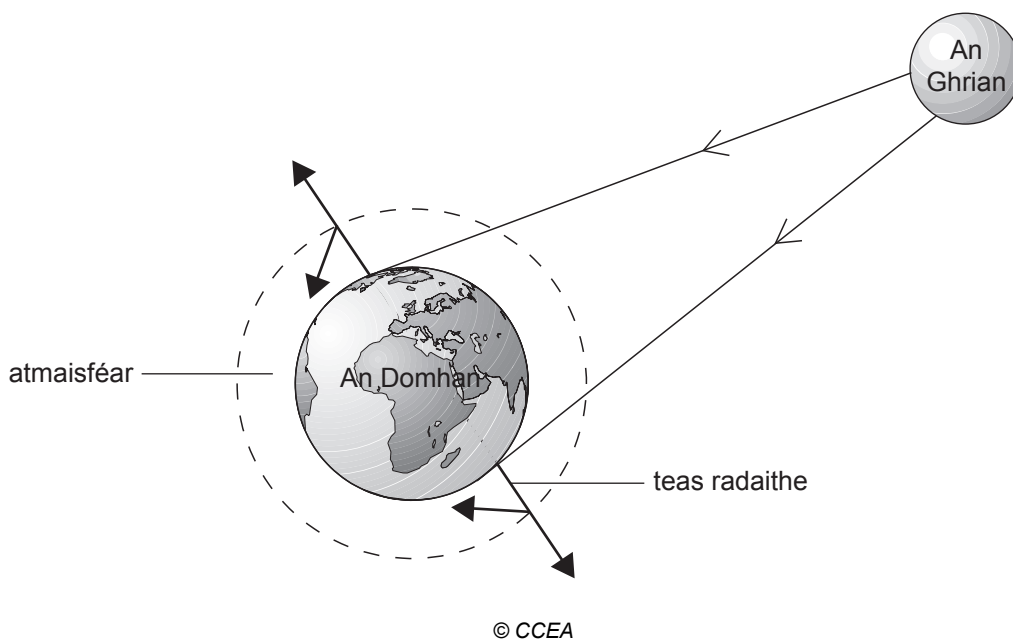
_____ csm (ppm) [1]

- (ii) Cuir síos ar an difríocht idir na meánluachanna sa gheimhreadh agus sa tsamhradh. Luaigh fáth **amháin** leis an difríocht seo.

_____ [2]

Scrúdaitheoir Amháin	
Marcanna	Athmharc

(b) An léaráid seo a leanas, taispeánann sí an dóigh a dtarlaíonn téamh domhanda.



An léaráid agus do chuid eolais in úsáid agat, mínigh an dóigh a dtarlaíonn téamh domhanda.

[3]

(c) Seachas teocht, luaigh toisc aibitheach **amháin** eile is féidir a úsáid le monatóireacht a dhéanamh ar théamh domhanda.

[1]

Scrúdaitheoir Amháin	
Marcanna	Athmharc

Scrúdaitheoir Amháin	
Marcanna	Athmharc

- 8 (a) Go luath sa bhliain 2014, bhí eipidéim in iarthar na hAfraice mar gheall ar an víreas Ebola a mharaigh suas le 90% de na daoine a ionfhabhtaíodh. Faoi Aibreán, bhí corradh le 100 duine i ndiaidh bás a fháil leis an ionfhabhtú seo. Ní raibh aon vacsaín ann don víreas agus bhí drochshláinte ag cuid mhór de na daoine a bhí ina gcónaí ann mar gheall ar an tsláintíocht olc agus ar an easpa cúram sláinte a bhí ar fáil. Bíonn an galar ag leathnú trí dhlúth-theagmháil le duine a bhfuil an t-ionfhabhtú air.

Bhí inní ar shaineolaithe leighis go bhféadfadh an briseadh amach forbairt ina phaindéim.

- (i) Cad é a chiallaíonn an téarma ‘paindéim?’

_____ [1]

- (ii) An fhaisnéis atá curtha ar fáil in úsáid agat, luaigh **dhá** fháth ar shíl saineolaithe leighis go bhféadfadh paindéim a bheith ann níos moille sa bhliain 2014.

1. _____

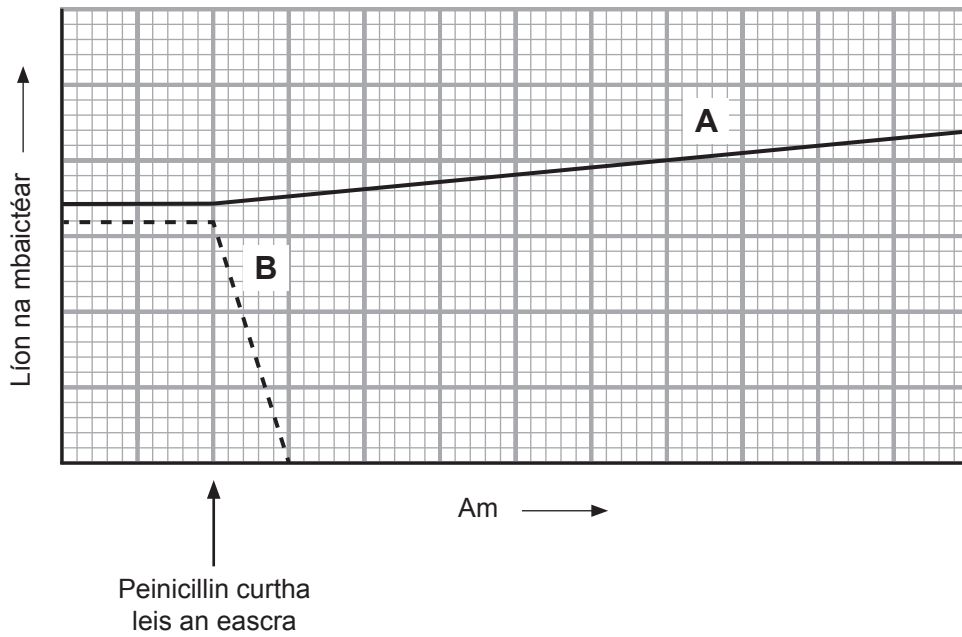
 2. _____
 _____ [2]

- (b) Deirtear gurbh é Alexander Fleming a tháinig de thaisme ar an chéad antaibheathach agus é ag obair le baictéir i mias Petri.

- (i) Cuir síos ar na breathnuithe a rinne sé ar aimsíodh peinicillin mar thoradh orthu.

 _____ [3]

Rinne eolaithe dhá chineál baictéar (**A** agus **B**) a shaothrú (a fhás) in eascra. Taispeánann an graf seo a leanas an dóigh ar athraigh líon an dá chineál i ndiaidh peinicillin a chur isteach san eascra.



(ii) Cuir síos ar agus mínigh na hathruithe a tharla i ndiaidh an pheinicillin a chur isteach.

[3]

(c) Tá trí chéim i bhforbairt druga sula ndéantar é a cheadúnú. Liostaigh na céimeanna seo, in ord, suas go dtí go ndéantar an druga a cheadúnú. [1]

→ → → → ceadúnaithe

Scrúdaitheoir Amháin	
Marcanna	Athmharc

Scrúdaitheoir Amháin	
Marcanna	Athmharc

9 (a) I gcodanna d'Éirinn, tá comhaontú déanta idir caomhantóirí agus comhairlí áitiúla gan roinnt fáлта agus an gruaimhín féir ar thaobh an bóthair a ghearradh go cionn roinnt blianta. Tá caomhantóirí sásta a nótaíl go bhfuil méadú gasta ar an bhithéagsúlacht ag tarlú mar gheall air seo agus bíonn na fáлта agus na gruaimhíní gan ghearradh ag cur 'splais datha' ar fáil sa tsamhradh.

(i) Luaigh cad é atá sa 'splais datha'.

[1]

(ii) Cuir síos ar an dóigh a bhféadfá imscrúdú a dhéanamh le comparáid a dhéanamh ar an bhithéagsúlacht idir ceantair gan ghearradh agus ceantair atá gearrtha.

[3]

(iii) Luaigh cúis imní sábháilteachta **amháin** d'úsáideoirí bóthair mura ngearrtar fáлта agus gruaimhíní.

[1]

(b) Na plandaí sna fáлта agus sna gruaimhíní, is iad na táirgeoirí iad i mbiashlabhraí. Cuir síos ar shreabhadh an fhuinnimh trí bhiashlabhraí.

[3]

Cuireadh isteach ar chead chun an t-ábhar cóipchirt uile a atáirgeadh.
I gcásanna áirithe is féidir nár éirigh le CCEA teagmháil a dhéanamh le húinéirí cóipchirt agus beidh sé sásta na hadmhálacha sin a fágadh ar lár a chur ina gceart amach anseo ach é a chur ar an eolas.