



Uimhir Lárionaid

71

Uimhir Iarrthóra

General Certificate of Secondary Education
2013–2014

Eolaíocht: Teastas Singil

Aonad 1 (Bitheolaíocht)

Bonnsraith

[GSS11]



DÉ MÁIRT 13 BEALTAINE 2014, MAIDIN

AM

1 uair an chloig.

TREOIR D'IARRTHÓIRÍ

Scríobh d'Uimhir Lárionaid agus d'Uimhir Iarrthóra sna spásanna chuige sin ag barr an leathanaigh seo.

Scríobh do fhreagraí sna spásanna chuige sin sa scrúdpháipéar seo. Freagair **gach ceann** de na **naoi** gceist.

EOLAS D'IARRTHÓIRÍ

Is é 60 an marc iomlán don pháipéar seo.

Léiríonn figiúirí idir lúibíní ar thaobh na láimhe deise de leathanaigh na marcanna atá ag dul do gach ceist nó do gach cuid de cheist.

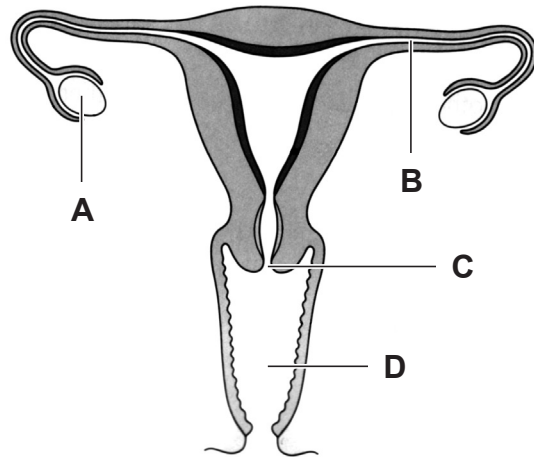
Measúnófar caighdeán na cumarsáide scríofa i gCeist **9**.

Don Scrúdaitheoir Amháin

Uimhir Ceiste	Marcanna
1	
2	
3	
4	
5	
6	
7	
8	
9	

Marc Iomlán

1 Taispeánann an léaráid thíos córas atáirgthe na mban.



(a) (i) Cuir an litir cheart in aice le hainm gach páirte leis an tábla a chomhlánú. Tá litir amháin ann nach mbeidh in úsáid.

Ainm	Litir
Ubhagán	
Ceirbheacs	
Ubhaducht	



[3]

(ii) Cuir X ar an léaráid sa pháirt ina bhfásann an babaí.

[1]

Scrúdaitheoir Amháin	
Marcanna	Athmharc

- (b) (i) Anseo thíos tá dhá mhodh frithghiniúna. Línte in úsáid agat, déan gach modh a nascadh leis an dóigh a gcoisceann sé toircheas.

Modh	An dóigh a gcoisceann an modh toircheas		Scrúdaitheoir Amháin
			Marcanna/Athmharc
 <p>Piollairí frithghiniúnacha</p> <p>© DuŪan Zidar/iStock/Thinkstock</p>	<p>Coisctear speirm ag dul isteach sa bhean</p>		
 <p>Coiscín</p> <p>© zagorskid/ iStock/Thinkstock</p>	<p>Stoptar an babaí ag fás</p>		
	<p>Athraítear leibhéil hormón i mná agus coisctear scaoileadh uibhe</p>	[2]	

- (ii) Ainmnigh modh frithghiniúna a chuideoidh le hionfhabhtú ó ghalar gnéas-tarchurtha a chosc.

[1]


- (iii) Cad é an chuid de chóras atáirgthe an fhir a ghearrtar in obráid vaiseachtóime.

Roghnaigh ó:

péineas : feadáin speirme : faireog phróstatach

[1]

2 Anseo thíos taispeántar biashlabhra.



© LoopAll/iStock/Thinkstock



© Ingram Publishing/Thinkstock



© JensGade/iStock/Thinkstock



© GlobalP/iStock/Thinkstock



(a) (i) Cad é a chuireann na saigheada sa bhiashlabhra in iúl dúinn?

_____ [1]

(ii) Cad é an fhoirse bia do na biashlabhraí uilig?

_____ [1]

(b) Taispeánann an tábla thíos líon gach ainmhí i limistéar beag thar thréimhse trí bliana.

Ainmhí Bliain	Bolb	Éan beag	Sionnach
2006	600	250	6
2007	400	320	3
2008	200	580	1

(i) Luaigh fadhb **amháin** a bhaineann le líon na n-ainmhithe a chomhaireamh.

_____ [1]

Scrúdaitheoir Amháin	
Marcanna	Athmharc

(ii) Luaigh an treocht atá á taispeáint ag líon na sionnach agus na n-éan beag thar thréimhse trí bliana.

_____ [1]

(iii) Luaigh míniú don athrú ar líon na n-éan beag.

_____ [1]

Scrúdaitheoir Amháin	
Marcanna	Athmharc

3 (a) Comhlánaigh na habairtí seo a leanas faoi dhrugaí.

Roghnaigh ó:

suaimhnithe mheabhrach antaibheathaigh andúile cócaon

Féadann drugaí staid fhisiceach nó staid _____ daoine

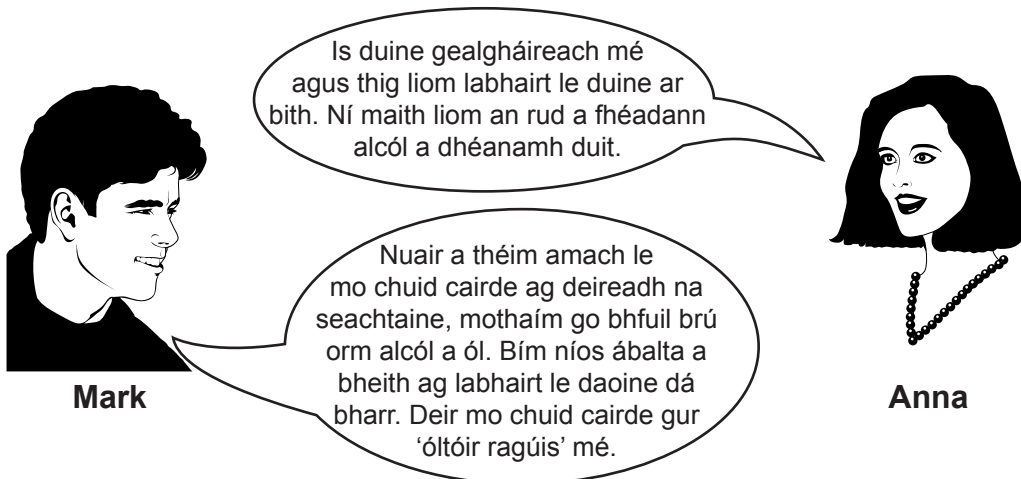
a athrú. Is dhá dhrugaí mhídhleathacha iad cannabis agus

_____ a chaitheann daoine. Nuair a chaitear cannabis

thig leis mothú _____ a chruthú. [3]

(b) Tá Mark 25 bliain d'aois agus ólann sé alcól go rialta. Ní ólann Anna, atá an aois chéanna, alcól a choíche.

Taispeánann an léaráid thíos an comhrá a bhí acu ar éifeachtaí alcóil.



(i) Cad é a chiallaíonn an téarma 'ragús óil'?

_____ [1]

(ii) Luaigh éifeacht dhochrach **amháin** a bhíonn ag alcól ar an tsochaí.

_____ [1]

Scrúdaitheoir Amháin	
Marcanna	Athmharc

(iii) An t-eolas atá curtha ar fáil in úsáid agat, mínigh cad chuige a n-ólann Mark alcól ach ní ólann Anna alcól.

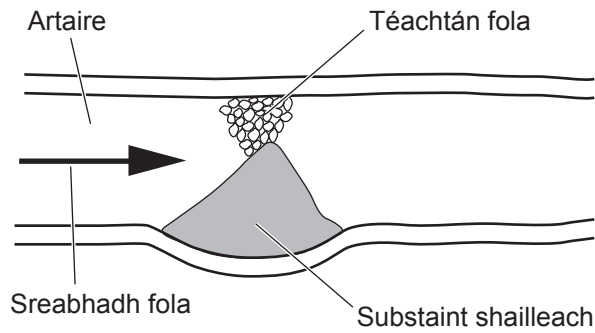
Mark _____

Anna _____

_____ [2]

Scrúdaitheoir Amháin	
Marcanna	Athmharc

- 4 Taispeánann an léaráid thíos artaire a chaolaigh mar gheall ar charnadh substaint shailleach.



- (a) Ainmnigh an tsubstaint shailleach sa léaráid a channann san artaire agus caolaíonn sé dá bharr.

Roghnaigh ó:

colaistéaról

siúcra

snáithín

[1]

- (b) An léaráid thuas agus do chuid eolais in úsáid agat, luaigh cad é a tharlóidh, b'fhéidir, má tá an tsubstaint shailleach ag blocáil artaire a théann chuig an mhatán a mbuaileann an croí dá bharr.

[2]

Scrúdaitheoir Amháin	
Marcanna	Athmharc

- (c) Tá an Ghníomhaireacht Sláinte Poiblí i ndiaidh feachtas a lainseáil le daoine a spreagadh méid a gcoime a laghdú trí roinnt athruithe a dhéanamh sa stíl mhaireachtála acu. Is féidir le méadú ar an riosca ar ghalar croí agus ar dhiaibéiteas a bheith mar thoradh ar an mhéadú ar méid na coime.



© Public Health Agency

Tá méadú ar an méid aclaíochta sa stíl mhaireachtála ar na hathruithe a mholann siad.

- (i) Luaigh athrú amháin eile sa **stíl mhaireachtála** a d'fhéadfadh muid a dhéanamh a chuideodh linn an riosca a laghdú a bhaineann le galar croí a fhorbairt.

_____ [1]

Is riocht é diaibéiteas nuair nach bhfuil an corp ábalta leibhéil ghlúcós fola a rialú.

- (ii) Luaigh **dhá** éifeacht fhadtéarmacha a bhaineann le diaibéiteas.

1. _____

2. _____ [2]

- (iii) Luaigh **dhá** fháth a bhfuil cóireáil diaibéitis iontach costasach.

1. _____

2. _____ [2]

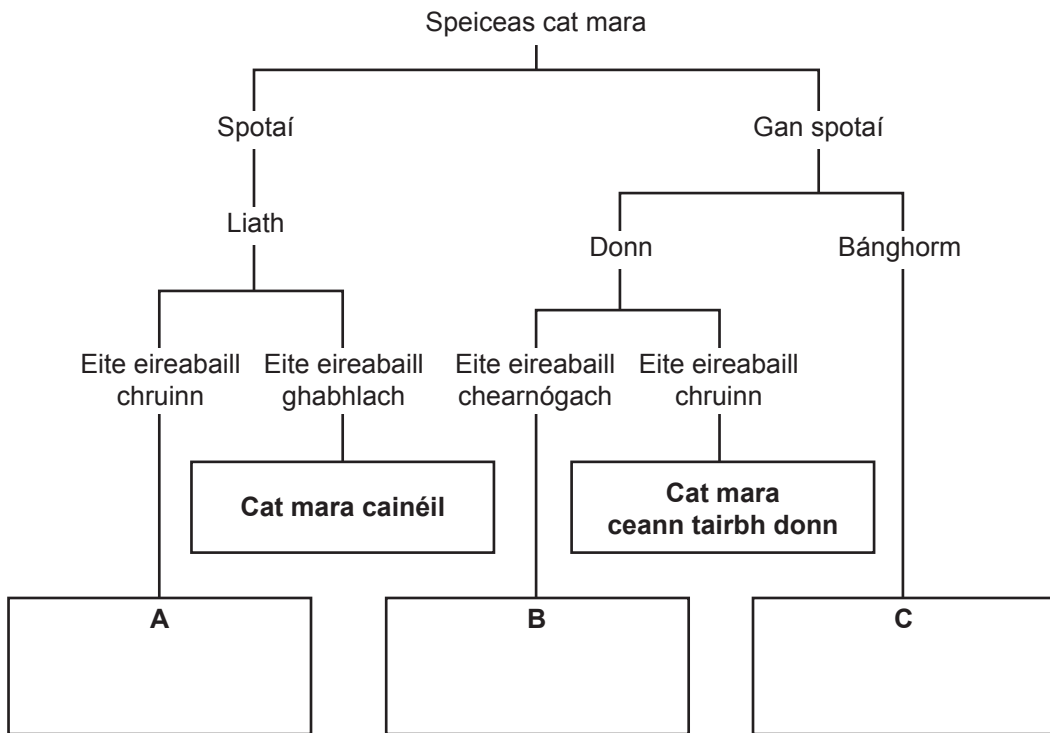
Scrúdaitheoir Amháin	
Marcanna	Athmharc

5 Sa tábla thíos, taispeántar roinnt gnéithe de chúig speiceas de chait mhara.

Scrúdaitheoir Amháin	
Marcanna	Athmharc

Speiceas cat mara	Dath	Cruth ar eite eireabaill	Spotaí
Cainéal	Liath	Gabhlach	Tá
Gorm	Bánghorm	Gabhlach	Níl
Iasc ceannchothrom	Donn	Cearnógach	Níl
Ceann tairbh donn	Donn	Cruinn	Níl
Siúl	Liath	Cruinn	Tá

(a) An fhaisnéis sa tábla agus san eochair in úsáid agat, sainaitheir na speicis chait mhara **A**, **B** agus **C**.



[2]

(b) Tháinig an cat mara siúil ón Áise ó dhúchas ach tugadh isteach go Florida é agus taobh istigh de 10 mbliana d'fhairsingigh sé ar fud 20 contae. Thig leis aer a anáilú nuair a bhíonn sé taobh amuigh den uisce agus, nuair a bhaineann sé úsáid as na heití tosaigh spíonacha aige, thig leis 'siúl' ó linn go linn, mar a gcothaíonn sé é féin ar éisc. Tá an clú ar an chat mara siúil gur speiceas iomaíoch ionrach é.

An fhaisnéis seo agus do chuid eolais in úsáid agat, freagair na ceistanna thíos.

(i) Luaigh **dhá** oiriúnú ag an chat mara siúil a ligeann do fairsingiú go gasta.

1. _____

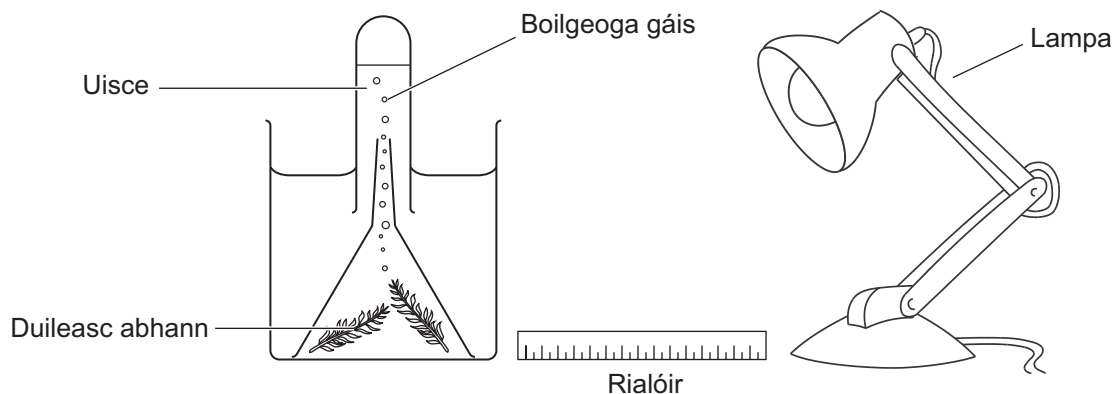
2. _____ [2]

(ii) Seachas a bheith ag fairsingiú go gasta, luaigh **dhá** ghné eile a bhaineann leis na 'speicis iomaíocha ionracha' uilig.

_____ [2]

Scrúdaitheoir Amháin	
Marcanna	Athmharc

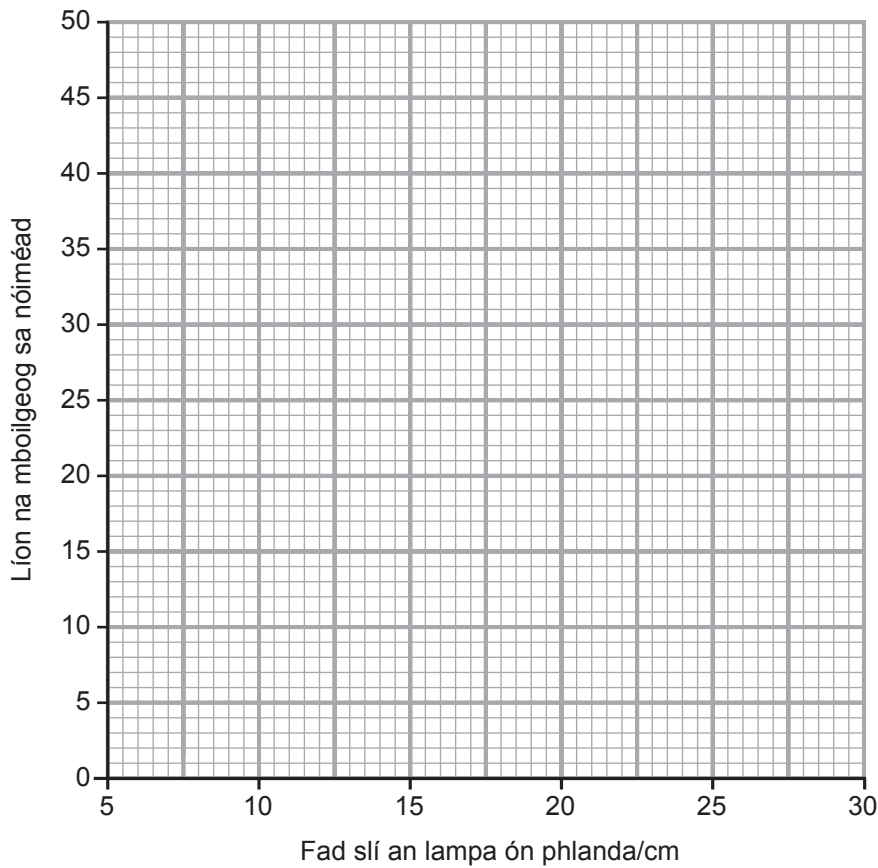
- 6 Cuireadh an turgnamh seo a leanas i dtreoir le himscrúdú a dhéanamh ar éifeacht dhéine an tsolais ar fhótaisintéis. Cuireadh an lampa ag fad slí dhifriúla ón phlanda agus rinneadh comhaireamh ar líon na mboilgeog gáis sa nóiméad.



Taispeántar torthaí an turgnaimh thíos.

Fad slí an lampa ón phlanda/cm	Líon na mboilgeog sa nóiméad
5	50
10	45
15	36
20	20
25	8
30	8

(a) Bain úsáid as na torthaí seo le líneghraf a bhreacadh ar an eangach thíos.



[3]

(b) (i) Ainmnigh an gás a tháirgtear le linn an turgnaimh seo.

[1]

(ii) Cuir síos ar agus mínigh torthaí an imscrúdaithe seo.

[3]

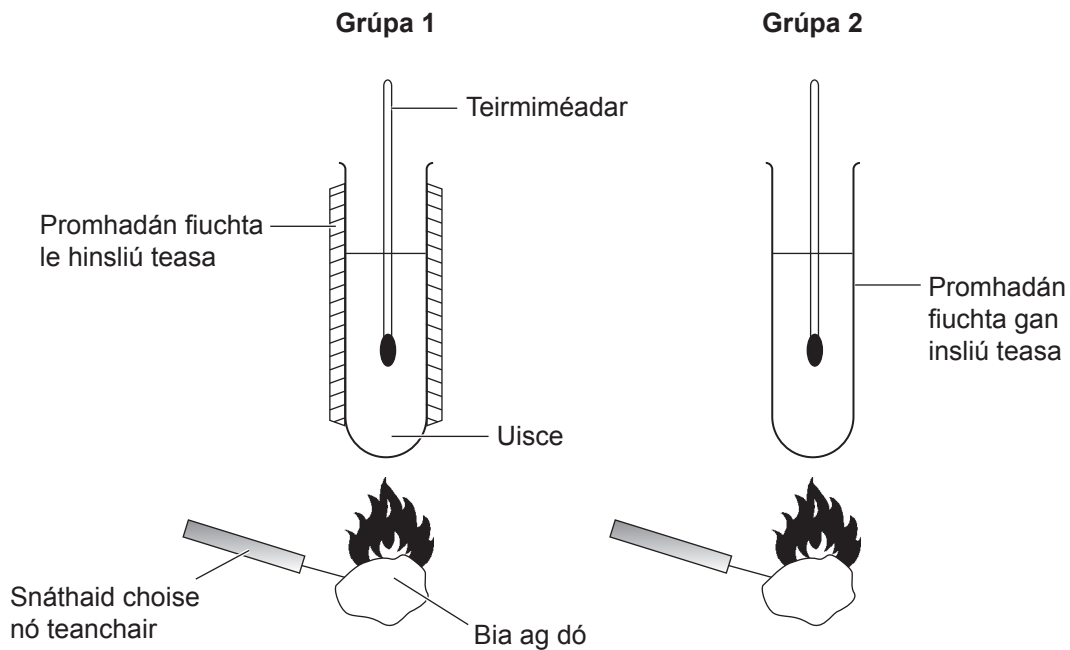
(c) Leis an chuid is mó solais a fháil, is minic a fhásfaidh planda i dtreo sholas na gréine.

Cad é a thugtar ar an fhreagairt seo ar sholas?

[1]

Scrúdaitheoir Amháin	
Marcanna	Athmharc

- 7 Rinne dhá ghrúpa imscrúdú ar chion fuinnimh bia agus bhain gach grúpa úsáid as modh difriúil mar a léirítear thíos. Bhí na modhanna go díreach mar an gcéanna ach amháin gur bhain Grúpa 1 úsáid as ábhar inslithe teasa.



Tá na torthaí ar taispeáint thíos ach tá dhá luach ar iarraidh.

(a) Comhlánaigh an dá luach atá ar iarraidh sna táblaí.

Grúpa 1

Bia	Teocht ag an tús/°C	Teocht ag an deireadh/°C	Ardú teochta/°C
bagún	18	64	46
brioscáin	18	52	34
briosca	18	42	

Grúpa 2

Bia	Teocht ag an tús/°C	Teocht ag an deireadh/°C	Ardú teochta/°C
bagún	18	54	36
brioscáin	18		26
briosca	18	36	18

[2]

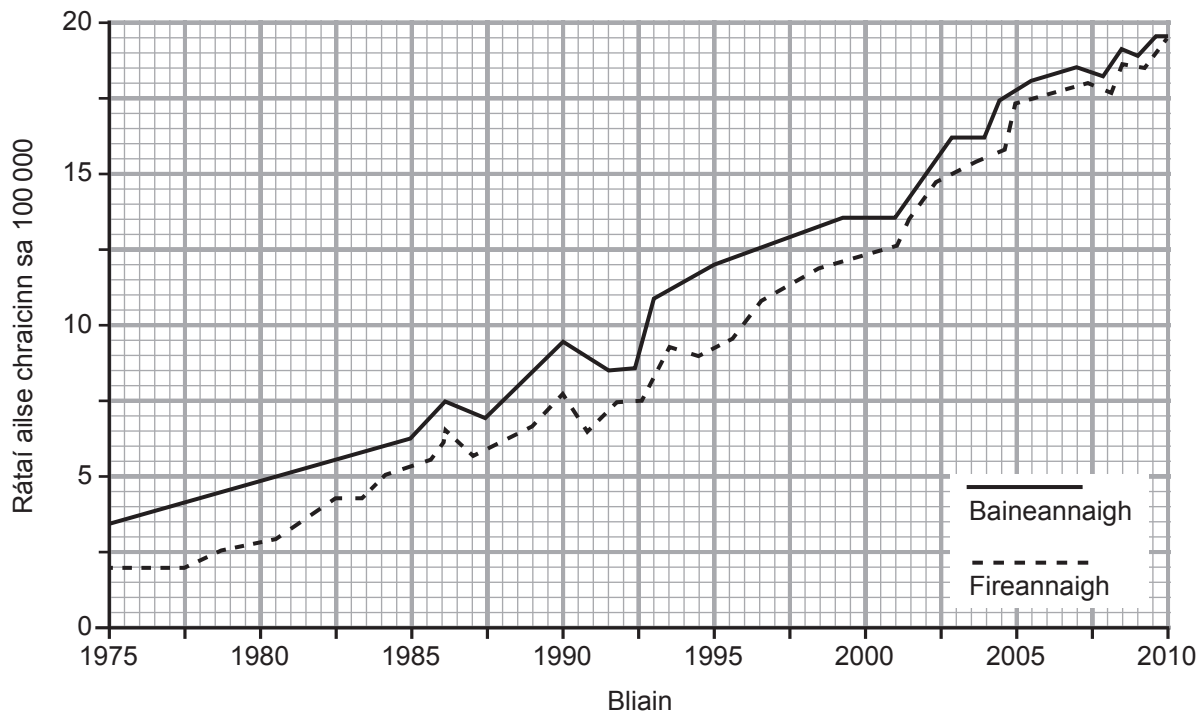
Scrúdaitheoir Amháin	
Marcanna	Athmharc

(b) Bain úsáid as an fhaisnéis a chuirtear ar fáil lena mhíniú ina iomláine, cad chuige a raibh na harduithe teochta a fuair Grúpa 2 níos ísle ná na cinn a fuair Grúpa 1.

[2]

Scrúdaitheoir Amháin	
Marcanna	Athmharc

- 8 (a) An graf thíos, taispeánann sé na rátaí ailse chraicinn (líon sa 100 000) sa RA (UK) idir 1975 agus 2010.



Adapted from: © Cancer Research UK <http://www.cancerresearchuk.org/cancer-info/cancerstats/types/skin/incidence/uk-skin-cancer-incidence-statistics-2013>

- (i) Luigh **dhá** thátal a d'fhéadfaí a bhaint as an fhaisnéis a chuirtear ar fáil.

1. _____

2. _____

_____ [2]

Scrúdaítheoir Amháin	
Marcanna	Athmharc

Cuireann dlí úr i Sasana agus sa Bhreatain Bheag cosc ar dhaoine faoi bhun 18 mbliana d'aois úsáid a bhaint as leapacha gréine.



© Boris Kaulin/iStock/Thinkstock

(ii) Cuir síos ar agus mínigh an éifeacht a bheadh ag an dlí úr seo ar rátaí ailse chraicinn go ceann deich mbliana amach anseo.

[2]

Scrúdaitheoir Amháin	
Marcanna	Athmharc

- (b) An tábla thíos, taispeánann sé an dóigh a dtéann aois máthar i bhfeidhm ar an riosca go mbeadh páiste le siondróm Down aici.

Aois máthar/blianta	An riosca go mbeadh páiste aici le siondróm Down
25	1 as 1350
30	1 as 940
35	1 as 350
40	1 as 85
45	1 as 35
50	1 as 10

Is féidir tástáil a dhéanamh lena fháil amach an bhfuil siondróm Down ar pháiste sula mbeirtear é. Ach tá riosca 1% (1 as 100) go mbeidh breith anabái (go gcaillfear an babái) mar gheall ar an tástáil seo.

- (i) Bain úsáid as an fhaisnéis a chuirtear ar fáil lena mhíniú ina iomláine cad chuige a dtairgtear an tástáil seo de ghnáth do mháithreacha atá os cionn 35 bliain d'aois amháin agus nach dtairgtear é do mháithreacha atá faoi bhun 35 bliain d'aois.

[2]

- (ii) Taobh amuigh den riosca atá i gceist, luaigh fachtóir **amháin** eile a dtiocfadh leis dul i bhfeidhm ar chinneadh máthar maidir leis an tástáil a ghlacadh nó gan í a ghlacadh.

[1]

- (c) Is athruithe ar ábhar géiniteach i gcealla coirp is cúis le hailse chraicinn agus le siondróm Down araon. Luaigh an t-ainm ginearálta a chuireann síos ar athrú ar ábhar géiniteach.

[1]

Scrúdaitheoir Amháin	
Marcanna	Athmharc

9 Rinneadh antaibheathach iomlán nua agus neamhghnách a eastóscadh ó mhíocrorgánach muirí a fhaightear in California.

Cuir síos ar na céimeanna a mbeadh ar an antaibheathach seo dul tríothu sula bhféadfadh dochtúirí é a ordú go sábháilte.

Ba chóir na rudaí seo a bheith sa chuntas agat:

- ainmneacha gach céime agus an rud atá i gceist
- na cúiseanna le gach céim
- saincheist eiticiúil amháin atá i gceist

Sa cheist seo, measúnófar thú ar scileanna na cumarsáide scríofa agat, lena n-áirítear úsáid saintearmaí eolaíocha.

[6]

SEO DEIREADH AN SCRÚDPHÁIPÉIR

Scrúdaitheoir Amháin	
Marcanna	Athmharc

Cuireadh isteach ar chead chun an t-ábhar cóipchirt uile a atáirgeadh.
I gcásanna áirithe is féidir nár éirigh le CCEA teagmháil a dhéanamh le húinéirí cóipchirt agus beidh sé sásta na hadmhálacha sin a fágadh ar lár a chur ina gceart amach anseo ach é a chur ar an eolas.