



Rewarding Learning

General Certificate of Secondary Education
2012–2013

Eolaíocht: Teastas Singil

Aonad 1 (Bitheolaíocht)

Bonnsraith

[GSS11]



DÉ LUAIN 25 FEABHRA 2013, MAIDIN

Uimhir Lárionaid

71

Uimhir Iarrthóra

AM

1 uair an chloig.

TREOIR D'IARRTHÓIRÍ

Scríobh d'Uimhir Lárionaid agus d'Uimhir Iarrthóra sna spásanna chuige sin ag barr an leathanaigh seo.

Scríobh do fhreagraí sna spásanna chuige sin sa scrúdpháipéar seo.

Freagair **gach ceann** de na **naoi** gceist.

EOLAS D'IARRTHÓIRÍ

Is é 60 an marc iomlán don pháipéar seo.

Léiríonn figiúirí idir lúibíní ar thaobh na láimhe deise de leathanaigh na marcanna atá ag dul do gach ceist nó do gach cuid de cheist.

Measúnófar caighdeán na cumarsáide scríofa i gceist **9(a)**.

Don Scrúdaitheoir amháin

Uimhir Ceiste	Marcanna
1	
2	
3	
4	
5	
6	
7	
8	
9	

Marc Iomlán



LEATHANACH BÁN

1 (a) Comhlánaigh an tábla thíos, a bhaineann le miocrorgánaigh a chuireann galar ar dhaoine.

Roghnaigh as:

truis baictéir víreas salmonella

Cineál de mhíocrorgánach	Galar
	polaimiailíteas
fungais	
	gónairith

[3]

(b) Comhlánaigh na habairtí seo a leanas faoin dochar a bhaineann le toitíní a chaitheamh.

Roghnaigh as:

ocsaigin broincíteas tarra

nítrigin nicitín andúil

I measc na substaintí dochracha atá le fáil i ndeatach toitíní,

tá _____ agus _____.

Tá aonocsaíd charbóin ann fosta agus laghdaíonn sin cumas

na fola _____ a iompar.

[3]

Scrúdaitheoir Amháin	
Marcanna	Athmharc

- 2 (a) Anseo thíos tá dhá chuid ainmnithe de chóras atáirgthe na mban agus roinnt feidhmeanna. Úsáid línte le gach cuid ainmnithe a cheangal den fheidhm cheart.

Ainm	Feidhm
ubhagán	an áit a bhforbraíonn an féatas (babaí)
útaras	táirgeann sé uibheacha (ubháin)
	an áit a dtarlaíonn toirchiú

[2]

- (b) Comhlánaigh an abairt thíos.

Roghnaigh as:


antasubstaint hormón ubh speirm

Is féidir le mná piollaire frithghiniúnach a ghlacadh a athraíonn leibhéil a gcuid _____. Mar gheall air sin, ní fhorbraíonn an _____ .

[2]

Scrúdaitheoir Amháin	
Marcanna	Athmharc

Tá Conchúr agus Áine 20 bliain d'aois. Tá siad díreach i ndiaidh pósadh agus níl páistí ar bith acu. Sa léaráid thíos, léirítear an plé a bhí acu faoin fhrithghiniúint.



(c) Mínigh ina iomláine cad chuige a mbeadh an chuid is mó de na daoine ar aon intinn le hÁine.

[2]

Scrúdaitheoir Amháin	
Marcanna	Athmharc

3 (a) Sa ghrianghraf thíos tá ba ag ithe féir i bpáirc.



Foinse: Príomhscrúdaitheoir

Sa pictiúr, léirítear an biashlabhra:

Féar → Bó

(i) Cad é an téarma a úsáidtear le cur síos ar an fhéar sa biashlabhra thuas?

Roghnaigh as:

tomhaltóir tosaigh : tomhaltóir tánaisteach : táirgeoir

_____ [1]

(ii) Luaigh foinse an fhuinnimh atá ag na biashlabhraí uilig.

_____ [1]

(b) Léiríonn an grianghraf thuas go bhfuil patrún na ndathanna difriúil ar chraiceann gach bó. Cad é an cineál éagsúlachta a léirítear leis an difear seo i ndath an chraicinn?

Cuir **ciorc** thart ar an fhreagra cheart.

aonfhoirmeach neamhleanúnach leanúnach [1]

Scrúdaitheoir Amháin	
Marcanna	Athmharc

(c) Is féidir le sócháin i gcealla a bheith ina gcúis leis an éagsúlacht in orgánaigh bheo.

(i) Mínigh ina iomláine cad é a chiallaíonn an téarma 'sóchán'.

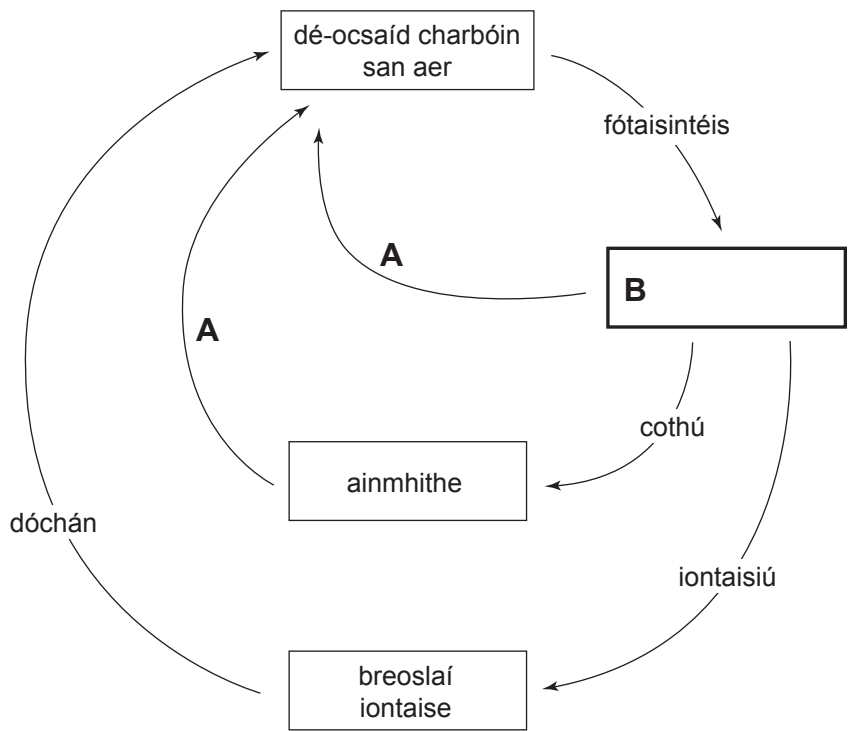
[2]

(ii) Luaigh **aon** ghalar **amháin** a tharlaíonn mar gheall ar shóchán.

[1]

Scrúdaitheoir Amháin	
Marcanna	Athmharc

4 (a) Sa léaráid thíos, léirítear cuid den timthriall carbóin.



(i) Lón an bosca atá lipéadaithe **B** leis an léaráid a chomhlánú. [1]

(ii) Ainmnigh an próiseas atá lipéadaithe **A** ar an léaráid.

_____ [1]

(iii) Tá an dé-ocsaíd charbóin san aer ag méadú. Bain úsáid as an léaráid agus do chuid eolais féin le **dhá** fháth leis seo a thabhairt.

1. _____

2. _____ [2]

Scrúdaitheoir Amháin	
Marcanna	Athmharc

(b) Níor glacadh leis an téamh domhanda mar fhadhb thromchúiseach timpeallachta go dtí ar na mallaibh.

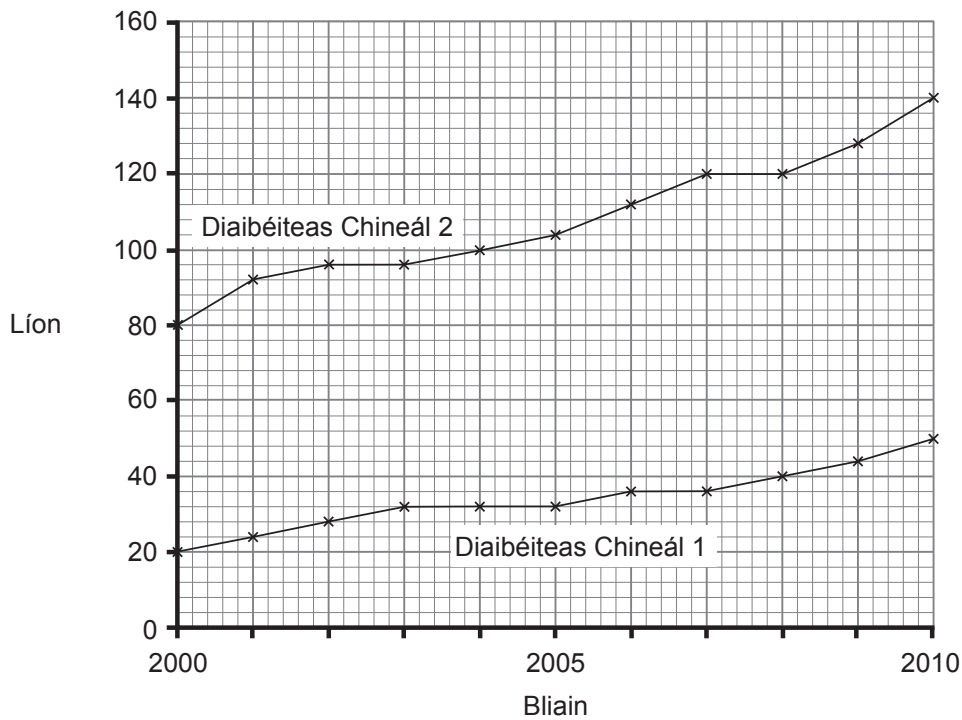
An chuid is mó de na daoine, glacann siad leis anois go bhfuil an téamh domhanda ag tarlú. Sa tábla thíos, bain úsáid as ticeanna le **dhá** fháth a thabhairt leis an athrú meoin seo i measc an phobail.

Fáth	Tic (✓)
Tá gual ag éirí níos costasaí	
Tuilleadh fianaise go bhfuil an aeráid ag athrú	
Tá tuilleadh breoslaí iontaise á n-úsáid	
Níor mhaith le rialtais bac a chur le fás na tionsclaíochta	
Oideachas níos fearr faoin téamh domhanda	

[2]

Scrúdaitheoir Amháin	
Marcanna	Athmharc

- 5 (a) Léiríonn an graf thíos líon na n-othar a raibh diaibéiteas orthu a bhí ag freastal ar ospidéal thar thréimhse deich mbliana.



- (i) Ríomh an difríocht i líon na ndaoine a bhí á gcóireáil do dhiaibéiteas Chineál 2 agus do dhiaibéiteas Chineál 1 in 2010.

(Taispeáin do chuid oibre.)

_____ [2]

- (ii) Cad chuige a raibh méadú i líon na ndaoine a bhfuil diaibéiteas **Chineál 2** orthu thar an tréimhse deich mbliana?

Cuir **ciorcal** thart ar do fhreagra.

méadú ar mhurtall : méadú ar aclaíocht : méadú ar strus [1]

Scrúdaitheoir Amháin	
Marcanna	Athmharc

- (b) Forbraíonn diaibéiteas **Chineál 1** de ghnáth nuair a bhíonn duine in aois páiste agus déantar é a bhainistiú le féin-instealladh insline.

Forbraíonn diaibéiteas **Chineál 2** de ghnáth sa duine fásta agus déantar é a bhainistiú trí athrú a dhéanamh san aiste bia gan inslin a instealladh.

Tig le héifeachtaí fadtéarmacha, lena n-áirítear cliseadh duánach, a bheith ag baint leis an dá chineál mura ndéantar iad a bhainistiú i gceart.

Bain úsáid as an fhaisnéis atá curtha ar fáil agus as do chuid eolais féin leis na ceistanna seo a leanas a fhreagairt.

- (i) Tá an costas a bhaineann le diaibéiteas a chóireáil ag dul i méid. Luaigh **dhá** fháth a bhfuil cóireáil an diaibéitis iontach costasach.

1. _____

2. _____ [2]

- (ii) Cuir síos ar dhóigh **amháin** a dtiocfadh leis an **othar** “drochbhainistiú” a dhéanamh ar an diaibéiteas.

_____ [1]

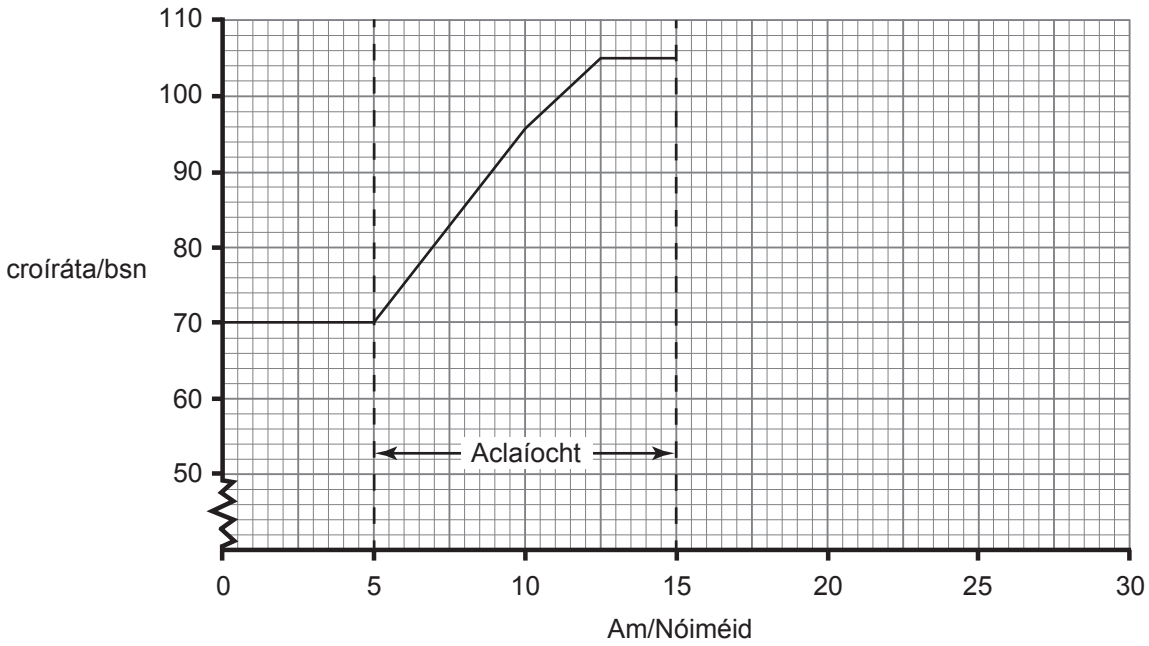
- (c) Seachas cliseadh duánach, luaigh éifeacht fhadtéarmach **amháin** eile a bhaineann le diaibéiteas.

_____ [1]

Scrúdaitheoir Amháin	
Marcanna	Athmharc

6 (a) Taispeánann an graf seo a leanas éifeacht na haclaíochta ar chroírátá Threasa.

Scrúdaitheoir Amháin	
Marcanna	Athmharc



Stop Treasa den aclaíocht i ndiaidh 15 nóiméad agus d'fhill a croírátá go réidh ar an ráta fosaithe thar thréimhse 5 nóiméad.

(i) Comhlánaigh an graf le croírátá Threasa a léiriú idir 15 agus 30 nóiméad. [2]

(ii) Ríomh an t-ardú ar chroírátá Threasa le linn aclaíochta.
 _____ bsn [1]

(iii) Ríomh céatadán an ardaithe ar chroírátá Threasa le linn aclaíochta.
 _____ % [1]

(iv) Míniú ina iomláine cad chuige ar ardaigh croírátá Threasa le linn aclaíochta.

 _____ [3]

Taispeánann an tábla thíos meánleibhéal an cholaistéaróil d'fhir agus do mhná sna haoisghrúpaí éagsúla.

Aois	Meánleibhéal colaistéaróil/ aonaid threallacha	
	Fir	Mná
15–24	4.2	4.1
25–34	5.2	4.8
35–44	5.5	5.1
45–54	5.9	5.8
55–64	6.5	6.3

(b) Luaigh **dhá** threocht a léiríonn an fhaisnéis sa tábla.

1. _____

2. _____
_____ [2]

(c) Luaigh **dhá** athrú ar an stíl mhaireachtála a dtig leo cuidiú le galar croí a laghdú.

1. _____
2. _____ [2]

Scrúdaitheoir Amháin	
Marcanna	Athmharc

Scrúdaitheoir Amháin	
Marcanna	Athmharc

7 Tá planda áirithe ann agus is féidir le bláthanna an phlanda sin a bheith dearg nó bán. Nuair a rinneadh dhá phlanda a raibh bláthanna dearga orthu a chrosáil fuarthas na dathanna seo a leanas.

	Bláthanna dearga	Bláthanna bána
Líon	150	50

(a) Cad é cóimheas na mbláthanna dearga leis na bláthanna bána?

_____ [1]

(b) (i) Comhlánaigh an léaráid ghéiniteach thíos le toradh na crosála thuas a mhíniú.

		r
	Rr	

[2]

(ii) Comhlánaigh géinitíopaí agus feinitíopaí an tsleachta don chrosáil thuas.

géinitíopaí _____ Rr _____ [1]

feinitíopaí _____ Dearg _____ [1]

LEATHANACH BÁN

(Leanann ceisteanna ar aghaidh ar an chéad leathanach eile)

8 Sa ghrianghraf thíos, feictear léicean ag fás ar chrann.



Foinse: Príomhscrúdaitheoir

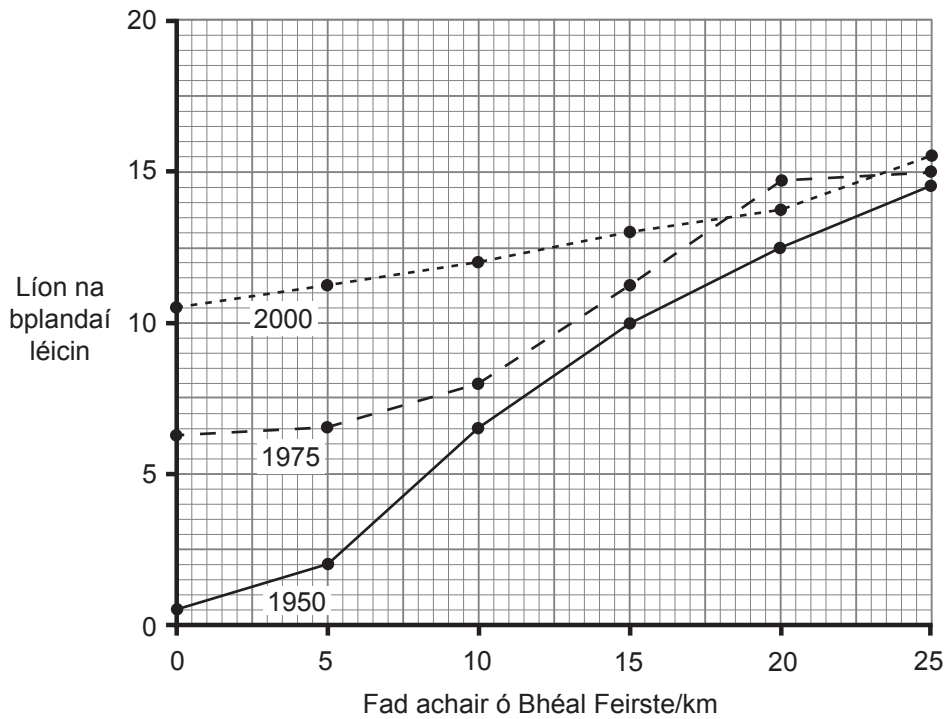
Is monatóir bitheach ar thruailliú é léicean mar ní fhásann cuid mhór de ach amháin san áit nach bhfuil mórán truailithe ann.

(a) Cad é a chiallaíonn an téarma 'bitheach'?

_____ [1]

Scrúdaitheoir Amháin	
Marcanna	Athmharc

- (b) Taispeánann an graf an ghaolmhaireacht idir líon na bplandaí léicin ar chrainn agus an fad achair acu ó Bhéal Feirste sna blianta 1950, 1975 agus 2000.



- (i) An fhaisnéis thuas in úsáid agat, cuir síos ar, agus mínigh, treocht **amháin** a bhaineann leis an athrú ar **thruailliú aeir** i mBéal Feirste agus sa cheantar máguaird.

[2]

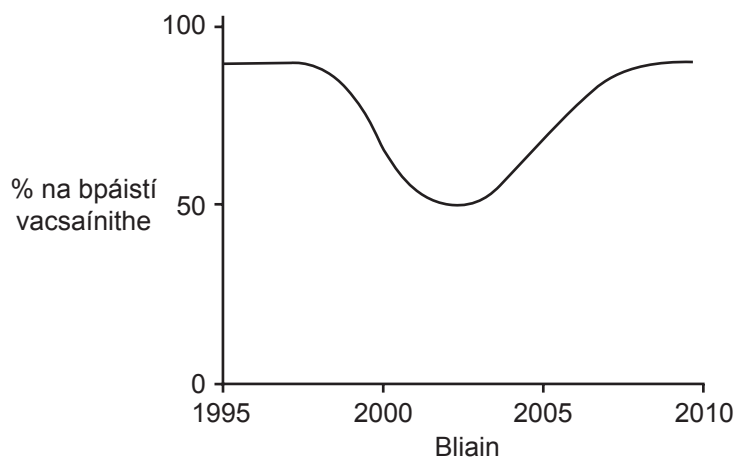
- (ii) Luaigh **dhá** rud a chaithefear a dhéanamh, agus na sonraí á mbailiú, le go mbeidh fiosrúchán bailí (trial chothrom) ann.

1. _____

2. _____ [2]

Scrúdaitheoir Amháin	
Marcanna	Athmharc

- (b) Taispeánann an graf thíos an dóigh ar athraigh céatadán na bpáistí a bhí á vacsaíniú i gcoinne MMR idir 1995 agus 2010.



Bain úsáid as an ghráf leis na ceistanna seo a leanas a fhreagairt.

- (i) Sa bhliain 1998, mhaígh eolaí go raibh nasc idir vacsaíniú MMR agus an t-uathachas. Cad é an fhianaise atá ann gur bréagnaíodh an nasc idir uathachas agus vacsaíniú MMR?

_____ [1]

- (ii) Luaigh **aon** phíosa fianaise **amháin** a thugann le fios go bhfuil imní de chineálacha eile ar roinnt tuismitheoirí go fóill maidir le vacsaíniú MMR.

_____ [1]

SEO DEIREADH AN SCRÚDPHÁIPÉIR

Scrúdaitheoir Amháin	
Marcanna	Athmharc

Cuireadh isteach ar chead chun an t-ábhar cóipchirt uile a atáirgeadh.
I gcásanna áirithe is féidir nár éirigh le CCEA teagmháil a dhéanamh le húinéirí cóipchirt agus beidh sé sásta na hadmhálacha sin a fágadh ar lár a chur ina gceart amach anseo ach é a chur ar an eolas.