



Rewarding Learning

Uimhir Lárionaid

71

Uimhir Iarrthóra

General Certificate of Secondary Education
2012–2013

Eolaíocht: Teastas Singil

Aonad 1 (Bitheolaíocht)

Ardsraith

[GSS12]



DÉ LUAIN 12 SAMHAIN 2012, IARNÓIN

AM

1 uair 15 nóiméad.

TREOIR D'IARRTHÓIRÍ

Scríobh d'Uimhir Lárionaid agus d'Uimhir Iarrthóra sna spásanna chuige sin ag barr an leathanaigh seo.
Scríobh do fhreagraí sna spásanna chuige sin sa scrúdpháipéar seo.
Freagair **gach ceann** den **aon** cheist **déag**.

EOLAS D'IARRTHÓIRÍ

Is é 75 an marc iomlán don pháipéar seo.
Léiríonn figiúirí idir lúibíní ar thaobh na láimhe deise de leathanaigh na marcanna atá ag dul do gach ceist nó do gach cuid de cheist.
Measúnófar caighdeán na cumarsáide scríofa i gceist **2** agus i gceist **8(a)**.

Don Scrúdaitheoir
amháin

Uimhir Ceiste	Marcanna
1	
2	
3	
4	
5	
6	
7	
8	
9	
10	
11	

Marc
Iomlán



Scrúdaitheoir Amháin	
Marcanna	Athmharc

1 (a) Is í ailléil cheannasach (R) a fhágann go dtig le duine an teanga a rolladh.

(i) Comhlánaigh an léaráid thíos lena thaispeáint an dóigh ar féidir le beirt tuismitheoirí, a dtig leo an teanga a rolladh, páiste a bheith acu nach dtig leis sin a dhéanamh.

	R	
	Rr	

[3]

(ii) Cad é an dóchúlacht go mbeadh páiste acu nach dtig leis a theanga a rolladh?

_____ [1]

(b) Is sampla den éagsúlacht neamhleanúnach é rolladh teanga.

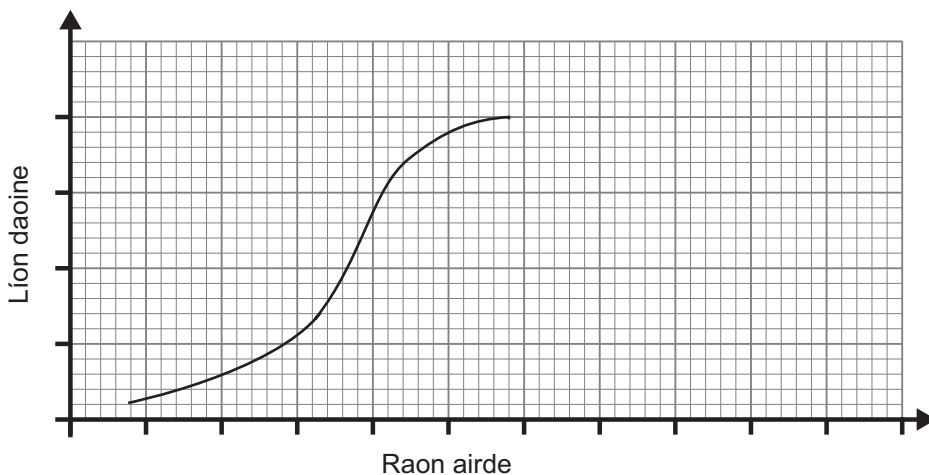
(i) Cad é a chiallaíonn an téarma **neamhleanúnach**?

_____ [1]

(ii) Luaigh sampla **amháin** eile den éagsúlacht neamhleanúnach

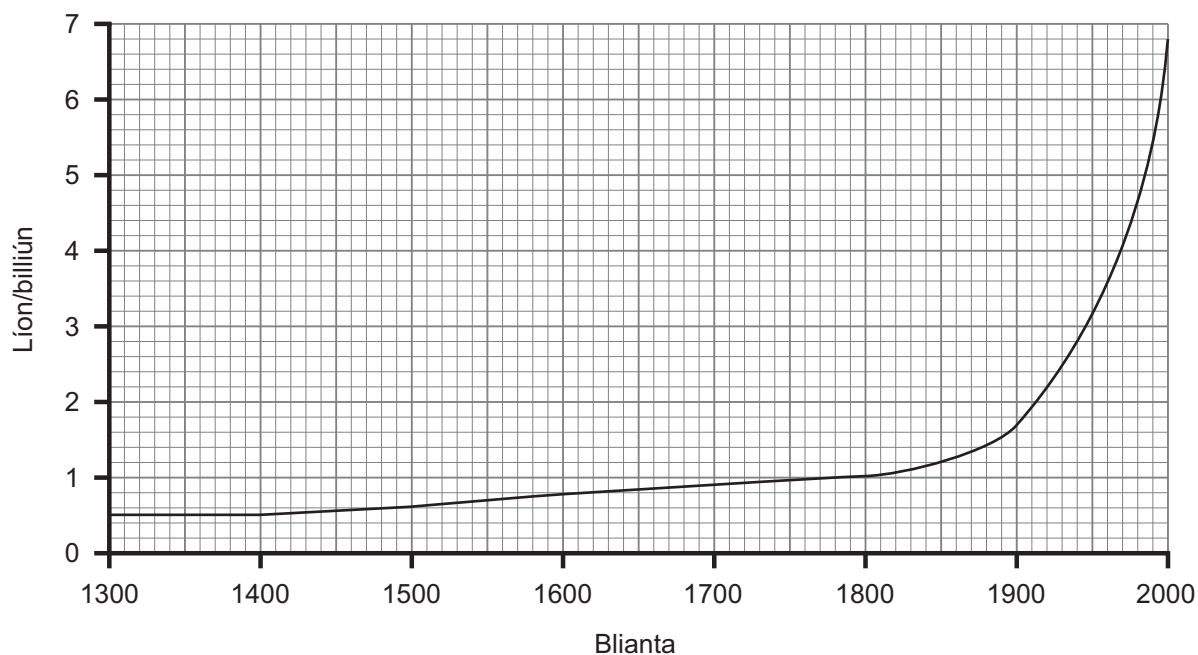
_____ [1]

(c) Rinneadh airde líon mór daoine a thaifeadadh agus taispeánann an graf seo na torthaí a fuarthas. Críochnaigh an líne atá breactha sa ghráf thíos.



[2]

2 Taispeánann an graf thíos an daonra ón bhliain 1300 go dtí an bhliain 2000.



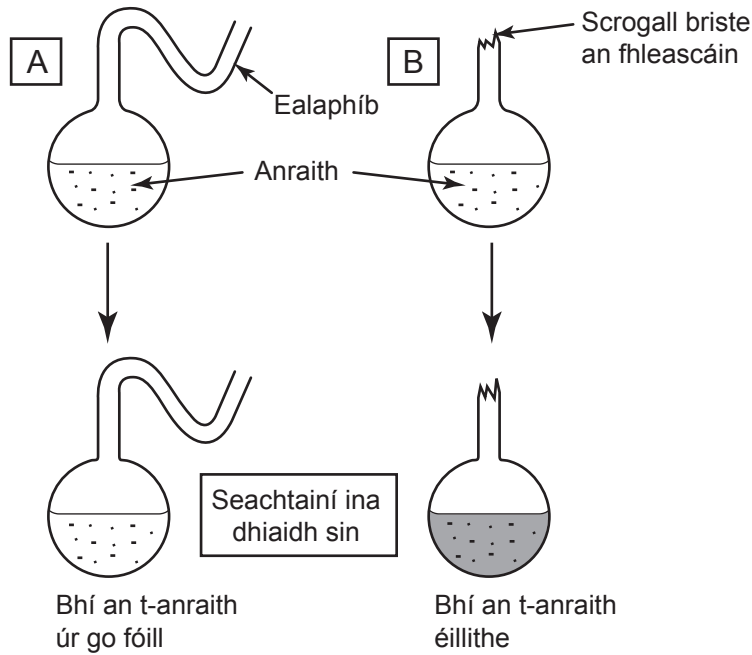
Úsáid an graf agus do chuid eolais féin lena mhíniú cad chuige a bhfuil inní ann go bhfuil an Domhan i mbaol mar gheall ar mhéid an daonra.

Measúnófar thú ar chaighdeán na cumarsáide scríofa ar a n-áirítear úsáid saintearmaí eolaíochta sa cheist seo.

[6]

Scrúdaitheoir Amháin	
Marcanna	Athmharc

3 (a) Taispeánann an léaráid an fearas a bhí in úsáid ag Louis Pasteur lena thaispeáint gur miocróib ón aer is cúis le héilliú bia.



(i) Míneigh ina iomláine an fáth ar fhan an t-anraith in **A** úr agus nár fhan an t-anraith in **B** úr.

[3]

(ii) Luaigh fáth **amháin** a raibh níos lú básanna ann mar gheall ar chneácha oscailte i ndiaidh fhionnachtain Pasteur.

[1]

(b) (i) Míneigh ina iomláine an fáth nach féidir galair amhail an fluú a leigheas le hantaibheathaigh.

[2]

(ii) Luaigh sampla **amháin** de ghalar ar féidir é a leigheas le hantaibheathaigh.

[1]

Scrúdaitheoir Amháin	
Marcanna	Athmharc

- 4 (a) Comhlánaigh an tábla leis na difríochtaí idir gníomhú deonach agus gníomhú athfhillteach a thaispeáint.

Roghnaigh ó:

athraíonn sé : gasta : i gcónaí mar an gcéanna : mall

Difríochtaí	Deonach	Athfhillteach
luas freagartha		
freagairt ar spreagadh		

[2]

- (b) Déan cur síos ar an chonair a ghactar nuair a chlúdaímid ár gcluasa lenár lámha mar fhreagairt ar spreagthach de thorann láidir. Cuir trí struchtúr den néarchóras san áireamh i do fhreagra.

[3]

- (c) Cuir síos ar an éifeacht atá ag na rudaí seo a leanas ar luas na freagartha:

alcól. _____

cócaon. _____

[2]

Scrúdaitheoir Amháin	
Marcanna	Athmharc

- 5 Rinne eolaithe imscrúdú ar dhá mhodh lena fháil amach cé acu ceann ab fhearr le ragús óil a laghdú. Ar dtús, cuireadh céad fear a bhí ina n-óltóirí ragúis ina dhá ngrúpa de chaoga.

Fuair **Grúpa a haon** seisiún comhairle 5 nóiméad ar an dóigh le hiontógáil alcóil a laghdú.

Fuair **Grúpa a dó** dhá sheisiún comhairle 30 nóiméad ar an dóigh le hiontógáil alcóil a laghdú.

Rinneadh monatóireacht ar an dá ghrúpa ar feadh 3 seachtaine lena fháil amach cá mhéad acu a chuaigh ar ragús óil.

Bhí mná páirteach sa triail chomh maith. Bhí an líon céanna acu ann agus caitheadh leo ar an dóigh chéanna.

Taispeántar an torthaí sa tábla.

Scrúdaitheoir Amháin	
Marcanna	Athmharc

		Líon ar ragús óil				Laghdú iomlán	
		Seachtain 1	Seachtain 2	Seachtain 3	Seachtain 4	Líon	Céatadán
Fir	Grúpa 1	50	49	30	22	28	56
	Grúpa 2	50	37	15	12	38	76
Mná	Grúpa 1	50	15	13	12	38	76
	Grúpa 2	50	9	7	5	45	

- (a) Leis an tábla a chomhlánú, ríomh an laghdú iomlán ar chéatadán na mban i nGrúpa 2 thar thréimhse 4 seachtaine. [1]

- (b) Cuir an dá mhodh i gcomparáid lena chéile ó thaobh éifeachtachta de maidir le ragús óil a laghdú i measc na bhfear sa stáidéar.

_____ [1]

Scrúdaitheoir Amháin	
Marcanna	Athmharc

- 6 Seo thíos grianghraf de bhundúin leice na sead. Tá siad le fáil san fharraige amach ó chosta Chorn na Breataine. Tá cinneadh déanta an limistéar seo a shainiú mar Crios Caomhnaithe Mara (anaclann dúlra san fharraige) gan mhoill.



© Natural England 2012 material is reproduced with the permission of Natural England, <http://www.naturalengland.org.uk/copyright>

- (a) Luaigh trí dhóigh a rachaidh an cinneadh seo chun tairbhe do bhundúin leice na sead.

[3]

- (b) Chuir ionadaithe ó thionscal fhuinneamh na gaoithe in aghaidh an chinnidh seo. Luaigh fáth **amháin** leis seo.

[1]

Scrúdaitheoir Amháin	
Marcanna	Athmharc

(c) Tá éagsúlacht mhór speiceas d'orgánaigh mhara sa limistéar seo.

(i) Cad é an téarma a úsáidtear le cur síos a dhéanamh ar éagsúlacht na beatha ar Domhan?

_____ [1]

(ii) Tá gá le héagsúlacht mhór de chineálacha beatha a choinneáil ar Domhan. Luaigh **dhá** fháth leis seo.

_____ [2]

Scrúdaitheoir Amháin	
Marcanna	Athmharc

- 7 Anseo thíos tá 3 rud is cúis le truilliú. I gcás gach ceann acu, luaigh an chuid den timpeallacht atá á truilliú agus luaigh straitéis amháin leis an éifeacht aige a laghdú.

Dramhaíl tí

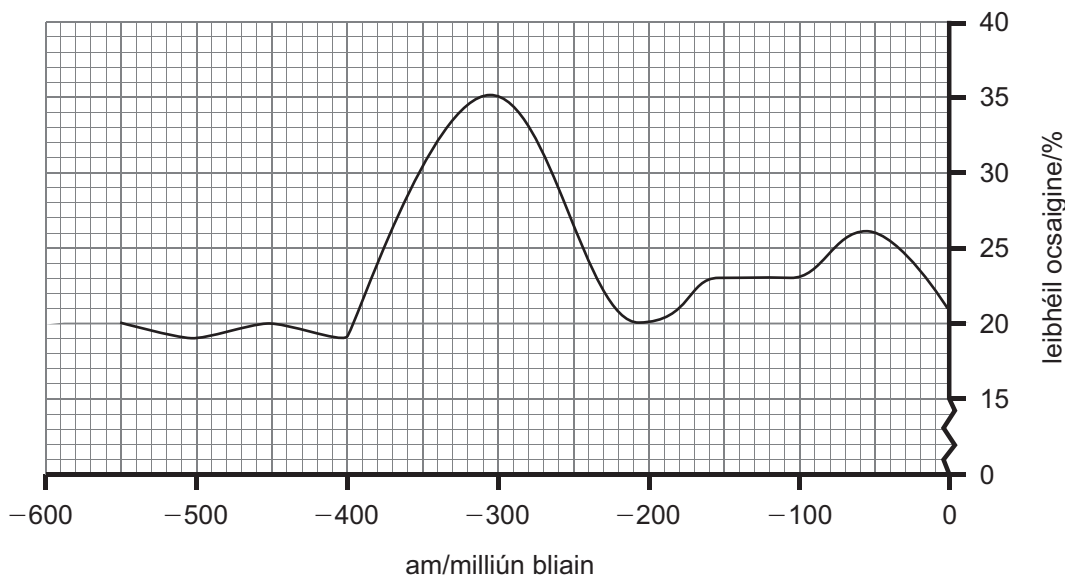
Báisteach aigéadach

Leibhéal níotráite

[3]

Scrúdaitheoir Amháin	
Marcanna	Athmharc

8 (a) Taispeánann an graf thíos céatadán na hocsaigne in atmaisféar an Domhain le 550 milliún bliain anuas.



Déan cur síos agus tabhair míniú iomlán ar an athrú i leibhéal ocsaigine idir 400 milliún bliain agus 200 milliún bliain ó shin.

Measúnófar thú ar chaighdeán na cumarsáide scríofa ar a n-áirítear úsáid saintearmaí eolaíochta sa cheist seo.

[6]

(b) Luaigh **dhá** fháth ar chuir an Eaglais in éadan theoiric éabhlóide Darwin.

[2]

Scrúdaitheoir Amháin	
Marcanna	Athmharc

9 (a) Bhí Rosalind Franklin agus Maurice Wilkins ag comhoibriú le chéile le heolas a fháil ar struchtúr DNA.

(i) Tabhair míniú ar an téarma 'comhoibriú'.

_____ [1]

(ii) Luaigh cad é a fuair Franklin agus Wilkins amach faoi struchtúr DNA agus ainmnigh an próiseas praiticiúil a bhí in úsáid acu.

_____ [2]

(b) (i) Ainmnigh an bheirt eolaithe a d'úsáid samhltú le struchtúr DNA a fhiosrú.

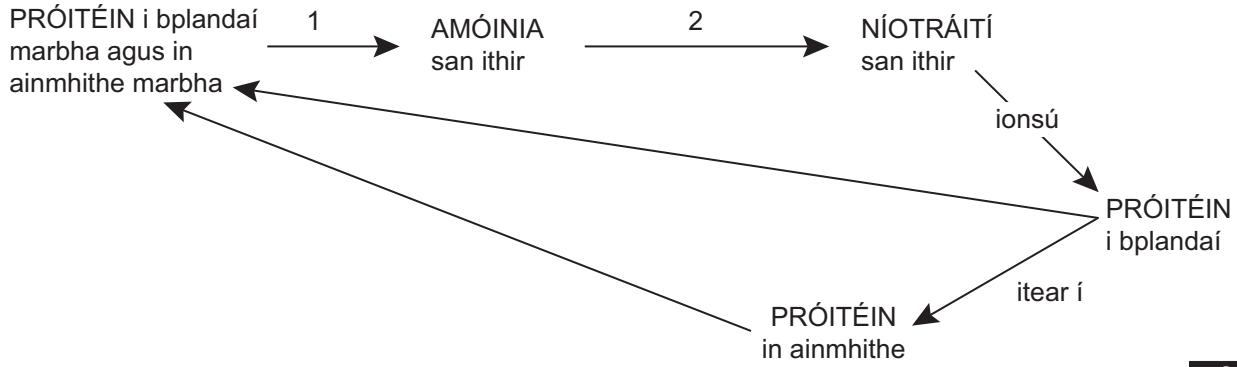
_____ agus _____ [1]

(ii) D'oibrigh Erwin Chargaff ar struchtúr DNA chomh maith. Déan cur síos iomlán ar an méid a d'aimsigh sé.

_____ [2]

Scrúdaitheoir Amháin	
Marcanna	Athmharc

10 (a) Taispeántar thíos cuid den timthriall nítrigine.



(i) Ainmnigh na próisis atá lipéadaithe 1 agus 2 sa léaráid thuas.

Próiseas 1 _____

Próiseas 2 _____ [2]

(ii) Déan cur síos agus tabhair míniú **amháin** ar an dóigh ar féidir le gníomhaíocht daoine cur isteach ar chothromaíocht thimthriall na nítrigine.

 _____ [2]

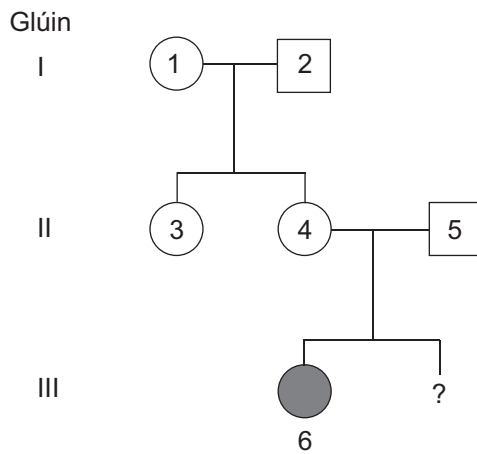
(b) Cuir síos ar an dóigh ar éirigh an **timthriall carbóin** neamhchothromaithe agus luaigh an éifeacht atá aige seo.

 _____ [3]

Scrúdaitheoir Amháin	
Marcanna	Athmharc

11 (a) Seo thíos sampla de léaráid ginealaigh a thaispeánann cad é mar a fhaightear fiobróis chisteach le hoidhreacht.

Is riocht míochaine é fiobróis chisteach arb é ailléil chúlaitheach is cúis leis.



Eochair Gnáthfhireannach Gnáthbhaineannach Baineannach a bhfuil fiobróis chisteach uirthi

(i) Cad é an gaol atá ag duine 3 le duine 4?

_____ [1]

(ii) Agus úsáid á baint agat as siombail c le hionadaíocht a dhéanamh ar ailléil na fiobróise cistí, luaigh géinitíopaí duine 4 agus duine 6.


duine 4 _____

duine 6 _____ [2]

(iii) Fuair an chéad pháiste de dhuine 4 agus de dhuine 5 fiobróis chisteach le hoidhreacht. Cad é an dóchúlacht go mbeadh an riocht seo ar an dara páiste acu?

_____ [1]

(b) Taispeánann an léaráid thíos caraitíopa duine a bhfuil siondróm Down air.



(i) Cuir síos ina iomláine ar an sóchán a thaispeántar sa charaitíopa seo.

_____ [2]

(ii) Téann an sóchán seo i bhfeidhm ar níos mó baill den chorp ná an sóchán is cúis le fiobróis chisteach. Luaigh fáth amháin leis seo.

_____ [3]

SEO DEIREADH AN SCRÚDPHÁIPÉIR

Scrúdaitheoir Amháin	
Marcanna	Athmharc

Cuireadh isteach ar chead chun an t-ábhar cóipchirt uile a atáirgeadh.
I gcásanna áirithe is féidir nár éirigh le CCEA teagmháil a dhéanamh le húinéirí cóipchirt agus beidh sé sásta na hadmhálacha sin a fágadh ar lár a chur ina gceart amach anseo ach é a chur ar an eolas.