



Uimhir Lárionaid

71	
----	--

Uimhir Iarrthóra

--

General Certificate of Secondary Education
2011–2012

Eolaíocht: Teastas Singil (Modúlach)

Gníomhaíocht Dhaonna agus Sláinte

Modúl 2

Bonnsraith

[GSC21]

DÉ MÁIRT 8 SAMHAIN 2011

2.30 pm–3.15 pm



AM

45 nóiméad.

TREOIR D'IARRTHÓIRÍ

Scríobh d'Uimhir Lárionaid agus d'Uimhir Iarrthóra sna spásanna chuige sin ag barr an leathanaigh seo.

Scríobh do fhreagraí sna spásanna chuige sin sa scrúdpháipéar seo.

Freagair **gach ceann** de na **seacht** gceist.

EOLAS D'IARRTHÓIRÍ

Is é 45 an marc iomlán don pháipéar seo.

Léiríonn figiúirí idir lúibíní ar thaobh na láimhe deise de leathanaigh na marcanna atá ag dul do gach ceist nó do gach cuid de cheist.

Don Scrúdaitheoir amháin	
Uimhir Ceiste	Marcanna
1	
2	
3	
4	
5	
6	
7	

Marc Iomlán	
-------------	--

1 (a) (i) Comhlánaigh na habairtí seo a leanas.

Roghnaigh ó:

nítrigin : broincíteas : andúil : aonocsaíd charbóin

Is féidir go bhfuil caitheamh tobac dochrach don chorp. I measc

na substaintí dochracha atá i dtoit toitín tá nicitín agus

_____. Tá tarra ann chomh maith agus is
féidir leis a bheith ina chúis le _____. [2]

(ii) Cad é an éifeacht atá ag nicitín ar an chorp?

_____ [1]

(b) Déanann drugaí dochar fosta. Úsáid línte le gach cineál druga a cheangal dá phríomhéifeacht.

Druga

Éifeacht

Cócaon

Cuireann sé fearg
ar úsáideoirí

Cannabas

Tugann sé mothú
'ard' d'úsáideoirí

Mothaíonn úsáideoirí
go bhfuil siad ar
a suaimhneas

[2]

(c) Is breá le Seán a bheith ag ól alcóil ach síleann sé go bhfuil sé ag ól barraíocht agus ag déanamh dochar dá chorp.

Ciorclaigh dhá rud a thiocfadh leis a dhéanamh le srian a chur ar an méid alcóil a ólann sé.

caife a ól

cloí le teorainneacha molta

deochanna ar bheagán alcóil a ól

ragús óil ag an deireadh seachtaine

[2]

Scrúdaitheoir Amháin

Marcanna Athmharc

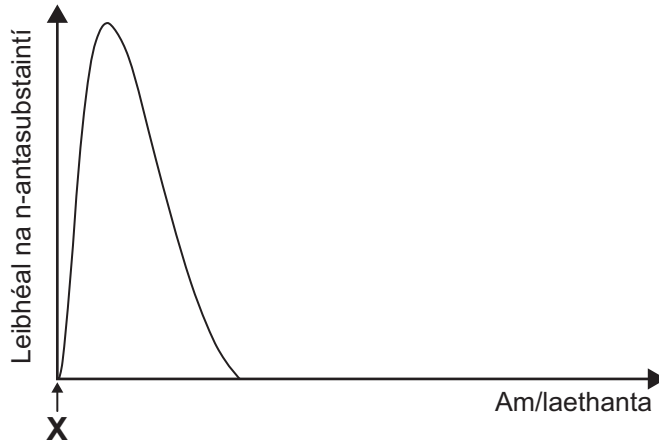
2 (a) Ainmnigh galar a bhfuil víreas ina chúis leis.

Roghnaigh ó:

truis polaimiallitis eitinn

_____ [1]

(b) Taispeánann an graf seo a leanas an dóigh a mbíonn líon na n-antasubstaintí san fhuil ag athrú le linn imdhíonachta éighníomhaí.



(i) Luaigh cad é a thugtar ag **X** le himdhíonacht éighníomhach a tháirgeadh.

Roghnaigh ó:

teandáileog antasubstaintí fuil

_____ [1]

(ii) Luaigh buntáiste amháin as imdhíonacht éighníomhach.

Roghnaigh ó:

tá sé buan : oibríonn sé go gasta : ní mhaireann sé ach ar feadh tréimhse ghairid

_____ [1]

(c) Ainmnigh an cineál miocróib a ndéanann antaibheathaigh cosaint air.

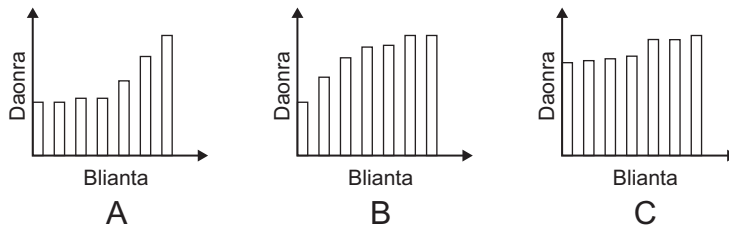
Roghnaigh ó:

víreas baictéir fungais

_____ [1]

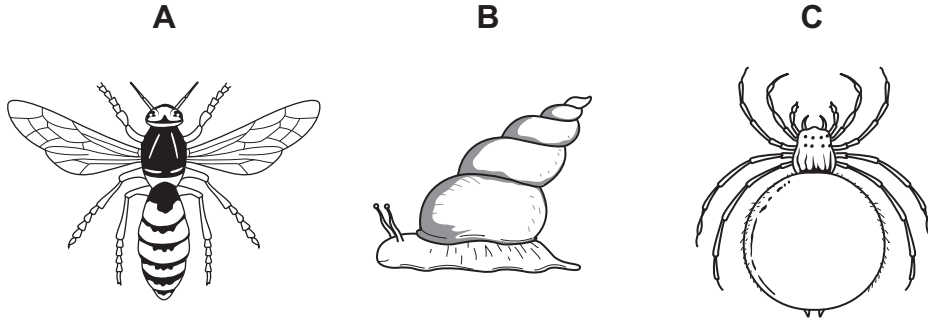
(d) Is mar gheall ar shláinte is fearr a bhfuil méadú ar an daonra.

Cé acu de na graif seo a leanas is fearr a thaispeánann an méadú seo?



Freagra (A, B nó C) _____ [1]

- 3 (a) Úsáid an eochair thíos le gach ceann de na hainmhithe seo a leanas a shainnaint.

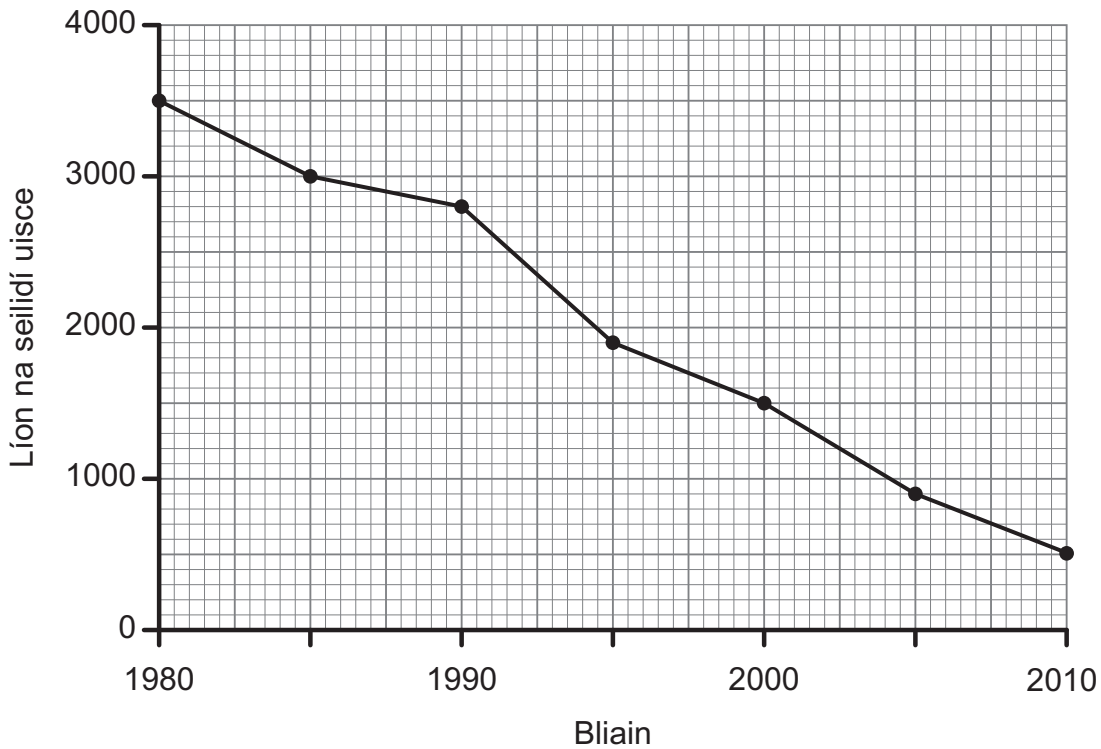


Cuir litir (**A**, **B** nó **C**) sa bhosca cheart taobh le hainm an ainmhí.

- | | | |
|--------------------|---------------|----------------------|
| 1 Tá blaosc ann | Seilide uisce | <input type="text"/> |
| Níl blaosc ann | gabh go dtí 2 | |
| 2 Tá sciatháin ann | Feithid | <input type="text"/> |
| Níl sciatháin ann | Damhán alla | <input type="text"/> |

[2]

- (b) Taispeánann an graf thíos na torthaí ar shuirbhé ar sheilidí uisce in abhainn i dTuaisceart Éireann le tríocha bliain anuas.



(i) Ríomh an t-athrú ar líon na seilidí uisce ó 1980 go dtí 2010.

Scrúdaitheoir Amháin

Marcanna Athmharc

Taispeáin do chuid oibre

_____ [2]

(ii) Is speicis i mbaol iad seilidí anois. Cad é a tharlóidh dóibh má leanann an líon acu ag laghdú?

_____ [1]

(iii) Cad é an chúis is dóchúla leis an laghdú ar líon na seilidí uisce?

Roghnaigh ó:

leibhéil uisce ag méadú : truailliú : níos mó bia ar fáil

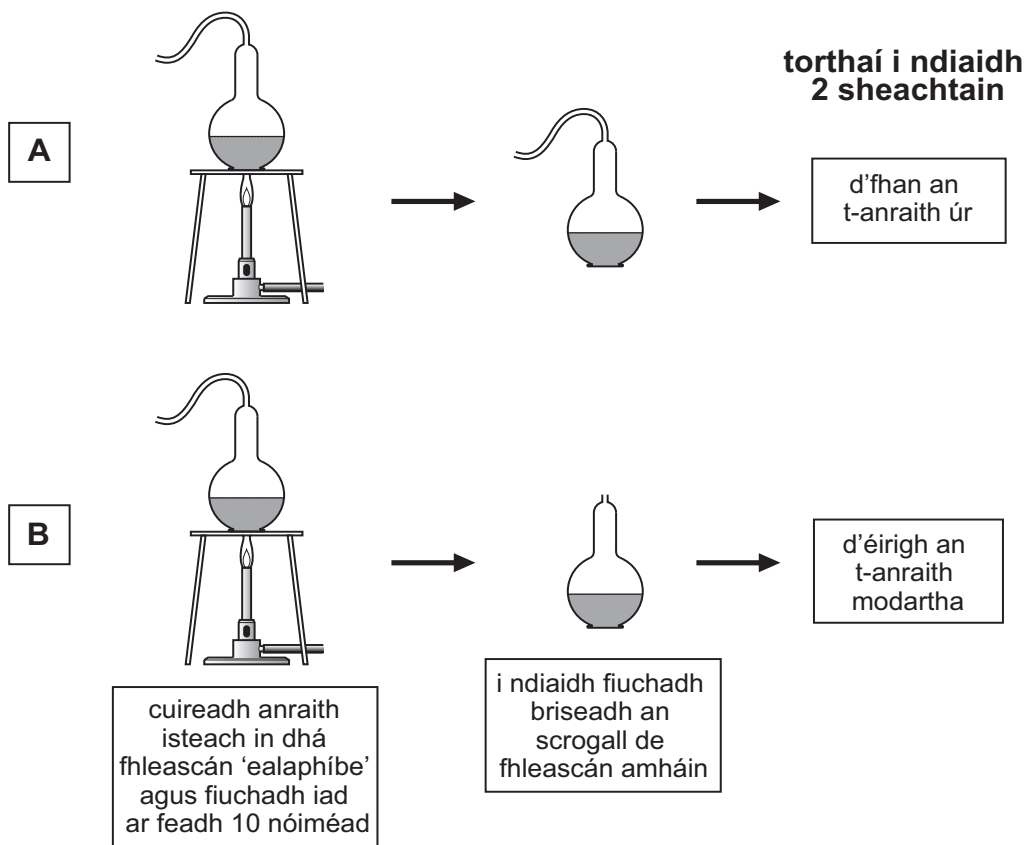
_____ [1]

(iv) Luaigh dhá phíosa faisnéise a léiríonn go bhfuil an suirbhé ar na seilidí uisce iontaofa.

1. _____

2. _____ [2]

4 Rinne daltaí an turgnamh seo a leanas i rang eolaíochta.



Adapted from: © GCSE biology for CCEA by R McIlwaine & J Napier, page 69, published by Hodder & Stoughton, 2003. ISBN 9780340858257. Reproduced by permission of Hodder Education

(a) Luaigh fáth **amháin** ar fiuchadh an t-anraith ar feadh 10 nóiméad ag tús an turgnaimh.

_____ [1]

(b) Mínigh ina iomláine an toradh don anraith i léaráid A.

 _____ [2]

(c) Luaigh dhá rud a bheadh le déanamh lena chinntiú go mbeadh torthaí an turgnaimh bailí (triall chothrom).

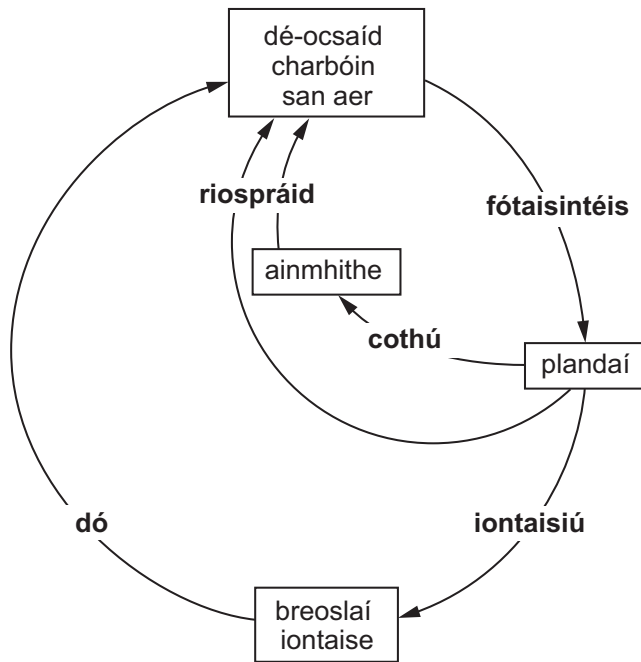
1. _____
 2. _____ [2]

(d) Ainmnigh an t-eolaí a rinne turgnamh cosúil leis agus fleascáin 'ealaphíbe' in úsáid aige.

_____ [1]

5 Taispeánann an léaráid seo a leanas cuid den timthriall carbóin.

Taispeántar na próisis i **gcló trom**.



(a) Ón léaráid, luaigh próiseas **amháin** nach n-athróidh leibhéil na dé-ocsaíde carbóin san aer.

_____ [1]

(b) Úsáid an léaráid agus do chuid eolais féin le **dhá** fháth a bhfuil leibhéal na dé-ocsaíde carbóin san aer ag méadú a lua.

 _____ [2]

(c) Comhlánaigh na habairtí seo a leanas.

Is cúis le _____ é an méadú ar leibhéal dé-ocsaíde carbóin.


Is cúis é seo, ansin, le fadhbanna amhail laghdú ar oighearmhánna agus athrú ar _____.

[2]

6 Taispeánann **Fíor A** síológa nua-phéactha thart ar a máthairchrann.


Scrúdaitheoir Amháin

Marcanna Athmharc



Fíor A

Taispeánann **Fíor B** na síológa bliain ina dhiaidh sin faoin chrann chéanna.



Fíor B

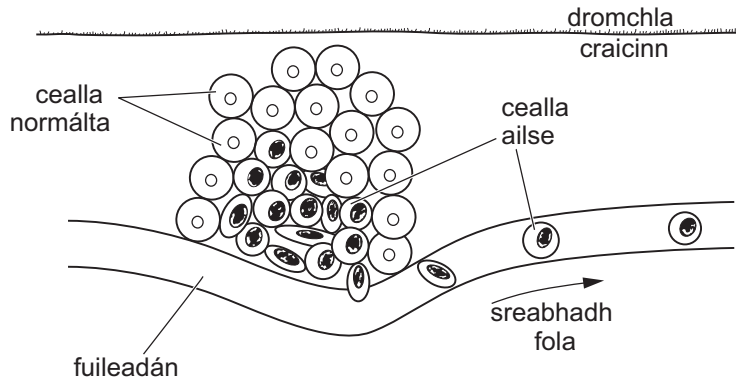
Déan cur síos agus tabhair míniú ar na difríochtaí i líon agus i ndáileadh na síológ idir **Fíor A** agus **Fíor B**.

[4]

LEATHANACH BÁN

(Leanann na ceisteanna ar an chéad leathanach eile)

7 (a) Ailse craicinn a léirítear sa léaráid seo a leanas.



(i) Úsáid an léaráid lena lua cad é mar is féidir le hailse leathnú go dtí baill eile den chorp.

[1]

(ii) Míniú an dóigh a bhforbraíonn cealla ailse craicinn.

[3]

(iii) Luaigh fáth amháin a bhfuil méadú ar líon na ndaoine i dTuaisceart Éireann a bhfuil ailse craicinn ag teacht orthu.

[1]

(b) Ainmnigh an riocht a bhfuil crómasóm breise amháin i ngach cillchorp ina chúis leis.

[1]

(c) Tá Siobhán le cuairt a thabhairt ar an Afraic den chéad uair.

- (i) Luaigh cad chuige ar chóir dí líon de vacsaínithe nua a fháil sula n-imíonn sí.

[2]

- (ii) Mínigh cad chuige a gcaithfear na vacsaínithe seo a thabhairt roinnt seachtainí sula dtéann sí ar laethanta saoire.

[1]

- (iii) Luaigh an fáth a bhfuil vacsaínithe amhail MMR saor in aisce nuair a chaithear íoc as a lán vacsaínithe taistil.

[1]

SEO DEIREADH AN SCRÚDPHÁIPÉIR

Scrúdaitheoir Amháin

Marcanna Athmharc

Cuireadh isteach ar chead chun an t-ábhar cóipchirt uile a atáirgeadh.
I gcásanna áirithe is féidir nár éirigh le CCEA teagmháil a dhéanamh le húinéirí cóipchirt agus beidh sé sásta na hadmhálacha sin a fágadh ar lár a chur ina gceart amach anseo ach é a chur ar an eolas.