



Uimhir Lárionaid

71

Uimhir Iarrthóra

General Certificate of Secondary Education
2010–2011

Eolaíocht: Teastas Singil (Modúlach)

Ag Fanacht Beo

Modúl 1

Bonnsraith

[GSC11]



DÉ MÁIRT 9 SAMHAIN 2010, IARNÓIN

AM

45 nóiméad.

TREOIR D'IARRTHÓIRÍ

Scríobh d'Uimhir Lárionaid agus d'Uimhir Iarrthóra sna spásanna chuige sin ag barr an leathanaigh seo.

Scríobh do fhreagraí sna spásanna chuige sin sa scrúdpháipéar seo. Freagair **gach ceann** de na **seacht** gceist.

EOLAS D'IARRTHÓIRÍ

Is é 45 an marc iomlán don pháipéar seo.

Léiríonn figiúirí idir lúibíní ar thaobh na láimhe deise de leathanaigh na marcanna atá ag dul do gach ceist nó do gach cuid de cheist.

Don Scrúdaitheoir
amháin

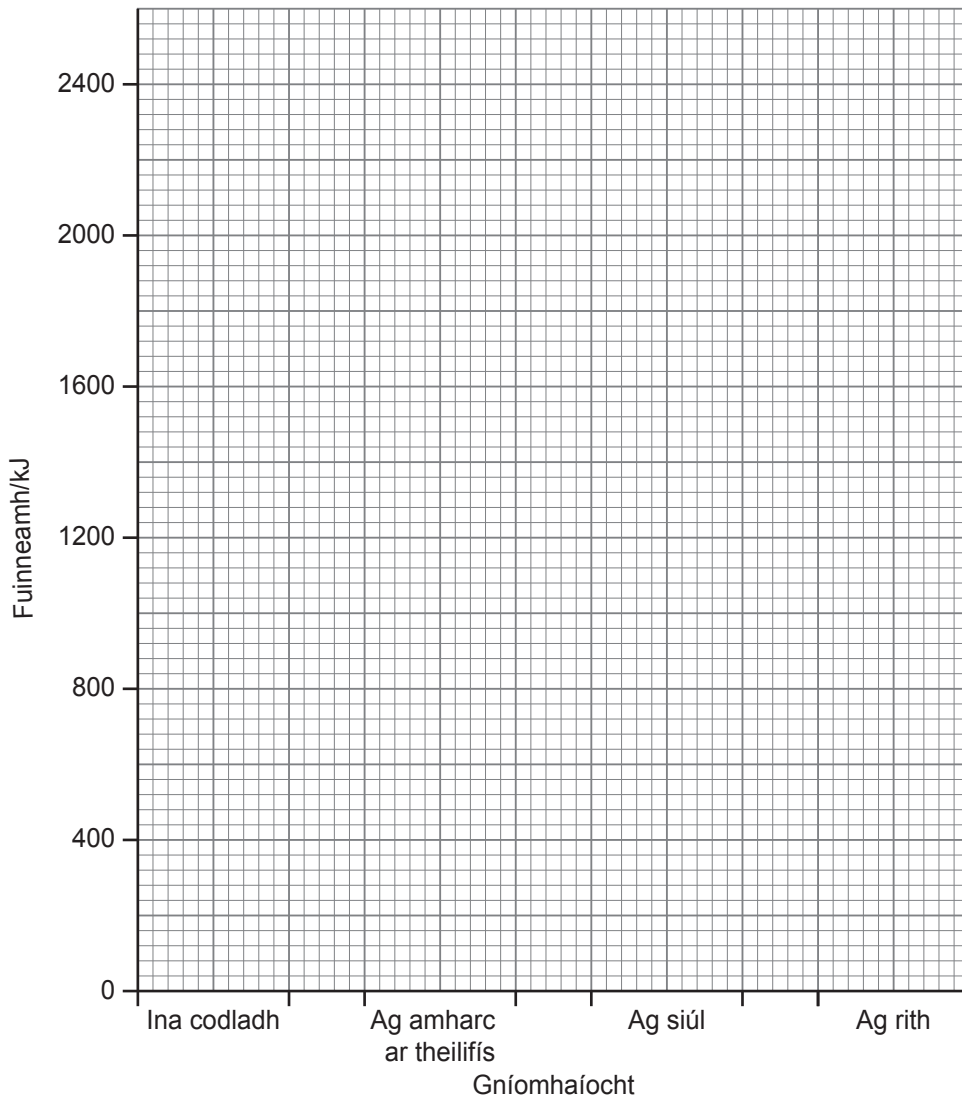
Uimhir Ceiste	Marcanna
1	
2	
3	
4	
5	
6	
7	

Marc
Iomlán

- 1 (a) Taispeánann an tábla thíos cá mhéad fuinnimh a bhíonn de dhíth ar chailín sna déaga le gníomhaíochtaí áirithe a dhéanamh go ceann uair an chloig.

Gníomhaíocht	Fuinneamh atá de dhíth/kJ
ina codladh	400
ag amharc ar theilifís	600
ag siúl	1200
ag rith	2400

- (i) Tarraing **barrachairt** don fhaisnéis seo ar an eangach seo thíos.



[2]

- (ii) Ríomh an difríocht idir an méid fuinnimh a bhíonn de dhíth ar an chailín le bheith ina codladh go ceann uair an chloig agus le bheith ag rith go ceann uair an chloig.

Taispeáin do chuid oibre.

_____ kJ [2]

- (iii) In amanna bíonn buachaillí sna déaga níos gníomhaí ná cailíní sna déaga. Cén éifeacht a bheidh aige seo ar an méid fuinnimh a bhíonn de dhíth ar bhuachaillí i gcomparáid le cailíní?

Roghnaigh ó:

níos mó : níos lú : an méid céanna

_____ [1]

- (b) Comhlánaigh na habairtí seo thíos.

Roghnaigh ó:

fótaisintéis : dé-ocsaíd charbóin : ocsaigin : riospráid

Is ón phróiseas de _____ a fhaigheann an corp fuinneamh.

Táirgeann sé seo an gás _____ . [2]

2 (a) D'úsáid dalta tuaslagán Benedict le sampla d'iógart a thástáil. D'athraigh an tuaslagán ó dhath gorm go dath dearg.

(i) Cén cineál bia a bhí san iógart, mar sin?

Roghnaigh ó:

siúcra : sail : vitimín D


_____ [1]

(ii) Ainmnigh cineál bia a d'athródh iaidín ó dhath flannbhuí go dath gorm/dubh.

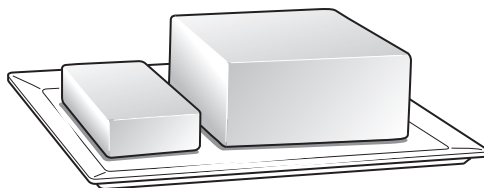
_____ [1]

(b)


ubh



im



líomóid



Roghnaigh ceann amháin de na bianna thuas ina bhfuil:

(i) próitéin a bhíonn de dhíth le haghaidh fáis agus deisiúcháin.

_____ [1]

(ii) méid mór de vitimín C.

_____ [1]

(c) Anseo thíos tá ráitis faoin ghalar scorbach.

1. San 18ú haois níorbh fhios cad chuige ar tháinig scorbach ar mhairnéalaigh a bhí ar turas fada farraige.
2. Má tharla sé go raibh líomaí ar an long ní thiocfadh scorbach ar an oiread sin mairnéalach.
3. Shíl eolaithe gur chuir líomaí cosc ar scorbach.

Cé acu de na habairtí seo (1, 2 nó 3) ar tátal é?

_____ [1]

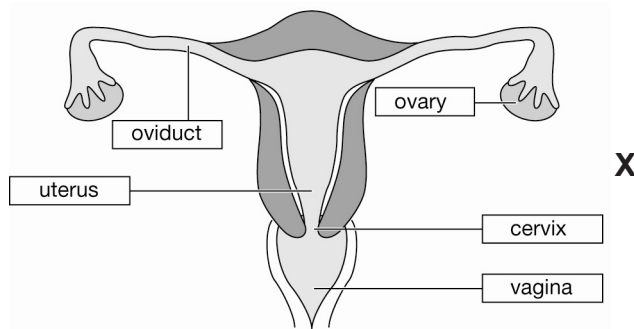
(d) (i) Tá Aindriú róthrom. Seachas níos lú bia a ithe, luaigh dóigh **amháin** ar féidir leis meáchan a chailleadh.

_____ [1]

(ii) Cionn is go bhfuil Aindriú róthrom, luaigh dóigh **amháin** a mbeadh éifeacht aige seo ar dhaoine eile ina shaol.

_____ [1]

3 (a) Anseo thíos tá léaráid den chóras atáirgthe bhaineann.



© Oxford Designers & Illustrators

Cuireann na frásaí seo a leanas síos ar thuras na speirme i ndiaidh di imeacht as an phéineas go dtí go dtoirchítear an ubh, ach níl siad san ord ceart.

- A snámhann tríd an cheirbheacs
- B téann isteach san fhaighin
- C snámhann tríd an útaras
- D toirchíonn an ubh
- E téann isteach san ubhaducht

Agus na litreacha (A, B, C, D agus E) in úsáid agat, cuir na frásaí san ord ceart anseo thíos. Tá an chéad cheann déanta.

 [2]

(b) (i) Is féidir le baineannaigh obráid a fháil sa dóigh nach mbeidh páistí acu. Ar an léaráid thuas, tarraing líne ó X go dtí ceann de na codanna a ghearrtar san obráid seo. [1]

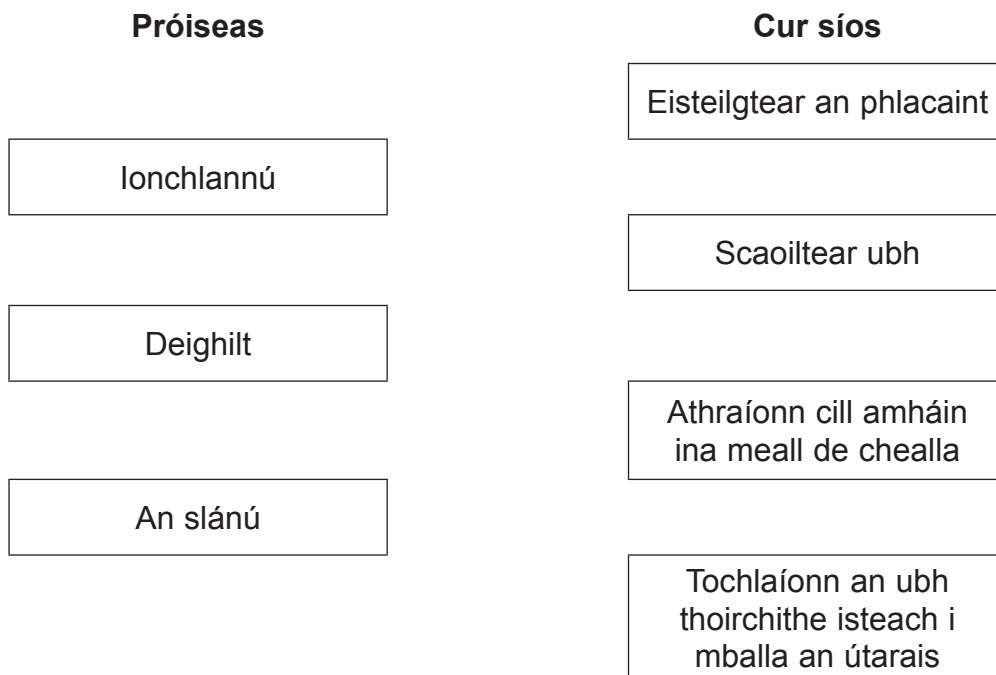
(ii) Míinigh ina hiomláine an dóigh a gcoisceann an obráid seo toircheas.

_____ [2]

(iii) Luaigh fadhb míochaine **amháin** a bhaineann le toirchis i measc déagóirí.

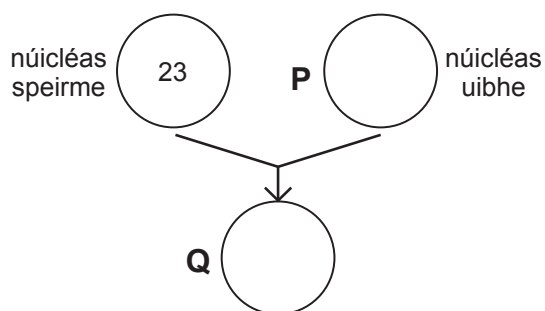
_____ [1]

- 4 (a) Taispeánann na boscaí thíos roinnt próiseas atáirgthe agus cur síos orthu. Úsáid línte le gach próiseas a cheangal dá chur síos ceart. Tá cur síos amháin nach mbeidh in úsáid.



[3]

- (b) Comhlánaigh an léaráid thíos trí líon na gcrómasóm a scríobh i núicléas **P** agus i núicléas **Q**.



[1]

- (c) Comhlánaigh an abairt seo thíos.

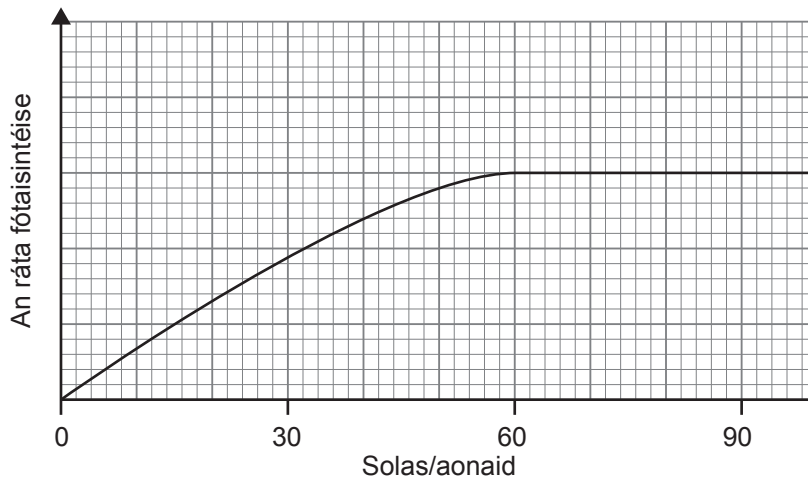
Roghnaigh ó:

heitrisigeach : an feinitíopa : difriúil : homaisigeach

Tá an géinitíopa **BB** _____ do shúile donna mar fuair an sliocht an ghéin chéanna le hoidhreacht ó gach duine de na tuismitheoirí.

[1]

5 Taispeánann an graf thíos an éifeacht a bhíonn ag solas ar an ráta fótaisintéise.



(a) Tá ar gharraíodóir a shocrú cá mhéad solais a chuirfidh sé sa teach gloine. Tá air roghnú as 30, 60 nó 90 aonad solais. Dá mhéad aonaid solais a úsáideann sé is amhlaidh gur airde an costas.

1. Cén ceann ba chóir dó a roghnú?

_____ aonad solais [1]

2. Míneigh do rogha.

_____ [2]

(b) Luaigh **dhá** dhóigh a dtéann próiseas na fótaisintéise chun tairbhe do dhaoine.

1. _____

2. _____ [2]

- 6 (a) Leis an tábla seo thíos a chomhlánú, ainmnigh an struchtúr sa chorp a dhéanann gach ceann de na feidhmeanna.

Feidhm	Ainm an struchtúir
comhordaitheoir	
éifeachtóir	
gabhdóir	

[3]

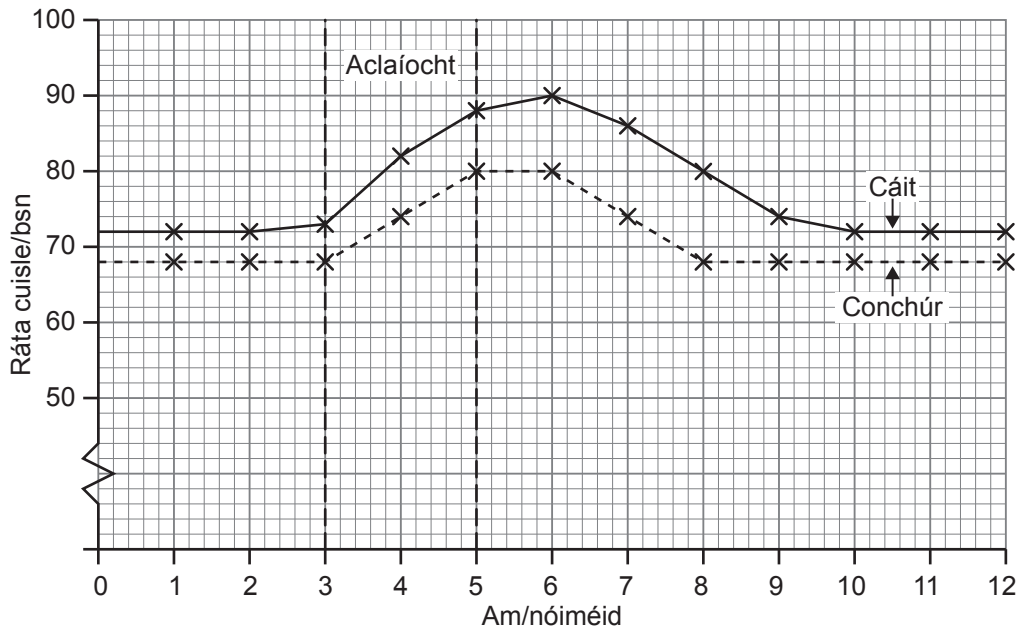
- (b) Mínigh ina hiomláine cén dóigh a gcuidíonn gníomhú athfhillteach leat dó géar a sheachaint má leagann tú lámh ar rud te de thaisme.

[2]

Scrúdaitheoir Amháin

Marcanna Athmharc

- (c) Taispeánann an graf an ráta cuisle do bheirt dhaltaí 15 bliana d'aois, roimh dóibh aclaíocht a dhéanamh, le linn na haclaíochta agus ina diaidh. Bhí siad ag dul don aclaíocht idir 3–5 nóiméad.



- (i) Cá mhéad nóiméad i ndiaidh di an aclaíocht a thosú ar shroich cuisle Cáit an bhuaicráta?

_____ nóiméad [1]

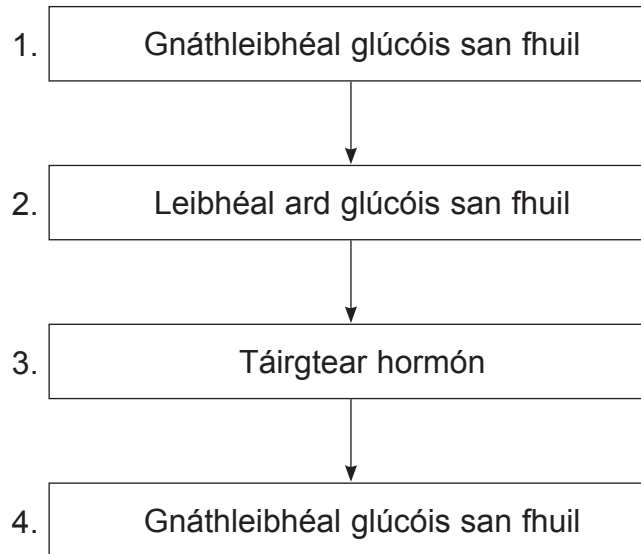
- (ii) Cé acu dalta (Cáit nó Conchúr) is gasta a tháinig chuige/chuici féin i ndiaidh na haclaíochta? Mínigh do fhreagra.

 _____ [1]

- (iii) Lean Cáit uirthi ag déanamh aclaíochta gach lá go ceann roinnt seachtainí ach d'éirigh Conchúr as aclaíocht. Cén éifeacht, dar leat, a bheadh aige seo ar na rátaí téarnaimh acu?

 _____ [1]

7 Taispeánann an tsreabhchart thíos cuid de na céimeanna leis na leibhéil ghlúcóis san fhuil a rialú.



(a) (i) Cad é a tharla, dar leat, idir céimeanna 1 agus 2 gur méadaíodh ar an leibhéal glúcóis i bhfuil an duine?

_____ [1]

(ii) Ainmnigh an hormón a táirgeadh i gcéim 3 agus cuir síos ar an dóigh a mbíonn sé ag feidhmiú leis na leibhéil ghlúcóis a laghdú.

_____ [3]

(b) Tá líon na ndaoine a bhfuil diaibéiteas Cineál 2 orthu ag dul i méid.

(i) Luaigh **dhá** chúis leis seo.

_____ [2]

(ii) Luaigh difear **amháin** idir diaibéiteas Cineál 1 agus diaibéiteas Cineál 2.

_____ [1]

Cuireadh isteach ar chead chun an t-ábhar cóipchirt uile a atáirgeadh.
I gcásanna áirithe is féidir nár éirigh le CCEA teagmháil a dhéanamh le húinéirí cóipchirt agus beidh sé sásta na hadmhálacha sin a fágadh ar lár a chur ina gceart amach anseo ach é a chur ar an eolas.