



General Certificate of Secondary Education
2010–2011

Eolaíocht: Teastas Singil (Modúlach)

Ag Fanacht Beo
Modúl 1
Ardsraith
[GSC12]



DÉ MÁIRT 9 SAMHAIN 2010, IARNÓIN

AM

45 nóiméad.

TREOIR D'IARRTHÓIRÍ

Scríobh d'Uimhir Lárionaid agus d'Uimhir Iarrthóra sna spásanna chuige sin ag barr an leathanaigh seo.
Scríobh do fhreagraí sna spásanna chuige sin sa scrúdpháipéar seo.
Freagair **gach ceann** de na **sé** cheist.

EOLAS D'IARRTHÓIRÍ

Is é 45 an marc iomlán don pháipéar seo.
Léiríonn figiúirí idir lúibíní ar thaobh na láimhe deise de leathanaigh na marcanna atá ag dul do gach ceist nó do gach cuid de cheist.

Uimhir Lárionaid

71

Uimhir Iarrthóra

Don Scrúdaitheoir amháin	
Uimhir Ceiste	Marcanna
1	
2	
3	
4	
5	
6	

Marc
Iomlán

- 1 (a) Leis an tábla seo thíos a chomhlánú, ainmnigh an struchtúr sa chorp a dhéanann gach ceann de na feidhmeanna.

Feidhm	Ainm an struchtúir
comhordaitheoir	
éifeachtóir	
gabhdóir	

[3]

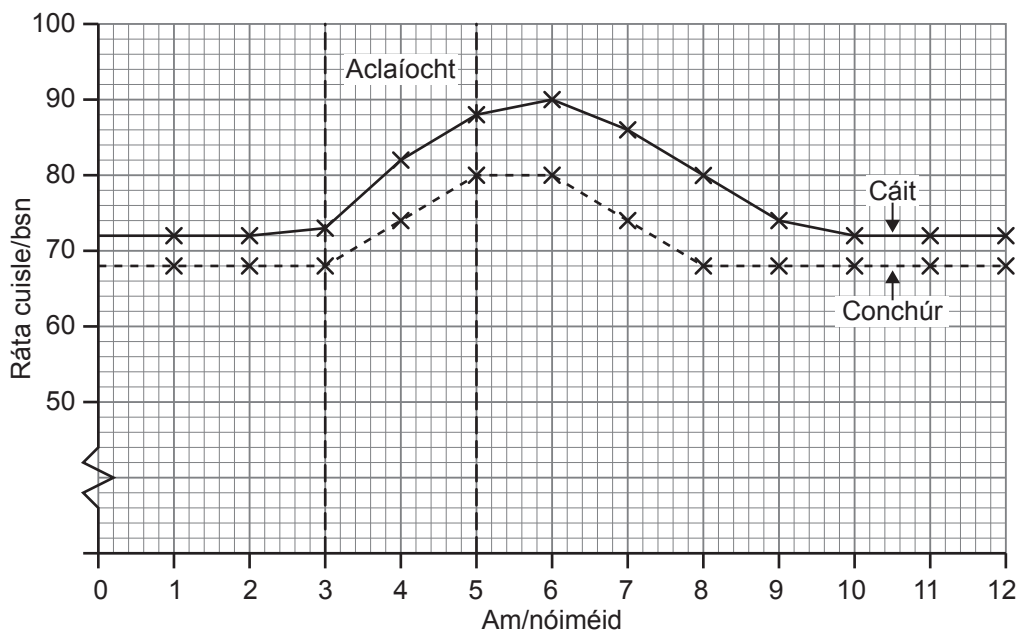
- (b) Mínigh ina hiomláine cén dóigh a gcuidíonn gníomhú athfhillteach leat dó gear a sheachaint má leagann tú lámh ar rud te de thaisme.

_____ [2]

Scrúdaitheoir Amháin

Marcanna Athmharc

(c) Taispeánann an graf an ráta cuisle do bheirt dhaltaí 15 bliana d'aois, roimh dóibh aclaíocht a dhéanamh, le linn na haclaíochta agus ina diaidh. Bhí siad ag dul don aclaíocht idir 3–5 nóiméad.



(i) Cá mhéad nóiméad i ndiaidh di an aclaíocht a thosú ar shroich cuisle Cáit an bhuaicráta?

_____ nóiméad [1]

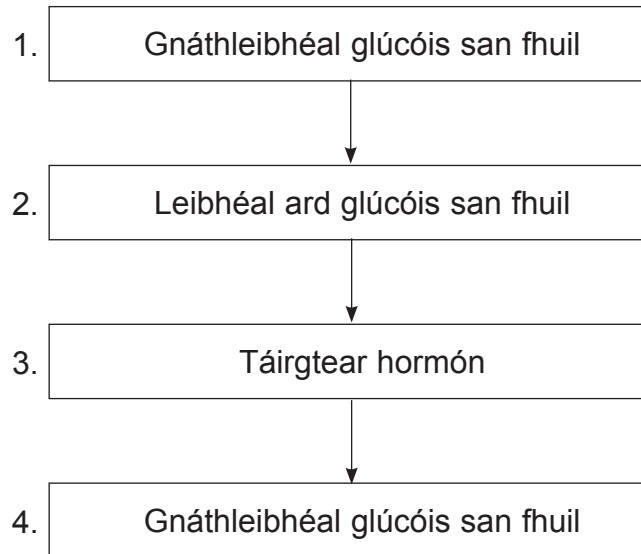
(ii) Cé acu dalta (Cáit nó Conchúr) is gasta a tháinig chuige/chuici féin i ndiaidh na haclaíochta? Mínigh do fhreagra.

 _____ [1]

(iii) Lean Cáit uirthi ag déanamh aclaíochta gach lá go ceann roinnt seachtainí ach d'éirigh Conchúr as aclaíocht. Cén éifeacht, dar leat, a bheadh aige seo ar na rátaí téarnaimh acu?

 _____ [1]

- 2 Taispeánann an tsreabhchart thíos cuid de na céimeanna leis na leibhéil ghlúcóis san fhuil a rialú.



- (a) (i) Cad é a tharla, dar leat, idir céimeanna 1 agus 2 gur méadaíodh ar an leibhéal glúcóis i bhfuil an duine?

_____ [1]

- (ii) Ainmnigh an hormón a táirgeadh i gcéim 3 agus cuir síos ar an dóigh a mbíonn sé ag feidhmiú leis na leibhéil ghlúcóis a laghdú.

_____ [3]

- (b) Tá líon na ndaoine a bhfuil diaibéiteas Cineál 2 orthu ag dul i méid.

- (i) Luaigh **dhá** chúis leis seo.

_____ [2]

- (ii) Luaigh difear **amháin** idir diaibéiteas Cineál 1 agus diaibéiteas Cineál 2.

_____ [1]

- 3 (a) (i) Tá tuismitheoir **X** heitrisigeach do shúile donna agus tá tuismitheoir **Y** homaisigeach do shúile gorma. Ag úsáid 'B' le seasamh don ailléil do shúile donna agus 'b' le seasamh don ailléil do shúile gorma, comhlánaigh an chearnóg Punnett seo thíos.

		Tuismitheoir X	
		B	
Tuismitheoir Y	b		

[2]

- (ii) An géinitíopa Bb, cén feinitíopa a thabharfaidh sé?

_____ [1]

- (iii) Cén céatadán de na páistí is dócha a mbeidh an géinitíopa Bb acu?

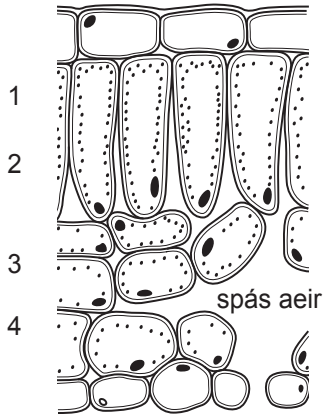
_____ [1]

- (b) Is féidir le dochtúirí anois mínormalachtaí géiniteacha a dhiagnóisiú i leanaí sula mbeirtear iad. Scagthástáil ghéiniteach a thugtar air seo. Luaigh buntáiste **amháin** agus míbhuntáiste **amháin** a bhaineann le scagthástáil ghéiniteach.

_____ [2]

4 (a) Anseo thíos tá léaráid de thrasghearradh trí dhuilleog agus an céatadán de chlórplaist i réigiúin dhifriúla na duilleoige.

an chuid uachtair den duilleog




an chuid íochtair den duilleog

Réigiún den duilleog	An céatadán de chlórplaist
1	42
2	36
3	14
4	8

(i) Cuir scála ar an eangach thíos agus tarraing barrchairt de na torthaí seo.

An céatadán de chlórplaist



Réigiún den duilleog

[3]

(ii) Cuir síos ar an treocht atá á léiriú ag na torthaí seo.

[1]

(iii) Míneigh ina iomláine an fáth leis an treocht seo.

[2]

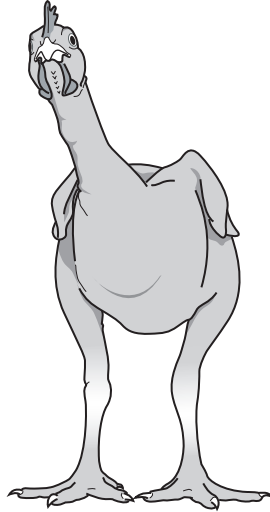
(b) Scríobh an chothromóid focal do phróiseas na fótaisintéise anseo thíos. [2]

Scrúdaitheoir Amháin

Marcanna Athmharc

--	--

- 5 (a) Tá eolaithe i ndiaidh sicín conspóideach a phórú. Fásann an sicín seo go gasta agus níl aon chleítí air mar a thaispeántar anseo thíos.



- (i) I dtéarmaí riospráide, mínigh cad chuige a mbeadh níos mó bia in aghaidh an lae de dhíth ar an sicín a fhásann go gasta ná mar a bheadh de dhíth ar ghnáthshicín.

[2]

- (ii) Luaigh **dhá** bhuntáiste a bhaineann leis an phór seo d’fheirmeoirí sicíní.

[2]

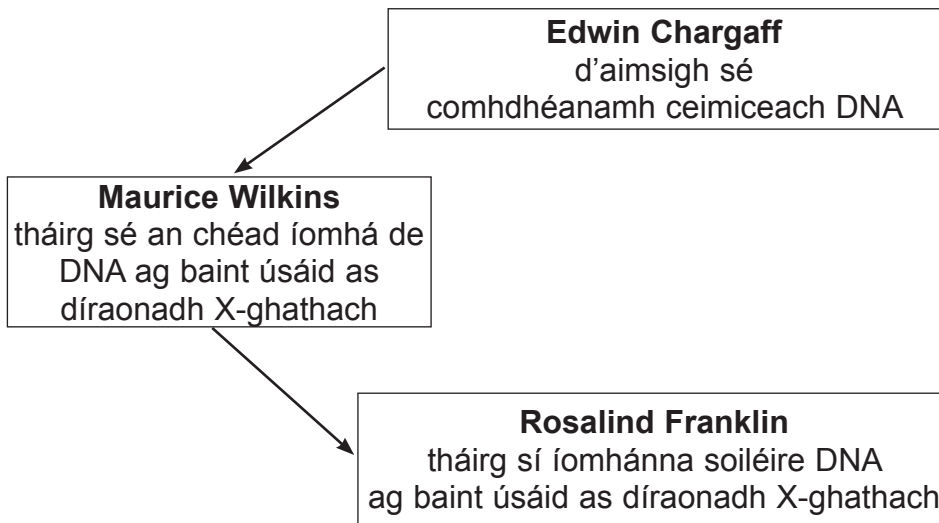
- (iii) Luaigh fáth nach mbeadh daoine áirithe sásta le hainmhithe den chineál seo a phórú.

[1]

- (b) Cuid de na plandaí a ithimid, táthar i ndiaidh a ngéinte a athrú. Ainmnigh an próiseas seo agus luaigh **dhá** bhuntáiste a bhaineann leis.

[3]

- 6 (a) Taispeánann an léaráid thíos cuid de na céimeanna a bhain le fionnachtain struchtúr DNA.



Ainmnigh an bheirt eolaithe a thóg ar fhionnachtain Franklin.
Ainmnigh an próiseas a bhí in úsáid acu agus luaigh an rud a d'aimsigh siad faoi struchtúr DNA.

[3]

- (b) Tarraing fad gearr lipéadaithe de DNA lena thaispeáint cén dóigh a bhfuil na comhbhaill dhifriúla, na bunanna san áireamh, nasctha le chéile.

[3]

(c) Míniú hipitéis an bhuntriopléid.

[2]

Scrúdaitheoir Amháin

Marcanna Athmharc

SEO DEIREADH AN SCRÚDPHÁIPÉIR

Cuireadh isteach ar chead chun an t-ábhar cóipchirt uile a atáirgeadh.
I gcásanna áirithe is féidir nár éirigh le CCEA teagmháil a dhéanamh le húinéirí cóipchirt agus beidh sé sásta na hadmhálacha sin a fágadh ar lár a chur ina gceart amach anseo ach é a chur ar an eolas.