



Rewarding Learning

General Certificate of Secondary Education
2009–2010

Uimhir Lárionaid

71

Uimhir Iarrthóra

Eolaíocht: Teastas Singil (Modúlach)

Gníomhaíocht agus Sláinte an Duine
Modúl 2

Bonnsraith

[GSC21]



GSC21

DÉARDAOIN 20 BEALTAINE 2010, IARNÓIN

AM

45 nóiméad.

TREOIR D'IARRTHÓIRÍ

Scríobh d'Uimhir Lárionaid agus d'Uimhir Iarrthóra sna spásanna chuige sin ag barr an leathanaigh seo.

Scríobh do fhreagraí sna spásanna chuige sin sa scrúdpháipéar seo.

Freagair **gach ceann** de na **seacht** gceist.

EOLAS D'IARRTHÓIRÍ

Is é 45 an marc iomlán don pháipéar seo.

Léiríonn figiúirí idir lúibíní ar thaobh na láimhe deise de leathanaigh na marcanna atá ag dul do gach ceist nó do gach cuid de cheist.

Don Scrúdaitheoir ambhain	
Uimhir Ceiste	Marcanna
1	
2	
3	
4	
5	
6	
7	

Marc Iomlán

LEATHANACH BÁN

Scrúdaitheoir Amháin	
Marcanna	Athmharc

- 1 (a) (i) Is cineál de mhíocróib iad baictéir agus víris is cúis le galair. Línte in úsáid agat, ceangail gach cineál de mhíocrób den ghalar a bhfuil sé ina chúis leis. Ní úsáidfear galar amháin.

Cineál de mhíocrób

Galar

Baictéir

Truis

Víreas

Salmonella
(nimhiú bia)

Fliú

[2]

- (ii) Ainmnigh an **cineál** eile de mhíocrób is féidir a bheith ina chúis le galair.

_____ [1]

- (b) Comhlánaigh na habairtí seo a leanas.

Roghnaigh ó:

víris : baictéir : peinicillin : paraicéiteamól

Tugadh _____ ar an chéad antaibheathach a fionnadh.

Níl éifeacht ag antaibheathaigh ach ar _____ . [2]

2 (a) Nuair a thiteann an líon d'orgánach beo go dtí leibhéal iontach íseal, is féidir go mbeidh an speiceas i mbaol díothaithe.

(i) Cén focal a chuireann síos ar speiceas atá i mbaol díothaithe?

Roghnaigh ó:

dódó i gcontúirt iomaíoch

_____ [1]

(ii) Tá a lán cineálacha iasc, amhail trosc, i mbaol díothaithe. Ainmnigh an speiceas is cúis, den chuid is mó, le líon na n-iasc a bheith ag laghdú.

Ciorclaigh do fhreagra.

siorcanna

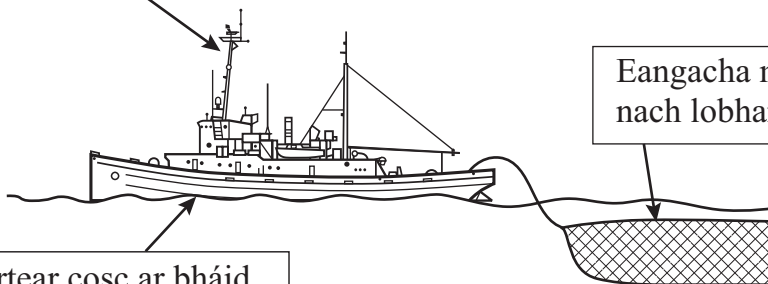
daoine

míolta móra

[1]

(b) Sa léaráid thíos taispeántar gnéithe áirithe den iascaireacht nua-aimseartha.

Tá teorainn le líon na mbád iascaigh a bhfuil cead iascaireachta acu **A**



Eangacha móra láidre nach lobhann **B**

Cuirtear cosc ar bháid a bheith ag iascaireacht in áiteanna áirithe **C**

(i) Cén ghné (**A**, **B** nó **C**) sa léaráid **nach mbeidh** ina cuidiú le stoic iasc a chaomhnú?

_____ [1]

(ii) Luaigh **dhá** rud is féidir a dhéanamh le stoic iasc a chaomhnú.

Roghnaigh ó:

Radar níos fearr ar bháid nua-aimseartha

Eangacha a bhfuil mogaill mhóra iontu

Líon na laethanta iascaireachta a laghdú

Eangacha a bhfuil mogaill bheaga iontu

1. _____
2. _____ [2]

(c) Tá ioraí rua i mbaol díothaithe in Éirinn.



© Terry Whittaker/Alamy

Luaigh rud **amháin** is féidir a dhéanamh lena líon a mhéadú.
Ciorclaigh do fhreagra.

Truailliú a chosc in aibhneacha

Líon na n-ioraí glasa a laghdú

Plandaí róslabhrais a bhaint ar shiúl

[1]

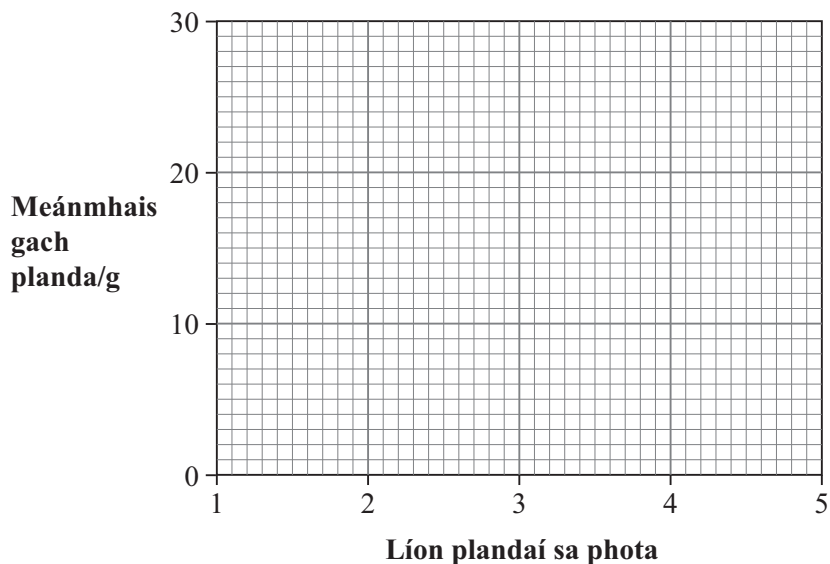
Scrúdaitheoir Amháin	
Marcanna	Athmharc

3 Rinne Sinéad imscrúdú lena fháil amach an raibh éifeacht ag líon na bplandaí i bpota ar fhás gach planda.

Seo iad na torthaí a fuair sí.

Líon plandaí i bpota	Meánmhais gach planda/g	Líon na nduilleog	Líon na bhfréamhacha
1	27	5	4
2	18	5	4
3	12	4	4
4	9	3	4
5	7	2	4

(a) Ar an eangach thíos, breac **líneghraf** de mheánmhais gach planda ar líon na bplandaí sa phota.



[2]

(b) Na torthaí agus d'eolas féin in úsáid, comhlánaigh na habairtí seo a leanas.

De réir mar a mhéadaíonn líon na bplandaí sa phota,

_____ meánmhais gach planda. Tarlaíonn seo de

bhrí go bhfuil siad in iomaíocht lena chéile le haghaidh acmhainní

amhail cothaithe, spás agus _____.

Taispeánann na torthaí go bhfuil rud amháin ann **nach** dtéann an méadú ar líon na bplandaí i bpota i bhfeidhm air, is é sin líon na

_____ ar an phlanda.

[3]

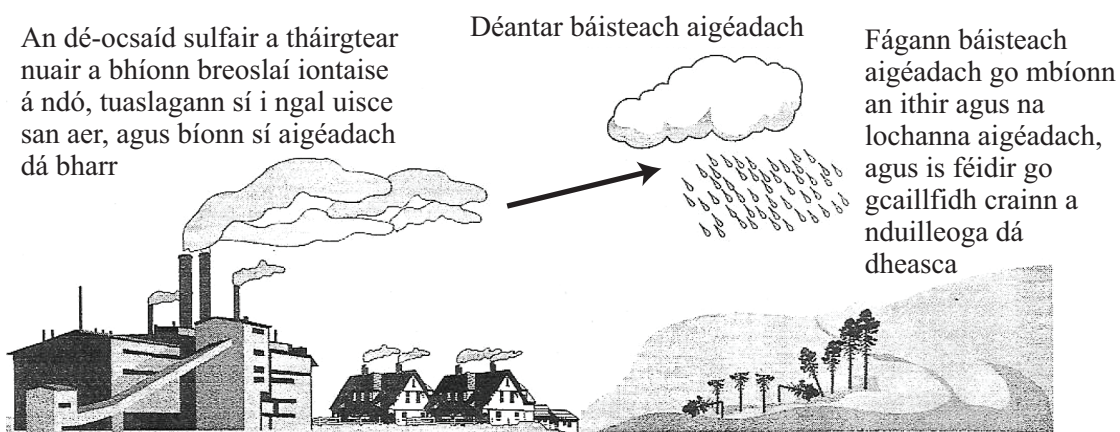
(c) Luaigh **dhá** rud a dhéanadh Sinéad san imscrúdú lena chinntiú go mbeadh a cuid torthaí bailí (trial chothrom).

1. _____
2. _____ [2]

(d) Luaigh cad é a tharlódh dá gcuirfeadh Sinéad 20 planda sa phota.

_____ [1]

4 (a) Taispeánann an léaráid seo a leanas an dóigh a dtarlaíonn báisteach aigéadach.



© GCSE Single Award Science for CCEA By T Lavery, J Napier & R White, editor J Napier, page 81, published by Hodder Murray, 2006 ISBN 0340 926007 'Reproduced with permission'.

(i) An léaráid agus do chuid eolais féin in úsáid agat, mínigh an fáth a dtéann an cineál truailithe seo i bhfeidhm ar éisc.

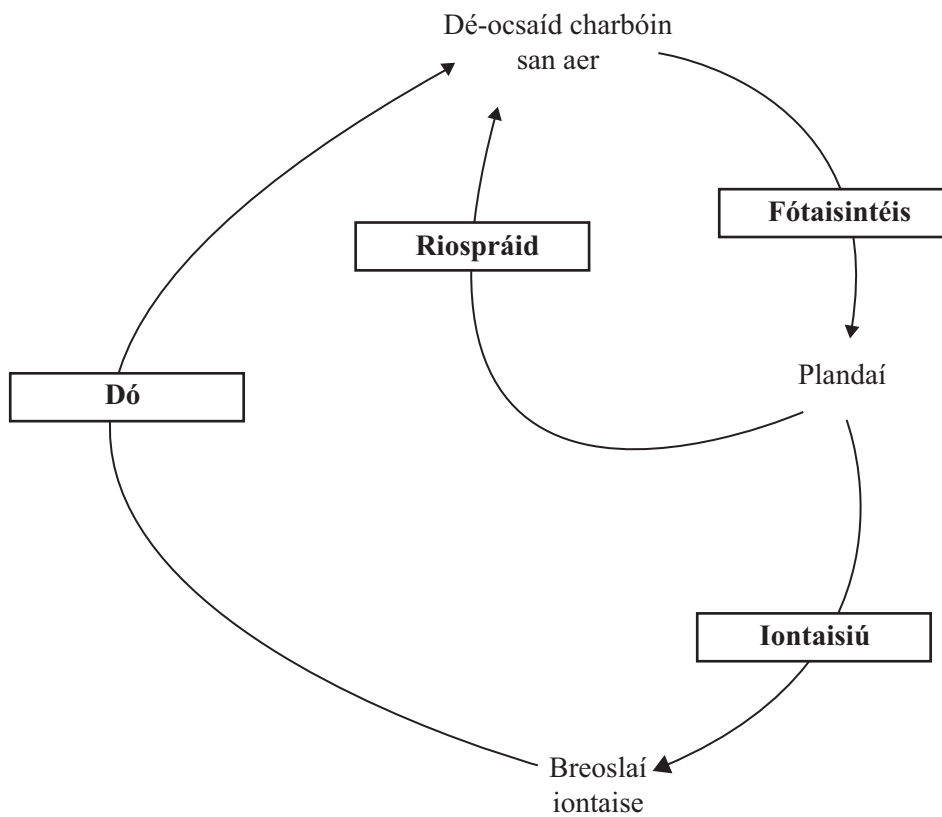
_____ [1]

Le blianta beaga anuas laghdaíodh ar an truailiú a dhéanann báisteach aigéadach.

(ii) Luaigh dóigh **amháin** ar laghdaíodh ar mhéid na báistí aigéadaí.

_____ [1]

- (b) Tá dé-ocsaíd charbóin ina cúis le truailliú aeir fosta. Taispeánann an léaráid seo a leanas cuid den timthriall carbóin. Taispeántar na próisis sna boscaí.



- (i) Tháinig méadú iontach gasta ar na leibhéil dé-ocsaíd charbóin san atmaisféar le blianta beaga anuas. Ainmnigh an **próiseas** atá ina chúis leis seo.

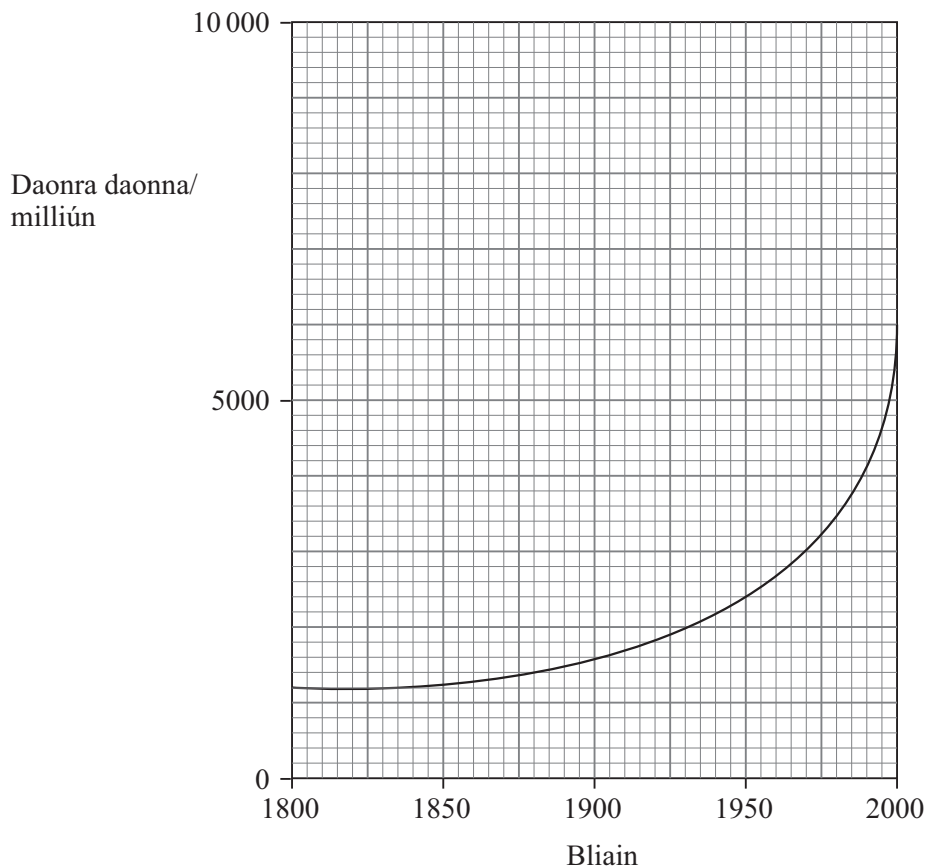
_____ [1]

- (ii) Síltear gurb é an méadú atá ag teacht ar na leibhéil dé-ocsaíd charbóin is cúis le téamh domhanda. Déan cur síos agus tabhair míniú ar dhóigh **amháin** a ndéanann téamh domhanda dochar d'orgánaigh bheo.

 _____ [2]

Scrúdaitheoir Amháin	
Marcanna	Athmharc

- (c) Bíonn éifeacht fosta ag an daonra daonna a bheith ag fás ar an domhan thart orainn. Sa ghraf thíos, taispeántar an méadú ar an daonra daonna le 200 bliain anuas.



- (i) Comhlánaigh an abairt seo a leanas.

Roghnaigh ó:

foisteanach **ag ardú** **ag ísliú**

Tá an ráta faoina bhfuil an daonra daonna ag méadú _____ [1]

- (ii) Tá an daonra daonna ag méadú cionn is go bhfuil daoine ag maireachtáil níos faide. Luaigh **dhá** fháth a bhfuil daoine ag maireachtáil níos faide.

1. _____
2. _____ [2]

Scrúdaitheoir Amháin	
Marcanna	Athmharc

Scrúdaitheoir Amháin	
Marcanna	Athmharc

5 Is féidir go mothóidh daoine go maith nuair a bhíonn dath gréine orthu; ach, tá riosca níos mó ann go dtiocfaidh ailse craicinn orthu. Le blianta beaga anuas, tá ailse craicinn ar níos mó daoine cionn is go dtéann siad chuig stiúideo donnúcháin agus ar saoire ilchríochach níos minice.

(a) Ainmnigh an toisc thimpeallachta is cúis le hailse craicinn.

_____ [1]

(b) Beidh Máire ag dul chun na Spáinne ar feadh dhá sheachtain i Mí Iúil. Seachas gan dul amach faoin ghrian, luaigh **dhá** rud is féidir léi a dhéanamh agus í ar saoire le laghdú ar an riosca go dtiocfaidh ailse craicinn uirthi.

1. _____

2. _____ [2]

(c) Athruithe (sócháin) ar struchtúir i gcealla chraiceann an choirp is cúis le hailse.

Ainmnigh na struchtúir a bhíonn á n-athrú.

_____ [1]

6 Tá líon ciseal ag an chorp lena chosaint ar ghalar.

- (a) Cosnaíonn codanna áirithe den chorp an corp ar mhiocróib.
Comhlánaigh an tábla lena thaispeáint cén dóigh.

Cuid den chorp	An dóigh a gcosnaíonn sé ar mhiocróib
Craiceann	
Seicíní mucasacha	

[2]

- (b) Cuir síos ar cad é is vacsaín ann, agus mínigh an dóigh a n-oibríonn sí.

[3]

Scrúdaitheoir Amháin	
Marcanna	Athmharc

- 7 (a) Déanann caitheamh tobac, ól alcóil agus mí-úsáid drugaí dochar do dhaoine agus don tsochaí. Sa tábla thíos, cuirtear na héifeachtaí a bhíonn ag na substaintí seo ar dhaoine i gcomparáid lena chéile.

Eochair An éifeacht is mó = 3
An éifeacht is lú = 1

Substaint	Is féidir go mbeidh sé ina chúis le fadhbanna meabhairshláinte	Is féidir go mbeidh sé ina chúis le timpistí bóthair	Is féidir go mbeidh sé ina chúis le hailse
Tobac	1	1	3
Alcól	3	3	2
Cannabas	2	2	1

- (i) Tig le daoine fásta tobac agus alcól a úsáid go dleathach, ach is druga neamhdhleathach go fóill é cannabas. An t-eolas sa tábla in úsáid agat, mínigh an dóigh a gcuirfeadh lucht feachtais in iúl gur chóir go mbeadh cannabas dleathach.

_____ [2]

- (ii) Níl sé dleathach do pháistí toitíní agus alcól a cheannach, ach tá sé dleathach do dhaoine fásta. Luaigh fáth le cad chuige.

_____ [1]

- (iii) Ainmnigh an tsubstaint i ndeatach tobac a fhágann go bhfuil sé:

1. ina chúis le handúil _____ [1]

2. ina chúis le hailse _____ [1]

Scrúdaitheoir Amháin	
Marcanna	Athmharc

- (b) Taispeánann an tábla seo a leanas an patrún ólacháin a bhí ag triúr déagóirí thar thréimhse seacht lá. Taispeánann na luachanna an líon d'aonaid alcóil a d'ól siad.

	Luan	Máirt	Céad	Déard	Aoine	Sath	Domh	Iomlán
Seán	1	2	3	2	2	2	0	
Antaine	0	0	2	0	0	8	0	
Pól	0	0	0	0	2	2	0	

- (i) Comhlánaigh an tábla le líon iomlán na n-aonad a d'ól gach déagóir i rith na seachtaine a thaispeáint. [1]

- (ii) Ainmnigh an déagóir a bhí ar ragús óil.

_____ [1]

- (iii) Molann an Rialtas nach rachadh daoine ar ragús óil. Luaigh **dhá** fháth le cad chuige.

_____ [2]

SEO DEIREADH AN SCRÚDPHÁIPÉIR

Cuireadh isteach ar chead chun an t-ábhar cóipchirt uile a atáirgeadh.
I gcásanna áirithe is féidir nár éirigh le CCEA teagmháil a dhéanamh le húinéirí cóipchirt agus beidh sé sásta na hadmhálacha sin a fágadh ar lár a chur ina gceart amach anseo ach é a chur ar an eolas.