



General Certificate of Secondary Education
2010–2011

Uimhir Lárionaid

71	
----	--

Uimhir Iarrthóra

--

Eolaíocht: Teastas Dúbailte (Modúlach)

Orgánaigh Bheo agus Próisis na Beatha
Triail Deireadh Modúil

A

Ardsraith

[GDA02]



DÉARDAOIN 19 BEALTAINE 2011, MAIDIN

AM

45 nóiméad.

TREOIR D'IARRTHÓIRÍ

Scríobh d'Uimhir Lárionaid agus d'Uimhir Iarrthóra sna spásanna chuige sin ag barr an leathanaigh seo.
Scríobh do fhreagraí sna spásanna chuige sin sa scrúdpháipéar seo.
Freagair **gach ceann** de na **trí cheist déag**.

EOLAS D'IARRTHÓIRÍ

Is é 50 an marc iomlán don pháipéar seo.
Léiríonn figiúirí idir lúibíní ar thaobh na lámhe deise de leathanaigh na marcanna atá ag dul do gach ceist nó do gach cuid de cheist.

Don Scrúdaitheoir amháin

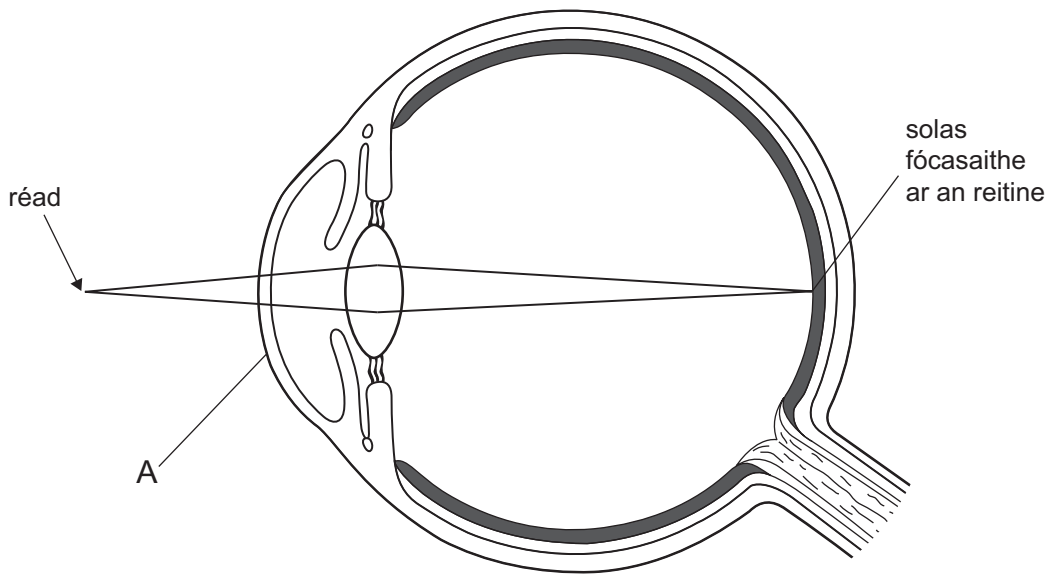
Uimhir Ceiste	Marcanna
1	
2	
3	
4	
5	
6	
7	
8	
9	
10	
11	
12	
13	



Marc Iomlán

--

1 Taispeánann an léaráid solas ó réad á fhócasú ag súil an duine.



(a) Ainmnigh cuid A.

[1]

(b) Cuir síos ar an dóigh a ndéantar an íomhá a fhócasú ar an reitine agus a chur ar aghaidh go dtí an inchinn.

[3]

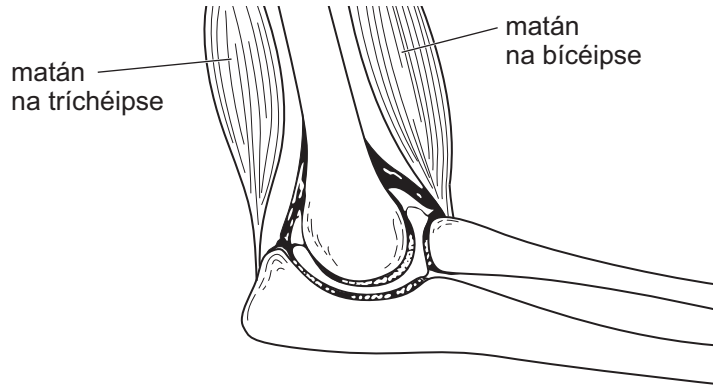
Scrúdaitheoir Amháin	
Marcanna	Athmharc

2 Taispeánann an léaráid trasghearradh trí alt na huillinne.

Scrúdaitheoir Amháin

Marcanna

Athmharc



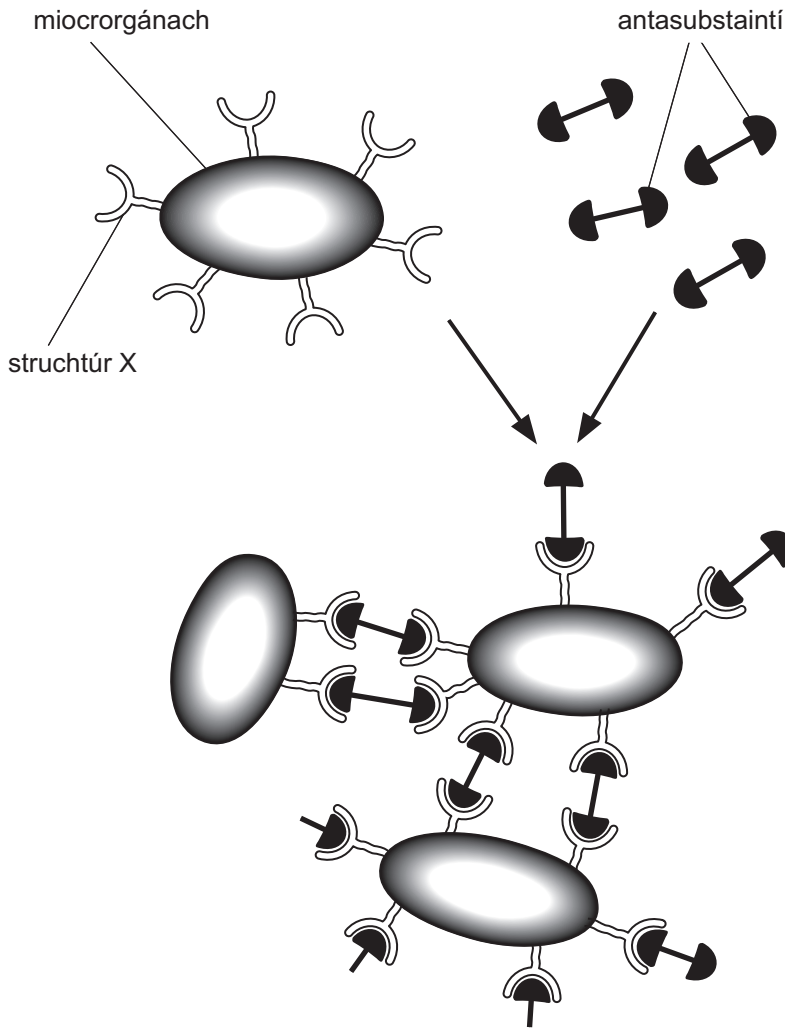
- (a) Agus an léaráid in úsáid agat, mínigh cad é a tharlóidh don dá mhatán nuair a ardaítear an lámh íochtarach.

_____ [2]

- (b) Cuirtear síos ar an bhíceips agus an tríchéips mar fhrithphéire matán. Mínigh cad chuige.

_____ [1]

3 Tá táirgeadh antasubstaintí ar cheann de na dóigheanna a dtéann an corp i ngleic le miocrorgánaigh ionraidh. Taispeánann an léaráid seicheamh na n-imeachtaí a tharlaíonn i ndiaidh don chorp na hantasubstaintí a tháirgeadh.



(a) Is é struchtúr X ar an mhiocrorgánach atá ina chúis le táirgeadh na n-antasubstaintí. Ainmnigh é.

_____ [1]

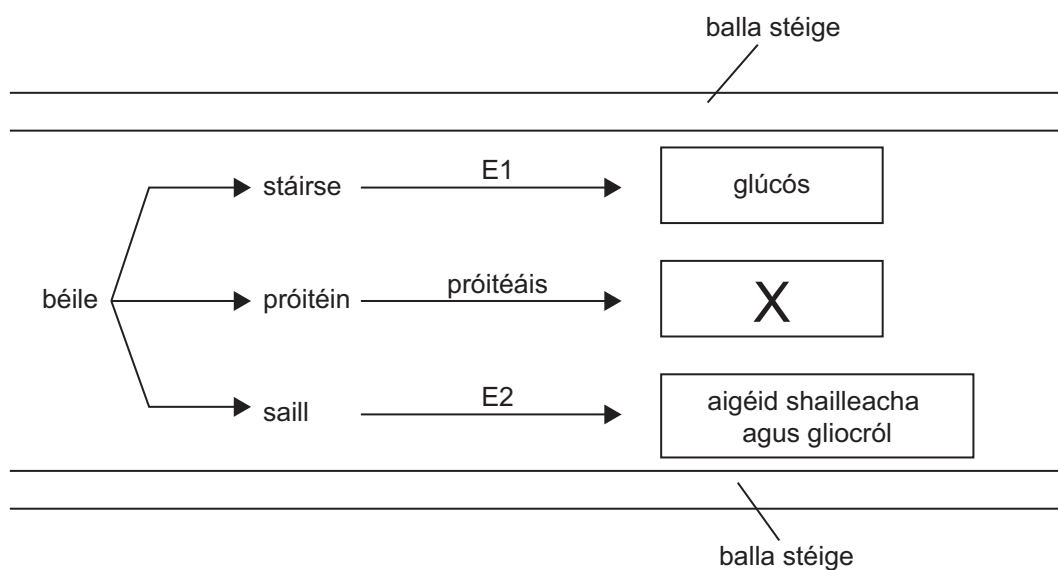
(b) Mínigh cad é a tharlóidh don tom a thaispeántar sa léaráid.

 _____ [2]

(c) I ndiaidh don chorp antasubstaintí a tháirgeadh, ní dócha go dtiocfaidh an galar céanna ar dhuine faoi dhó. Cad chuige, dar leat?

_____ [1]

- 4 Taispeánann an léaráid cuid de na próisis a bhíonn ag dul ar aghaidh sa stéig bheag i ndiaidh do dhuine béile a ithe.



- (a) Úsáid an léaráid leis na heinsímí E1 agus E2 a ainmniú.

E1 _____

E2 _____ [2]

- (b) Ainmnigh substaint X.

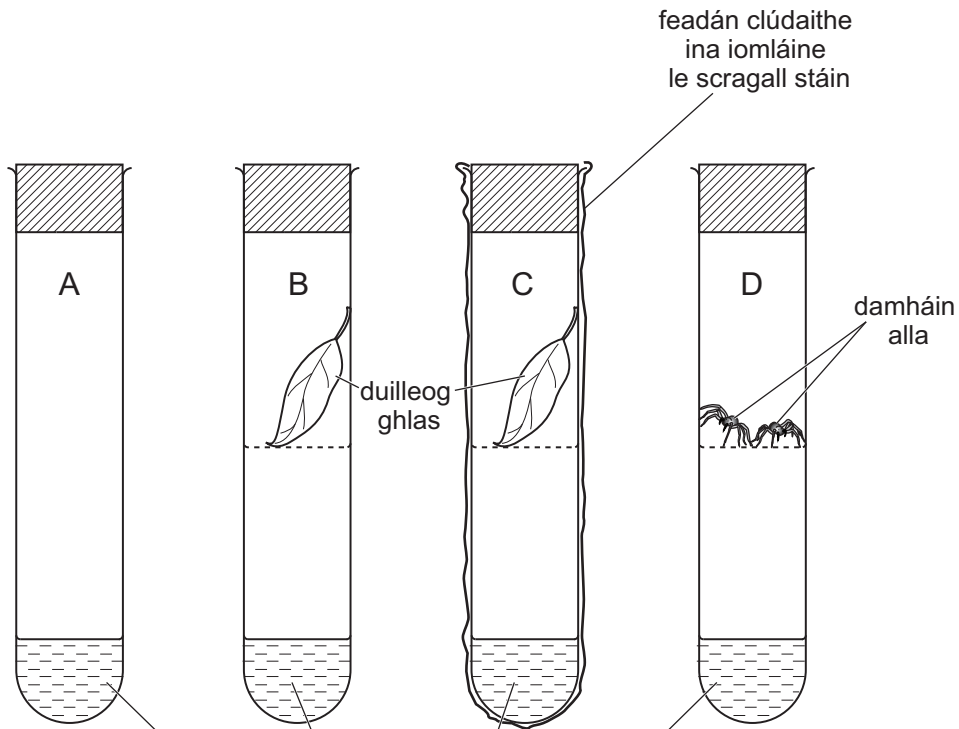
_____ [1]

- (c) Luaigh dóigh **amháin** (nach dtaispeántar ar an léaráid) a bhfuil an balla stéige oiriúnaithe le haghaidh ionsú.

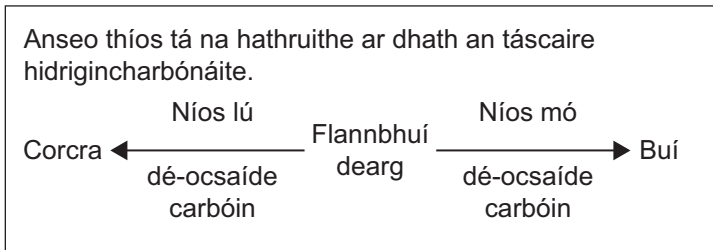
_____ [1]

5 Chuir daltaí an turgnamh seo i dtreoir le fiosrúchán a dhéanamh ar mhalartú gáis.

Scrúdaitheoir Amháin	
Marcanna	Athmharc



táscaire hidrigincharbónáite flannbhúí dearg i dtús an turgnaimh



D'fhág na daltaí na feadáin faoi sholas geal ar feadh 10 n-uair an chloig.

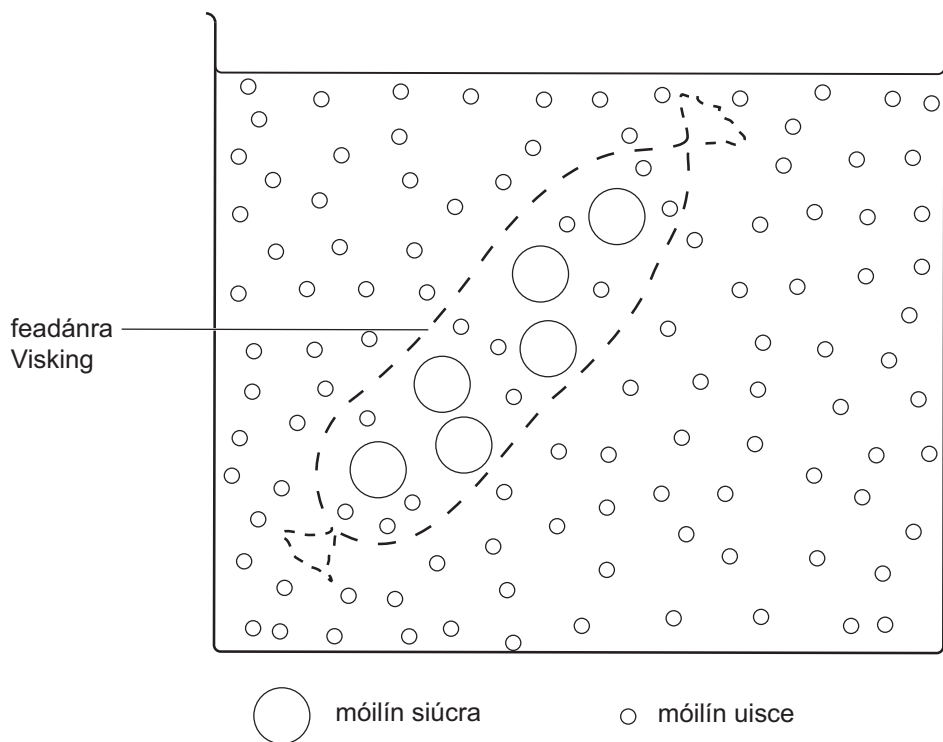
Comhlánaigh an tábla thíos le torthaí an turgnaimh seo a lua agus a mhíniú.

Feadán	Dath an táscaire hidrigincharbónáite	Míniú ar na torthaí
A	Flannbhuí dearg	Ní raibh orgánaigh bheo i láthair. Níor tharla fótaisintéis. Ní raibh riospráid ann.
B		Duilleog faoi sholas. Úsáideann sí níos mó dé-ocsaíde carbóin i bhfótaisintéis ná mar a tháirgeann sí i riospráid.
C		
D	Buí	

[4]

Scrúdaitheoir Amháin	
Marcanna	Athmharc

- 6 Líon dalta feadánra Visking le tuaslagán siúcra agus ansin chuir sí in eascra uisce é.



Tá an feadánra páirt-tréscailteach.

Abair gur fhág an dalta an feadánra Visking san uisce ar feadh 24 uair an chloig. Úsáid an fhaisnéis sa léaráid le cur síos a dhéanamh agus le míniú a thabhairt ar cad é a tharlódh ansin.

[3]

Scrúdaitheoir Amháin

Marcanna

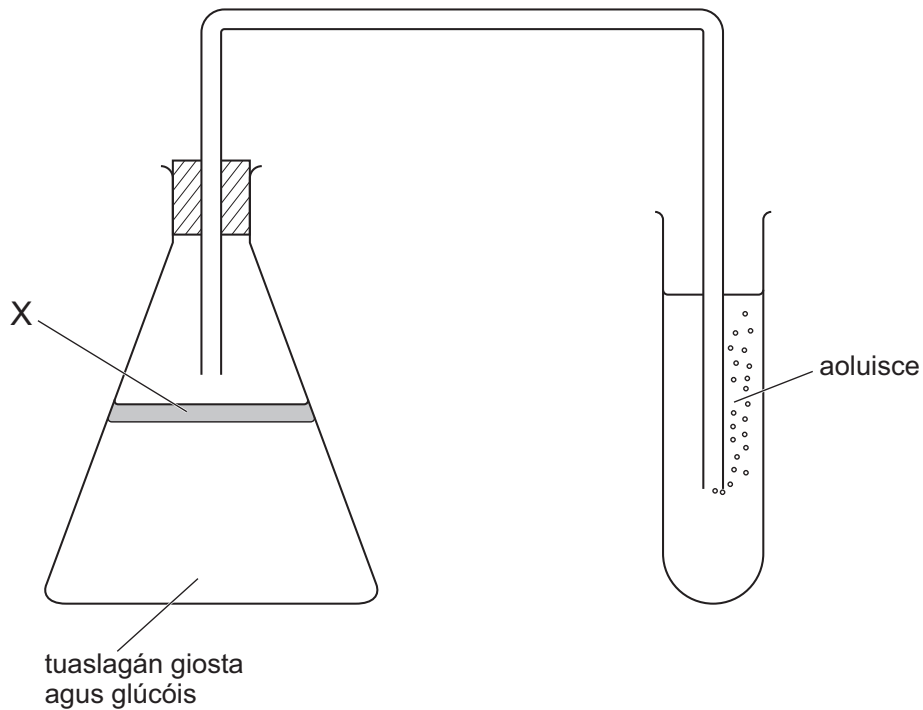
Athmharc

7 Chuir daltaí turgnamh i dtreoir le fiosrúchán a dhéanamh ar riospráid anaeróbach i ngiosta.

Scrúdaitheoir Amháin

Marcanna

Athmharc



(a) Céan tsubstaint, dar leat, a chaithfidh a bheith i láthair ag X?

_____ [1]

(b) Luaigh dhá dhóigh a bhfuil táirgí na riospráide anaeróbaí i ngiosta difriúil le táirgí na riospráide aeróbaí.

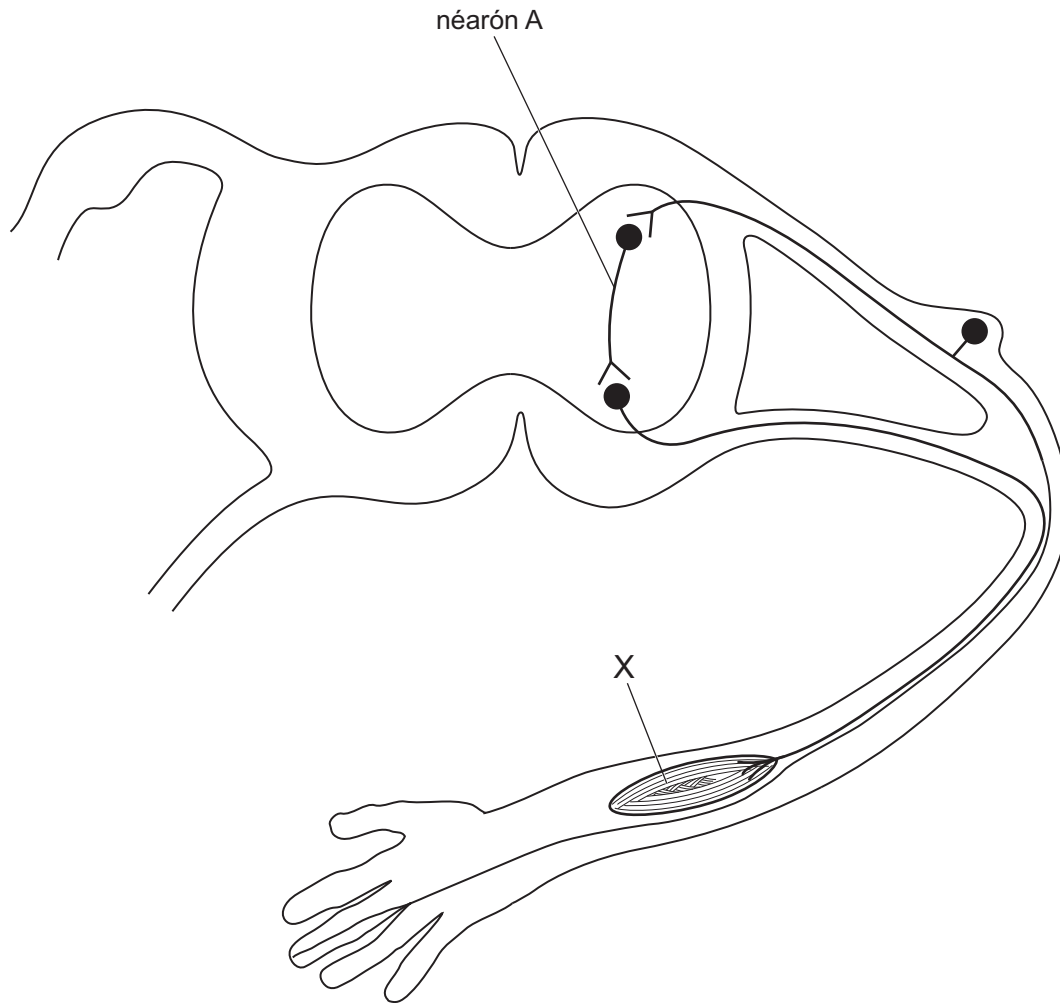
1. _____

2. _____ [2]

8 Taispeánann an léaráid na néaróin i stua athfhillteach.

Scrúdaitheoir Amháin

Marcanna Athmharc



(a) Ainmnigh néarón A.

_____ [1]

(b) Ainmnigh struchtúr X.

_____ [1]

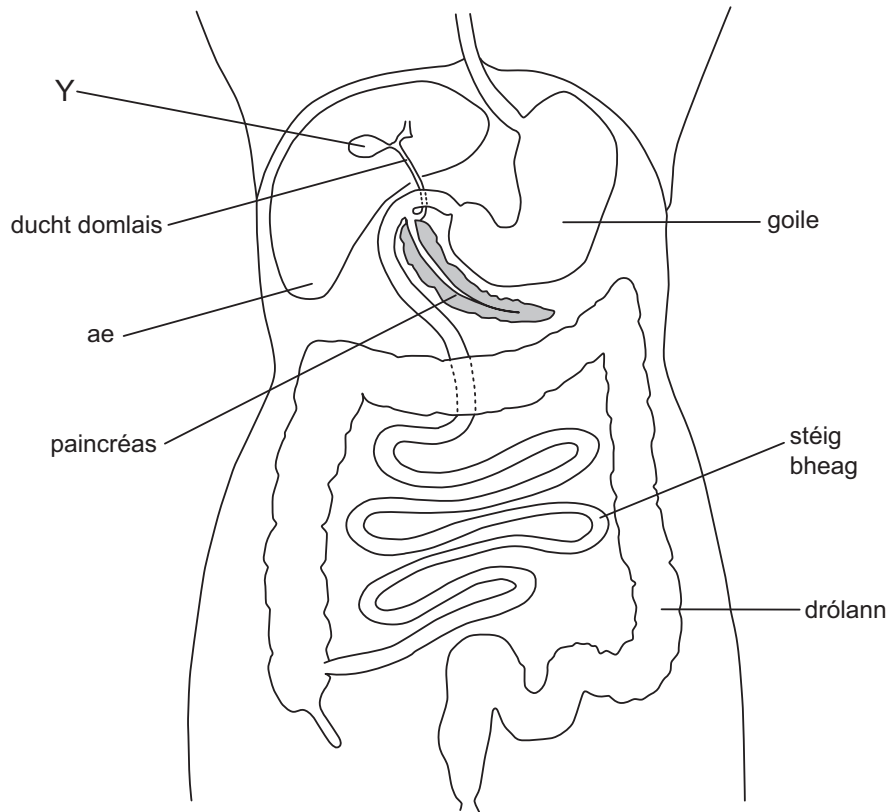
(c) Mínigh an buntáiste a bhíonn ann nuair nach mbíonn an inchinn i gceist i ngníomhú athfhillteach.

_____ [1]

9 Taispeánann an léaráid an t-ae agus an córas díleáite.

Scrúdaítheoir Amháin

Marcanna Athmharc



(a) (i) Is san ae a dhéantar domlas a tháirgeadh agus i struchtúr Y a stóráiltear é. Ainmnigh struchtúr Y.

_____ [1]

(ii) Mínigh ina iomláine an ról a bhíonn ag domlas i ndíleá.

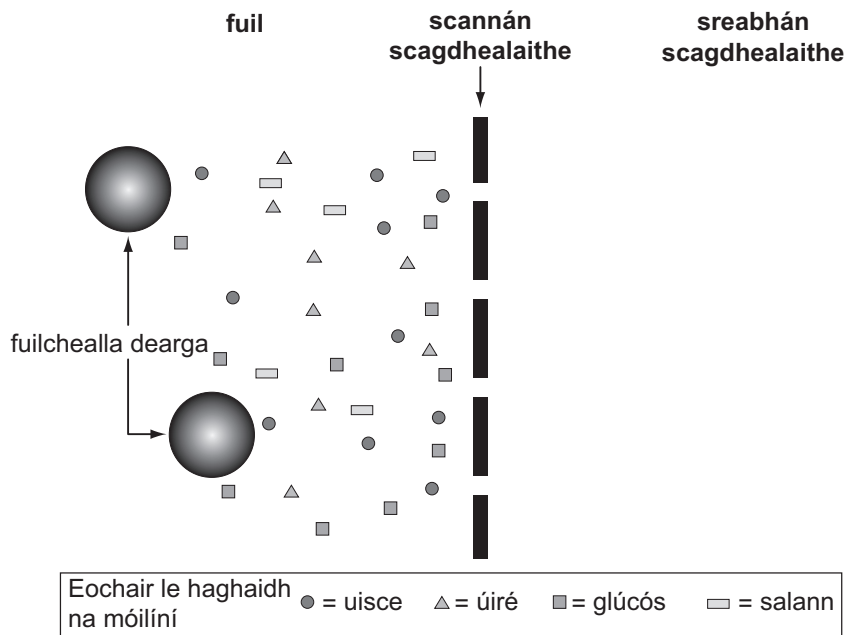
_____ [2]

(b) Abair go raibh ar dhuine dul faoi scian le cuid den drólann a bhaint ar shiúl. Bheadh drólann an duine sin níos giorra ansin. Cén próiseas a gcuirfeadh sé seo isteach air?

_____ [1]

10 Chlis ar dhuáin Liam agus caithfidh sé scagdhealú a fháil anois.

Taispeánann an léaráid comhdhéanamh fhuil Liam agus í ag dul isteach san inneall scagdhealaithe. Ní thaispeántar comhdhéanamh an tsreabháin scagdhealaithe.



Gach ceann de na comhábhair atá liostaithe, comhlánaigh an tábla lena léiriú cé acu atá siad i láthair sa sreabhán scagdhealaithe i dtús an scagdhealaithe agus i ndeireadh an scagdhealaithe nó nach bhfuil.

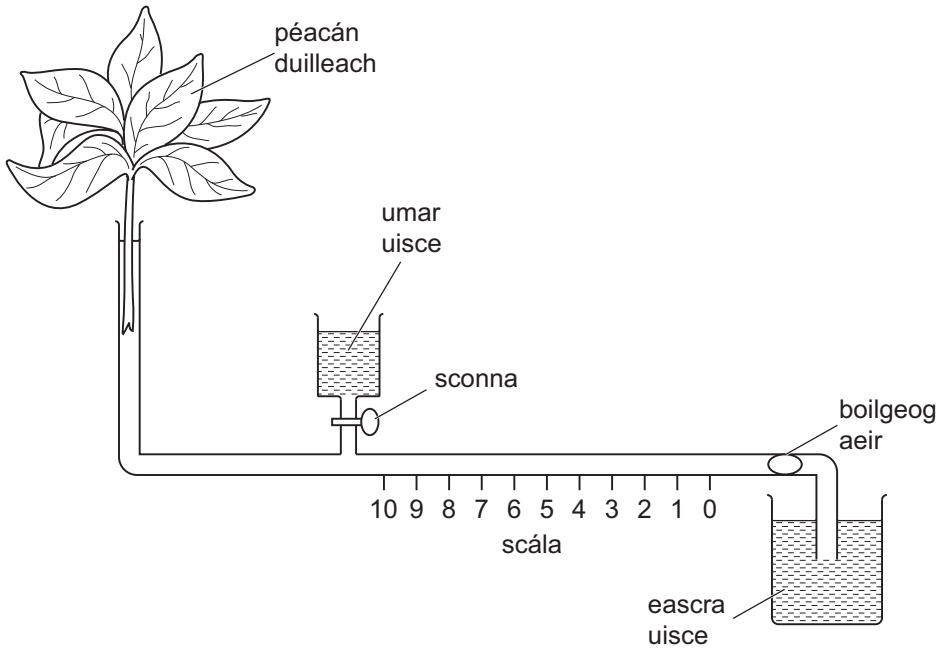
Cuir tic (✓) má tá an comhábhar i láthair nó cros (X) má tá sé as láthair.

Comhábhar i bhfuil Liam	Comhábhar i láthair sa sreabhán scagdhealaithe nó as láthair ón sreabhán scagdhealaithe	
	I dtús	I ndeireadh
Uisce		
Úiré		
Glúcós		
Salann		
Fuilechealla dearga		

[5]

Scrúdaitheoir Amháin	
Marcanna	Athmharc

11 Potaiméadar atá anseo thíos.



Is faoi uisce a chuirtear an fearas le chéile sa dóigh nach gceapfar boilgeog aeir nach bhfuil de dhíth.

- (a) Agus an léaráid in úsáid agat, luaigh agus mínigh an dóigh a gcuirtear an bhoilgeog aeir isteach sa photaiméadar.

[2]

- (b) Beidh éifeacht ann ar an ráta trasghalaithe má chuirtear veasailín ar dhromchla uachtair nó ar dhromchla íochtair na nduilleog. Tá na torthaí sa tábla thíos.

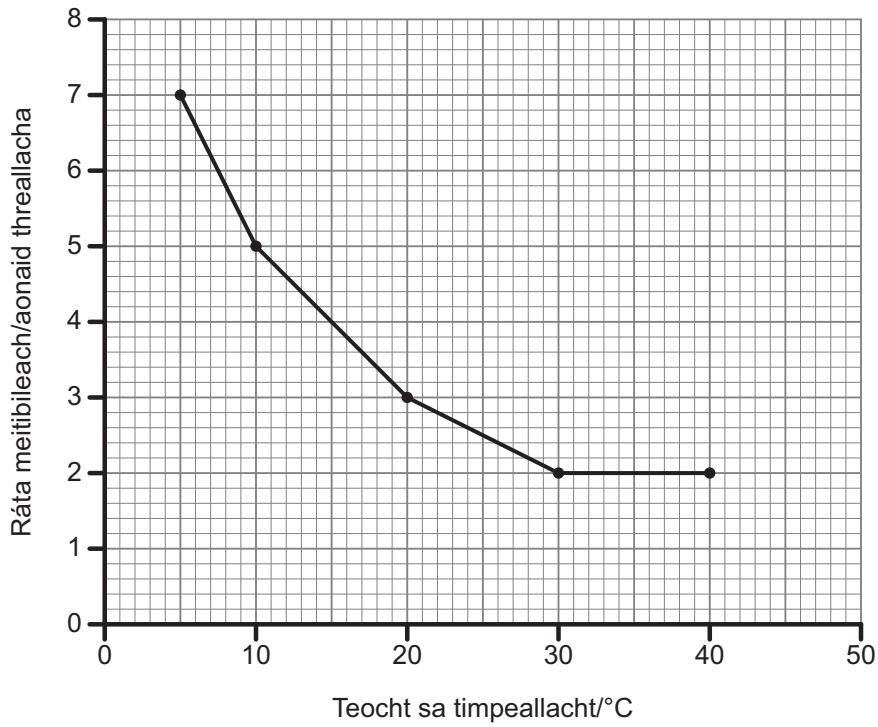
	Fad a bhog an bhoilgeog aeir (mm/s)
Ní chuirtear veasailín ach ar an dromchla uachtair	1.2
Ní chuirtear veasailín ach ar an dromchla íochtair	0.4

Beidh an ráta trasghalaithe níos airde nuair nach gcuirtear veasailín ach ar dhromchla uachtair na nduilleog. Mínigh cad chuige.

[2]

12 Ráta meitibileach (ráta frithghníomhaithe ceall) mamaigh, beidh éifeacht ag an teocht sa timpeallacht taobh amuigh air.

Scrúdaitheoir Amháin	
Marcanna	Athmharc



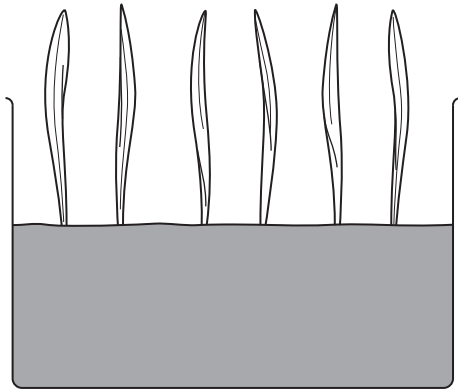
(a) Méadaíonn an ráta meitibileach de réir mar a thiteann an teocht sa timpeallacht taobh amuigh faoi 30 °C. Míniú cad chuige.

[2]

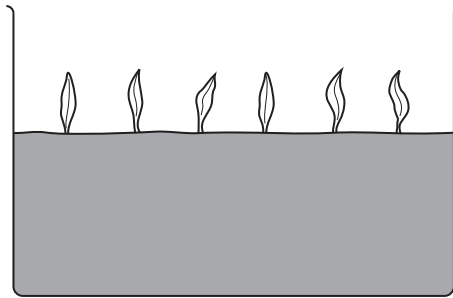
(b) Nuair is é 40 °C an teocht taobh amuigh, coinneoidh an mamach teocht thairiseach ina chorp. Míniú cén dóigh.

[3]

13 D'fhás daltaí síológa eorna ar 20 °C agus ar 6 °C faoi dhálaí maithe solais. Choinnigh siad na dálaí uilig eile sa timpeallacht seasmhach.



síológa eorna ag fás ar 20 °C



síológa eorna ag fás ar 6 °C

Déan cur síos agus tabhair míniú ar thorthaí an turgnaimh seo.

[4]

SEO DEIREADH AN SCRÚDPHÁIPÉIR

Cuireadh isteach ar chead chun an t-ábhar cóipchirt uile a atáirgeadh.
I gcásanna áirithe is féidir nár éirigh le CCEA teagmháil a dhéanamh le húinéirí cóipchirt agus beidh sé sásta na hadmhálacha sin a fágadh ar lár a chur ina gceart amach anseo ach é a chur ar an eolas.