



Rewarding Learning

General Certificate of Secondary Education  
2012

## Stáidéir Mhótarfheithicle agus Úsáideoir Bóithre

Aonad 1: Teoiric Mótarfheithicle  
agus Úsáideoir Bóithre

Bonnsraith

[GMV11]

DÉARDAOIN 17 BEALTAINE, MAIDIN

Uimhir Lárionaid

71

Uimhir Iarrthóra

Don Scrúdaitheoir  
amháin

Uimhir Ceiste	Marcanna
1-6	
7-10	
11-14	
15-20	
21	
22	
23	
24	
25	
26	
27	
28	
29	
30	
31	
32	
33	
34	
35	
36	
37	
38	
39	
40	
41	
42	
43	
44	
45	
46	
47	
48	
49	

Marc  
Iomlán

**AM**

1 uair agus 30 nóiméad.

**TREOIR D'IARRTHÓIRÍ**

Scríobh d'Uimhir Lárionaid agus d'Uimhir Iarrthóra sna spásanna  
chuige sin ag barr an leathanaigh seo.

Freagair na ceisteanna **uilig**.

**EOLAS D'IARRTHÓIRÍ**

Is é 120 an marc iomlán don pháipéar seo.

Léiríonn figiúirí idir líubíní ar thaobh na láimhe deise de leathanaigh  
na marcanna atá ag dul do gach ceist nó do gach cuid de cheist.

Measúnófar caighdeán na cumarsáide scríofa i gCeist **49**.



7 Ainmnigh an beart maolaithe tráchta atá ann in **Fíor 7.1** anseo thíos.

. [1]



**Fíor 7.1**

8 Cad é a léiríonn an comhartha in **Fíor 8.1** anseo thíos?

[1]



**Fíor 8.1**

© Crown copyright

9 Cad é a chiallaíonn an comhartha solais tráchta in **Fíor 9.1** anseo thíos?

[1]



**Fíor 9.1**

© Crown copyright

10 Luaitear i gCóras na Slánródaíochta go bhfuil sé neamhdhleathach a

bheith ag tiomáint faoi luas níos mó ná \_\_\_\_\_ msu, sé sin, mura bhfuil luasteorainn eile léirithe.

[1]

Scrúdaitheoir Amháin	
Marcanna	Athmharc

11 Cá háit, taobh istigh d'fheithicil, ar chóir diosca cánach (agus diosca MOT i dTuaisceart Éireann) a thaispeáint?

\_\_\_\_\_

[1]

12 Cén aois a dtig le húsáideoir bóithre cur isteach ar cheadúnas sealadach?


\_\_\_\_\_

[1]

13 Ainmnigh an cineál bóthair atá ann sa ghrianghraf in **Fíor 13.1** anseo thíos.

\_\_\_\_\_

[1]



Fíor 13.1

14 Is é an focal a úsáidtear le cur síos ar an laghdú ar luach feithicle ná

\_\_\_\_\_

[1]

Scrúdaitheoir Amháin	
Marcanna	Athmharc



21 Cad é a chiallaíonn an frása “géill slí”?

\_\_\_\_\_ [1]

22



Fíor 22.1  
© Crown copyright

(a) Cá háit a mbíonn an comhartha in **Fíor 22.1** thuas?

\_\_\_\_\_ [1]

(b) Luaigh am amháin sa lá nuair is dócha a tharlóidh an ghuais in **Fíor 22.1** thuas.

\_\_\_\_\_ [1]

23 (a) Luaigh **dhá** fháth ar chóir do thiománaithe nuacháilithe pláta R a thaispeáint.

1. \_\_\_\_\_ [1]

2. \_\_\_\_\_ [1]

(b) Luaigh **dhá** fháth ar dócha go mbeidh timpiste ag tiománaithe san aoisghrúpa 18–21 bliain ná tiománaithe in aon aoisghrúpa eile.

1. \_\_\_\_\_ [1]

2. \_\_\_\_\_ [1]

24 Cad é mar a thig le duine díolúine ó chrios sábhála a fháil?

\_\_\_\_\_ [1]

Scrúdaitheoir Amháin	
Marcanna	Athmharc

25 Cad é a chiallaíonn an téarma “in aghaidh an tsrutha”?

---

---

[2]

26 Ríomh meánluas feithicle a chuaigh 108 míle in  $1\frac{1}{2}$  uair an chloig.

\_\_\_\_\_ msu [1]

27 (a) Cén córas feithicle anseo thíos a mbeadh tiontaire catalaíoch ann?

1. Leictreach
2. Breosla
3. Sceitheadh
4. Tras-seoladh

\_\_\_\_\_ [1]

(b) Cén fheidhm atá le tiontaire catalaíoch?

---

---

[1]

28 Luaigh fáth **amháin** nár chóir do rothaí a bheith ag rothaíocht róchóngarach don cholbha ar bhóthar?

---

---

[1]

Scrúdaitheoir Amháin	
Marcanna	Athmharc

29 Míneadh cad chuige a n-athraíonn fad na lárínte bána ar charrbhealach singil.

\_\_\_\_\_ [1]

30 Seachas an comhartha, ainmnigh **dhá** dhóigh a gcuirtear i gcuimhne duit go bhfuil tú ag teacht go dtí timpeallán.

1. \_\_\_\_\_ [1]

2. \_\_\_\_\_ [1]

31 Sna spásanna chuige sin, meaitseáil an míniú árachais i **Liosta A** leis an téarma ceart árachais i **Liosta B**.

#### Liosta A

a : Duine atá ag obair ar son comhlachta árachais agus a dhíolfaidh polasaí de chuid an chomhlachta leat.

b : Duine a bhíonn ag díol árachais do chuid mhór comhlachtaí.

c : An duine a cheannaigh an t-árachas.

#### Liosta B

1. Bróicéir \_\_\_\_\_ [1]

2. Gníomhaire Árachais \_\_\_\_\_ [1]

3. Sealbhóir Polasaí \_\_\_\_\_ [1]

Scrúdaitheoir Amháin	
Marcanna	Athmharc



32 Scrúdaigh na grianghraif in **Fíor 32.1** agus in **Fíor 32.2** anseo thíos.



Fíor 32.1

(a) Luaigh fáth **amháin** ar tógadh sconsa adhmaid feadh an chuid seo de mhótarbhealach.

---

---

[1]



Fíor 32.2

(b) Luaigh fáth **amháin** ar íslíodh an luas ar an chuid seo de mhótarbhealach.

---

---

[1]

Scrúdaitheoir Amháin	
Marcanna	Athmharc

33 (a) Ainmnigh **dhá** ghrúpa de choisithe soghonta.

1. \_\_\_\_\_ [1]

2. \_\_\_\_\_ [1]

(b) Cé chomh minic a chaithfidh daoine atá níos sine ná 70 bliain ceadúnas a athnuachan?

\_\_\_\_\_ [1]

(c) Luaigh **dhá** fháth a gcaithfidh tiománaithe 70 bliain d'aois nó níos sine cur isteach ar cheadúnas tiomána níos minice ná tiománaithe atá níos óige ná 70.

1. \_\_\_\_\_ [1]

2. \_\_\_\_\_ [1]

34 Cén chomhpháirt d'fheithicil:

1. a laghdaíonn ar an fhuaim ón inneall?

\_\_\_\_\_ [1]

2. a fhágann nach bhfuil ach brú beag de dhíth leis na coscáin a chur i bhfeidhm?

\_\_\_\_\_ [1]

3. a osclaíonn le go rachaidh fuarthán thart?

\_\_\_\_\_ [1]

35 Is féidir carr athlámhe a cheannach ó gharáiste, nó go príobháideach ón úinéir. Luaigh buntáiste **amháin** agus míbhuntáiste **amháin** a bhaineann leis an dá chás seo.

Garáiste: Buntáiste \_\_\_\_\_ [1]

Míbhuntáiste \_\_\_\_\_ [1]

Go príobháideach: Buntáiste \_\_\_\_\_ [1]

Míbhuntáiste \_\_\_\_\_ [1]

Scrúdaitheoir Amháin	
Marcanna	Athmharc

36 Scrúdaigh na comharthaí bóthair seo thíos.

Cad é a chiallaíonn gach ceann de na comharthaí bóthair in **Fíor 36.1** go dtí **Fíor 36.6** anseo thíos?



Fíor 36.1



Fíor 36.2



Fíor 36.3



Fíor 36.4



Fíor 36.5



Fíor 36.6

© Crown copyright

Fíor 36.1 \_\_\_\_\_ [1]

Fíor 36.2 \_\_\_\_\_ [1]

Fíor 36.3 \_\_\_\_\_ [1]

Fíor 36.4 \_\_\_\_\_ [1]

Fíor 36.5 \_\_\_\_\_ [1]

Fíor 36.6 \_\_\_\_\_ [1]

37 (a) Luaigh **dhá** bheart a thig le tiománaithe a dhéanamh le bheith ina dtiománaithe slána.

1. \_\_\_\_\_ [1]

2. \_\_\_\_\_ [1]

(b) Luaigh **dhá** dhóigh a dtig le daoine a bheith ina gcoisithe slána.

1. \_\_\_\_\_ [1]

2. \_\_\_\_\_ [1]

Scrúdaitheoir Amháin	
Marcanna	Athmharc

38 (a) Luaigh **dhá** dhóigh a laghdaíonn teicneolaíocht mhótarfeithicle ar thimpistí bóthair.

1. \_\_\_\_\_ [1]

2. \_\_\_\_\_ [1]

(b) Luaigh **dhá** dhóigh a dtig le hinnealtóirí/pleanálaithe bóithre páirceáil i gcathair a bhainistiú.

1. \_\_\_\_\_ [1]

2. \_\_\_\_\_ [1]

39 (a) Luaigh **dhá** dhóigh a dtiocfadh le tiománaí laghdú ar an chostas a bhaineann le feithicil.

1. \_\_\_\_\_ [1]

2. \_\_\_\_\_ [1]

(b) Mínigh **dhá** dhóigh a dtiocfadh le tiománaithe laghdú ar chostas feithicle mar gheall ar an stíl tiomána atá acu.

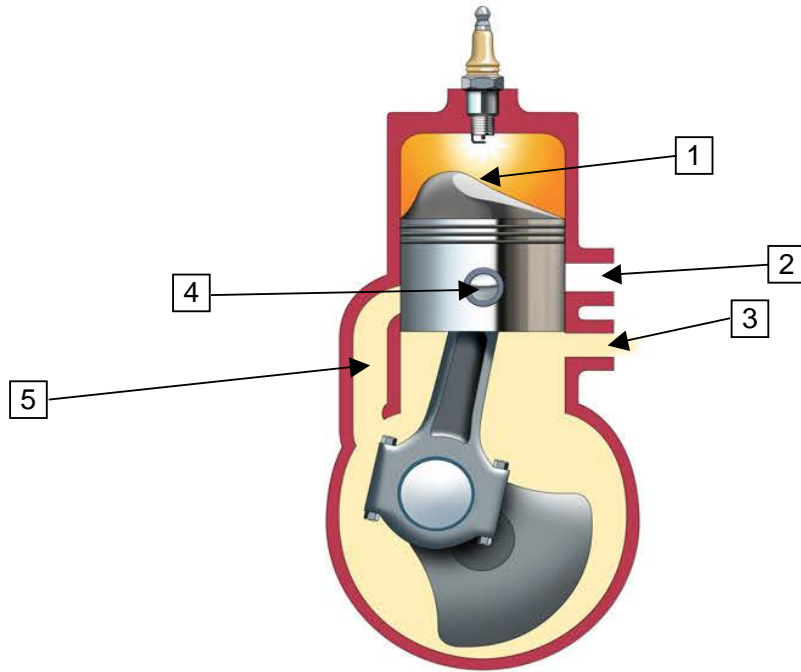
1. \_\_\_\_\_ [1]

2. \_\_\_\_\_ [1]

(c) Is sa chóimheas 1:10 a chaithfear oibreán frithreo a chur isteach i gcóras fuaraithe inneall 4.4 lítear. Ríomh cá mhéad oibreáin frithreo a bheidh de dhíth.

\_\_\_\_\_ [2]

Scrúdaitheoir Amháin	
Marcanna	Athmharc



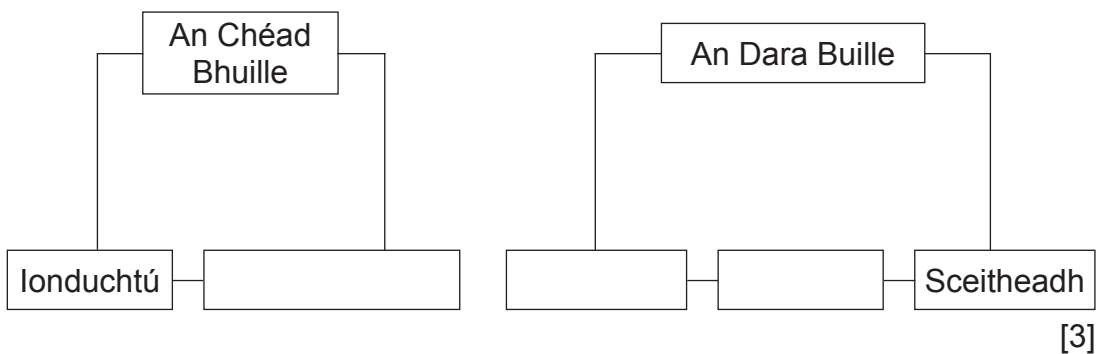
**Fíor 40.1**

© *Motor Vehicle and Road User Studies* by Eamonn McPolin, pages 100/101, published by Colourpoint Books, 2009. ISBN 9781906578312

(a) Ainmnigh na páirteanna atá marcáilte 1 go 5 in **Fíor 40.1** thuas.

- 1. \_\_\_\_\_ [1]
- 2. \_\_\_\_\_ [1]
- 3. \_\_\_\_\_ [1]
- 4. \_\_\_\_\_ [1]
- 5. \_\_\_\_\_ [1]

(b) Comhlánaigh an bhlocléaráid seo thíos don timthriall dhá bhuille.



[3]

Scrúdaitheoir Amháin	
Marcanna	Athmharc



**44** Ainmnigh **dhá** rud, nach bhfaightear le feithicil de ghnáth, a thiocfadh le daoine a chur sa charr le cuidiú leo dul i ngleic le héigeandáil.

1. \_\_\_\_\_ [1]

2. \_\_\_\_\_ [1]

**45** Luaigh **dhá** bheart a chaithfidh tiománaithe a dhéanamh ag láthair gortú timpiste a raibh siad féin páirteach inti.

1. \_\_\_\_\_ [1]

2. \_\_\_\_\_ [1]

**46 (a)** Cad é a chiallaíonn “éighníómhach” maidir le srianta crios sábhála.

\_\_\_\_\_  
\_\_\_\_\_ [1]

**(b)** Luaigh **dhá** shampla de shábháilteacht thánaisteach i bhfeithicil.

1. \_\_\_\_\_ [1]

2. \_\_\_\_\_ [1]

**47 (a)** Mínigh go gairid cad é mar ba chóir do thiománaithe dul thart le capall agus marcach.

\_\_\_\_\_  
\_\_\_\_\_ [2]

**(b)** Mínigh cad é a chiallaíonn an téarma “gearr isteach” nuair atá feithicil ag dul thart le feithicil eile.

\_\_\_\_\_  
\_\_\_\_\_ [1]

Scrúdaitheoir Amháin	
Marcanna	Athmharc

**48** Cuir síos go gairid ar an dóigh le bheith ag tiomáint go sábháilte trí chathair ghnóthach.

---

---

---

---

---

---

---

[6]

Scrúdaitheoir Amháin	
Marcanna	Athmharc





---

**SEO DEIREADH AN SCRÚDPHÁIPÉIR**

---



Cuireadh isteach ar chead chun an t-ábhar cóipchirt uile a atáirgeadh.  
I gcásanna áirithe is féidir nár éirigh le CCEA teagmháil a dhéanamh le húinéirí cóipchirt agus beidh sé sásta na hadmhálacha sin a fágadh ar lár a chur ina gceart amach anseo ach é a chur ar an eolas.