



General Certificate of Secondary Education
2015

Uimhir Lárionaid

--	--	--	--	--

Uimhir Iarrthóra

--	--	--	--

Matamaitic

Aonad T5 Páipéar 2
(Le hÁireamhán)
Bonnsraith



GMT52

[GMT52]

DÉ MÁIRT 26 BEALTAINE, 3.00pm–4.00pm

AM

1 uair an chloig.

TREOIR D'IARRTHÓIRÍ

Scríobh d'Uimhir Lárionaid agus d'Uimhir Iarrthóra sna spásanna chuige sin ag barr an leathanaigh seo.

Ní mór duit do fhreagraí a scríobh sna spásanna chuige sin. Ná scríobh taobh amuigh den achar bhoscáilte ar gach leathanach, ar leathanaigh bhána nó ar rianpháipéar.

Comhlánaigh le peann gorm nó le peann dubh amháin. **Ná scríobh le peann glóthaí.**

Freagair **gach ceann** den dá cheist **déag**.

Ba chóir do chuid oibre a thaispeáint go soiléir sna spásanna chuige sin mar is féidir go mbronnfar marcanna ar réitigh a bhfuil codanna díobh ceart.

Tá cead agat áireamhán a úsáid don pháipéar seo.

EOLAS D'IARRTHÓIRÍ

Is é 50 an marc iomlán don pháipéar seo.

Léiríonn figiúirí idir lúibíní ar thaobh na láimhe deise de leathanaigh na marcanna atá ag dul do gach ceist nó do gach cuid de cheist.

Déanfar Eilimintí Feidhmeacha a mheasúnú sa pháipéar seo.

Measúnófar caighdeán na cumarsáide scríofa i gCeisteanna **4** agus **10**.

Ba chóir duit áireamhán, rialóir, compáis agus uillinntomhas a bheith agat.

Tá an Bhileog Foirmlí ar leathanach 2.

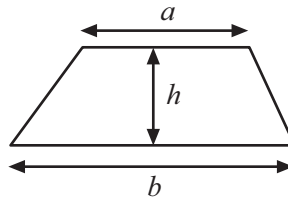
9468.02



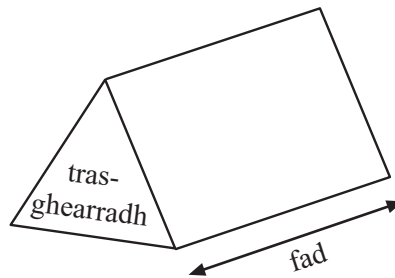
16GMT5201

Bileog Foirmli

$$\text{Achar traipéisiam} = \frac{1}{2}(a+b)h$$



$$\text{Toirt priosma} = \text{achar trasghearrtha} \times \text{fad}$$



1 Ba mhaith le bainisteoir éidí nua a cheannach don 30 oibrí aige.
Tá costas £8.15 ar léine agus tá costas £19.95 ar bhríste.

- (a) Déan **meastachán** ar chostas iomlán na n-éidí.
Taispeáin gach céim de do chuid oibre go soiléir.

Freagra £ _____ [2]

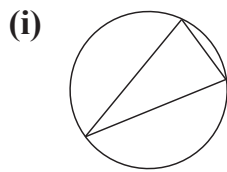
- (b) Gan áireamh ar bith eile a dhéanamh, déan cinneadh ar cé acu beidh do
mheastachán ina mheastachán ró-ard nó ró-íseal den chostas bheacht.
Mínigh do chuid réasúnaithe go soiléir.

_____ [2]

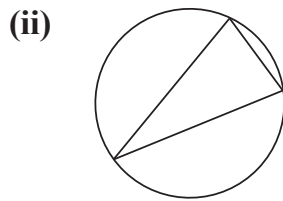
[Tiontaigh an leathanach



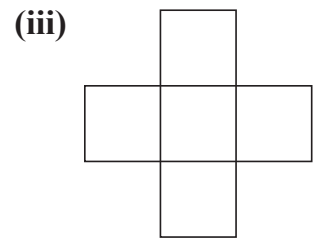
2 (a) Cá mhéad líne shiméadrachta atá ag gach léaráid?



Freagra _____



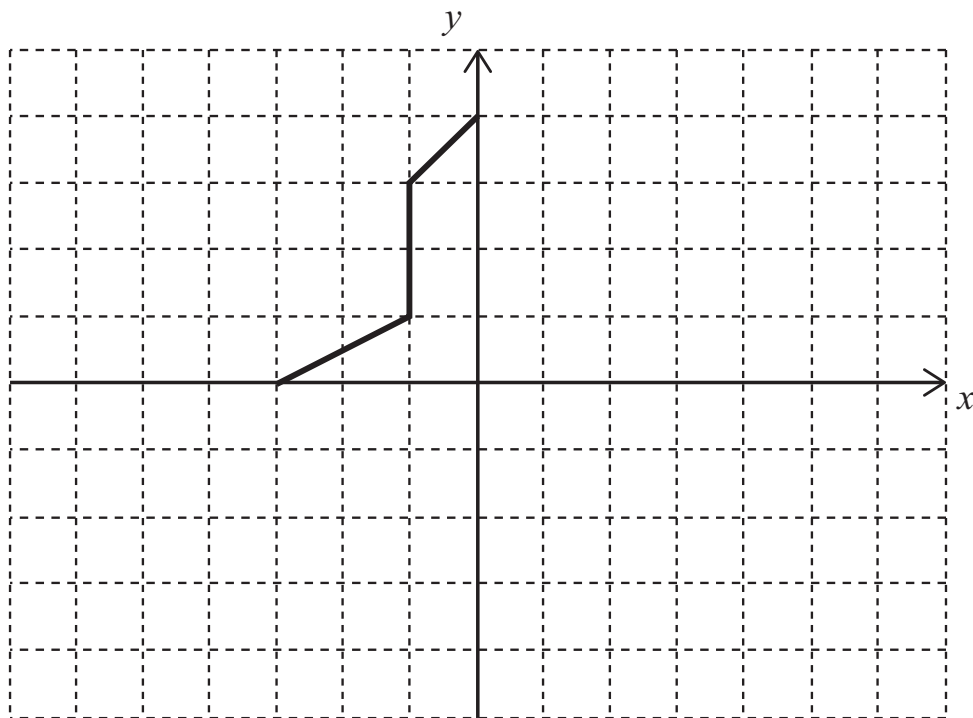
Freagra _____



Freagra _____

[3]

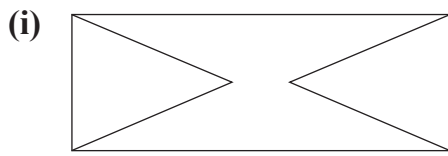
(b) Comhlánaigh an léaráid sa dóigh gur línte shiméadrachta iad an dá ais.



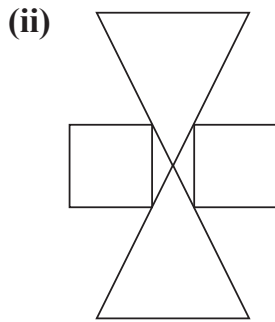
[3]



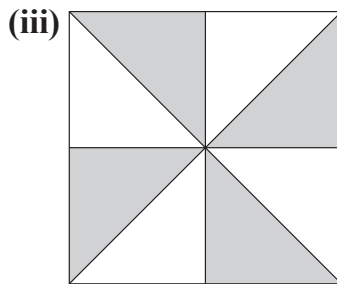
(c) Scríobh ord na siméadrachta rothlaí do gach cruth thíos.



Freagra _____ [1]



Freagra _____ [1]

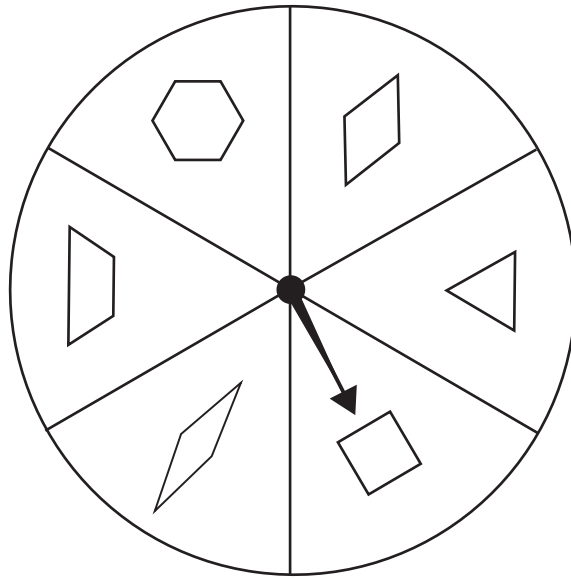


Freagra _____ [1]

[Tiontaigh an leathanach



3



Rothlaíonn Sara rothlóir cothrom (neamhchlaonta) a bhfuil roinnt cruthanna tarraingthe air.

Cad é an dóchúlacht go bhfaighidh Sara cruth

(a) a bhfuil 4 shlios air,

Freagra _____ [1]

(b) a bhfuil níos lú ná 3 shlios air,

Freagra _____ [1]

(c) a bhfuil níos lú ná 4 shlios air?

Freagra _____ [1]



Measúnófar caighdeán na cumarsáide scríofa sa cheist seo.

- 4 Coinníonn Len peitreal don lomaire léana aige i gcanna 5 lítear.
Tá 1 ghalún de pheitreal ag Gary i gcanna eile.
Tosaíonn Gary ag doirteadh a chuid peitрил isteach i gcanna folamh Len.
An mbeidh Gary ábalta a chuid peitрил uilig a dhoirteadh isteach i gcanna Len?

Úsáid 50 lítear = 11 ghalún

Taispeáin do chuid oibre go soiléir.

[3]

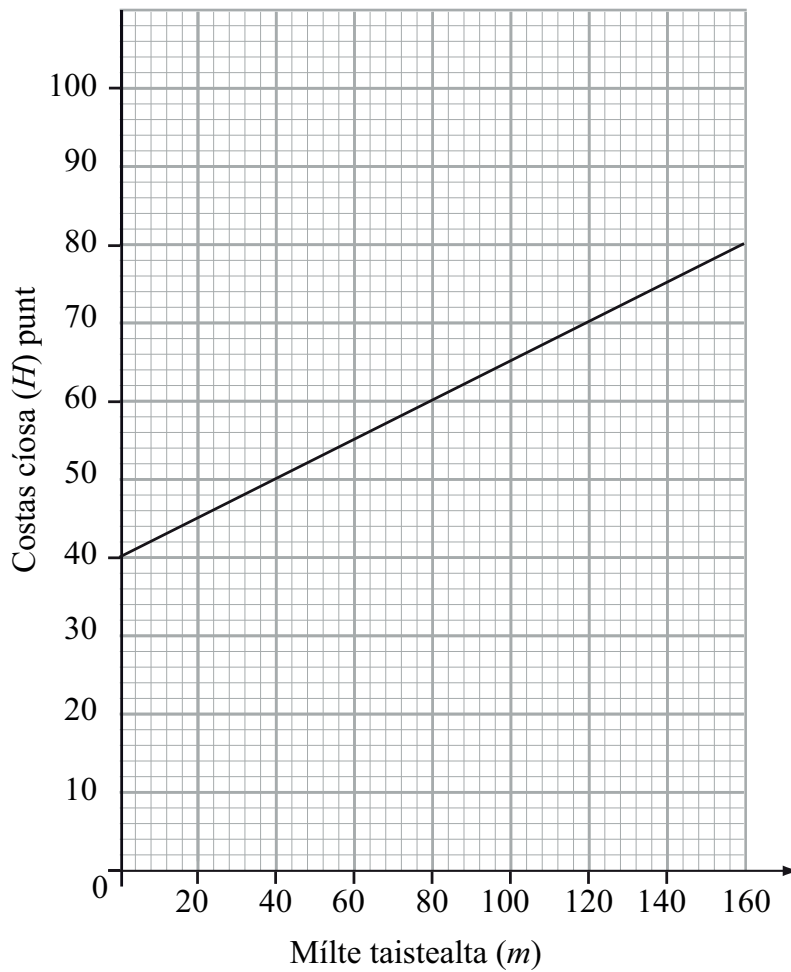
- 5 Tá costas £3.25 an cileagram ar fhíonchaora.
Ríomh costas punt amháin (1 lb) de na fíonchaora.

Freagra £ _____ [3]

[Tiontaigh an leathanach



- 6 Is comhlacht carranna ar cíos é Gluaisteáin Ghleoite. Taispeánann an graf an dóigh a ríomhtar an costas cíosa.



- (a) Fuair Martha carr ar cíos. Bá é £52 an costas cíosa nuair a tháinig sí ar ais. Bain úsáid as an ghráf leis an líon mílte a thaistil Martha a fháil.

Freagra _____ míle [1]



Tá táille sheasta chomh maith le táille don líon mílte atá taistealta (m) sa chostas cíosa (H).

(b) (i) Cá mhéad airgid atá ar an táille sheasta?

Freagra £ _____ [1]

(ii) Cá mhéad airgid atá ar an táille sa mhíle?

Freagra _____ [2]

(iii) Uaidh sin scríobh foirmle don chostas cíosa H i dtéarmaí an líon mílte atá taistealta m .

Freagra _____ [2]

[Tiontaigh an leathanach



7 (a) Scríobh 3.55 ceart go dtí 1 ionad de dheachúlacha.

Freagra _____ [1]

(b) Scríobh digit i ngach bosca thíos sa dóigh nuair a shlánaítear an uimhir go dtí 2 ionad de dheachúlacha gurb é 4.70 an uimhir.

<input type="text"/>	.	<input type="text"/>	<input type="text"/>	<input type="text" value="8"/>
----------------------	---	----------------------	----------------------	--------------------------------


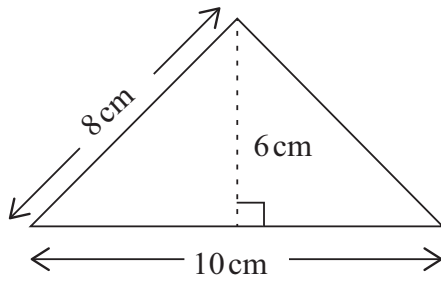
[1]

(c) Scríobh slánuimhir nach bhfuil náid ar bith inti a thabharfadh 5600 nuair a dhéanfaí í a shlánú go dtí 2 fhiigiúr bhunúsacha.

Freagra _____ [1]



8



Níl na léaráidí seo tarraingthe de réir scála.
Tá achar na dronuilleoige ceithre huairé níos mó ná achar an triantáin.
Ríomh fad na dronuilleoige.

Freagra _____ cm [4]

[Tiontaigh an leathanach



9 Tá tairní a bhfuil cúig fhad dhifriúla orthu i bpróca ag Bobby an tógálaí.

An dóchúlacht go bhfuil fad áirithe ar thairne, tugtar sa tábla í.

Fad (mm)	20	24	30	36	44
Dóchúlacht	0.15		0.2	0.25	0.35

(a) Cad é an dóchúlacht go bhfuil tairne 24 mm ar fad?

Freagra _____ [2]

Tá 60 tairne sa phróca.

(b) Cá mhéad tairne atá níos faide ná 30 mm?

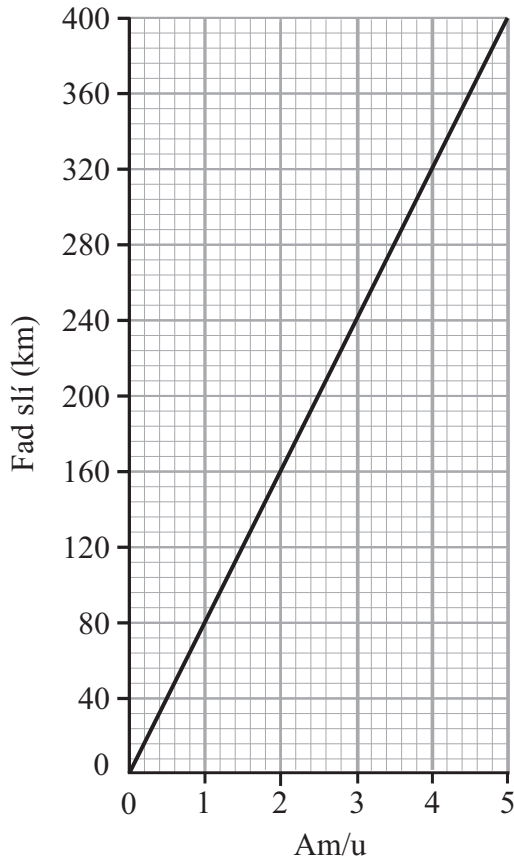
Freagra _____ [3]



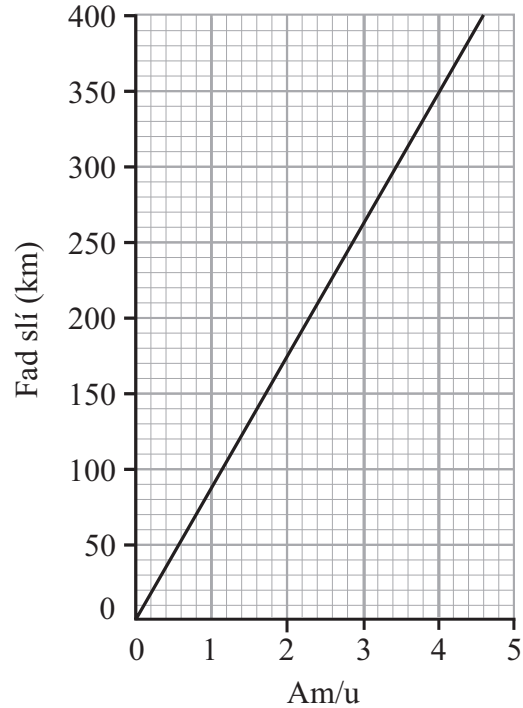
Measúnófar caighdeán na cumarsáide scríofa sa cheist seo.

10

Traein A



Traein B



Taispeánann na graif an dóigh a gcomhlánaíonn dhá thraein turas 400 km.

Cé acu traein A nó B a bhfuil an meánluas is mó aici?

Mínigh do fhreagra go soiléir.

Traein _____ mar _____

[3]

[Tiontaigh an leathanach



11 Réitigh $4n + 3 > 28$

Freagra _____ [2]



12

Torthaí		Glasraí	
Úll	45p	Cairéid	35p an 100 g
Oráiste	30p	Piseanna	75p an 100 g
Banana	25p	Pónairí	40p an 100 g

Is ionann sciar agus píosa toraidh amháin nó 100g de ghlasraí.

Itheann Fiona 5 sciar san iomlán de thorthaí agus glasraí gach lá. Tá uasmhéid airgid de £12 sa tseachtain ag Fiona le caitheamh ar thorthaí agus glasraí. Ceannaíonn sí dhá chineál dhifriúla torthaí ar a laghad agus dhá chineál dhifriúla glasraí ar a laghad.

Bain úsáid as na praghsanna thuas le dóigh **amháin** a thaispeáint faoi choinne torthaí agus glasraí a cheannach a fhágann go bhfuil go leor aici don tseachtain.

Taispeáin do chuid oibre go soiléir.

Freagra _____ [5]



NÁ SCRÍOBH AR AN LEATHANACH SEO

Don Scrúdaitheoir Amháin	
Uimhir Ceiste	Marcanna
1	
2	
3	
4	
5	
6	
7	
8	
9	
10	
11	
12	

Marc Iomlán	
--------------------	--

Uimhir Scrúdaitheora

Cuireadh isteach ar chead chun an t-ábhar cóipchirt uile a atáirgeadh.
I gcásanna áirithe is féidir nár éirigh le CCEA teagmháil a dhéanamh le húinéirí cóipchirt agus beidh sé sásta na hadmhálacha sin a fágadh ar lár a chur ina gceart amach anseo ach é a chur ar an eolas.

