



Rewarding Learning

General Certificate of Secondary Education
2014

Uimhir

--	--	--	--	--

Uimhir Iarrthóra

--	--	--	--

Matamaitic

Aonad T5 Páipéar 2

(Le hÁireamhán)

Bonnsraith



GMT52

[GMT52]

DÉ HAoine 30 Bealtaine, 3.00 pm–4.00 pm

AM

1 uair an chloig.

TREOIR D'IARRTHÓIRÍ

Scríobh d'Uimhir Lárionaid agus d'Uimhir Iarrthóra sna spásanna chuige sin ag barr an leathanaigh seo.

Ní mór duit do fhreagraí a scríobh sna spásanna chuige sin. Ná scríobh taobh amuigh den bhosca, thart ar gach leathanach, ar leathanaigh bhána nó ar rianpháipéar.

Comhlánaigh le peann gorm nó le peann dubh. **Ná scríobh le peann glóthaí.**

Freagair **gach ceann** de na **hocht** geist **déag**.

Ba chóir do chuid oibre a thaispeáint go soiléir sna spásanna chuige sin mar is féidir go mbronnfar marcanna ar réitigh a bhfuil codanna díobh ceart.

Tá **cead** agat áireamhán a úsáid don pháipéar seo.

EOLAS D'IARRTHÓIRÍ

Is é 50 an marc iomlán don pháipéar seo.

Léiríonn figiúirí idir lúibíní ar thaobh na láimhe deise de leathanaigh na marcanna atá ag dul do gach ceist nó do gach cuid de cheist.

Déanfar Eilimintí Feidhmeacha a mheasúnú sa pháipéar seo.

Measúnófar caighdeán na cumarsáide scríofa i **geist 8**.

Ba chóir duit áireamhán, rialóir, compáis agus uillinntomhas a bheith agat.

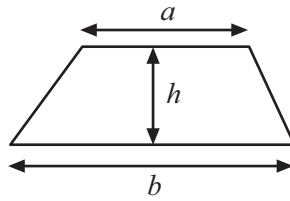
Tá an Bhileog Foirmilí ar leathanach 2.

8802.05

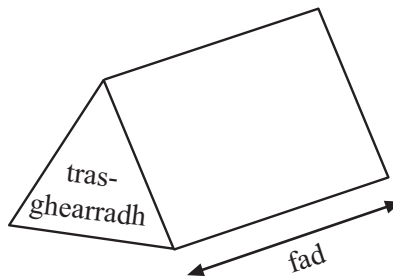


Bileog Foirmlí

$$\text{Achar traipéisiam} = \frac{1}{2}(a+b)h$$



$$\text{Toirt priosma} = \text{achar trasghearrtha} \times \text{fad}$$



1 Dodhéanta Neamhdhóchúil Seans Cothrom Dóchúil Cinnte

Scrúdaitheoir Amháin
Marcanna Athmhare

Ón liosta focal a thugtar thuas, scríobh an focal is cuí le cur síos a dheanamh ar an dóchúlacht

- (a) go rollfar scór de níos lú ná 5 ar dhísle neamhchlaonta, _____ [1]
- (b) go mbeidh am an bhua i Maratón 2016 níos giorra ná 3 nóiméad, _____ [1]
- (c) go roghnófar litir go randamach as na litreacha san fhocal ‘béar’ agus go bhfaighfear guta. _____ [1]

Iomlán Cheist 1

**2 Déan meastachán ar an líon úll a chosnaíonn 38 pingin an ceann is féidir liom a cheannach le £2.75.
Taispeáin do chuid oibre go soiléir.**

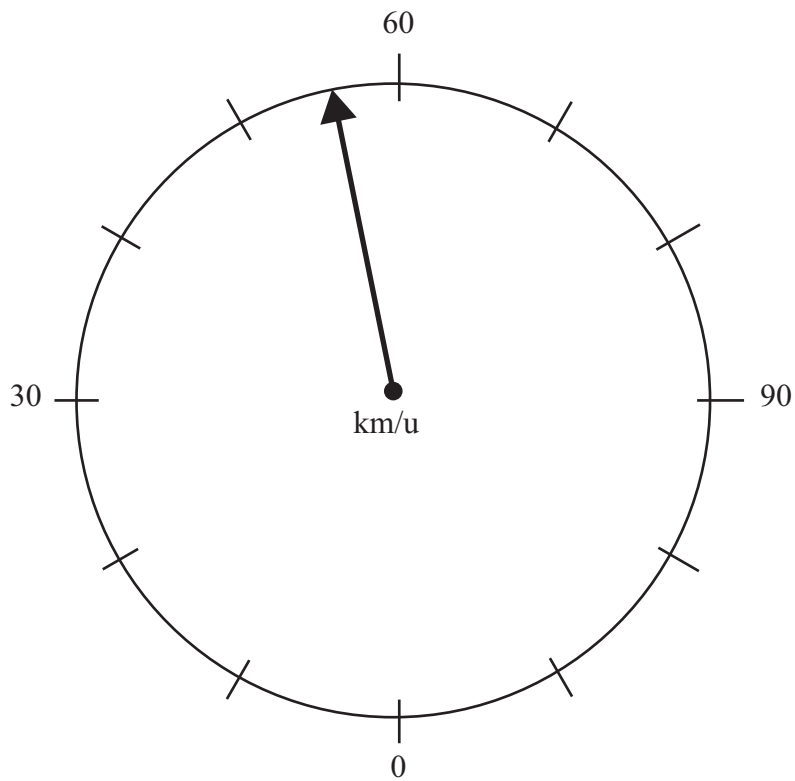
Freagra _____ úll [2]

Iomlán Cheist 2

[Tiontaigh an leathanach



3 Taispeánann an pictiúr thíos luasmhéadar i gcarr.



(a) Scríobh an luas a bhfuil an tsaishead dírithe air.

Freagra _____ km/u [1]

(b) Marcáil luas de 83 km/u go soiléir le saighead.

[1]

Scrúdaitheoir Amháin

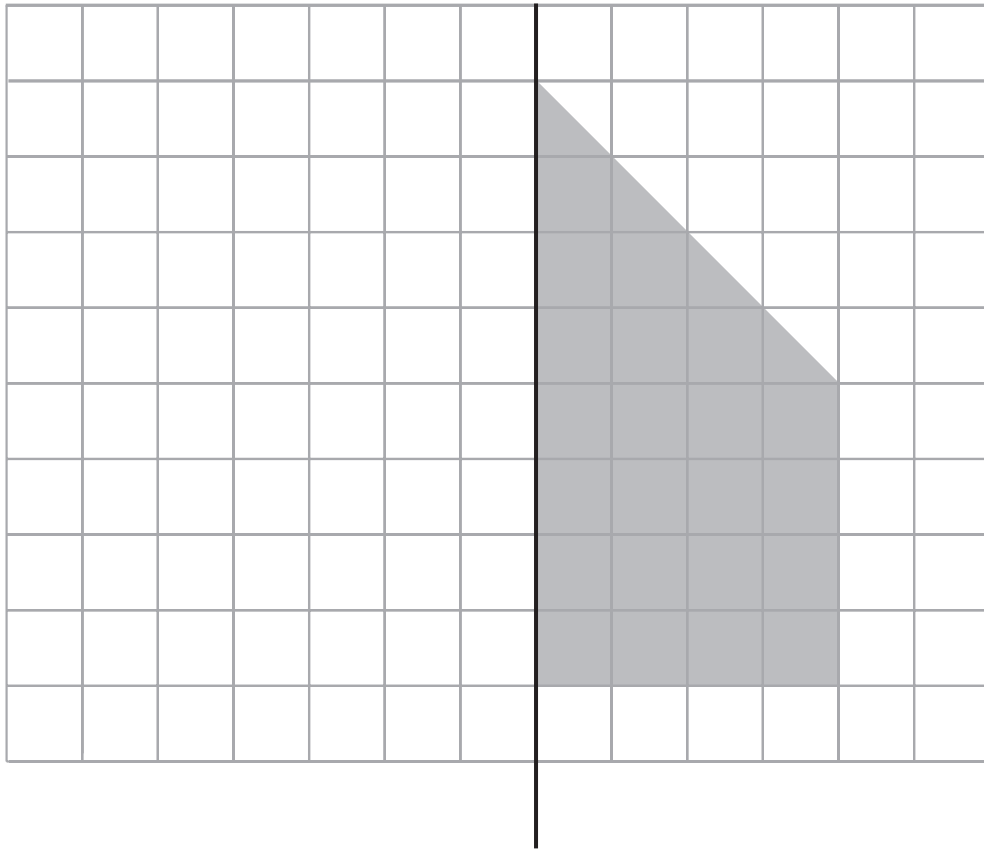
Marcanna Athmharc

Iomlán Cheist 3

8802.05



4



líne
scátháin

- (a) Tarraing frithchaitheamh an chrutha seo sa líne scátháin. [2]
- (b) Anois aimsigh achar an chrutha iomláin.

Scrúdaitheoir Amháin

Marcanna Athmharc

Iomlán Cheist 4

Freagra _____ cm^2 [2]

[Tiontaigh an leathanach



5 Taispeánann comhlacht tacsaithe a chuid táillí mar a thaispeántar thíos

Muirear seasta de £1.50 móide 75 pingin an míle

- (a) Ba é £10.50 táille Sheosaimh Cá mhéad míle a thaistil sé?

Freagra _____ [2]

- (b) Cé acu foirmle a léiríonn an táille F (ina £) atá ag an chomhlacht tacsaithe, an áit a léiríonn *m* líon na mílte atáthar ag taisteal? Ciorclaigh an freagra ceart.

$F = 1.50m + 75$ $F = 150 + 75m$ $F = 1.50 + 0.75m$ $F = 1.50m + 0.75$

[1]

Scrúdaitheoir Amháin	
Marcanna	Athmharc
Iomlán Cheist 5	

6

Cuir chugam, le do thoil	Líon	Praghas	Fo-Iomlán
OM Muga Oilimpeach		£10.99	
OH Hata Sciála Oilimpeach		£16.49	
OG Meadáille Oilimpeach		£21.50	
OS Foireann Chuimhneacháin		£31.99	
Seachadadh speisialta			6.85
Iomlán £			

Comhlánaigh an fhoirm phostdhíola le **trí** mhuga Oilimpeacha agus foireann chuimhneacháin **amháin** a fháil, agus Seachadadh speisialta san áireamh.

[3]

Iomlán Cheist 6	



7 (a) Tiontaigh 26 kg ina bpoint (úsáid $1 \text{ kg} \approx 2.2 \text{ punt}$).

Freagra _____ punt [1]

(b) Tiontaigh 15 orlach ina cm (úsáid $2 \text{ orlach} \approx 5 \text{ cm}$).

Freagra _____ cm [2]

(c) Tiontaigh 250 km ina mílte.

Freagra _____ míle [2]

Scrúdaitheoir Amháin

Marcanna Athmharc

Iomlán Cheist 7

[Tiontaigh an leathanach

8802.05



Measúnófar caighdeán na cumarsáide scríofa i gcuid (c) den cheist seo.

Scrúdaitheoir Amháin	
Marcanna	Athmharc
Iomlán Cheist 8	
Iomlán Cheist 9	

8 Tá glas teaglama ag Mícheál dá rothar. Tá a fhios aige gur 1, 4 agus 7 na 3 dhigit atá de dhíth leis an gglas a oscailt. Níl a fhios aige cén t-ord lena gcur isteach.

(a) Comhlánaigh na boscaí leis na dóigheanna difriúla uilig a thaispeánt a dtig leis na 3 dhigit a eagrú.

1 4 7	4 1 7	

[2]

(b) Déanann Mícheál iarracht buille faoi thuairim a thabhairt maidir lena theaghlaim. Cad é an dóchúlacht go bhfaighidh sé an uimhir cheart an chéad uair?

Freagra _____ [2]

(c) Tá a fhios ag Pam go n-úsáideann a glas teaglama na huimhreacha 5, 8, 8. Bíonn síse ag tabhairt buille faoi thuairim faoina teaghlaim fosta. Cé acu duine, Pam nó Mícheál, a bhfuil an seans is mó aige nó aici an teaghlaim a thomhas mar is ceart an chéad uair? Mínigh do fhreagra.

_____ [2]

9 Níl ach dhá chruth cheathairshleasacha ann a bhfuil go díreach dhá líne shiméadrachta agus siméadracht rothlach d'ord 2 acu. Ainmnigh an dá chruth seo.

Freagra _____ agus _____ [2]



10 (a) Scríobh 5.99 ceart go dtí 1 ionad de dheachúlacha.

Freagra _____ [1]

(b) Scríobh 0.0362 ceart go dtí 3 ionad de dheachúlacha.

Freagra _____ [1]

(c) Scríobh 0.06402 ceart go dtí 2 fhigiúr bhunúsacha.

Freagra _____ [1]

Scrúdaitheoir Amháin

Marcanna Athmhare

Iomlán Cheist 10

11 Faigh uimhir a fhágann go bhfuil an ráiteas seo ceart.

$$\text{uimhir} + 3 = \text{uimhir} \times 3$$

Freagra _____ [1]

Iomlán Cheist 11

12 Is é £1 = €1.20 (1 phunt = 1.20 euro) an ráta malairte idir steirling agus euronna.

Cosnaíonn eitleog €15

Cá mhéad a chosnaíonn an eitleog i bpoint (£)?

Freagra £ _____ [2]

Iomlán Cheist 12

13 I suirbhé ar aoiseanna 80 paisinéir iarnróid a bhí ag ceannach ticéad i stáisiún traenach, bhí 32 faoi bhun tríocha bliain d'aois.

Cheannaigh 5000 paisinéir ticéid ag an stáisiún seo. Déan meastachán ar an méid acu a bhí faoi bhun tríocha bliain d'aois.

Freagra _____ [2]

Iomlán Cheist 13

[Tiontaigh an leathanach

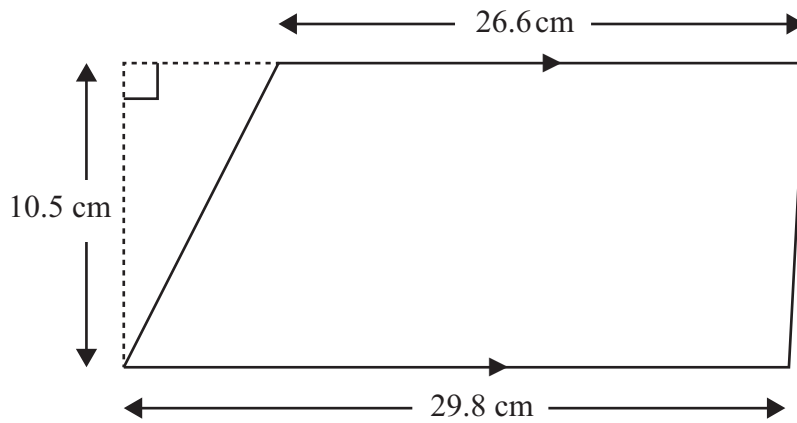


--	--

Iomlán Cheist 14

--	--

14 (a) Faigh achar an traipéisiam seo.



Freagra _____ cm² [2]

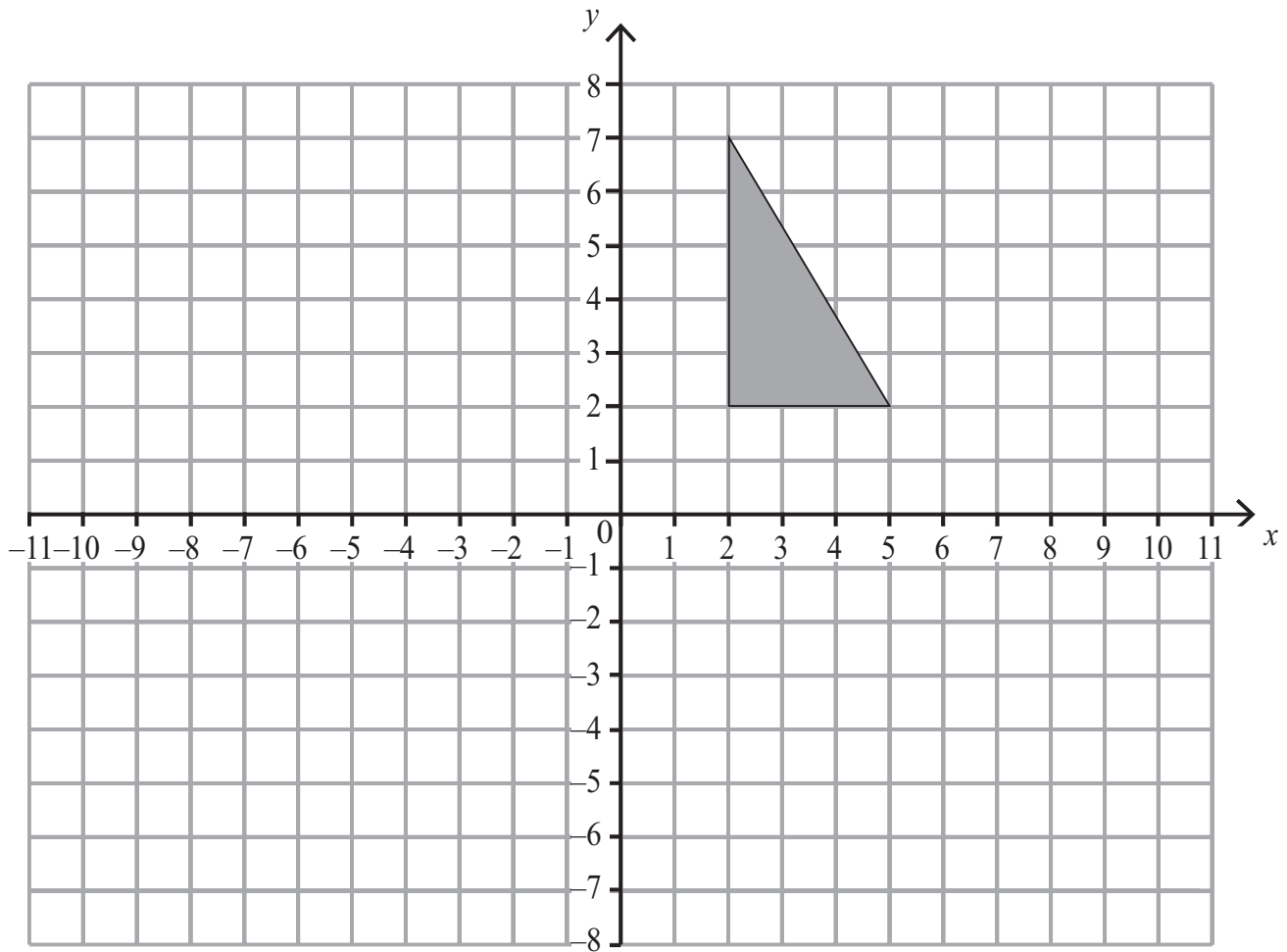
(b) An traipéisiam i gcuid (a), is é an trasghearradh é de phriosma carraige atá 78 cm ó thosach go cúl. Is é 20 g/cm³ dlús na carraige seo.

Ríomh mais an phriosma carraige.

Freagra _____ g [3]



15



Tarraing agus scáthaigh íomhá an triantáin i ndiaidh frithchaithimh sa líne $y = 1$ [2]

Scrúdaitheoir Amháin	
Marcanna	Athmharc

Iomlán Cheist 15	

[Tiontaigh an leathanach



16 Roinneann Alex agus Bethany £840 sa chóimheas 2 : 5
Cá mhéad níos mó airgid a fhaigheann Bethany ná Alex?

Scrúdaitheoir Amháin

Marcanna Athmharc

Freagra £ _____ [2]

Iomlán Cheist 16

17 Faigh deilín 1.4
Tabhair do fhreagra mar chodán sna téarmaí is simplí.

Freagra _____ [2]

Iomlán Cheist 17



18 Simpligh $k^3 \times k^3$

Scrúdaitheoir Amháin

Marcanna Athmharc

Freagra _____ [1]

SEO DEIREADH AN SCRÚDPHÁIPÉIR

Iomlán Cheist 18

8802.05



NÁ SCRÍOBH AR AN LEATHANACH SEO

8802.05





NÁ SCRÍOBH AR AN LEATHANACH SEO

8802.05



NÁ SCRÍOBH AR AN LEATHANACH SEO

Don Scrúdaitheoir amháin

Uimhir Ceiste	Marcanna
1	
2	
3	
4	
5	
6	
7	
8	
9	
10	
11	
12	
13	
14	
15	
16	
17	
18	

Uimhir Scrúdaitheora

Marc Iomlán	
----------------	--

Cuireadh isteach ar chead chun an t-ábhar cóipchirt uile a atáirgeadh.
I gcásanna áirithe is féidir nár éirigh le CCEA teagmháil a dhéanamh le húinéirí cóipchirt agus beidh sé sásta na hadmhálacha sin a fágadh ar lár a chur ina gceart amach anseo ach é a chur ar an eolas.

8802.05

