



Rewarding Learning

General Certificate of Secondary Education  
2014

Uimhir Lárionaid

--	--	--	--	--

Uimhir Iarrthóra

--	--	--	--

## Matamaitic

Aonad T5 Páipéar 2

(Le hÁireamhán)

Bonnsraith



[GMT52]

\*GMT52\*

DÉ HAOINE 30 BEALTAINE, 3.00 pm–4.00 pm

AM

1 uair an chloig.

### TREOIR D'IARRTHÓIRÍ

Scríobh d'Uimhir Lárionaid agus d'Uimhir Iarrthóra sna spásanna chuige sin ag barr an leathanaigh seo.

**Ní mór duit do fhreagraí a scríobh sna spásanna chuige sin. Ná scríobh taobh amuigh den bhosca, thart ar gach leathanach, ar leathanaigh bhána nó ar rianpháipéar.**

Comhlánaigh le peann gorm nó le peann dubh. **Ná scríobh le peann glóthaí.**

Freagair **gach ceann** de na **hocht gceist déag**.

Ba chóir do chuid oibre a thaispeáint go soiléir sna spásanna chuige sin mar is féidir go mbronnfar marcanna ar réitigh a bhfuil codanna díobh ceart.

Tá **cead** agat áireamhán a úsáid don pháipéar seo.

### EOLAS D'IARRTHÓIRÍ

Is é 50 an marc iomlán don pháipéar seo.

Léiríonn figiúirí idir lúibíní ar thaobh na lámhe deise de leathanaigh na marcanna atá ag dul do gach ceist nó do gach cuid de cheist.

Déanfar Eilimintí Feidhmeacha a mheasúnú sa pháipéar seo.

Measúnófar caighdeán na cumarsáide scríofa i **gceist 8**.

Ba chóir duit áireamhán, rialóir, compáis agus uillinntomhas a bheith agat.

Tá an Bhileog Foirmilí ar leathanach 2.

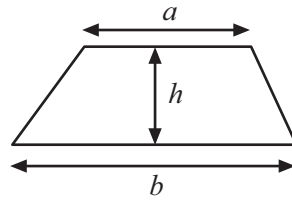
8802.05



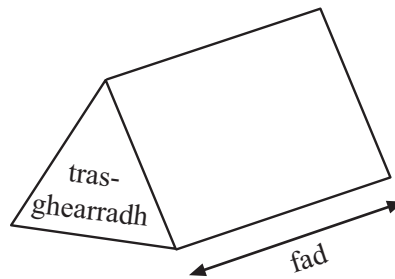
\*16GMT5201\*

# Bileog Foirmlí

$$\text{Achar traipéisiam} = \frac{1}{2}(a+b)h$$



$$\text{Toirt priosma} = \text{achar trasghearrtha} \times \text{fad}$$



**1 Dodhéanta Neamhdhóchúil Seans Cothrom Dóchúil Cinnte**

Scrúdaitheoir Amháin  
 Marcanna Athmharc

Ón liosta focal a thugtar thuas, scríobh an focal is cuí le cur síos a dheanamh ar an dóchúlacht

- (a) go rollfar scór de níos lú ná 5 ar dhísle neamhchlaonta, \_\_\_\_\_ [1]
- (b) go mbeidh am an bhua i Maratón 2016 níos giorra ná 3 nóiméad, \_\_\_\_\_ [1]
- (c) go roghnófar litir go randamach as na litreacha san fhocal ‘béar’ agus go bhfaighfear guta. \_\_\_\_\_ [1]

Iomlán Cheist 1

**2 Déan meastachán ar an líon úll a chosnaíonn 38 pingin an ceann is féidir liom a cheannach le £2.75.  
 Taispeáin do chuid oibre go soiléir.**

Freagra \_\_\_\_\_ úll [2]

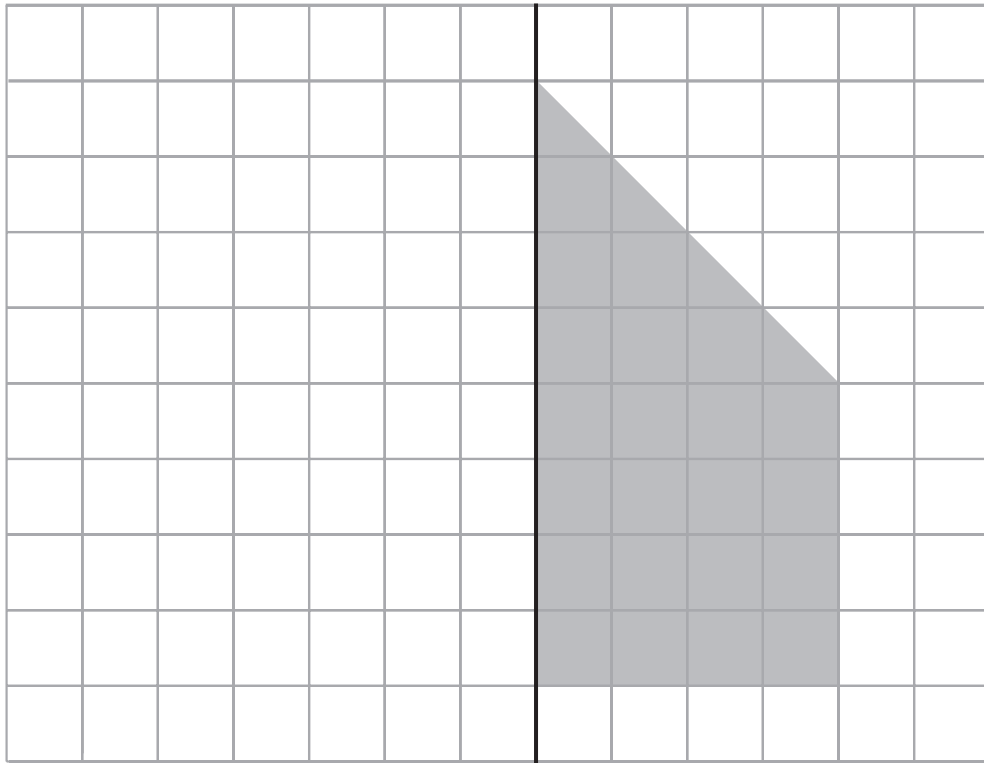
Iomlán Cheist 2

**[Tiontaigh an leathanach**





4



líne  
scátháin

- (a) Tarraing frithchaitheamh an chrutha seo sa líne scátháin. [2]
- (b) Anois aimsigh achar an chrutha iomláin.

Scrúdaitheoir Amháin

Marcanna Athmharc

Iomlán Cheist 4

Freagra \_\_\_\_\_  $\text{cm}^2$  [2]

[Tiontaigh an leathanach



5 Taispeánann comhlacht tacsaithe a chuid táillí mar a thaispeántar thíos

**Muirear seasta de £1.50  
móide  
75 pingin an míle**

- (a) Ba é £10.50 táille Sheosaimh  
Cá mhéad míle a thaistil sé?

Freagra \_\_\_\_\_ [2]

- (b) Cé acu foirmle a léiríonn an táille F (ina £) atá ag an chomhlacht tacsaithe, an áit a léiríonn  $m$  líon na mílte atáthar ag taisteal? Ciorclaigh an freagra ceart.

$F = 1.50m + 75$      $F = 150 + 75m$      $F = 1.50 + 0.75m$      $F = 1.50m + 0.75$

[1]

Scrúdaitheoir Amháin	
Marcanna	Athmharc
Iomlán Cheist 5	

6

Cuir chugam, le do thoil	Líon	Praghas	Fo-Iomlán
OM Muga Oilimpeach		£10.99	
OH Hata Sciála Oilimpeach		£16.49	
OG Meadáille Oilimpeach		£21.50	
OS Foireann Chuimhneacháin		£31.99	
Seachadadh speisialta			6.85
Iomlán £			

Comhlánaigh an fhoirm phostdhíola le **trí** mhuga Oilimpeacha agus foireann chuimhneacháin **amháin** a fháil, agus Seachadadh speisialta san áireamh.

[3]

Iomlán Cheist 6	



7 (a) Tiontaigh 26 kg ina bpoint (úsáid  $1 \text{ kg} \approx 2.2 \text{ punt}$ ).

Freagra \_\_\_\_\_ punt [1]

(b) Tiontaigh 15 orlach ina cm (úsáid  $2 \text{ orlach} \approx 5 \text{ cm}$ ).

Freagra \_\_\_\_\_ cm [2]

(c) Tiontaigh 250 km ina mílte.

Freagra \_\_\_\_\_ míle [2]

Scrúdaitheoir Amháin

Marcanna Athmharc

Iomlán Cheist 7

[Tiontaigh an leathanach

8802.05



\*16GMT5207\*

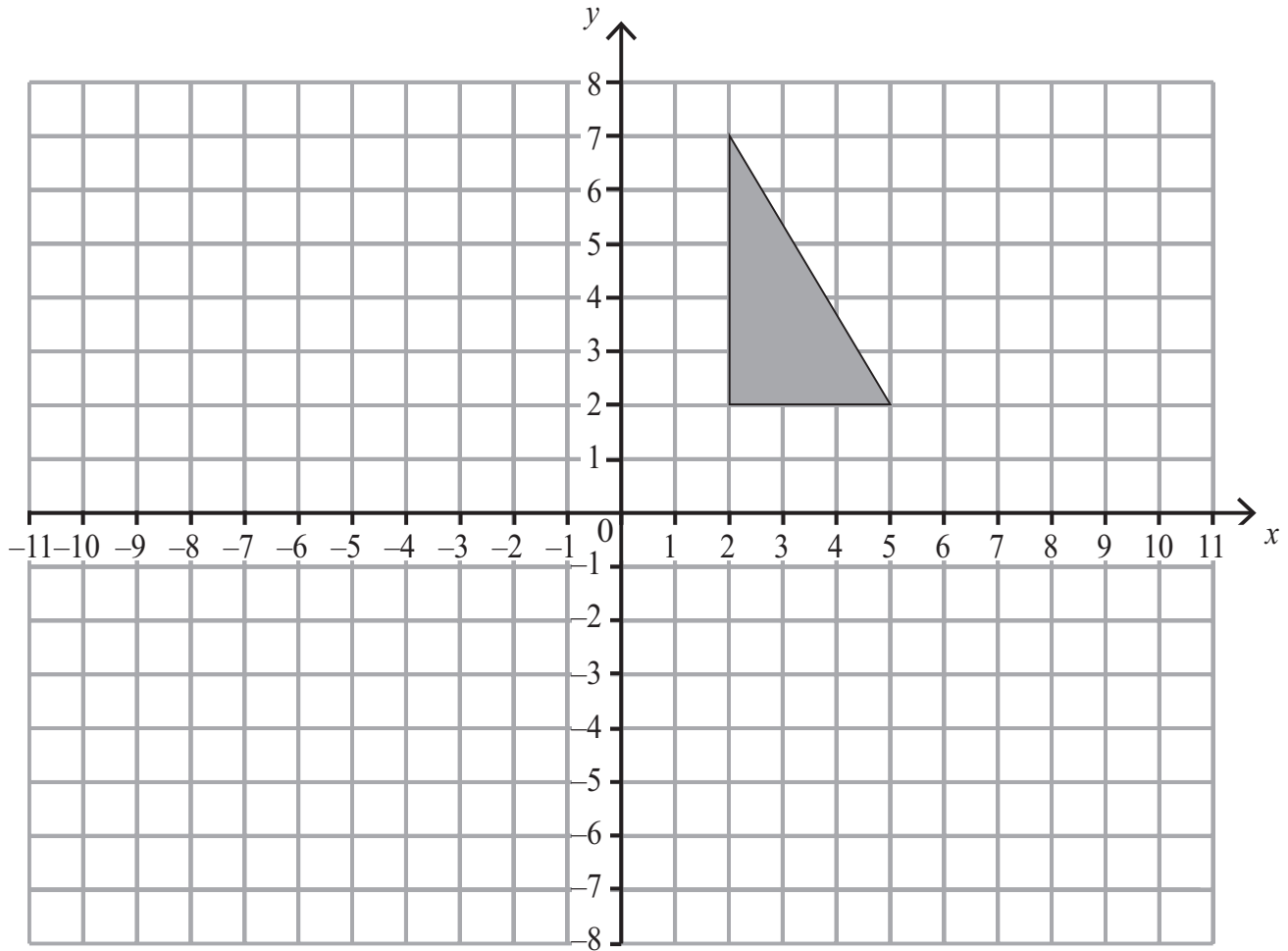








15



Tarraing agus scáthaigh íomhá an triantáin i ndiaidh frithchaithimh sa líne  $y = 1$  [2]

Scrúdaitheoir Amháin	
Marcanna	Athmharc

Iomlán Cheist 15	

[Tiontaigh an leathanach



16 Roinneann Alex agus Bethany £840 sa chóimheas 2 : 5  
Cá mhéad níos mó airgid a fhaigheann Bethany ná Alex?

Scrúdaítheoir Amháin

Marcanna Athmharc

Freagra £ \_\_\_\_\_ [2]

Iomlán Cheist 16

17 Faigh deilín 1.4  
Tabhair do fhreagra mar chodán sna téarmaí is simplí.

Freagra \_\_\_\_\_ [2]

Iomlán Cheist 17

8802.05



\*16GMT5212\*

18 Simpligh  $k^3 \times k^3$

Scrúdaitheoir Amháin

Marcanna Athmharc

Freagra \_\_\_\_\_ [1]

---

**SEO DEIREADH AN SCRÚDPHÁIPÉIR**

---

Iomlán Cheist 18

8802.05



\*16GMT5213\*

**NÁ SCRÍOBH AR AN LEATHANACH SEO**

8802.05



\*16GMT5214\*





# NÁ SCRÍOBH AR AN LEATHANACH SEO

8802.05



\*16GMT5215\*

# NÁ SCRÍOBH AR AN LEATHANACH SEO

Don Scrúdaitheoir amháin	
Uimhir Ceiste	Marcanna
1	
2	
3	
4	
5	
6	
7	
8	
9	
10	
11	
12	
13	
14	
15	
16	
17	
18	

Uimhir Scrúdaitheora

Marc Iomlán	
-------------	--

Cuireadh isteach ar chead chun an t-ábhar cóipchirt uile a atáirgeadh.  
I gcásanna áirithe is féidir nár éirigh le CCEA teagmháil a dhéanamh le húinéirí cóipchirt agus beidh sé sásta na hadmhálacha sin a fágadh ar lár a chur ina gceart amach anseo ach é a chur ar an eolas.

8802.05



\*16GMT5216\*