



Rewarding Learning

General Certificate of Secondary Education
2013

Uimhir Lárionaid

| | | | | |
|--|--|--|--|--|
| | | | | |
|--|--|--|--|--|

Uimhir Iarrthóra

| | | | |
|--|--|--|--|
| | | | |
|--|--|--|--|

Matamaitic

Aonad T1
(Le hÁireamhán)
Bonnsraith



[GMT11]

GMT11

DÉ MÁIRT 11 MEITHEAMH 9.15am–10.45am

AM

1 uair 30 nóiméad.

TREOIR D'IARRTHÓIRÍ

Scríobh d'Uimhir Lárionaid agus d'Uimhir Iarrthóra sna spásanna chuige sin ag barr an leathanaigh seo.

Ní mór duit do fhreagraí a scríobh sna spásanna chuige sin. Ná scríobh taobh amuigh den bhosca, thart ar na leathanaigh, ar leathanaigh bhána nó ar rianpháipéar.

Comhlánaigh le peann gorm nó le peann dubh. **Ná scríobh le peann glóthaí.**

Freagair **gach ceann** de na **ceithre** cheist is **fiche**.

Ba chóir do chuid oibre a thaispeáint go soiléir sna spásanna chuige sin mar is féidir go mbronnfar marcanna ar réitigh a bhfuil codanna díobh ceart.

Tá cead agat áireamhán a úsáid don pháipéar seo.

EOLAS D'IARRTHÓIRÍ

Is é 100 an marc iomlán don pháipéar seo.

Léiríonn figiúirí idir lúbíní ar thaobh na láimhe deise de leathanaigh na marcanna atá ag dul do gach ceist nó do gach cuid de cheist.

Déanfar Eilimintí Feidhmeacha a mheas sa pháipéar seo.

Measúnófar caighdeán na cumarsáide scríofa i **gceist 22**.

Ba chóir duit áireamhán, rialóir, compáis agus uillinntomhas a bheith agat.

Tá an Bhileog Foirmilí ar leathanach 2.

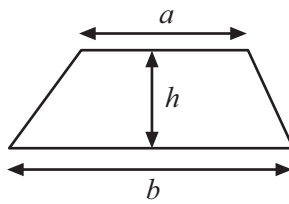
8165.05 GMT11



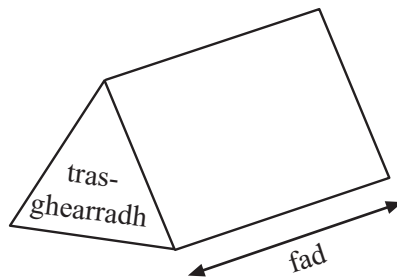
24GMT1101

Bileog Foirmlí

$$\text{Achar traipéisiam} = \frac{1}{2}(a+b)h$$

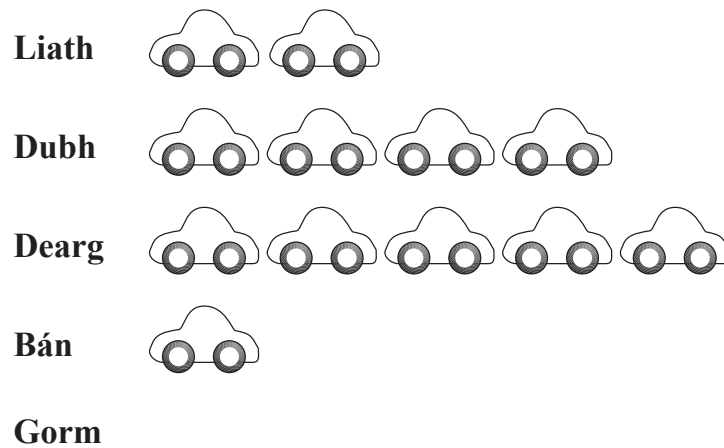


$$\text{Toirt priosma} = \text{achar trasghearrtha} \times \text{fad}$$



- 1 Díoladh 60 carr i ngaráiste. Taispeántar an chéad cheithre shraith den phicteagram thíos.

Díolacháin Charranna



- (a) Díoladh 20 carr dearg.

Comhlánaigh an eochair:  = _____ carr [1]

- (b) Cá mhéad carr dubh a díoladh?

Freagra _____ [1]

- (c) Cá mhéad níos mó carranna dearga ná carranna liatha a díoladh?

Freagra _____ [1]

- (d) Comhlánaigh an tsraith sa phicteagram le haghaidh carranna gorma. [2]

Iomlán Cheist 1

[Tiontaigh an leathanach



2 (a) Scríobh naoi míle i bhfigiúirí.

Freagra _____ [1]

(b) Ciorclaigh trí uimhir thíos a shlánaíonn go naoi míle go dtí an míle is cóngaraí.

9473 90003 8977 899 9511 8495 8500 [3]

Scrúdaitheoir Amháin

Marcanna Athmharc

Iomlán Cheist 2

3 Seo cúig dhigit.

5 1 8 7 3

(a) Úsáid **gach** digit leis an uimhir is mó agus is féidir a scríobh.

Freagra _____ [1]

(b) Úsáid **ceithre** cinn de na digití le ré-uimhir a scríobh.

Freagra _____ [1]

(c) Úsáid **dhá** cheann de na digití le hiolraí 7 a scríobh.

Freagra _____ [1]

(d) Úsáid **dhá** cheann de na digití le huimhir chearnach a scríobh.

Freagra _____ [1]

(e) Úsáid **ceithre** cinn de na digití le dhá uimhir arb é 70 an tsuim acu a scríobh.

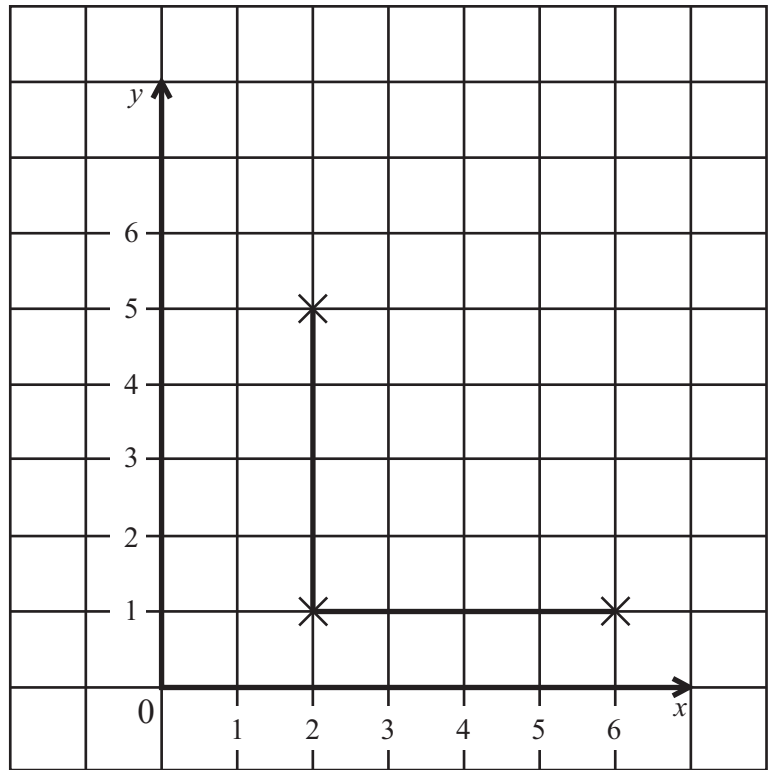
Freagra _____ agus _____ [2]

Iomlán Cheist 3



- 4 (a) Tá Pilib ag breacadh pointí le cearnóg a fhoirmiú. Tá 3 pointe breactha aige agus 2 shlios tarraingthe aige. Scríobh comhordanáidí an 4ú rinn.

Freagra (____, ____) [2]



- (b) Is iad 1, 3, 5, 7 na chéad 4 chorrúimhir.

Cad é an uimhir atá 1 níos lú ná an 10ú corruimhir?

Freagra _____ [2]

Scrúdaitheoir Amháin

Marcanna Athmharc

| Scrúdaitheoir Amháin | |
|----------------------|----------|
| Marcanna | Athmharc |
| | |
| Iomlán Cheist 4 | |
| | |

[Tiontaigh an leathanach



5 (a) Ainmnigh ceathairshleasán

Scrúdaitheoir Amháin

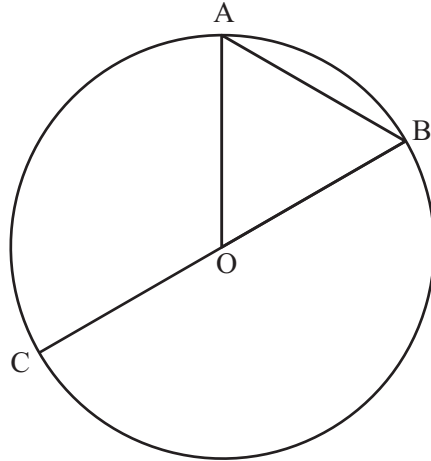
Marcanna Athmharc

- (i) a bhfuil dhá pháire sleasa ar cóimhéid aige ach nach bhfuil sleasa comhthreomhara ar bith aige,

Freagra _____ [1]

- (ii) nach bhfuil ach páire amháin de shleasa comhthreomhara aige.

Freagra _____ [1]



Is é O lár an chiorcail.

(b) Comhlánaigh na habairtí

- (i) Is pointí iad A, B agus C ar _____ an chiorcail. [1]

- (ii) Is _____ an chiorcail é an líne OB. [1]

- (iii) Is _____ an chiorcail é an líne dhíreach AB. [1]

(c) Scáthaigh teascán den chiorcal. [1]

Iomlán Cheist 5



- 6 (a) Tá Tom ag léamh leabhair a bhfuil 96 leathanach ann.
Tá 25% den leabhar léite aige.
Cá mhéad leathanach sa leabhar atá léite aige?

Freagra _____ leathanach [2]

- (b) Cheannaigh Siún 9 scóna ar 18p an ceann.
Cá mhéad briseadh a fuair sí ó £5?

Freagra £ _____ [2]

- (c) Scríobh an tacar seo d'uimhreacha in ord a méide.
Tosaigh leis an uimhir is lú.

6, -7, -11, 3, -5

Freagra _____ , _____ , _____ , _____ , _____ [1]

- (d) Scríobh an tacar seo d'uimhreacha in ord a méide.
Tosaigh leis an uimhir is lú.

0.74, 0.089, 0.8, 0.85, 0.803

Freagra _____ , _____ , _____ , _____ , _____ [1]

Iomlán Cheist 6


[Tiontaigh an leathanach



7 Thairfead Vicky na cineálacha deochanna a díoladh ó mheaisín deochanna.

| Cineál Dí | Minicíocht |
|--------------|------------|
| Caife | 7 |
| Tae | 13 |
| Seacláid The | 6 |
| Cóla | 5 |
| Oráiste | 3 |

(a) Ar an ghráfpháipéar, tarraing barrachairt leis an fhaisnéis seo a thaispeáint.



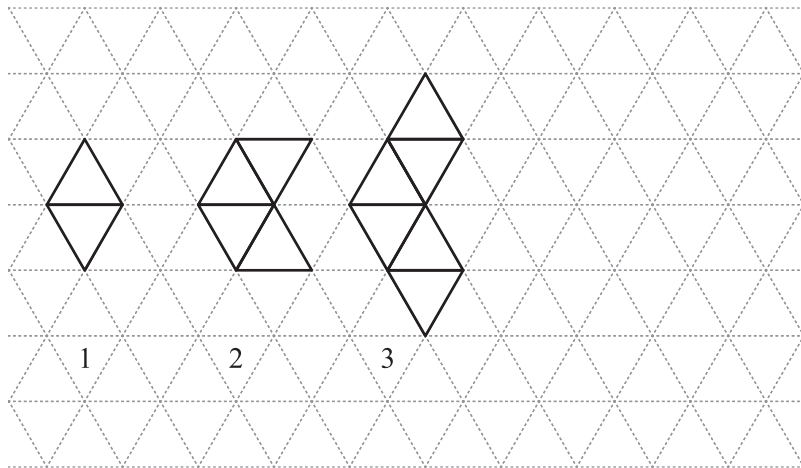
[3]

Scrúdaítheoir Amháin

Marcanna Athmharc



8 Úsáidtear cipíní leis an phatrún seo de chruthanna a dhéanamh.



- (a) Tarraing an 4ú patrún agus comhlánaigh an tábla le haghaidh líon na gcipíní.

| | | | | |
|-----------------|---|---|----|---|
| Uimhir Patrúin | 1 | 2 | 3 | 4 |
| Líon na gCipíní | 5 | 9 | 13 | |

[2]

- (b) Cad é an patrún a thugann tú faoi deara maidir leis na huimhreacha sa tsraith “Líon na gCipíní”?

Freagra _____ [1]

- (c) Faigh líon na gcipíní sa 9ú patrún.

Freagra _____ [2]

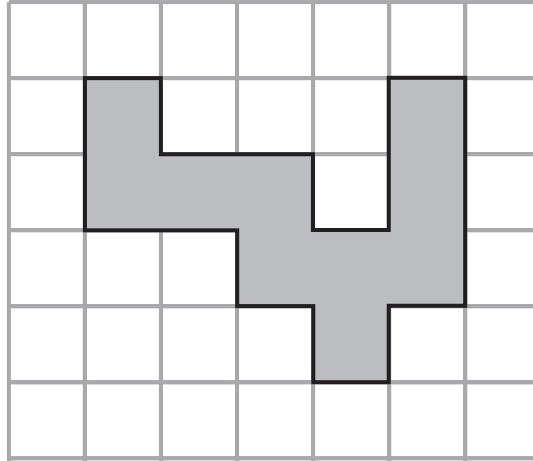
Scrúdaítheoir Amháin

Marcanna Athmharc

Iomlán Cheist 8

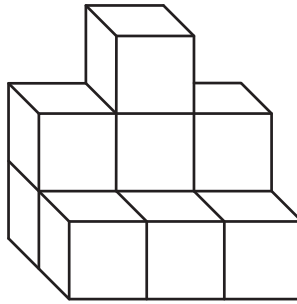


9 (a) Tarraingítear cruth ar eangach ceintiméadar cearnógach.




Oibrigh amach imlíne an chrutha seo. Freagra _____ cm [1]

(b) Tá an solad siméadrach seo déanta de chiúbanna ceintiméadair.



(i) Cad é toirt an tsolaid? Freagra _____ cm³ [1]

(ii) Ar an eangach thíos tarraing aghaidhchló an tsolaid.



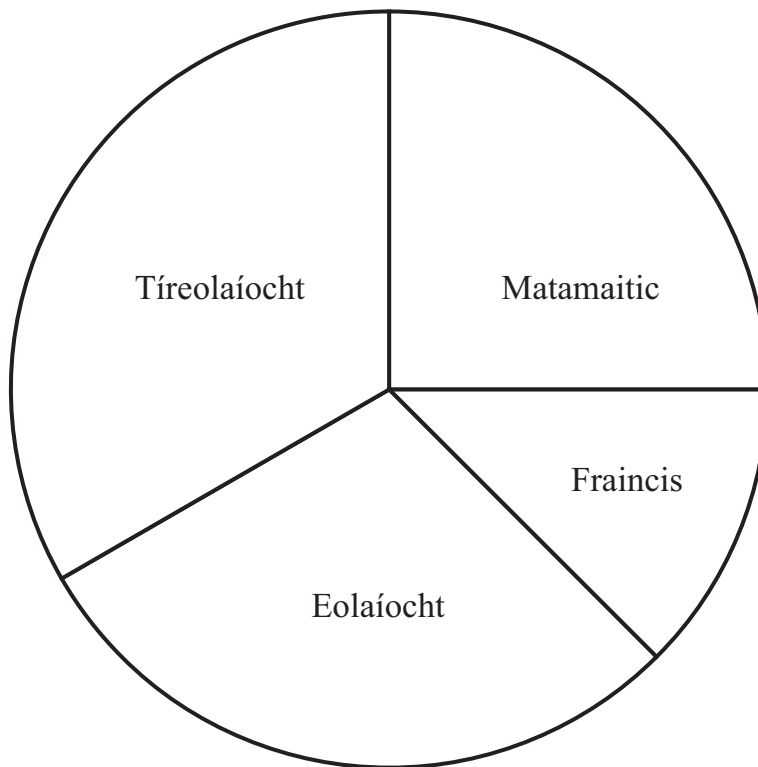
[2]

Iomlán Cheist 9

[Tiontaigh an leathanach



- 11 Chaith Nina dhá uair an chloig ar an obair baile tráthnóna amháin. Taispeánann an phíchart cad é mar a roinn sí an t-am idir na ceithre ábhar.



- (a) Cá mhéad ama a chaith sí ar an Mhamaitic?

Freagra _____ nóiméad [1]

- (b) Déan meastachán ar an méid ama a chaith sí ar Thíreolaíocht.

Freagra _____ nóiméad [1]

- (c) Tomhais an uillinn don Eolaíocht.

Freagra _____ ° [1]

Iomlán Cheist 11

[Tiontaigh an leathanach



12 Taifeadadh líon na nuachtán a díoladh gach uair an chloig i siopa beag.

35 23 22 14 17 19 21 25

Cad é meánlíon na nuachtán a díoladh?

Freagra _____ [3]

Scrúdaitheoir Amháin

Marcanna Athmharc

Iomlán Cheist 12

13 Tá seilf leabhar 2.5 m ar leithead.

Cá mhéad leabhar dar leithead 18mm gach ceann acu is féidir a stóráil ar an tseilf?

Freagra _____ [3]

Iomlán Cheist 13



14 (a) Is é £890 an praghas in airgead tirim atá ar thábla.

Is féidir é a cheannach ar cairde trí éarlais 10% den praghas in airgead tirim a íoc agus 24 íocaíocht mhíosúil de £39.50

Cá mhéad níos mó a íoctar as an tábla nuair a cheannaítear ar cairde é?

Freagra £ _____ [4]

(b) (i) Mínigh cad é a chiallaíonn an ciúbú de 5

Freagra _____ [1]

(ii) Faigh an fhréamh chiúbach de 64

Freagra _____ [1]

(c) Oibrigh amach an freagra don áireamh seo a leanas, gan áireamhán a úsáid.

Taispeáin do chuid oibre.

$$\frac{7}{12} - \frac{1}{6}$$

[2]

Iomlán Cheist 14

[Tiontaigh an leathanach



15 (a) Ríomh toirt ciúbóidigh dar fad 9 cm, dar leithead 8 cm agus darb airde 3 cm.

Freagra _____ [3]

(b) Tá an toirt chéanna i gciúb agus atá sa chiúbóideach. Ríomh fad shlios an chiúb.

Freagra _____ cm [2]

Scrúdaitheoir Amháin

Marcanna Athmharc

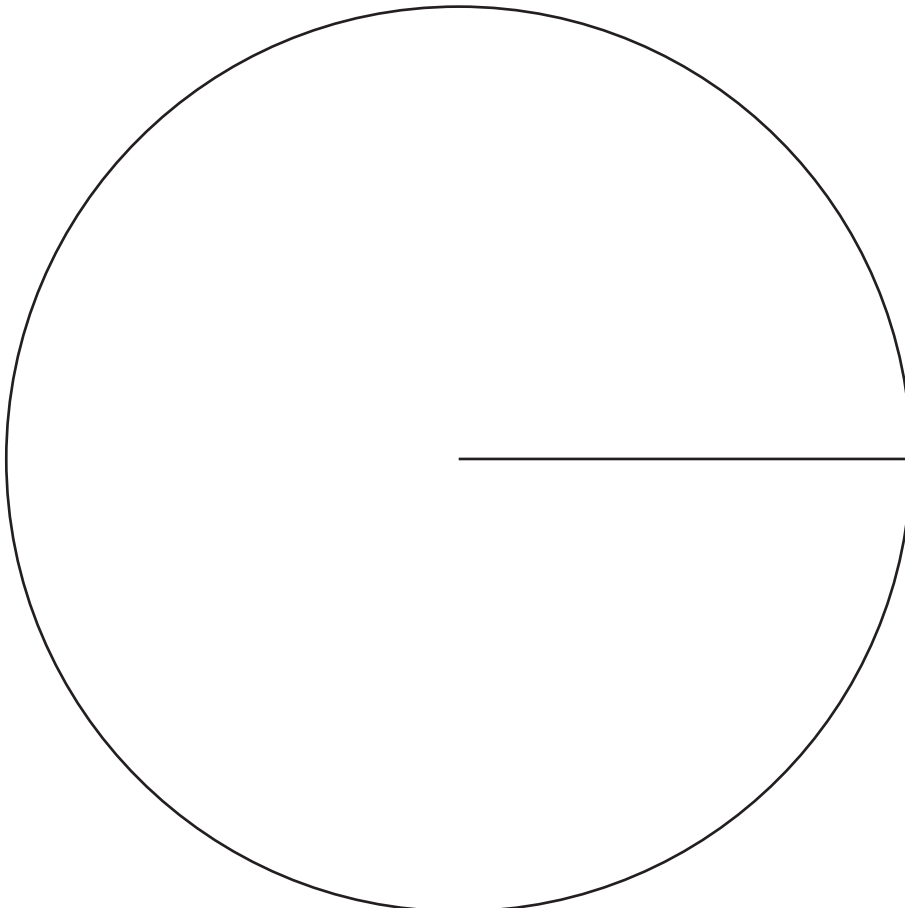
Iomlán Cheist 15



17 Taifeadh líon na mbrioscán prátaí a díoladh i siopa milseán mar seo a leanas.

| Blas | Minicíocht | Uillinn |
|----------------------|------------|---------|
| Salann agus Fínéagar | 10 | |
| Saillte | 8 | |
| Bagún Deataithe | 17 | |
| Cáis agus Oinniún | 25 | |

Tarraing píchart leis an fhaisnéis seo a léiriú.



[4]

Scrúdaítheoir Amháin

Marcanna Athmharc

Iomlán Cheist 17



18 Cé acu de na codáin seo a leanas is cóngaraí de réir méide do $\frac{1}{4}$?

$$\frac{6}{25}$$

$$\frac{13}{50}$$

$$\frac{49}{200}$$

$$\frac{97}{400}$$

Taispeáin do chuid oibre.

Freagra _____ [2]

| Scrúdaitheoir Amháin | |
|----------------------|----------|
| Marcanna | Athmharc |
| | |
| Iomlán Cheist 18 | |
| | |

19 Tóg triantán ABC an áit a bhfuil AB 8 cm, AC 5 cm agus uillinn A 55°

A ×

[2]

| | |
|------------------|--|
| | |
| Iomlán Cheist 19 | |
| | |

[Tiontaigh an leathanach



20 Ríomh $\frac{2}{0.5^2}$

Scrúdaitheoir Amháin

Marcanna Athmharc

Freagra _____ [2]

Iomlán Cheist 20

21

Amchlár: Lárionad Busanna Inis Ceithleann – Lárionad Busanna na hÓmaí Seirbhís 94 (Luan–Aoine)

Pointí Seastáin:

| | | | | | | | | |
|--|------|------|------|------|------|------|------|------|
| Inis Ceithleann, Lárionad Busanna | ... | 0655 | 0735 | 0740 | 0905 | 1130 | 1330 | 1545 |
| An Mullach Mín, An Sráidbhaile | ... | ... | ... | ... | ... | ... | ... | ... |
| Béal Átha na Mallacht, Teach Pobail | ... | 0710 | ... | 0755 | 0920 | ... | 1345 | 1605 |
| Trileac, Siopa Warnock | ... | 0720 | 0802 | 0805 | 0930 | ... | 1355 | 1615 |
| Baile an Irbhinigh, Seachbhóthar | ... | ... | ... | ... | ... | 1200 | ... | ... |
| An Droim Mór (Tír Eoghain), Seachbhóthar | 0727 | 0730 | ... | 0815 | 0940 | 1220 | 1405 | 1625 |
| Siopa Price, cóngarach don Droim Mór | ... | 0738 | ... | 0823 | 0948 | 1225 | 1413 | 1633 |
| An Ómaigh, Lárionad Busanna | 0752 | 0752 | ... | 0850 | 1005 | 1240 | 1430 | 1655 |

- (a) Tá moill 8 nóiméad ar bhus 0740 ó Inis Ceithleann. Cad é an t-am a bhainfidh sé Béal Átha na Mallacht amach?

Freagra _____ [1]

- (b) Caithfidh cailín a bheith ar an Ómaigh do choinne ar 1.15 pm. Beidh sí ag imeacht ó Inis Ceithleann ar an bhus is moille agus is féidir le go mbeidh sí in am don choinne aici. Cá fhad a bheidh le caitheamh aici ar an Ómaigh roimh an choinne?

Iomlán Cheist 21

Freagra _____ nóiméad [2]



Measúnófar caighdeán na cumarsáide scríofa sa cheist seo.

Scrúdaitheoir Amháin

Marcanna Athmharc

22 I gcomórtas cic pionóis scóráil na buachaillí i Rang 12A na cúil seo a leanas:

6, 10, 9, 8, 7, 6, 7, 10, 9, 8

I Rang 12B scóráil 8 mbuachaill 72 cúl san iomlán.

Cé acu rang ab fhearr sa chomórtas?

Mínigh do fhreagra.

Freagra _____

mar _____

_____ [4]

Iomlán Cheist 22

23 Tá costas £2.65 an kg ar úlla cócarála ag grósaeir glasraí.

Cheannaigh Máire 0.6 kg d'úlla cócarála.

Cheannaigh sí 0.4 kg de thrátaí fosta.

Bhí costas £2.83 don dá earra ar a bille ag an tseiceáil amach.

Oibrigh amach praghas **an kg** do na trátaí.

Freagra £ _____ [4]

Iomlán Cheist 23

[Tiontaigh an leathanach



24 (a) Simpligh

$$5y + 3y - 4y$$

Freagra _____ [1]

(b) Réitigh

(i) $\frac{x}{3} = 9$

Freagra $x =$ _____ [1]

(ii) $\frac{30}{x} = 6$

Freagra $x =$ _____ [1]

SEO DEIREADH AN SCRÚDPHÁIPÉIR

Scrúdaítheoir Amháin

Marcanna Athmharc

Iomlán Cheist 24





NÁ SCRÍOBH AR AN LEATHANACH SEO

8165.05 GMT11



24GMT1123

NÁ SCRÍOBH AR AN LEATHANACH SEO

| Scrúdaitheoir amháin | |
|-------------------------|----------|
| Uimhir Ceiste | Marcanna |
| 1 | |
| 2 | |
| 3 | |
| 4 | |
| 5 | |
| 6 | |
| 7 | |
| 8 | |
| 9 | |
| 10 | |
| 11 | |
| 12 | |
| 13 | |
| 14 | |
| 15 | |
| 16 | |
| 17 | |
| 18 | |
| 19 | |
| 20 | |
| 21 | |
| 22 | |
| 23 | |
| 24 | |

| | |
|------------------------|--|
| Marc Iomlán | |
|------------------------|--|

Uimhir Scrúdaitheora

Cuireadh isteach ar chead chun an t-ábhar cóipchirt uile a atáirgeadh.
I gcásanna áirithe is féidir nár éirigh le CCEA teagmháil a dhéanamh le húinéirí cóipchirt agus beidh sé sásta na hadmhálacha sin a fágadh ar lár a chur ina gceart amach anseo ach é a chur ar an eolas.

8165.05 GMT11



24GMT1124