



Rewarding Learning

General Certificate of Secondary Education  
January 2013

Uimhir Lárionaid

--	--	--	--	--

Uimhir Iarrthóra

--	--	--	--

## Matamaitic

Aonad T5 Páipéar 1  
(Gan Áireamhán)  
Bonnsraith



\*GMT51\*

[GMT51]

DÉ MÁIRT 15 Eanáir 1.30 pm – 2.30 pm

AM

1 uair an chloig

### TREOIR D'IARRTHÓIRÍ

Scríobh d'Uimhir Lárionaid agus d'Uimhir Iarrthóra sna spásanna chuige sin ag barr an leathanaigh seo.

**Ní mór duit do fhreagraí a scríobh sna spásanna chuige sin. Ná scríobh taobh amuigh den bhosca, thart ar na leathanaigh, ar leathanaigh bhána nó ar rianpháipéar.**

Comhlánaigh le peann gorm nó le peann dubh. **Ná scríobh le peann luaidhe ná le peann glóthaí.** Freagair **gach ceann** de na **cúig** cheist **déag**.

Ba chóir do chuid oibre a thaispeáint go soiléir sna spásanna chuige sin mar is féidir go mbronnfar marcanna ar réitigh a bhfuil codanna díobh ceart.

**Níl cead** agat áireamhán a úsáid don pháipéar seo.

### EOLAS D'IARRTHÓIRÍ

Is é 50 an marc iomlán don pháipéar seo.

Léiríonn figiúirí idir lúibíní ar thaobh na láimhe deise de leathanaigh na marcanna atá ag dul do gach ceist nó do gach cuid de cheist.

Déanfar Eilimintí Feidhmeacha a mheas sa pháipéar seo.

Measúnófar caighdeán na cumarsáide scríofa i **gceist 1**

Ba chóir duit rialóir, compás agus uillinntomhas a bheith agat.

Tá an Bhileog Foirmli ar leathanach 2.

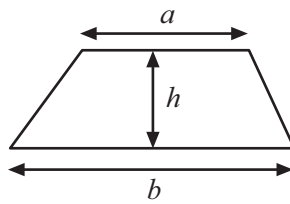
8125.02



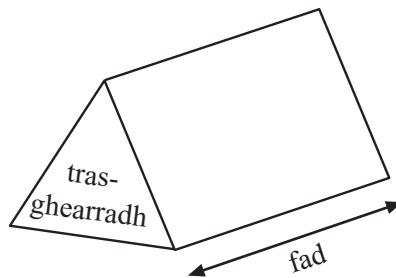
\*16GMT5101\*

# Bileog Foirmlí

$$\text{Achar traipéisiam} = \frac{1}{2}(a+b)h$$



$$\text{Toirt priosma} = \text{achar trasghearrtha} \times \text{fad}$$



**1 Déanfar measúnú ar chaighdeán na cumarsáide scríofa sa cheist seo. Taispeáin do chuid oibre.**

Scrúdaitheoir Amháin

Marcanna Athmharc

Cheannaigh Éamonn agus Roibeárd dhá leaba nua in dhá shiopa éagsúla.

D'íoc Éamonn £220 d'éarlais agus £30 sa mhí go ceann 8 mí.

Rinne Roibeárd aon íocaíocht amháin de £500.

Cé a d'íoc an praghas is ísle as an leaba agus cad é an difríocht idir an praghas sin agus an praghas a d'íoc an duine eile?

Freagra: d'íoc \_\_\_\_\_ £ \_\_\_\_\_ níos lú [4]

Iomlán Cheist 1

**[Tiontaigh an leathanach**



- 2 In Ard-Sraith scoile, bronntar pointí de réir na foirmle seo:  
**Líon na bPointí = 4 × cluichí bainte + 2 × cluichí ar comhscór**  
**– 1 × cluichí cailte**

Bliain 8, 9 agus 10, imríonn gach ceann acu 10 gcluiche.

- (a) Bliain 8 – bhain siad 6 chluiche, bhí 2 cheann ar comhscór agus chaill siad 2 cheann. Cá mhéad pointe a bronnadh orthu?

Freagra \_\_\_\_\_ [2]

- (b) Bliain 10 – bhain siad 3 chluiche, bhí 6 cinn ar comhscór agus chaill siad 1 cheann. Cá mhéad pointe a bronnadh orthu?

Freagra \_\_\_\_\_ [1]

- (c) Bliain 9 – bhain siad 4 chluiche, ach sa deireadh bhí 28 pointe acu. Cá mhéad cluiche dá gcuid a bhí ar comhscór?

Freagra \_\_\_\_\_ [2]

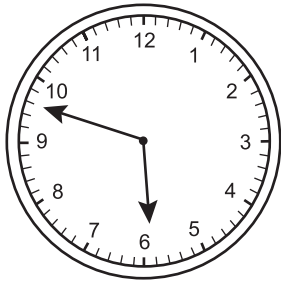
Scrúdaitheoir Amháin

Marcanna Athmharc

Iomlán Cheist 2



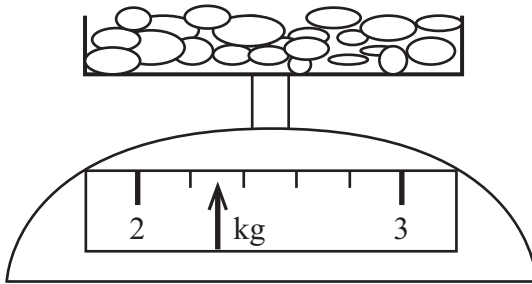
3 (a) Mhúscail Caireann go luath maidin amháin. Cén t-am a bhí ar an chlog aici?



Freagra \_\_\_\_\_ [2]

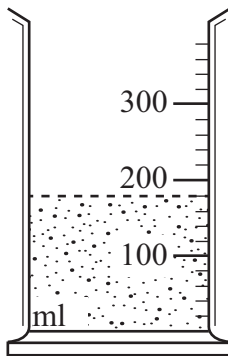
(b) Scríobh an léamh atá ar gach ceann de na scálaí seo.

(i)



Freagra \_\_\_\_\_ kg [1]

(ii)



Freagra \_\_\_\_\_ ml [1]

Scrúdaitheoir Amháin

Marcanna Athmharc

Iomlán Cheist 3

[Tiontaigh an leathanach



- 4 (a) Déan meastachán ar fhad iomlán 53 bus más é 8.7 méadar meánfhad na mbusanna.

Freagra \_\_\_\_\_ m [2]

- (b) Déan meastachán ar líon na leabhar dar praghas £7.95 a d'fhéadfaí a cheannach le £74.

Freagra \_\_\_\_\_ leabhar [2]

- (c) Déan meastachán ar achar gairdín atá dronuilleogach agus atá 29.6 méadar ar fad agus 8.7 méadar ar leithead.

Freagra \_\_\_\_\_ m<sup>2</sup> [2]

- (d) Déan meastachán ar  $\sqrt{47}$

Freagra \_\_\_\_\_ [1]

Scrúdaitheoir Amháin	
Marcanna	Athmharc
Iomlán Cheist 4	



5 Ríomh

(a)  $7 + 8 \div 2$

Freagra \_\_\_\_\_ [1]

(b)  $9 + 4(7 - 2)$

Freagra \_\_\_\_\_ [1]

(c)  $6 \times 3 + 15 \div 3$

Freagra \_\_\_\_\_ [1]

Scrúdaitheoir Amháin

Marcanna Athmharc

Iomlán Cheist 5

[Tiontaigh an leathanach







7

Tá **deich** goirín i mála.

Tá 2 cheann dearg, tá 2 cheann gorm agus tá an chuid eile buí.

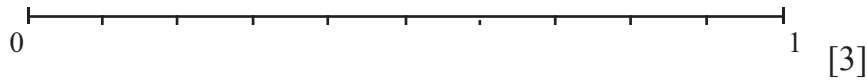
Tógtar coirín as an mhála go randamach.

Marcáil an dóchúlacht go dtarlódh gach ceann de na teagmhais seo a leanas ar an scála dóchúlachta thíos ag baint úsáid as na ceannlitreacha.

R Tá an coirín a thógtar dearg

Y Tá an coirín a thógtar buí

B Tá an coirín a thógtar dubh



Scrúdaitheoir Amháin

Marcanna Athmharc

Iomlán Cheist 7

8 Scríobh cómhalartach 7

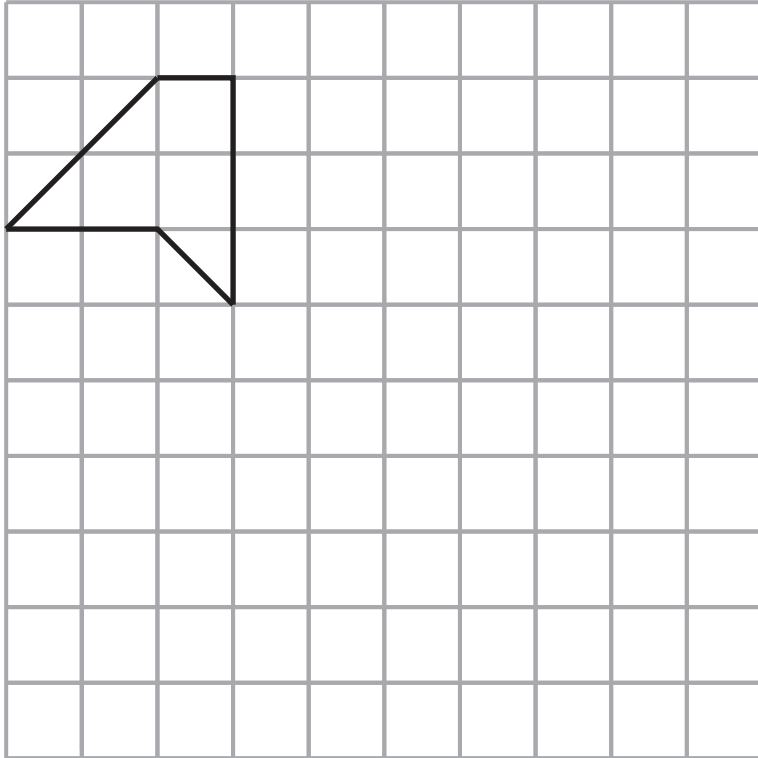
Freagra \_\_\_\_\_ [1]

Iomlán Cheist 8

[Tiontaigh an leathanach



9 Bain úsáid as fachtóir scála 2 leis an chruth thíos a mhéadú.



[2]

Scrúdaitheoir Amháin	
Marcanna	Athmharc
Iomlán Cheist 9	



10 Tá an rothlóir seo roinnte ina cheithre chuid chothroma atá uimhrithe

2, 3, 4 agus 6

Déantar an rothlóir a chasadh dhá uair.

Na huimhreacha a ndíríonn an tsaighead orthu, **suímitear** le chéile iad le scór iomlán a thabhairt.

(a) Comhlánaigh an tábla le hiomlán na scór féideartha uilig a thaispeáint.

+	2	3	4	6
2				
3				
4				
6				

[2]

(b) Scríobh an dóchúlacht go bhfuil an scór iomlán **níos mó ná 8**

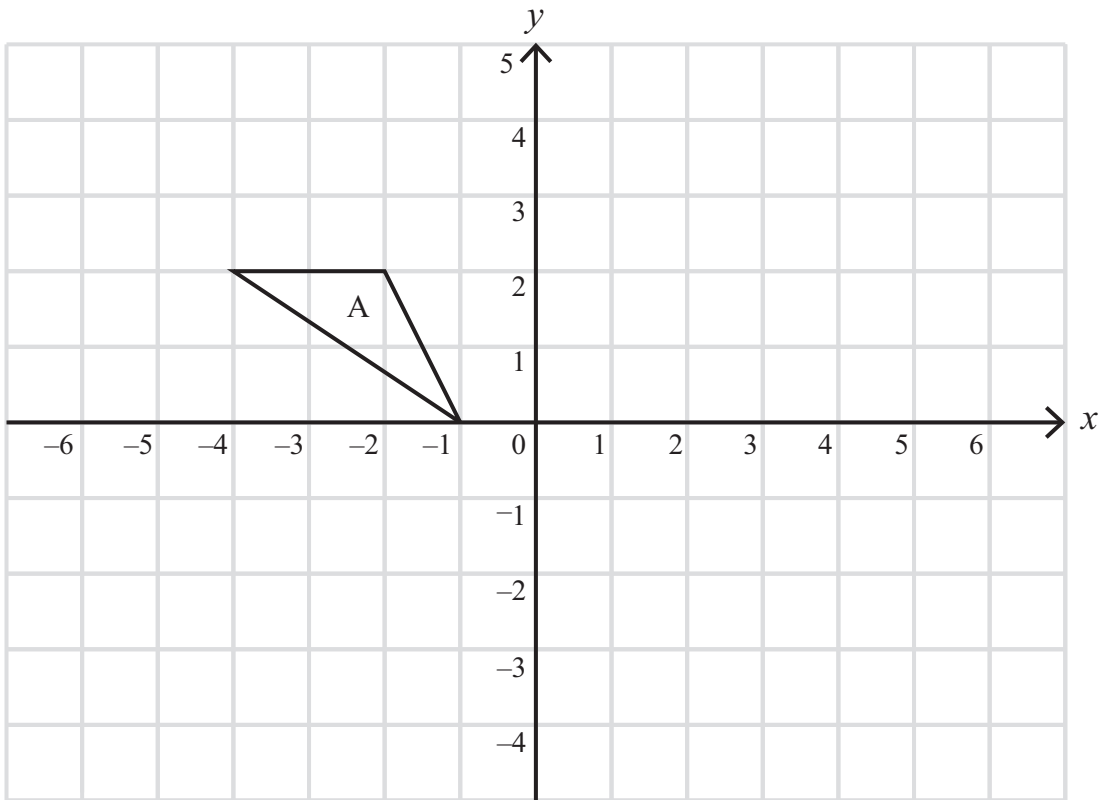
Freagra \_\_\_\_\_ [2]

Scrúdaitheoir Amháin	
Marcanna	Athmharc
Iomlán Cheist 10	

[Tiontaigh an leathanach



11 (a) Frithchaith triantán A sa líne  $x = 1$



[2]

(b) Aistrigh triantán A le  $\begin{pmatrix} 3 \\ -5 \end{pmatrix}$ .

[2]

Iomlán Cheist 11

Iomlán Cheist 12

12  $W = \frac{Y(X - 2)}{4}$

Aimsigh luach W nuair atá  $X = 8$  agus  $Y = -2$

Freagra W = \_\_\_\_\_ [3]



13 Simpligh  $(p^4)^2$

Freagra \_\_\_\_\_ [1]

Scrúdaitheoir Amháin

Marcanna Athmharc

Iomlán Cheist 13

14 Déan meastachán ar  $\frac{703 \times 3.82}{0.91 - 0.69}$

Freagra \_\_\_\_\_ [3]

Iomlán Cheist 14

[Tiontaigh an leathanach







---

## SEO DEIREADH AN SCRÚDPHÁIPÉIR

---

8125.02



\*16GMT5115\*

## NÁ SCRÍOBH AR AN LEATHANACH SEO

Don Scrúdaitheoir amháin	
Uimhir Ceiste	Marcanna
1	
2	
3	
4	
5	
6	
7	
8	
9	
10	
11	
12	
13	
14	
15	

<b>Marc Iomlán</b>	
--------------------	--

Uimhir Scrúdaitheora

Cuireadh isteach ar chead chun an t-ábhar cóipchirt uile a atáirgeadh.

I gcásanna áirithe is féidir nár éirigh le CCEA teagmháil a dhéanamh le húinéirí cóipchirt agus beidh sé sásta na hadmhálacha sin a fágadh ar lár a chur ina gceart amach anseo ach é a chur ar an eolas.

8125.02



\*16GMT5116\*