



General Certificate of Secondary Education  
2010

## Matamaitic



Modúl N2 Páipéar 2  
(Le hÁireamhán)  
Bonnsraith  
[GMN22]



DÉ MÁIRT 1 MEITHEAMH  
10.30 am – 11.15 am

AM

45 nóiméad.

### TREOIR D'IARRTHÓIRÍ

Scríobh d'Uimhir Lárionaid agus d'Uimhir Iarrthóra sna spásanna chuige sin ag barr an leathanaigh seo.

Scríobh do fhreagraí sna spásanna chuige sin sa scrúdpháipéar seo.

Freagair **gach ceann** de na **trí** cheist **déag**.

Ba chóir do chuid oibre a thaispeáint go soiléir sna spásanna chuige sin mar is féidir go mbronnfar marcanna ar réitigh a bhfuil codanna díobh ceart.

### EOLAS D'IARRTHÓIRÍ

Is é 44 an marc iomlán don pháipéar seo.

Léiríonn figiúirí idir lúibíní ar thaobh na lámhe deise de leathanaigh na marcanna atá ag dul do gach ceist nó do gach cuid de cheist.

Ba chóir duit áireamhán, rialóir, compáis, dronbhacart agus uillinntomhas a bheith agat.

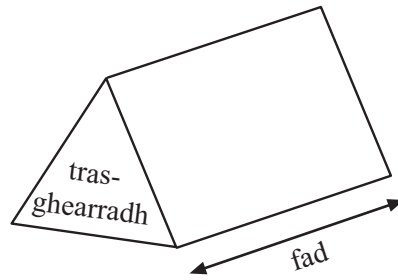
Tá an Bhileog Foirmlí ar leathanach 2.

| Don Scrúdaitheoir amháin |          |
|--------------------------|----------|
| Uimhir Ceiste            | Marcanna |
| 1                        |          |
| 2                        |          |
| 3                        |          |
| 4                        |          |
| 5                        |          |
| 6                        |          |
| 7                        |          |
| 8                        |          |
| 9                        |          |
| 10                       |          |
| 11                       |          |
| 12                       |          |
| 13                       |          |

|             |  |
|-------------|--|
| Marc Iomlán |  |
|-------------|--|

# Bileog Foirmlí

**Toirt priosma** = achar trasghearrtha × fad




- 1 Ríomh  $42^3 + \sqrt{9800}$   
Scríobh do fhreagra ceart go dtí 2 fhigiúr bhunúsacha.

|                      |
|----------------------|
| Scrúdaitheoir Amháin |
| Marcanna             |
| Athmharc             |

Freagra \_\_\_\_\_ [2]

- 2 Roinn cóitseálaí iománaíochta an 40 imreoir ina gceithre ghrúpa.  
Comhlánaigh an tábla agus tarraing píchairt leis an fhaisnéis seo a thaispeáint.

| Grúpa           | Líon imreoirí | Uillinn |
|-----------------|---------------|---------|
| Obair chamáin   | 12            |         |
| Ag dul i ngleic | 10            |         |
| Ag breith       | 6             |         |
| Ag aimsiú       | 12            |         |



[4]





Costas: £119.90

Tá £119.90 ar iPod.

Tá £35 sábháilte cheana féin ag Daithí leis an iPod a cheannach.

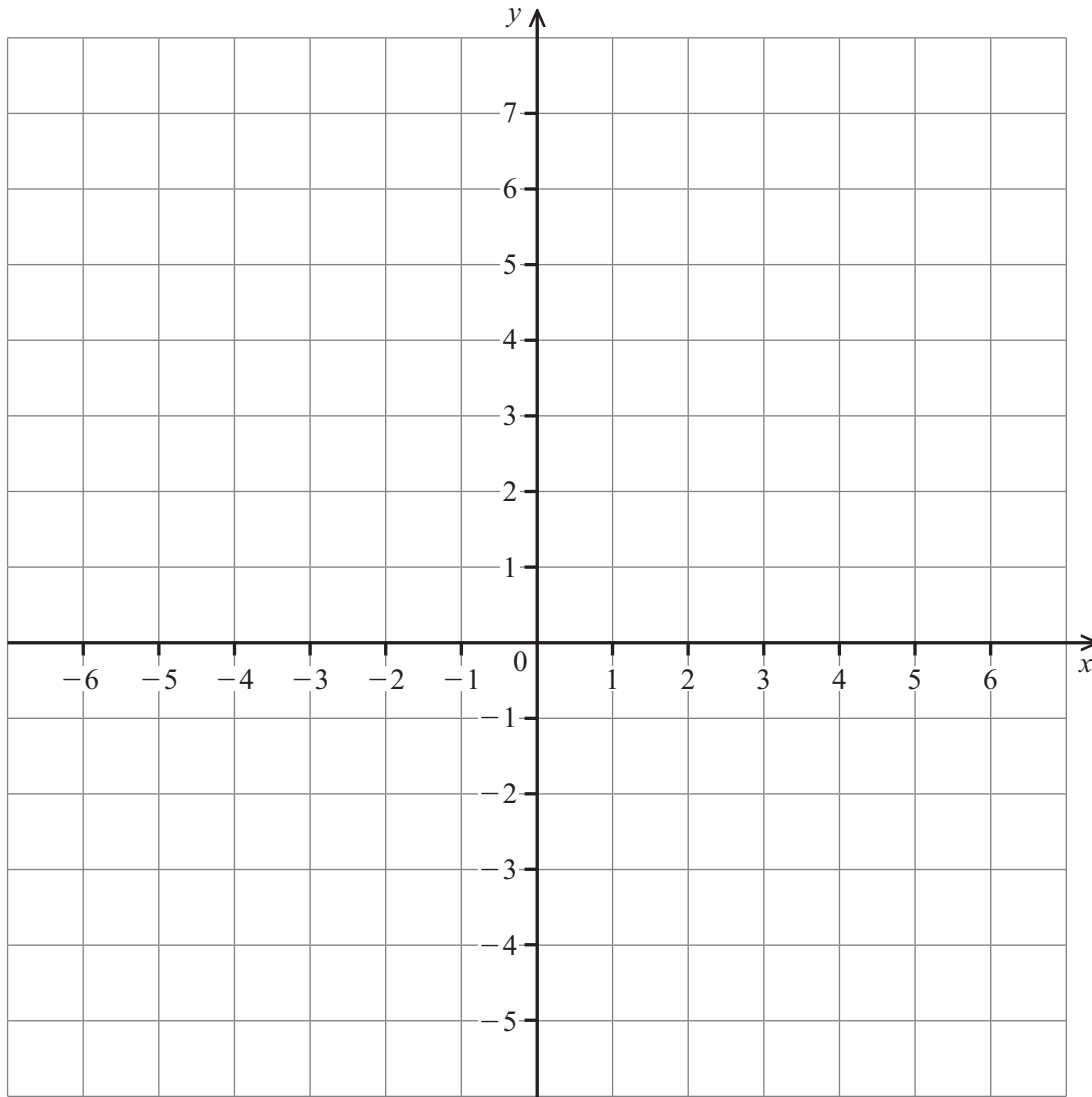
Leanann sé air ag sábháil £7.50 gach seachtain.

Cá mhéad seachtain iomlán a bheidh ann sular féidir leis an iPod a cheannach?

Freagra \_\_\_\_\_ seachtain [4]

| Scrúdaitheoir Amháin |          |
|----------------------|----------|
| Marcanna             | Athmharc |
|                      |          |

6



Tarraing an líne  $y = 2x - 1$  ar an eangach thuas.

[3]

| Scrúdaítheoir Amháin |          |
|----------------------|----------|
| Marcanna             | Athmharc |
|                      |          |

7 Anseo thíos tá aoiseanna na mball i gcumann sláinte.

| Aois (blianta) | 0–9 | 10–19 | 20–29 | 30–39 | 40–49 | 50–59 |
|----------------|-----|-------|-------|-------|-------|-------|
| Minicíocht     | 5   | 28    | 36    | 25    | 14    | 10    |

Tarraing léaráid mhinicíochta grúpáilte do na sonraí seo.

[3]

| Scrúdaítheoir Amháin |          |
|----------------------|----------|
| Marcanna             | Athmharc |
|                      |          |



8 Tá cóisir á heagrú ag Sinéad. Caithfidh sí dhá channa dhéag de chóla a cheannach.

Is é 40p an costas atá ar channa amháin cóla sa dá shiopa áitiúla.

Tá tairiscint ar leith ar channaí cóla i ngach ceann den dá shiopa.

**\* Ventra \***  
lascaine 20% ar  
dhá channa dhéag

**\* Viva \***  
ceannaigh 3 cinn ar  
chostas 2 cheann

Cé acu tairiscint is fearr?

**Taispeáin do chuid oibre go soiléir.**

Freagra \_\_\_\_\_ [4]

9 Ainmnigh dhá chruth a bhfuil sleasa cothroma dar fad  $x$  orthu araon agus a bhfuil imlíne dar fad  $4x$  orthu araon.

Freagra \_\_\_\_\_ agus \_\_\_\_\_ [3]

Scrúdaitheoir Amháin

Marcanna

Athmharc



- 10 (a) Tá  $A = (4, -5)$ , tá  $B = (-2, 9)$   
Faigh comhordanáidí lárphointe na líne AB.

Freagra (\_\_\_\_, \_\_\_\_) [2]

- (b) Is é  $20^\circ$  an uillinn sheachtrach de pholagán rialta.  
Cá mhéad slios atá ar an pholagán?

Freagra \_\_\_\_\_ [2]

- 11 Anseo thíos tá an t-am, go dtí an nóiméad is cóngaraí, a ghlac mná leis an Spraoi-rás “Runher” i mBéal Feirste a rith.

| Am (nóim) | Líon na mban | Lár-luach |  |
|-----------|--------------|-----------|--|
| 25–34     | 13           | 29.5      |  |
| 35–44     | 107          |           |  |
| 45–54     | 234          |           |  |
| 55–64     | 71           |           |  |
| 65–74     | 22           |           |  |
| 75–84     | 1            |           |  |
|           |              |           |  |

- (a) Cén t-eatramh ranga ina bhfuil an t-am airmheánach?

Freagra \_\_\_\_\_ [1]

- (b) Déan meastachán ar an mheán-am leis an Spraoi-rás a rith.

Freagra \_\_\_\_\_ nóiméad [3]

- 12 Gach uair an chloig, tagann méadú 5% ar mhais na mbaictéar i meascán.  
Ar 9.00 am, is é 120 mg mais na mbaictéar.  
Cad é mais na mbaictéar ag meán lae?

| Scrúdaítheoir Amháin |          |
|----------------------|----------|
| Marcanna             | Athmharc |
|                      |          |
|                      |          |

Freagra \_\_\_\_\_ mg [3]

- 13 Faigh imlíne leathchiorcail dar trastomhas 15 cm.

Freagra \_\_\_\_\_ cm [3]

---

**SEO DEIREADH AN SCRÚDPHÁIPÉIR**

---



