



General Certificate of Secondary Education
2010

Uimhir Lárionaid

71

Uimhir Iarrthóra

Matamaitic



Modúl N2 Páipéar 2
(Le hÁireamhán)
Bonnsraith
[GMN22]



DÉ MÁIRT 1 MEITHEAMH
10.30 am – 11.15 am

AM

45 nóiméad.

TREOIR D'IARRTHÓIRÍ

Scríobh d'Uimhir Lárionaid agus d'Uimhir Iarrthóra sna spásanna chuige sin ag barr an leathanaigh seo.

Scríobh do fhreagraí sna spásanna chuige sin sa scrúdpháipéar seo.

Freagair **gach ceann** de na **trí** cheist **déag**.

Ba chóir do chuid oibre a thaispeáint go soiléir sna spásanna chuige sin mar is féidir go mbronnfar marcanna ar réitigh a bhfuil codanna díobh ceart.

EOLAS D'IARRTHÓIRÍ

Is é 44 an marc iomlán don pháipéar seo.

Léiríonn figiúirí idir lúibíní ar thaobh na láimhe deise de leathanaigh na marcanna atá ag dul do gach ceist nó do gach cuid de cheist.

Ba chóir duit áireamhán, rialóir, compáis, dronbhacart agus uillinntomhas a bheith agat.

Tá an Bhileog Foirmlí ar leathanach 2.

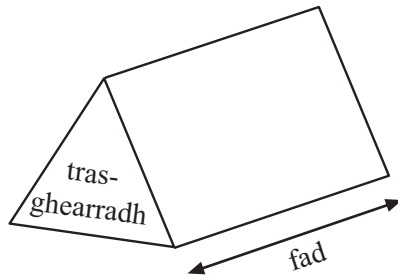
Don Scrúdaitheoir
amháin

Uimhir Ceiste	Marcanna
1	
2	
3	
4	
5	
6	
7	
8	
9	
10	
11	
12	
13	

Marc Iomlán	
-------------	--

Bileog Foirmlí

Toirt priosma = achar trasghearrtha × fad




- 1 Ríomh $42^3 + \sqrt{9800}$
Scríobh do fhreagra ceart go dtí 2 fhigiúr bhunúsacha.

Scrúdaitheoir Amháin	
Marcanna	Athmharc

Freagra _____ [2]

- 2 Roinn cóitseálaí iománaíochta an 40 imreoir ina gceithre ghrúpa.
Comhlánaigh an tábla agus tarraing píchart leis an fhaisnéis seo a thaispeáint.

Grúpa	Líon imreoirí	Uillinn
Obair chamáin	12	
Ag dul i ngleic	10	
Ag breith	6	
Ag aimsiú	12	



[4]



Costas: £119.90

Tá £119.90 ar iPod.

Tá £35 sábháilte cheana féin ag Daithí leis an iPod a cheannach.

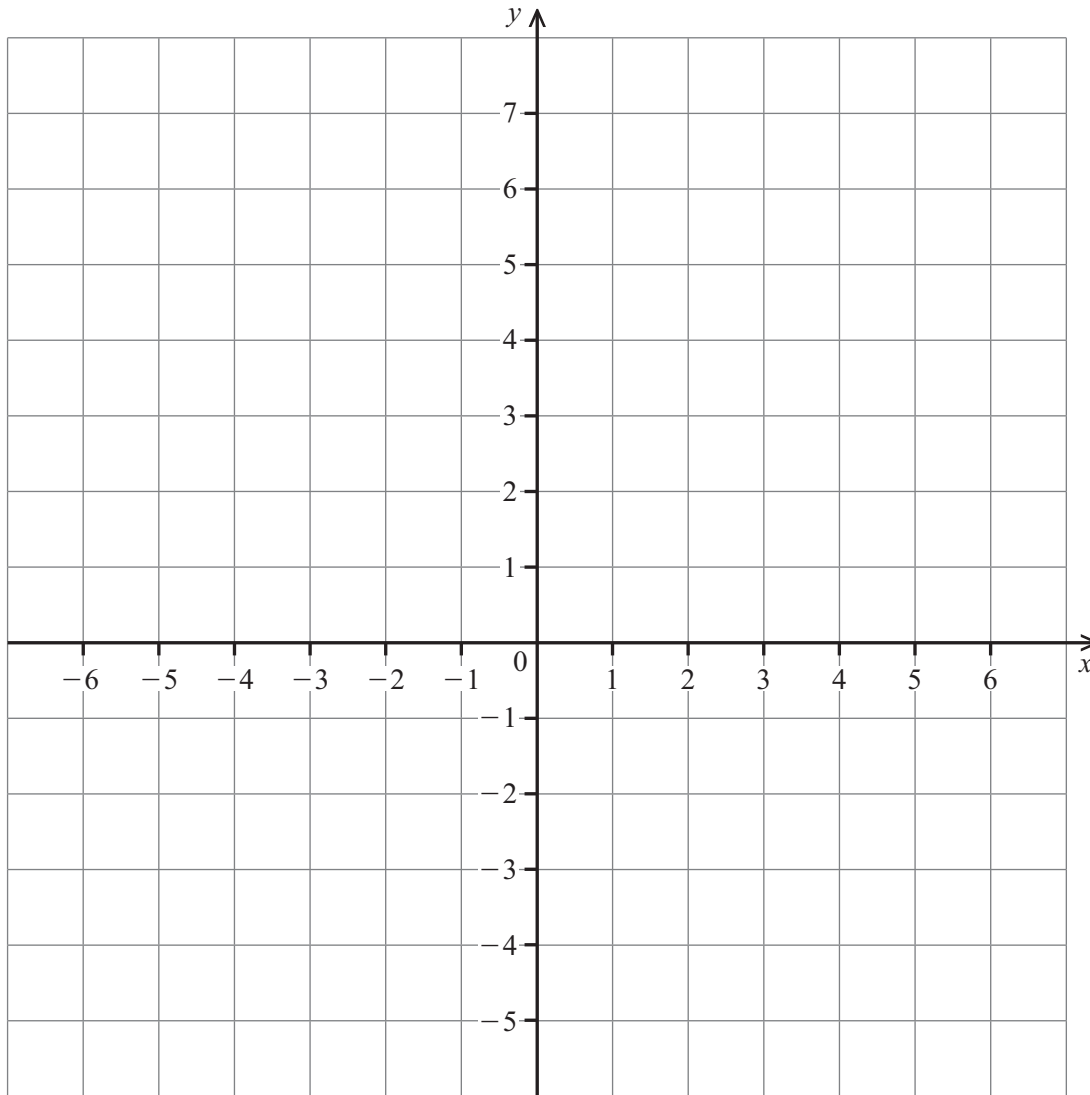
Leanann sé air ag sábháil £7.50 gach seachtain.

Cá mhéad seachtain iomlán a bheidh ann sular féidir leis an iPod a cheannach?

Freagra _____ seachtain [4]

Scrúdaitheoir Amháin	
Marcanna	Athmharc

6



Tarraing an líne $y = 2x - 1$ ar an eangach thuas.

[3]

Scrúdaitheoir Amháin	
Marcanna	Athmharc


7 Anseo thíos tá aoiseanna na mball i gcumann sláinte.

Aois (blianta)	0–9	10–19	20–29	30–39	40–49	50–59
Minicíocht	5	28	36	25	14	10

Tarraing léaráid mhinicíochta grúpáilte do na sonraí seo.

[3]

Scrúdaitheoir Amháin	
Marcanna	Athmharc



- 12 Gach uair an chloig, tagann méadú 5% ar mhais na mbaictéar i meascán.
Ar 9.00 am, is é 120 mg mais na mbaictéar.
Cad é mais na mbaictéar ag meán lae?

Scrúdaítheoir Amháin	
Marcanna	Athmharc

Freagra _____ mg [3]

- 13 Faigh imlíne leathchiorcail dar trastomhas 15 cm.

Freagra _____ cm [3]

SEO DEIREADH AN SCRÚDPHÁIPÉIR
