



Rewarding Learning

General Certificate of Secondary Education

January 2010

Matamaitic



Modúl N1 Páipéar 2
(Le hÁireamhán)

Bonnsraith

[GMN12]

DÉ MÁIRT 12 EANÁIR

10.30 am – 11.15 am



GMN12

StudentBounty.com

Uimhir Ceiste

71

Uimhir Iarrthóra

AM

45 nóiméad.

TREOIR D'IARRTHÓIRÍ

Scríobh d'Uimhir Lárionaid agus d'Uimhir Iarrthóra sna spásanna chuige sin ag barr an leathanaigh seo.

Scríobh do fhreagraí sna spásanna chuige sin sa cheistpháipéar seo. Freagair **gach ceann** den **dá** cheist **déag**.

Ba chóir do chuid oibre a thaispeáint go soiléir sna spásanna chuige sin mar is féidir go mbronnfar marcanna ar réitigh a bhfuil codanna díobh ceart.

EOLAS D'IARRTHÓIRÍ

Is é 44 an marc iomlán don pháipéar seo.

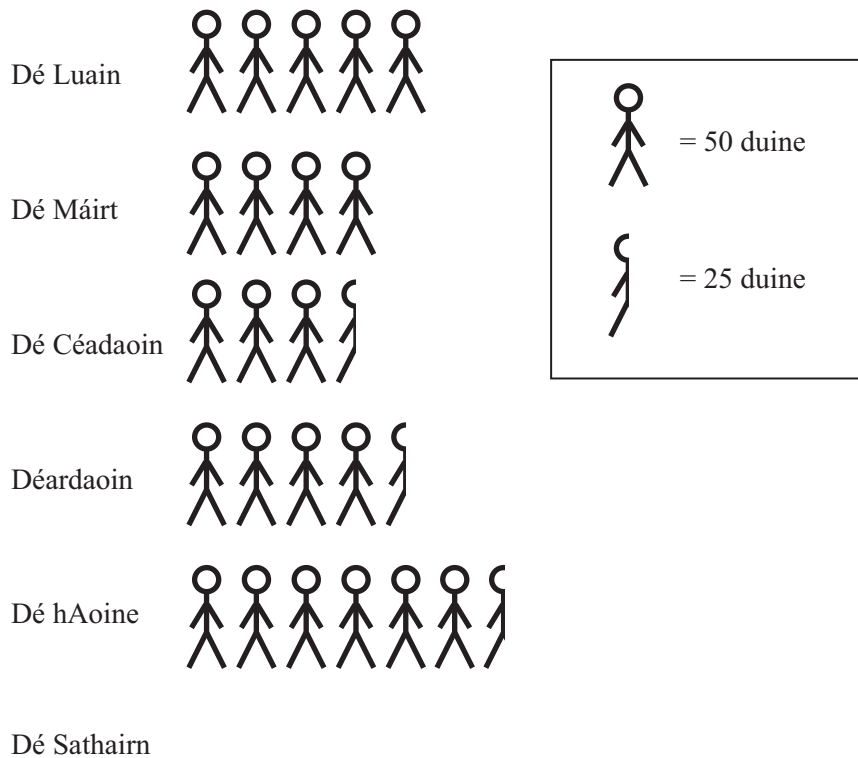
Léiríonn figiúirí idir lúibíní ar thaobh na lámhe deise de leathanaigh na marcanna atá ag dul do gach ceist nó do gach cuid de cheist.

Ba chóir duit áireamhán, rialóir, compáis, dronbhacart agus uillinntomhas a bheith agat.

Don Scrúdaitheoir amháin	
Uimhir Ceiste	Marcanna
1	
2	
3	
4	
5	
6	
7	
8	
9	
10	
11	
12	

Marc Iomlán	
-------------	--

- 1 Léiríonn an pictegram an líon daoine a chuaigh chuig an phictiúrlann seachtain amháin.



- (a) Cá mhéad duine a chuaigh chuig an phictiúrlann Dé Céadaoin?

Freagra _____ [1]

- (b) Chuaigh 225 duine chuig an phictiúrlann Dé Sathairn. Comhlánaigh an pictegram don Sathairn? [2]

2

BARRA, AN BÚISTÉIR

MARGADH
Píoga Mionra, 85p an ceann

Stéig Filléid	£22 (kg)
Rósta Uachtair	£7.90 (kg)
Burgair Mhairteola	£3.65 (kg)
Ispíní	£2.20 (kg)

Comhlánaigh an bille.

$\frac{1}{4}$ kg Stéig Filléid _____

2 kg Ispíní _____

4 Phíog Mionra _____

Iomlán £ _____

[4]

3

11	7	14	36
45	9	3	22

Iolraigh an dara huimhir is mó sa tábla faoin dara huimhir is lú agus roinn an freagra ar 4.

Freagra _____ [3]

Scrúdaitheoir Amháin

Marcanna Athmharc

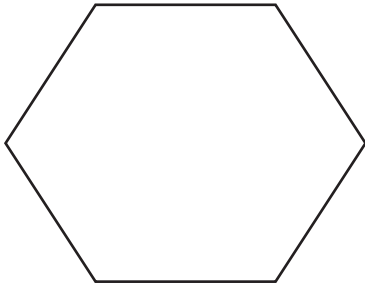
4 (a) Ainmnigh na cruthanna thíos.

(i)



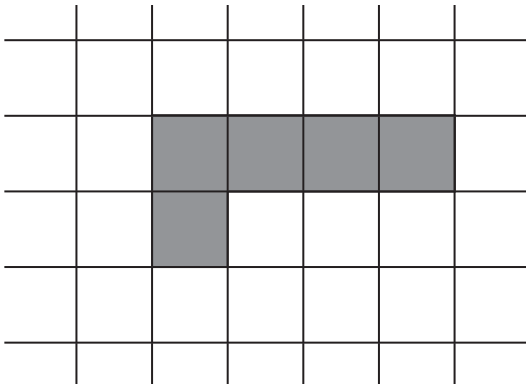
Freagra _____ [1]

(ii)



Freagra _____ [1]

(b) Faigh imlíne an chrutha seo a leanas atá tarraingthe ar eangach 1 cm.



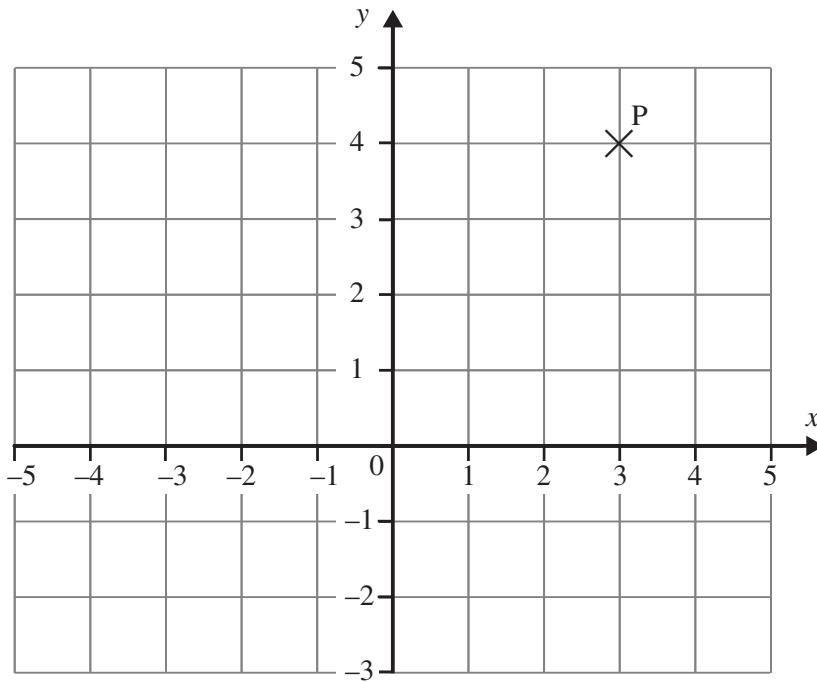
Freagra _____ cm [1]

(c) Tarraing sceitse de phirimid a bhfuil bun cearnógach uirthi.

Scrúdaitheoir Amháin	
Marcanna	Athmharc

[1]

5 Cuid de léarscáil bhaile mhóir atá léirithe ar an eangach thíos.



(a) Léiríonn pointe P suíomh Oifig an Phoist.

Scríobh comhordanáidí an phointe P.

Freagra P (_____ , _____) [1]

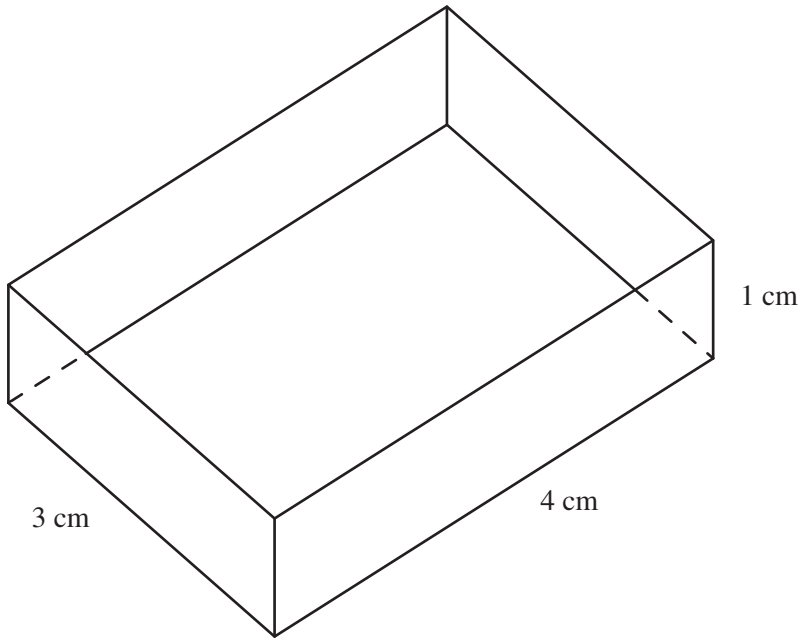
(b) Tá an t-ospidéal O ag (2, 0) agus tá an scoil S ag (4, -1).

Marcáil agus lipéadaigh go soiléir na pointí O agus S ar an eangach thuas. [2]

(c) Léiríonn an líne $y = 4$ príomhshráid an bhaile mhóir.


Tarraing an líne $y = 4$ ar an eangach thuas. [1]

6



Tarraing líon an bhosca oscailte ar an eangach 1 cm thíos.

[3]



Scrúdaitheoir Amháin

Marcanna Athmharc

7 (a)



Foinse: www.londoninternationalfilms.com/images/SiteImages/CinemaInside.jpg

Tá 480 suíochán i bpictiúrlann. Tá 65% acu i rannóg na stallaí.
Cá mhéad suíochán atá i rannóg na stallaí?

Freagra _____ [2]

(b) Bhí Siobhán ag coigilt airgid le cuid dá cairde a thabhairt chuig an phictiúrlann. Má tá £32.40 anois aici agus má tá £5.80 ar gach ticéad, cá mhéad **cara** is féidir léi a thabhairt?

Freagra _____ [3]

Scrúdaitheoir Amháin

Marcanna Athmharc

- 8 Taispeánann na figiúirí thíos na méideanna a bhí i 20 péire bróg a dhíol siopa Sathairn amháin.

2 3 3 4 4 4 4 4 4 5 6 6 6 7 7 8 8 9 9 9

- (a) Ríomh meánmhéid na mbróg.

Freagra _____ [3]

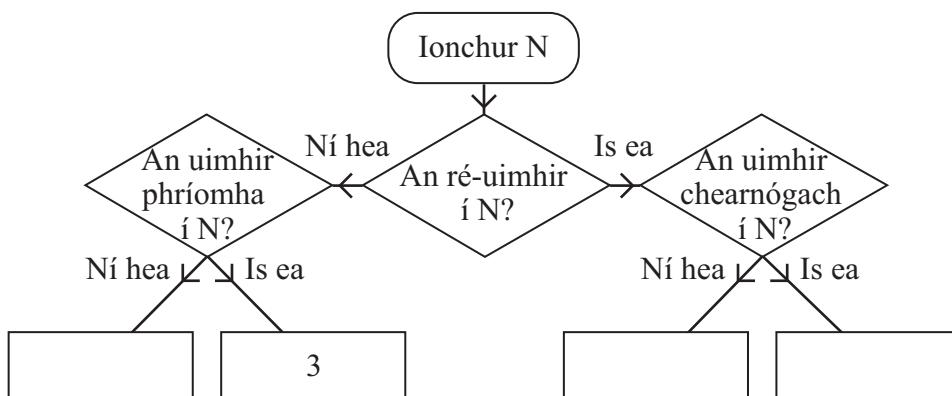
- (b) Scríobh méid airmheánach na mbróg.

Freagra _____ [2]

- (c) Ba mhaith leis an siopadóir ordú a chur isteach le níos mó bróg a fháil. Bunaithe ar na bróga a dhíol sé Dé Sathairn, cé acu meán – an meán, an mód nó an t-airmheán – is fearr dó a chur san áireamh agus an t-ordú á chur isteach aige? Luaigh fáth le do fhreagra.

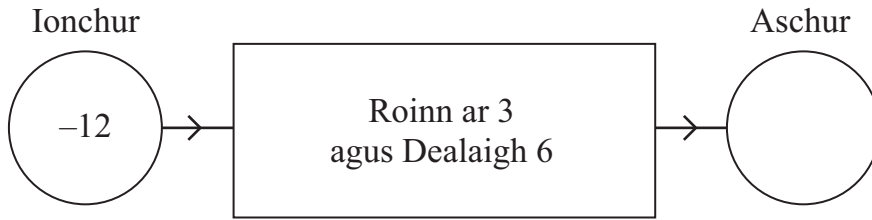
Freagra _____ mar _____
 _____ [2]

9



Úsáid léaráid an chrainn rogha leis na slánuimhreacha ó 1 go 10 a shórtáil. Tá an tslánuimhir $N = 3$ déanta cheana féin. [2]

10 Comhlánaigh an t-aschur don inneall feidhme seo thíos.



[1]

11 Leathanbhanda le haghaidh luais agus coigiltis

Luas íoslódála	15 Mb
Ródaire gan sreang	Íocaíocht amháin de £20
Praghas míosúil	£16 sa mhí don chéad 6 mhí £22 sa mhí ina dhiaidh sin

Ba mhaith le Darragh Leathanbhanda an Idirlín, chomh maith le ródaire gan sreang, agus ghlac sé leis an phacáiste 15 Mb.

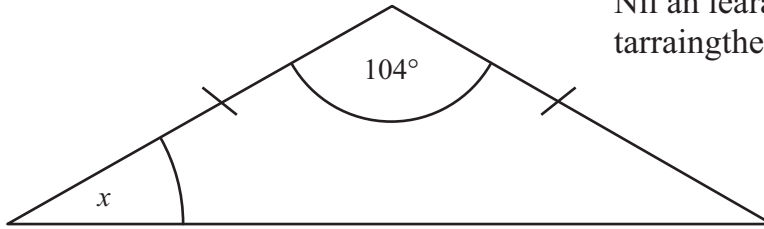
I ndiaidh tamaill shocraigh sé ar an phacáiste nua a uasghrádú. Bhí £270 san iomlán íoctha aige faoin am seo. Cá mhéad mí a bhí caite nuair a shocraigh sé ar uasghrádú a dhéanamh?

Freagra _____ [4]

Scrúdaitheoir Amháin

Marcanna Athmharc

12 (a)



Níl an léaráid
tarraingthe go beacht

Ríomh an uillinn x sa triantán comhchosach.

Freagra _____ ° [2]

(b) Ríomh achar dronuilleoige dar tomhais 6.8 cm faoi 2.6 cm.

Freagra _____ cm² [2]

Scrúdaitheoir Amháin

Marcanna Athmharc

SEO DEIREADH AN SCRÚDPHÁIPÉIR

Cuireadh isteach ar chead chun an t-ábhar cóipchirt uile a atáirgeadh.
I gcásanna áirithe is féidir nár éirigh le CCEA teagmháil a dhéanamh le húinéirí cóipchirt agus beidh sé sásta na hadmhálacha sin a fágadh ar lár a chur ina gceart amach anseo ach é a chur ar an eolas.