



General Certificate of Secondary Education  
2009

## Matamaitic



Modúl N2 Páipéar 1  
(Gan Áireamhán)  
Bonnsraith  
[GMN21]

DÉ LUAIN 18 BEALTAINE  
1.30 pm – 2.15 pm

AM

45 nóiméad.

### TREOIR D'IARRTHÓIRÍ

Scríobh d'Uimhir Lárionaid agus d'Uimhir Iarrthóra sna spásanna chuige sin ag barr an leathanaigh seo.

Scríobh do fhreagraí sna spásanna chuige sin sa cheistpháipéar seo. Freagair **gach ceann** de na **3** cheist **déag**.

Ba chóir do chuid oibre a thaispeáint go soiléir sna spásanna chuige sin mar is féidir go mbronnfar marcanna ar réitigh a bhfuil codanna díobh ceart.

**Níl cead** agat áireamhán a úsáid don pháipéar seo.

### EOLAS D'IARRTHÓIRÍ

Is é 44 an marc iomlán don pháipéar seo.

Léiríonn figiúirí idir lúibíní ar thaobh na lámhe deise de leathanaigh na marcanna atá ag dul do gach ceist nó do gach cuid de cheist.

Ba chóir duit rialóir, compáis, dronbhacart agus uillinntomhas a bheith agat.

Tá an Bhileog Sonraí ar leathanach 2.

StudentBounty.com

Uimhir Iarrthóra

71	
----	--

Uimhir Iarrthóra

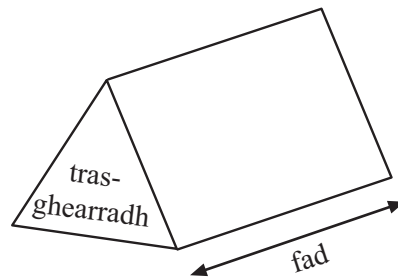
--	--

Don Scrúdaitheoir amháin	
Uimhir Ceiste	Marcanna
1	
2	
3	
4	
5	
6	
7	
8	
9	
10	
11	
12	
13	

Marc Iomlán	
-------------	--

# Bileog Foirmlí

**Toirt priosma** = achar trasghearrtha × fad



1 Scríobh an céad dá théarma eile sa seicheamh

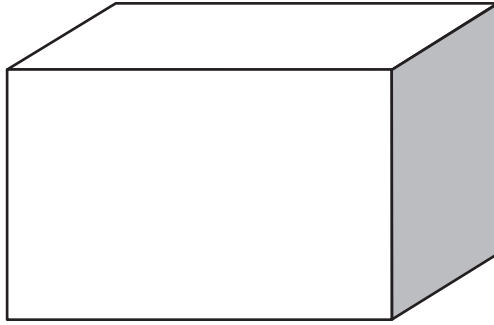
12, 11, 9, 6, ....., .....

Freagra \_\_\_\_\_, \_\_\_\_\_ [2]

Scrúdaitheoir Amháin

Marcanna Athmharc

2



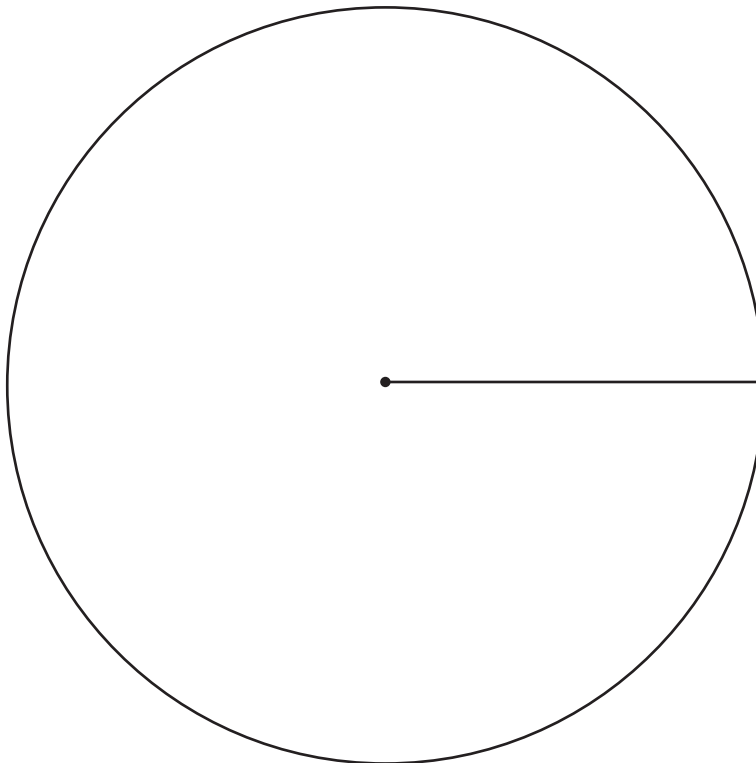
Is é  $120 \text{ cm}^3$  toirt ciúbóidigh.  
Tá an ciúbóideach 8 cm ar fad. Tá sé 5 cm ar leithead.  
Faigh airde an chiúbóidigh.

Freagra \_\_\_\_\_ cm [2]

- 3 Thairfead daltaí dath na gcarranna a chuaigh thart lena scoil ar feadh tamall beag

Gorm	15
Glas	10
Bán	9
Dubh	5
Dearg	21

Tarraing píchairt leis an fhaisnéis seo a léiriú.



[4]

Scrúdaitheoir Amháin

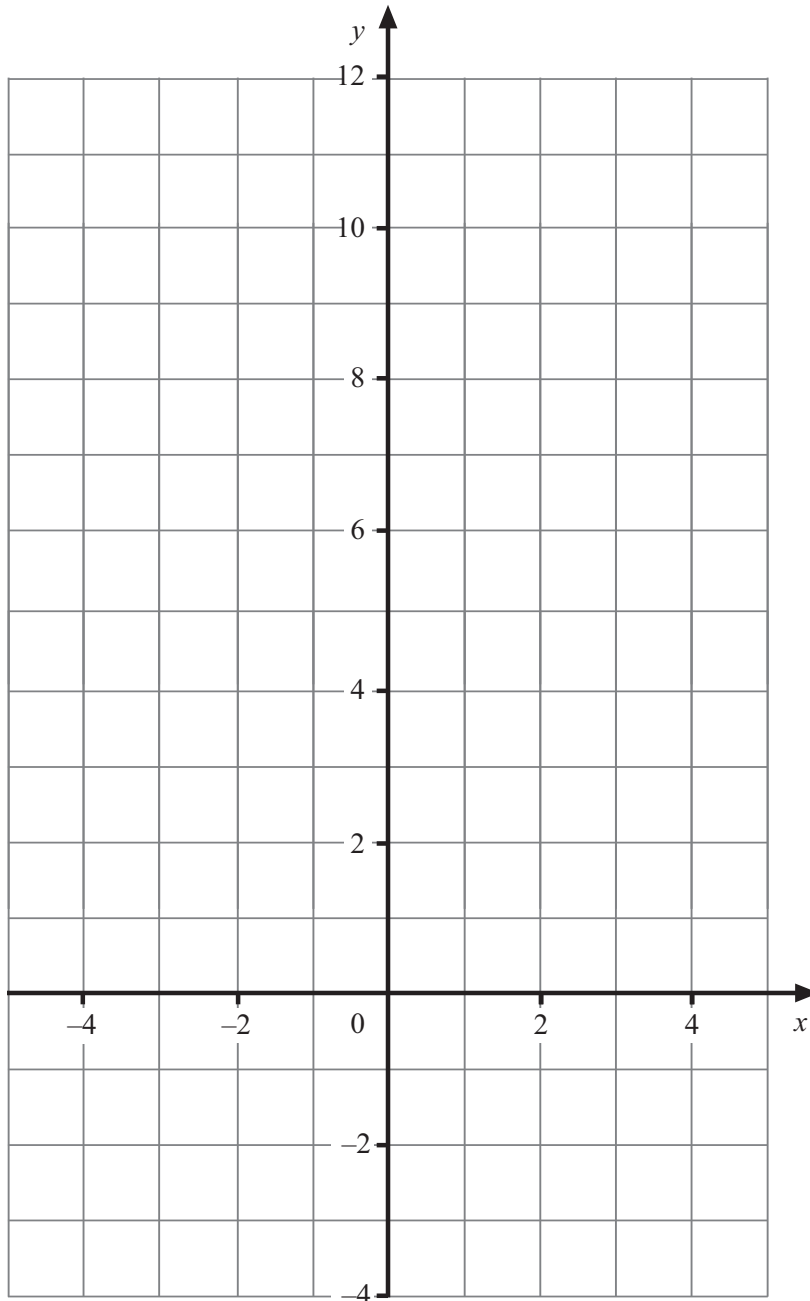
Marcanna Athmharc

4 (a) Comhlánaigh an tábla do  $y = 3x - 1$

$x$	-1	1	3	4
$y = 3x - 1$		2	8	11

[1]

(b) Uaidh sin, tarraing an graf de  $y = 3x - 1$



[2]

Examiner Only

Marks Remark

5 Ríomh

(a)  $5^2 \times 2^3$

Freagra \_\_\_\_\_ [2]

(b)  $0.2 \times 0.4$

Freagra \_\_\_\_\_ [1]

(c)  $4.7 - 1.93$

Freagra \_\_\_\_\_ [1]

(d)  $\frac{7}{12} - \frac{1}{6}$

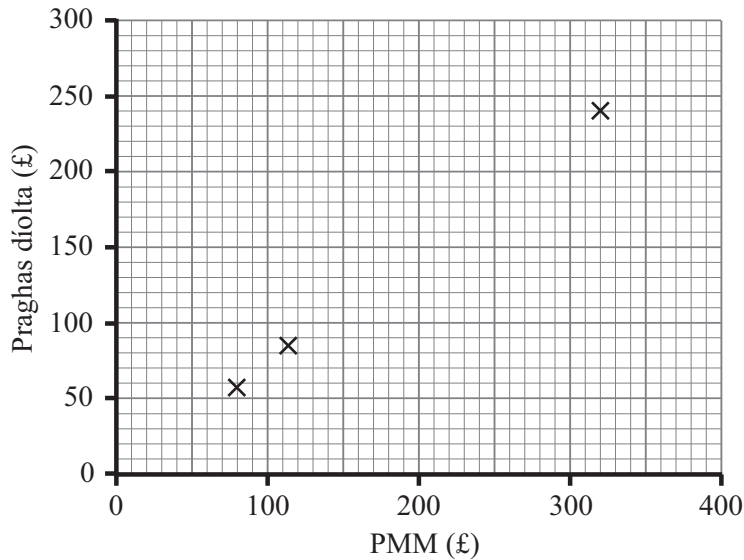
Freagra \_\_\_\_\_ [2]

Scrúdaitheoir Amháin

Marcanna Athmharc

- 6 Taispeánann an tábla an praghas miondíola molta (PMM) agus an praghas díolta ar earraí áirithe i siopa Liam.

PMM (£)	<b>80</b>	<b>113</b>	140	170	180	210	230	270	300	<b>320</b>
Praghas díolta (£)	<b>58</b>	<b>85</b>	105	130	132	155	178	200	232	<b>240</b>



Tá na sonraí faoi chló trom thuas breactha cheana féin.

(a) Comhlánaigh an scaipghraf. [2]

(b) Tarraing líne dea-oiriúnaithe. [1]

(c) Déan meastachán ar PMM earra a bhfuil praghas díolta £150 air.

Freagra £ \_\_\_\_\_ [1]

(d) Cén cineál comhghaoil atá á léiriú sa ghraf?

Freagra \_\_\_\_\_ [1]

Scrúdaitheoir Amháin

Marcanna Athmharc

7 (a) Fachtóirigh  $p^2 + 7p$

Scrúdaitheoir Amháin

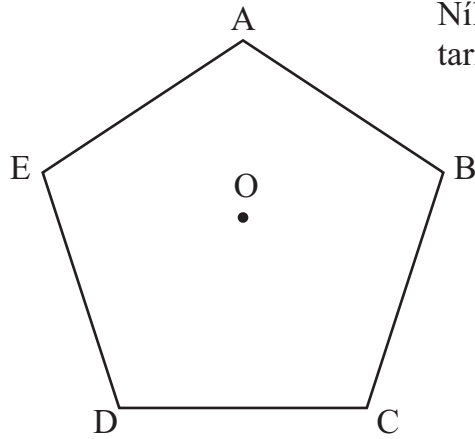
Marcanna Athmharc

Freagra \_\_\_\_\_ [1]

(b) Is é  $n^2 - 3$  an  $n$ ú téarma i seicheamh.  
Cén téarma sa seicheamh ag a mbeidh luach 78?

Freagra \_\_\_\_\_ [2]





Níl an léaráid  
tarraingthe go beacht

Is peinteagán rialta é ABCDE dar lárphointe O.

Ríomh méid

(a) uillinn AOB

Freagra \_\_\_\_\_° [2]

(b) uillinn ABC

Freagra \_\_\_\_\_° [2]

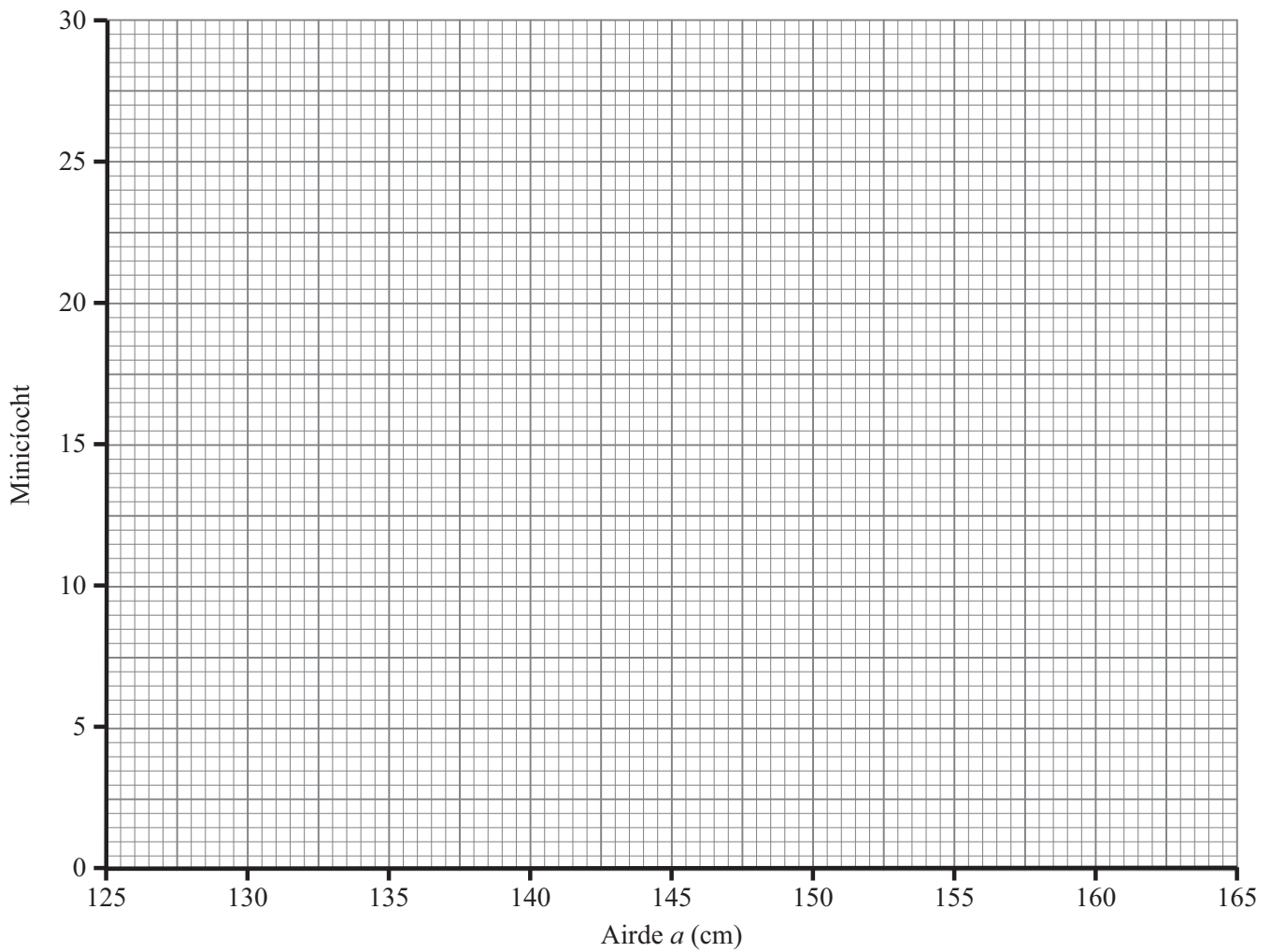
- 9 Agus é ar saoire ólann Marcas  $\frac{3}{4}$  de bhuidéal uisce gach lá.  
Cad é an líon is lú de bhuidéil uisce a chaithfidh Marcas a cheannach faoi  
choinne saoire 9 lá?

Freagra \_\_\_\_\_ [3]

10 Taifeadadh airde 100 mac léinn.

Airde, $a$ , ina cm	Minicíocht
$130 \leq a < 135$	15
$135 \leq a < 140$	25
$140 \leq a < 145$	26
$145 \leq a < 150$	21
$150 \leq a < 155$	8
$155 \leq a < 160$	5

Tarraing polagán minicíochta do na sonraí.



[2]

Scrúdaitheoir Amháin	
Marcanna	Athmharc

11 Scríobh 80 mar iolrach dá fhachtóirí príomha agus tabhair do fhreagra i bhfoirm séin.

Scrúdaitheoir Amháin

Marcanna Athmharc

Freagra \_\_\_\_\_ [3]

12 Tá Pól  $x$  bliain d'aois. Tá a dheartháir Dónall 5 bliana níos óige. I gceann 3 bliana beidh suim a n-aoiseanna cothrom le 15.

(a) Scríobh cothromóid i dtéarmaí  $x$  ag baint úsáid as suim a n-aoiseanna i gceann 3 bliana.

Freagra \_\_\_\_\_ [2]

(b) Réitigh an chothromóid le haois Phóil a fháil.

Freagra \_\_\_\_\_ [1]

13 Taifeadh na marcanna céatadánacha i dteist ranga sa tábla seo a leanas:

Marcanna (%)	Minicíocht		
55–59	1		
60–64	1		
65–69	2		
70–74	5		
75–79	9		
80–84	5		
85–89	2		

Déan meastachán ar an mheánmharc.

Freagra \_\_\_\_\_% [4]

---

**SEO DEIREADH AN SCRÚDPHÁIPÉIR**

---

Scrúdaitheoir Amháin

Marcanna Athmharc







