



General Certificate of Secondary Education
2009

Matamaitic



Modúl N1 Páipéar 2
(Le hÁireamhán)
Bonnsraith
[GMN12]

DÉ LUAIN 18 BEALTAINE
2.45 pm – 3.30 pm

AM

45 nóiméad.

TREOIR D'IARRTHÓIRÍ

Scríobh d'Uimhir Lárionaid agus d'Uimhir Iarrthóra sna spásanna chuige sin ag barr an leathanaigh seo.

Scríobh do fhreagraí sna spásanna chuige sin sa cheistpháipéar seo. Freagair **gach ceann** den **dá** cheist **déag**.

Ba chóir do chuid oibre a thaispeáint go soiléir sna spásanna chuige sin mar is féidir go mbronnfar marcanna ar réitigh a bhfuil codanna díobh ceart.

EOLAS D'IARRTHÓIRÍ

Is é 44 an marc iomlán don pháipéar seo.

Léiríonn figiúirí idir lúibíní ar thaobh na lámhe deise de leathanaigh na marcanna atá ag dul do gach ceist nó do gach cuid de cheist.

Ba chóir duit áireamhán, rialóir, compáis, dronbhacart agus uillinntomhas a bheith agat.

StudentBounty.com

Uimhir Iarrthóra

| | |
|----|--|
| 71 | |
|----|--|

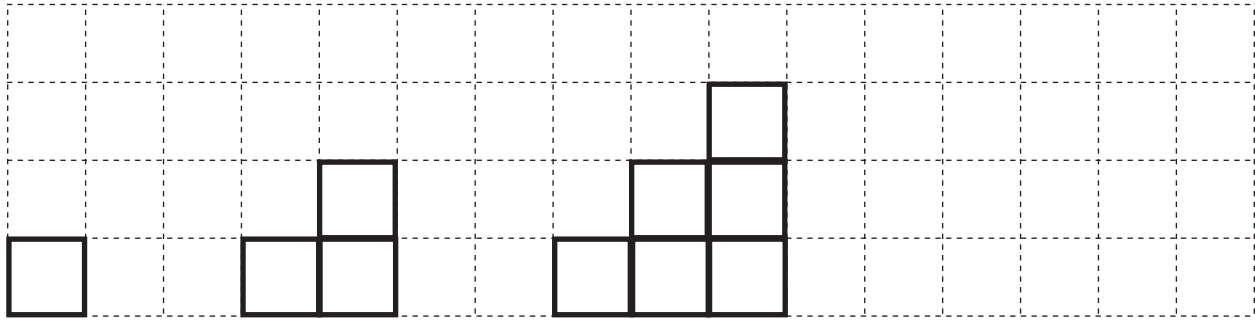
Uimhir Iarrthóra

| | |
|--|--|
| | |
|--|--|

| Don Scrúdaitheoir amháin | |
|--------------------------|----------|
| Uimhir Ceiste | Marcanna |
| 1 | |
| 2 | |
| 3 | |
| 4 | |
| 5 | |
| 6 | |
| 7 | |
| 8 | |
| 9 | |
| 10 | |
| 11 | |
| 12 | |
| Marc Iomlán | |

LEATHANACH BÁN

1 Tá bloic carntha ar an dóigh seo thíos.



Léaráid 1

Léaráid 2

Léaráid 3

Léaráid 4

(a) Tarraing léaráid 4.

[1]

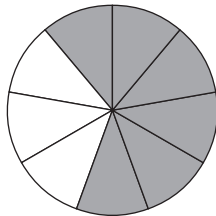
(b) Comhlánaigh an tábla le haghaidh léaráidí 4 agus 5.

| | | | | | |
|----------------------|---|---|---|---|---|
| Léaráid | 1 | 2 | 3 | 4 | 5 |
| Líon na mbloc | 1 | 3 | 6 | | |

[1]

Scrúdaitheoir Amháin
 Marcanna Athmharc

2 (a)



Scríobh an codán atá scáthaithe san fhoirm is simplí.

Freagra _____ [2]

(b) Cé na codáin sa liosta seo

$$\frac{3}{12} \quad \frac{4}{15} \quad \frac{5}{20} \quad \frac{6}{24} \quad \frac{8}{30}$$


nach bhfuil coibhéiseach le $\frac{1}{4}$?

Freagra _____ [2]

3 Thaifead Sinéad na cineálacha feithiclí a bhí ag dul thart lena teach.

| Cineál feithicle | Cuntas | Minicíocht |
|------------------|----------------|------------|
| Leoraí | <i> </i> | 6 |
| Bus | <i> </i> | 2 |
| Carr | <i> </i> | 12 |
| Gluaisrothar | <i> </i> | 4 |
| Veain | <i> </i> | 3 |

(a) Ar an ghrafpháipéar thíos, tarraing barrachairt leis an fhaisnéis seo a léiriú. [3]



(b) Cad é an cineál feithicle is minice a bhí ag dul thart lena teach?

Freagra _____ [1]

(c) Cá mhéad feithicle san iomlán a bhí taifeadta ag Sinéad?

Freagra _____ [1]

Scrúdaitheoir Amháin

Marcanna Athmharc

4 Cén t-aonad **méadrach** a úsáideann tú

(a) le mála prátaí a mheá?

Freagra _____ [1]

(b) leis an mhéid leachta i gcanna deochanna boga a thomhas?

Freagra _____ [1]

(c) leis an fhad idir dhá bhaile mhóra san Eoraip a thomhas?

Freagra _____ [1]

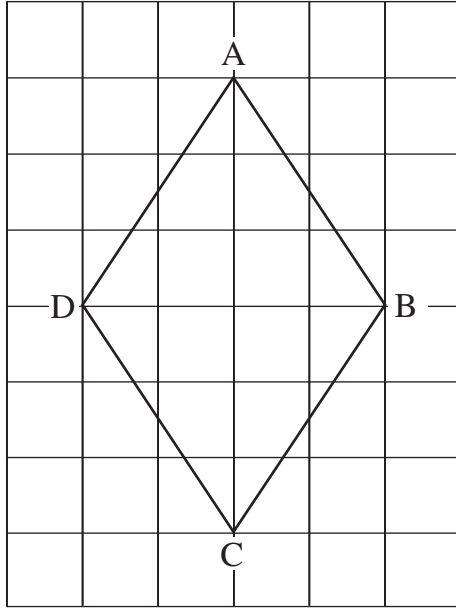
5 (a) Cad é an briseadh ba chóir duit a fháil as £5 dá gceannófá 4 phaca brioscaí ar 63p an ceann?

Freagra _____ [2]

(b) Cá mhéad bosca seacláide ar £4.20 an ceann is féidir a cheannach le £30?

Freagra _____ [2]

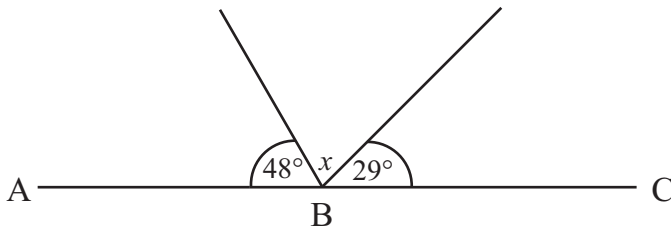
6 (a) Tá cruth ceithreshleasach ABCD tarraingthe ar an eangach 1 cm seo thíos.



Faigh achar ABCD.

Freagra _____ cm^2 [1]

(b) Is líne dhíreach í ABC.



Níl an léaráid tarraingthe go beacht

Ríomh méid na huillinne x .

Freagra _____ $^\circ$ [1]

7 (a) Ríomh

(i) $\sqrt{31.36}$

Freagra _____ [1]

(ii) 7.3^2

Freagra _____ [1]

(b) Is é £16 000 tuarastal Liam agus tá méadú 5% le fáil aige.
Cá mhéad a bheidh sa mhéadú seo?

Freagra £ _____ [2]

(c) (i) Scríobh 25.289 ceart go dtí 2 ionad de dheachúlacha.

Freagra _____ [1]

(ii) Scríobh 8.45 ceart go dtí 1 ionad de dheachúlacha.

Freagra _____ [1]

Scrúdaitheoir Amháin

Marcanna Athmharc

8 (a) Tá $p = 2$, tá $q = \frac{1}{2}$, tá $r = 4$

Faigh luach $p + 2q - r$

Freagra _____ [2]

(b) Réitigh an chothromóid $\frac{y}{3} = 6$

Freagra $y =$ _____ [1]

9 Ba é 1°C an teocht. Níos moille sa lá ba é -7°C an teocht.

(a) Cá mhéad céim a thit an teocht?

Freagra _____ $^\circ\text{C}$ [1]

D'éirigh an teocht 3°C ansin.

(b) Cad é an teocht a bhí ann ansin?

Freagra _____ $^\circ\text{C}$ [1]

Scrúdaitheoir Amháin

Marcanna Athmharc

10 Is iad seo a leanas na marcanna a fuair na 10 mbuachaill i rang 12A.

18, 12, 15, 9, 13, 14, 20, 11, 10, 8

Tá 8 gcailín i rang 12A agus fuair siad 128 marc san iomlán.

Cé acu ab fhearr na buachaillí nó na cailíní? Luaigh fáth le do fhreagra.

Freagra _____
mar _____
_____ [4]

11 Ríomh

(a) an fhréamh chiúbach de 343

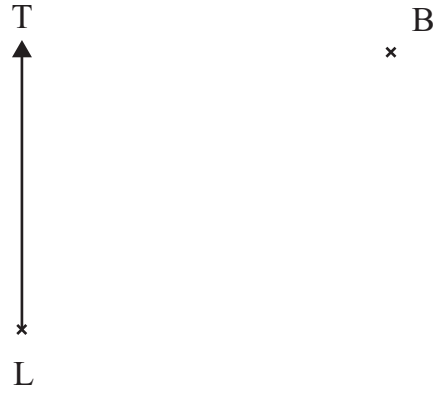
Freagra _____ [1]

(b) $\frac{10}{0.5^2}$

Freagra _____ [2]

Scrúdaitheoir Amháin

Marcanna Athmharc



Is pointe é L i lár chearnóg an bhaile.
Tá banc, B, marcáilte ar an léaráid thuas.

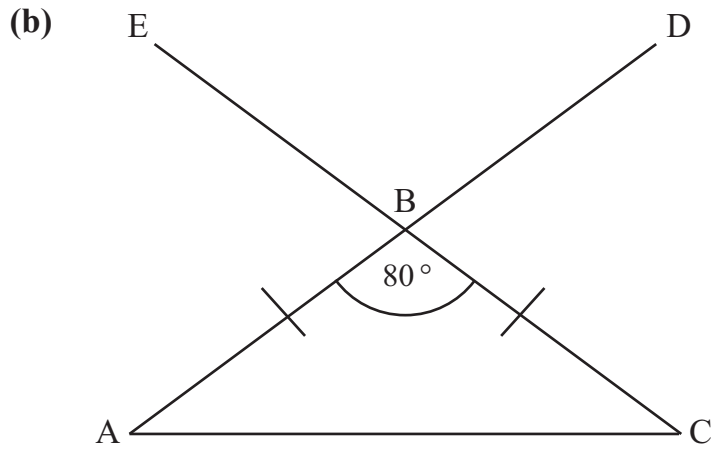
(a) (i) Faigh treo-uillinn B ó L.

Freagra _____ ° [1]

Is é 1 cm = 20 m scála na léaráide.

Tá an phictiúrlann P 90 m ó L agus ar threo-uillinn 160° ó L.

(ii) Marcáil suíomh na pictiúrlainne, P, ar an léaráid. [2]



Níl an léaráid
 tarraingthe
 go beacht

Is triantán comhchosach é ABC. Is línte díreacha iad ABD agus CBE.
 Tá uillinn $ABC = 80^\circ$

Faigh méid

(i) uillinn EBD.

Freagra _____ $^\circ$ [1]

(ii) uillinn BAC.

Freagra _____ $^\circ$ [2]

SEO DEIREADH AN SCRÚDPHÁIPÉIR
