



General Certificate of Secondary Education  
January 2009

## Matamaitic



Modúl N5 Páipéar 2  
(Le hÁireamhán)  
Bonnsraith  
[GMN52]

DÉ CÉADAOIN 14 EANÁIR  
3.00 pm – 4.00 pm

AM

1 uair an chloig.

### TREOIR D'IARRTHÓIRÍ

Scríobh d'Uimhir Lárionaid agus d'Uimhir Iarrthóra sna spásanna chuige sin ag barr an leathanaigh seo.

Scríobh do fhreagraí sna spásanna chuige sin sa cheistpháipéar seo.

Freagair **gach ceann** de na **sé cheist déag**.

Ba chóir do chuid oibre a thaispeáint go soiléir sna spásanna chuige sin mar is féidir go mbronnfar marcanna ar réitigh a bhfuil codanna díobh ceart.

### EOLAS D'IARRTHÓIRÍ

Is é 56 an marc iomlán don pháipéar seo.

Léiríonn figiúirí idir lúibíní ar thaobh na lámhe deise de leathanaigh na marcanna atá ag dul do gach ceist nó do gach cuid de cheist.

Ba chóir duit áireamhán, rialóir, compáis, dronbhacart agus uillinntomhas a bheith agat.

Tá an Bhileog Foirmilí ar leathanach 2.

StudentBounty.com

Uimhir Ceiste  
71

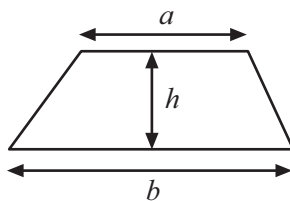
Uimhir Iarrthóra

Don Scrúdaitheoir amháin	
Uimhir Ceiste	Marcanna
1	
2	
3	
4	
5	
6	
7	
8	
9	
10	
11	
12	
13	
14	
15	
16	

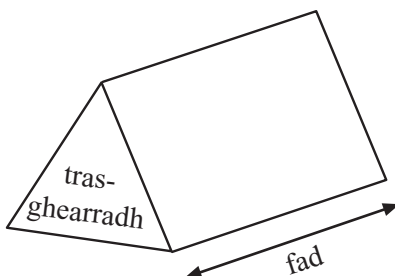
Marc Iomlán	
-------------	--

# Bileog Foirmlí

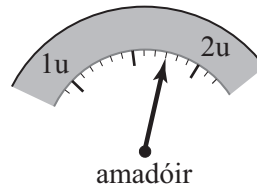
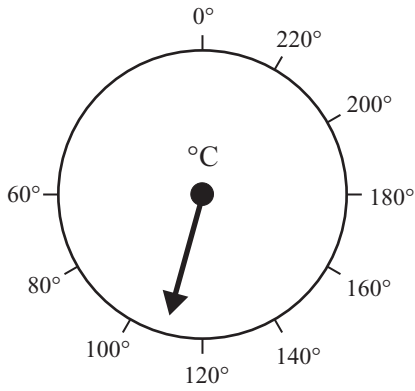
**Achar traipéisiam** =  $\frac{1}{2}(a+b)h$



**Toirt priosma** = achar trasghearrtha  $\times$  fad



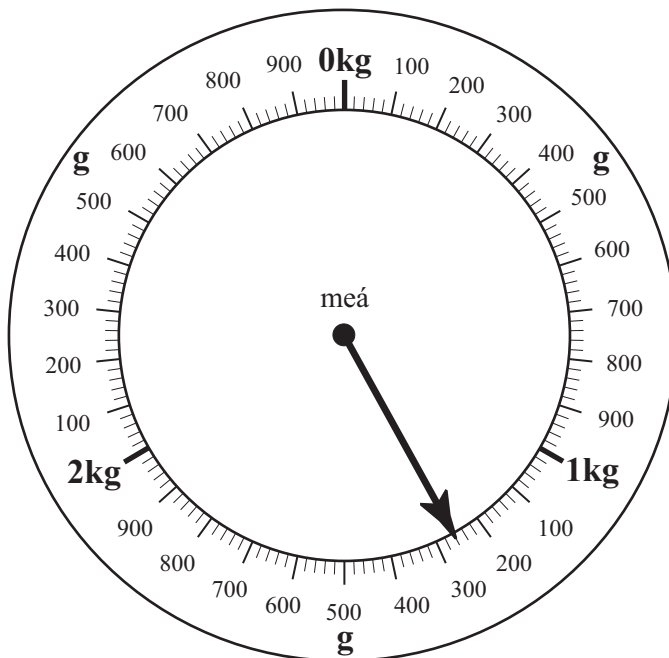
1



Baineann na diaileanna thuas le táscaire teochta agus le hamadóir.

(a) Cén teocht atá á taispeáint? Freagra \_\_\_\_\_ °C [1]

(b) Scríobh an léamh atá ar an amadóir. Freagra \_\_\_\_\_ [1]



Sa léaráid thuas tá diail meá cistine atá marcáilte i gcileagramaim agus i ngramaim.

(c) Cén léamh, ina chileagramaim agus ina ghraim, atá á thaispeáint leis an tsaighead?

Freagra \_\_\_\_\_ kg \_\_\_\_\_ g [1]

(d) Taispeáin léamh 760 gram ar an léaráid le saighead. [1]

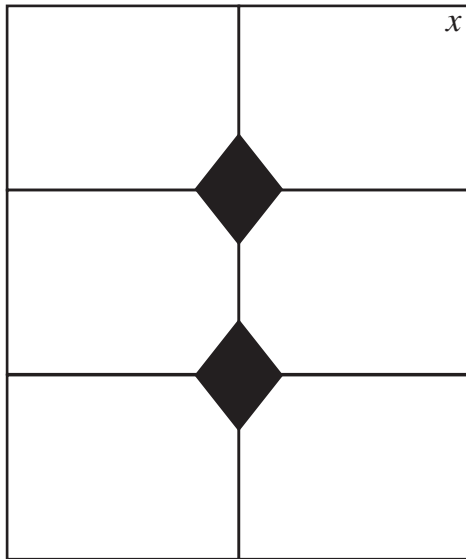
(e) Cad é an difríocht, ina graim, idir léamh (c) agus léamh (d) thuas?

Freagra \_\_\_\_\_ g [1]

Scrúdaitheoir Amháin

Marcanna Athmharc

- 2 Sa léaráid taispeántar dearadh d'fhuinneog dhronuilleach. Tá 3 chruth dhifriúla i bpánaí na fuinneoige.



- (a) Cén t-ainm a thugtar ar na cruthanna scáthaithe?

Freagra \_\_\_\_\_ [1]

- (b) Comhlánaigh an abairt seo a leanas le focail chúí matamaitice le cur síos ar na cruthanna scáthaithe.

Tá na sleasa urchomhaireacha \_\_\_\_\_ agus \_\_\_\_\_ [2]


- (c) Cén cineál uillinne í an uillinn atá marcáilte le  $x$ ?

Freagra \_\_\_\_\_ [1]

- (d) Cá mhéad líne shiméadrachta atá ag gach ceann de na cruthanna scáthaithe?

Freagra \_\_\_\_\_ [1]

(e) Anseo thíos tá ceann de na pánaí atá sa lár. Tarraing líne shiméadrachta air.



[1]

Scrúdaitheoir Amháin

Marcanna Athmharc

3 Díolann fear cluichí ríomhaire.

Is leis an fhoirmle seo thíos a thugtar a phá iomlán seachtaine ina phuint.

Pá iomlán ina Phuint = Pá Bunúsach + Líon na gcluichí a dhíolann sé  $\times 2.8$

(a) Cá mhéad a fhaigheann an fear do gach cluiche a dhíolann sé?

Freagra \_\_\_\_\_[2]

(b) Is é £155 pá bunúsach an fhir agus abair go ndíolann sé 24 cluiche.  
Cad é an pá iomlán a gheobhaidh sé don tseachtain seo?

Freagra £ \_\_\_\_\_[2]

## 4 (a) Roghnaigh ó

dóchúil neamhdhóchúil cinnte do-tharlaitheach

leis na habairtí seo a leanas a chomhlánú.

Tá sé \_\_\_\_\_ go mbeidh Domhnach Cásca ar an 25ú Nollaig.

Tá sé \_\_\_\_\_ go mbainfidh duine ar a bhfuil aithne agam an Crannchur Dé Sathairn.

Ag cluiche peile, tá sé \_\_\_\_\_ gur i Mí na Nollag a rugadh cuid den lucht féachana.

Sa chéad chluiche peile eile a imreoidh foireann Ard Mhacha, tá sé

\_\_\_\_\_ go mbainfidh siad, go gcaillfidh siad nó go mbeidh comhscór ann.

[4]

(b) Cheannaigh Méabh ticéad i gcrannchur. Díoladh 400 ticéad darb uimhreacha 1 go 400.

Cad é an dóchúlacht gur uimhir is mó ná 250 a bheidh ar an ticéad a bhainfidh?

Freagra \_\_\_\_\_[2]

5 Tá  $I = PRT$ 

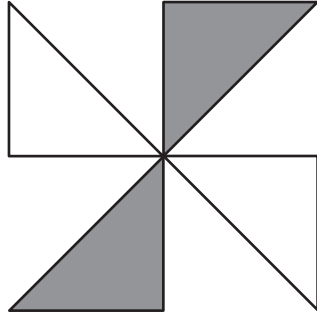
Cad é luach  $I$  nuair a bheidh  $P = 20$ ,  $R = 8$  agus  $T = 0.75$ ?

Freagra  $I =$  \_\_\_\_\_[2]

6 (a) Ainmnigh ceathairshleasán nach bhfuil ach líne shiméadrachta amháin aige.

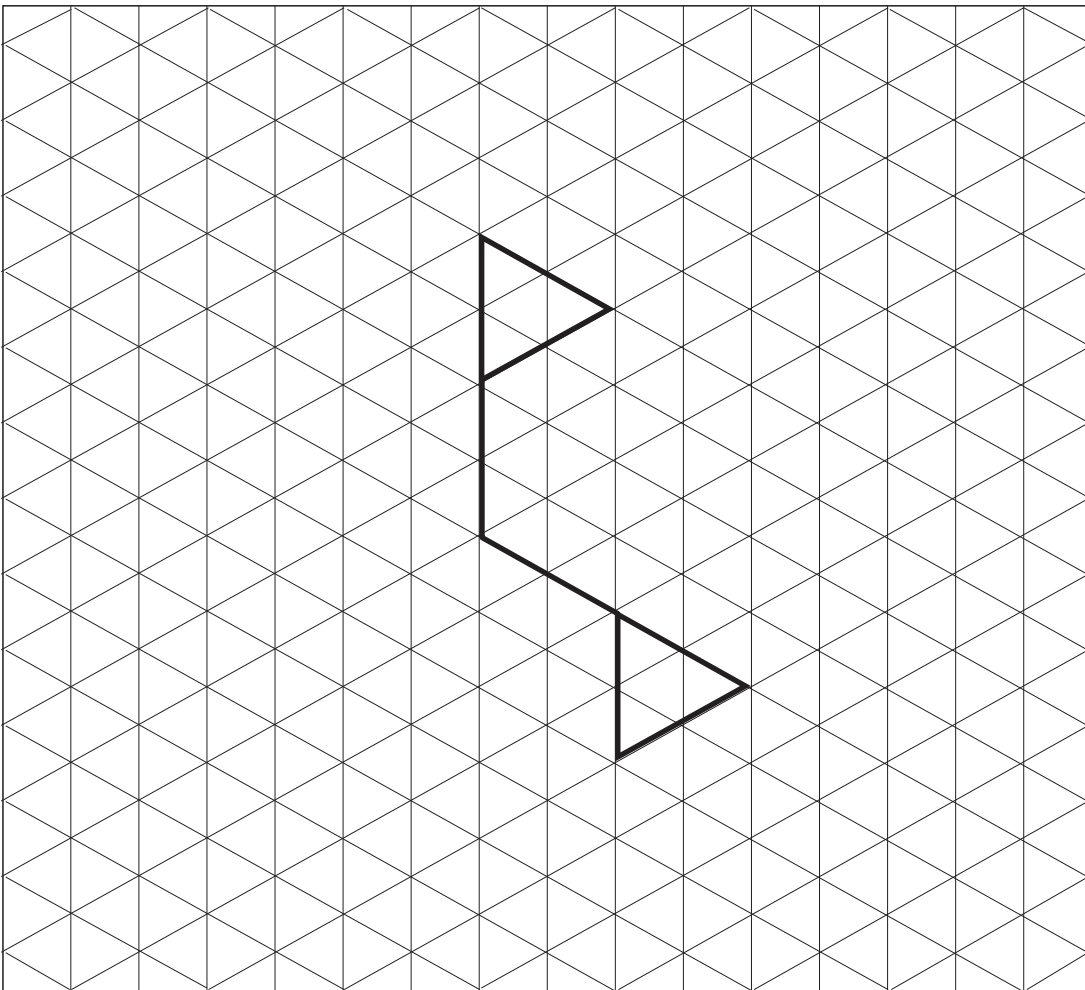
Freagra \_\_\_\_\_ [1]

(b) Cad é ord siméadrachta rothlaí an chrutha seo thíos?



Freagra \_\_\_\_\_ [1]

(c) Comhlánaigh an cruth thíos sa dóigh go mbeidh siméadracht rothlach d'ord 3 ag an chruth chomhlánaithe.



[2]

7 Tá na litreacha C, E agus A i mála amháin.

Tá na huimhreacha 1, 2, 3 agus 4 i mála eile.

Baintear litir amach as an chéad mhála agus baintear uimhir amach as an dara mála.

(a) Liostaigh na torthaí uile a d'fhéadfadh a bheith ann.

[2]

(b) Faigh an dóchúlacht go mbainfear an litir A agus an uimhir 3 araon amach as na málaí.

Freagra \_\_\_\_\_ [1]

8 Cheannaigh Cathal rothar ar cíosccheannach.

D'íoc sé éarlais de £125 agus 24 íocaíocht mhíosúil de £8.50

Agus na híocaíochtaí uile íoctha aige, dhíol sé an rothar ar £130

Cá mhéad i ndeireadh thall a chosain ar rothar air?

Freagra £ \_\_\_\_\_ [4]

9 Is ionann 1 lítear agus  $1\frac{3}{4}$  pionta go garbh.

Cá mhéad lítear atá in 14 phionta?

**Taispeáin do chuid oibre.**

Freagra \_\_\_\_\_ lítear [2]

Scrúdaitheoir Amháin

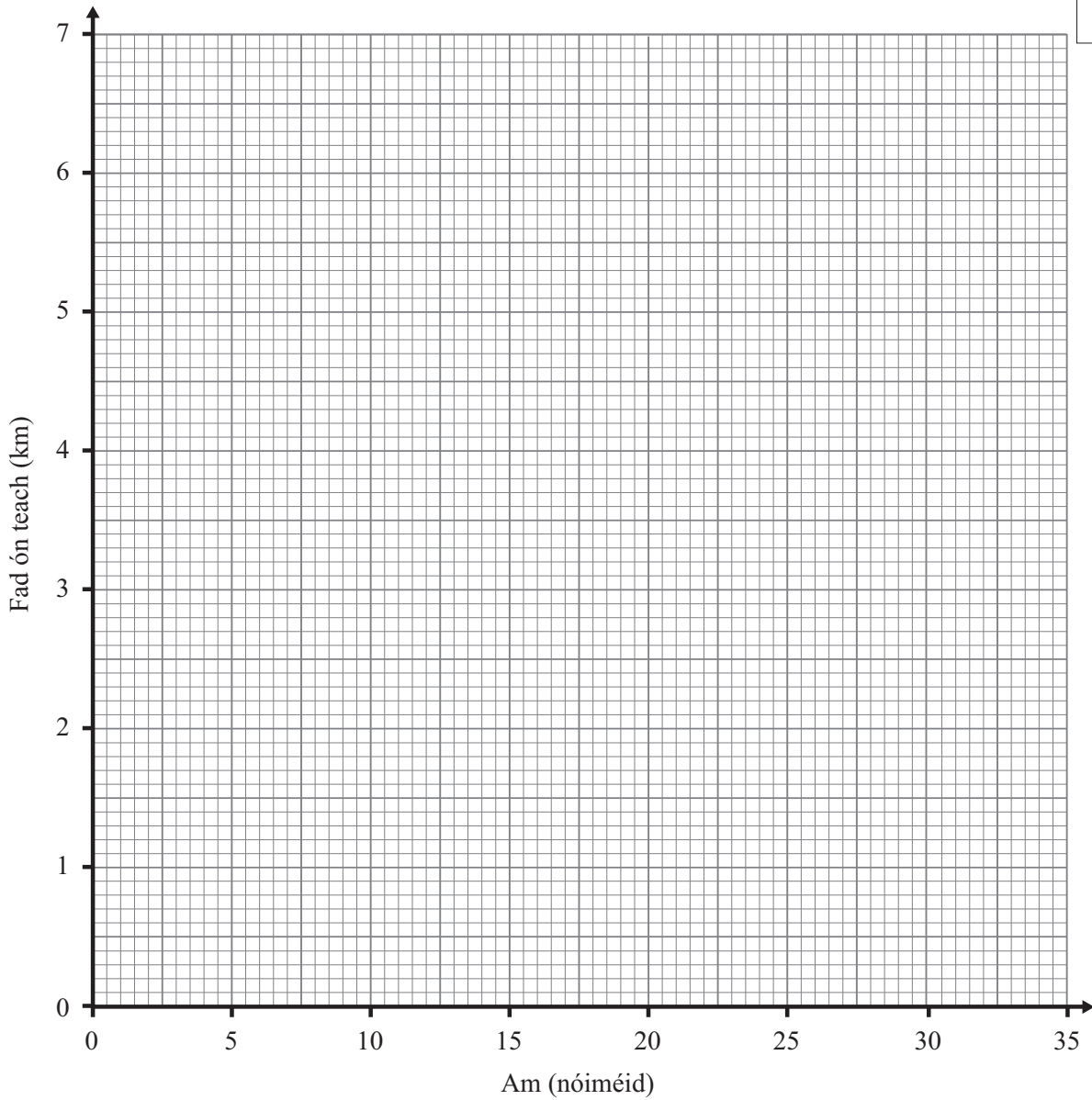
Marcanna Athmharc



10 Rothaigh Seán 3 km óna teach i gcúig nóiméad déag agus rothaigh sé 2 km eile sa chéad dá nóiméad déag eile. Taispeáin a thuras ar an ghraf faid ar am seo thíos.

[2]

Scrúdaitheoir Amháin	
Marcanna	Athmharc



11 Is é £1 = €1.35 ráta malairte steirling go euro.

(a) Mhalartaigh Colm £255 ina euro. Cá mhéad a fuair sé?

Freagra € \_\_\_\_\_ [2]

(b) Cheannaigh Colm péire bróg ar €50.  
Cá mhéad a bheadh ar na bróga i steirling?

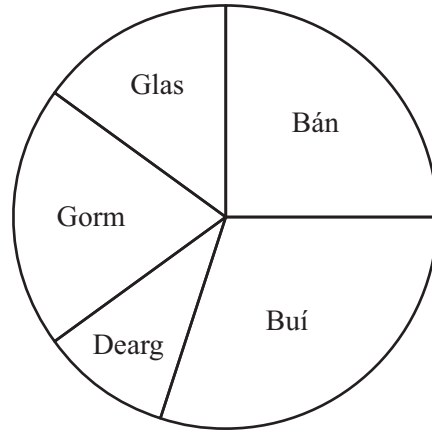
Freagra £ \_\_\_\_\_ [2]

12 Faigh dromchla ciúib dar faobhar 3.1 cm.  
**Scríobh do fhreagra ceart go dtí céim chruinnis chuí.**

Freagra \_\_\_\_\_ cm<sup>2</sup> [3]

Scrúdaitheoir Amháin

Marcanna Athmharc



Is féidir go stopfaidh roithleán ar cheann ar bith de 5 dhath. Sa tábla thíos tá an dóchúlacht go stopfaidh an roithleán ar cheithre cinn de na dathanna seo.

Dath	Dearg	Gorm	Bán	Buí	Glas
Dóchúlacht	0.1		0.25	0.3	0.15

(a) Cad é an dóchúlacht go stopfaidh an roithleán ar ghorm?

Freagra \_\_\_\_\_[2]

Rothlaítear an roithleán 600 uair.

(b) Cá mhéad uair a mbeifeá ag súil leis go stopfaidh an roithleán ar bhán nó ar ghlás?

Freagra \_\_\_\_\_[2]

14 Cé acu ‘corrúimhir i gcónaí’, ‘ré-uimhir i gcónaí’, ‘is féidir gur corrúimhir nó ré-uimhir a bheidh ann’ a chuireann síos ar an uimhir  $4n - 3$ ?

(Is slánuimhir í  $n$ )

**Mínigh do fhreagra.**

Freagra \_\_\_\_\_

mar \_\_\_\_\_

[2]

15 Roinneadh £8 500 idir Aoife, Bríd agus Caoimhe sa chóimheas 10 : 9 : 6 faoi seach.

Ríomh an méid airgid a fuair gach duine acu.

Aoife £ \_\_\_\_\_

Bríd £ \_\_\_\_\_

Caoimhe £ \_\_\_\_\_ [3]

Scrúdaitheoir Amháin

Marcanna Athmharc







