



General Certificate of Secondary Education
January 2009

Matamaitic



Modúl N1 Páipéar 2
(Le hÁireamhán)
Bonnsraith
[GMN12]

DÉ HAOINE 9 Eanáir
10.30 am – 11.15 am

AM

45 nóiméad.

TREOIR D'IARRTHÓIRÍ

Scríobh d'Uimhir Lárionaid agus d'Uimhir Iarrthóra sna spásanna chuige sin ag barr an leathanaigh seo.

Scríobh do fhreagraí sna spásanna chuige sin sa cheistpháipéar seo.

Freagair **gach ceann** den **dá** cheist **déag**.

Ba chóir do chuid oibre a thaispeáint go soiléir sna spásanna chuige sin mar is féidir go mbronnfar marcanna ar réitigh a bhfuil codanna díobh ceart.

EOLAS D'IARRTHÓIRÍ

Is é 44 an marc iomlán don pháipéar seo.

Léiríonn figiúirí idir lúibíní ar thaobh na lámhe deise de leathanaigh na marcanna atá ag dul do gach ceist nó do gach cuid de cheist.

Ba chóir duit áireamhán, rialóir, compáis, dronbhacart agus uillinntomhas a bheith agat.

StudentBounty.com

aid

71

Uimhir Iarrthóra

--



Don Scrúdaitheoir amháin	
Uimhir Ceiste	Marcanna
1	
2	
3	
4	
5	
6	
7	
8	
9	
10	
11	
12	

Marc Iomlán	
-------------	--

LEATHANACH BAN

- 1 Sa phicteagram thíos taispeántar líon na mbonn a bhain lúthchleasaithe na Sile sna Cluichí Oilimpeacha Speisialta.

NA BOINN A BHAIN SIAD

Ór		8
Airgead		
Cré-umha		20

- (a) Comhlánaigh an eochair don phicteagram.

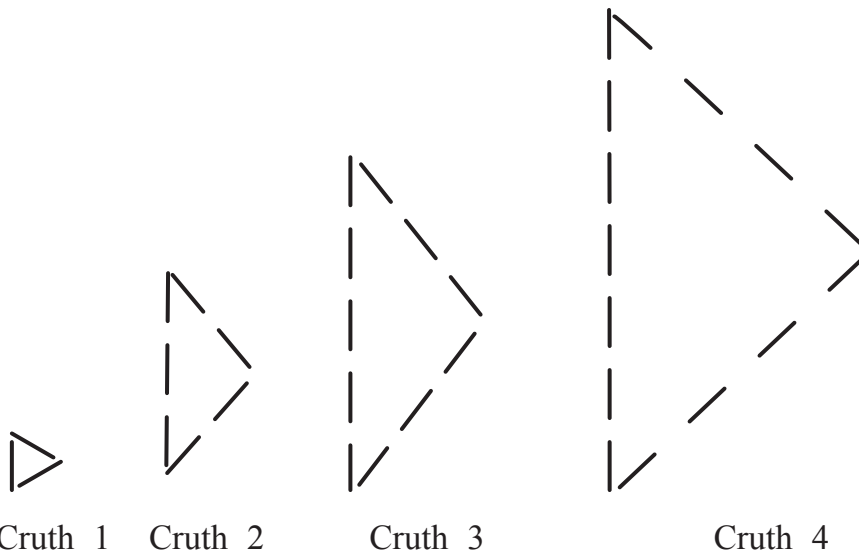
Seasann  do _____ bonn [1]

- (b) Cá mhéad bonn airgid a bhain siad?

Freagra _____ [1]

- (c) Comhlánaigh an picteagram le líon na mbonn cré-umha a thaispeáint. [1]

2 Is le cipíní solais a rinneadh na cruthanna triantánacha seo thíos.



(a) Comhlánaigh an tábla lena thaispeáint cá mhéad cipíní san iomlán a bheadh de dhíth le Cruth 5 a dhéanamh.

Uimhir an chrutha	1	2	3	4	5
An líon cipíní	3	7	11	15	

[1]

(b) Cén patrún atá le feiceáil sa tsraith ‘An líon cipíní’ den tábla?

_____ [1]

3 Cén t-aonad méadrach ina dtomhaisfí iad seo a leanas

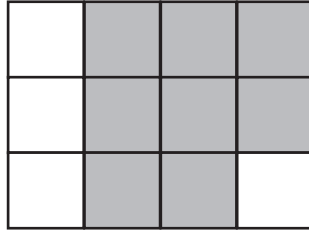
(a) an méid leachta ar thaespúnóg,

Freagra _____ [1]

(b) an meáchan i mála taistil lán?

Freagra _____ [1]

4 (a)



Tá an dronuilleog roinnte ina 12 chuid chothroma.

Scríobh, **san fhoirm is simplí**, an codán den dronuilleog atá **scáthaithe**.

Freagra _____ [2]

(b) Scríobh $\frac{1}{4}$ mar chéatadán.

Freagra _____% [1]

(c) Scríobh 0.75 mar chodán san fhoirm is simplí.

Freagra _____ [1]

(d) $\frac{2}{3}$ $\frac{6}{9}$ $\frac{10}{15}$ $\frac{4}{12}$ $\frac{4}{6}$ $\frac{2}{5}$

Mínigh an fáth a bhfuil $\frac{4}{12}$ agus $\frac{2}{5}$ difriúil leis na codáin eile.

[2]

Scrúdaitheoir Amháin

Marcanna Athmharc

- 5 Tá post páirt-aimseartha an duine ag deich mac léinn ag an deireadh seachtaine. Saothraíonn siad

£20 £33 £19 £22 £31
£36 £28 £25 £27 £34

Ríomh meánmhéid an airgid a shaothraigh na mic léinn.

Freagra £ _____ [3]

- 6 (a) Scríobh an uimhir tríocha a seacht míle caoga a sé ina figiúirí.

Freagra _____ [1]

- (b) Ríomh $(3.27)^2$

Freagra _____ [1]

- (c) Scríobh an uimhir is mó acu seo thíos.

0.5788 0.572 0.58

Freagra _____ [1]

- (d) Scríobh 51.07718 ceart go dtí dhá ionad de dheachúlacha.

Freagra _____ [1]


- (e) Scríobh 34.56 ceart go dtí 3 fhigiúr bhunúsacha.

Freagra _____ [1]

Scrúdaitheoir Amháin

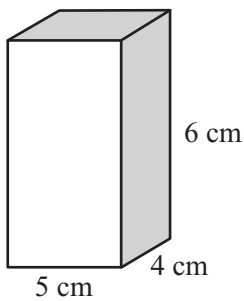
Marcanna Athmharc

7 (a) Faigh achar an chrutha scáthaithe. Is é 1 cm an fad sleasa sna cearnóga beaga.



Freagra _____ [3]

(b) Faigh toirt an chiúbóidigh thíos.



Freagra _____ cm^3 [2]

(c) Is é 300 cm^3 an toirt i gciúbóideach eile. Is é 5 cm an leithead. Scríobh na tomhais a d'fhéadfadh a bheith i bhfad agus in airde an chiúbóidigh.

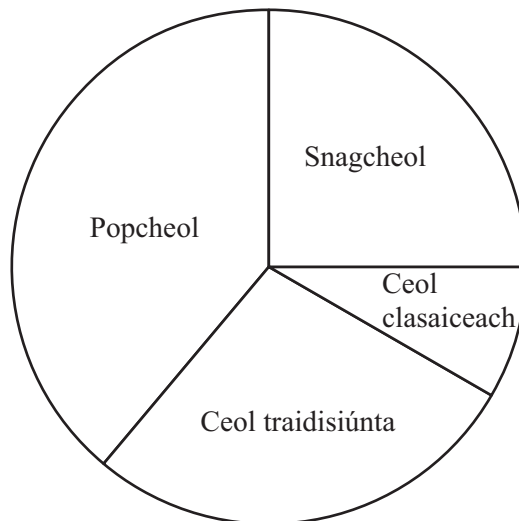
Freagra _____ cm agus _____ cm [1]

8 Tá £10 ag Áine le leabhair nótaí a cheannach ar 85p an ceann.

Abair gur cheannaigh sí an líon is mó leabhair nótaí is féidir leis an airgead. Cén briseadh a gheobhadh sí ansin?

Freagra _____ [3]

9 (a)



Rinneadh suirbhé ar 48 duine faoin chineál ceoil is fearr leo. Taispeánann an phíchart na torthaí.

(i) Cá mhéad duine arb fhearr leo snagcheol?

Freagra _____ [1]

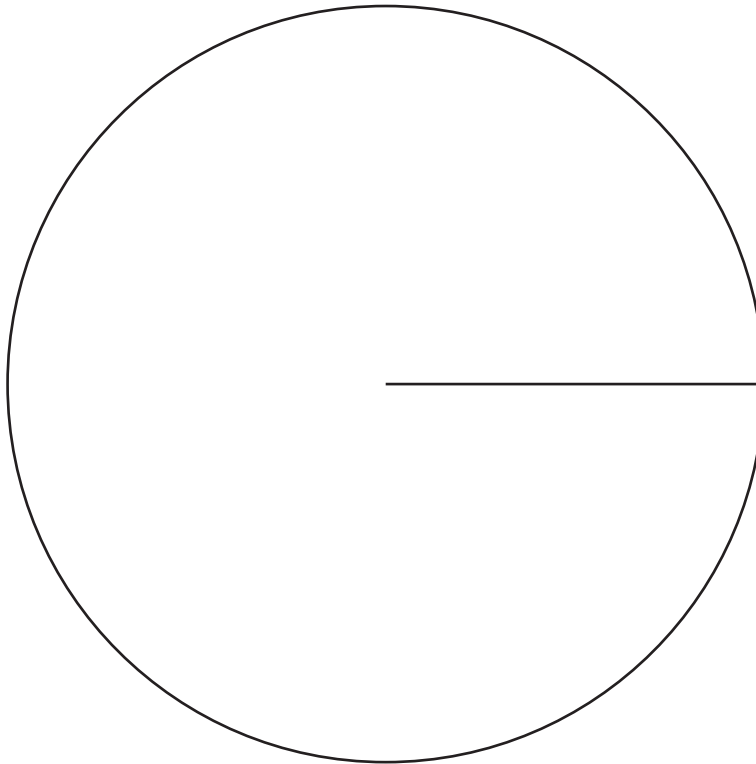
(ii) Cá mhéad duine arb fhearr leo ceol clasaiceach?

Freagra _____ [2]

(b) Sa tábla thíos taispeántar meastachán ar an daonra i ngach ceann de chúig tír sa bhliain 2000.

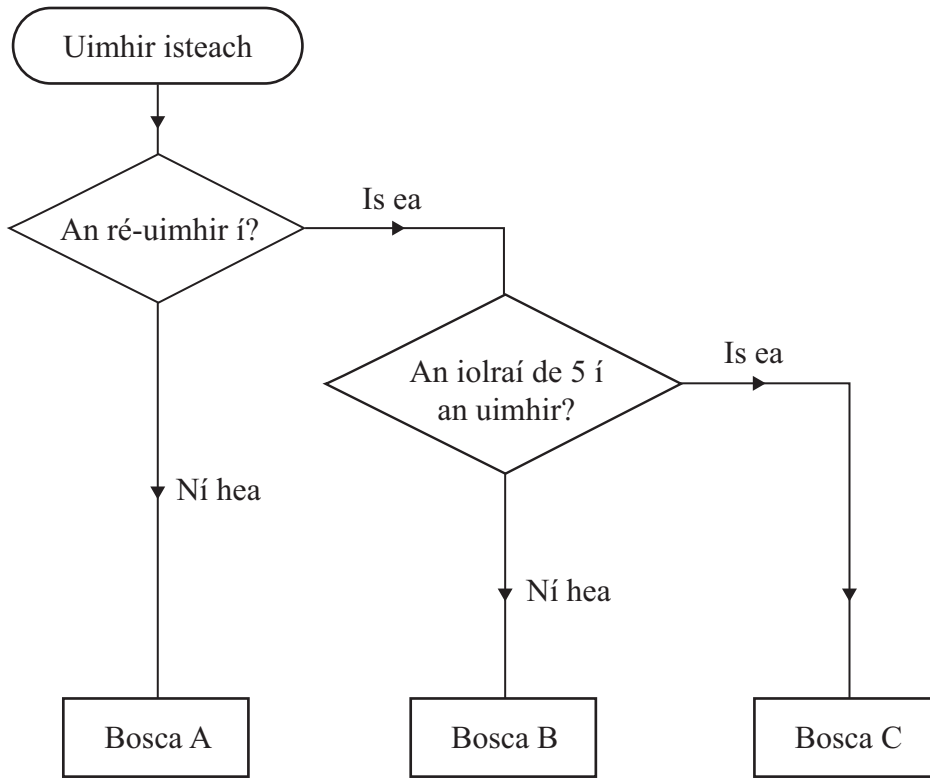
Tarraing píchart leis an fhaisnéis seo a léiriú.

Tír	Daonra (ina mhilliún)
Tuaisceart Éireann	1.6
An Bhreatain Bheag	2.7
Éire	3.9
Albain	5.0
Sasana	46.8



[4]

10



Ón léaráid den chrann cinnidh, ainmnigh an bosca do

- (a) 22 Freagra Bosca _____
- (b) 31 Freagra Bosca _____
- (c) 40 Freagra Bosca _____ [2]

11 Tosaíonn buachaill ar scoil ar 9 am. Críochnaíonn sé ar 3.25 pm. Bíonn sos 15 nóiméad ann ar maidin agus sos 50 nóiméad ann ag am lóin. Tá 8 gceacht dar fad **céanna** ann gach lá. Cá fhad a mhaireann gach ceacht? **Taispeáin do chuid oibre.**

Freagra _____ nóiméad [3]

12 Ríomh

(a) an ciúb de 6

Freagra _____ [1]

(b) 2^4

Freagra _____ [1]

SEO DEIREADH AN SCRÚDPHÁIPÉIR

Scrúdaitheoir Amháin

Marcanna Athmharc

