



Rewarding Learning

General Certificate of Secondary Education

January 2009

StudentBounty.com

Uimhir Ceiste	71
Uimhir Iarrthóir	

Matamaitic



Modúl N1 Páipéar 1
(Gan Áireamhán)

Bonnsraith

[GMN11]

DÉ HAOINE 9 Eanáir
9.15 am – 10.00 am

AM

45 nóiméad.

TREOIR D'IARRTHÓIRÍ

Scríobh d'Uimhir Lárionaid agus d'Uimhir Iarrthóra sna spásanna chuige sin ag barr an leathanaigh seo.

Scríobh do fhreagraí sna spásanna chuige sin sa cheistpháipéar seo.

Freagair **gach ceann** den **aon** cheist **déag**.

Ba chóir do chuid oibre a thaispeáint go soiléir sna spásanna chuige sin mar is féidir go mbronnfar marcanna ar réitigh a bhfuil codanna díobh ceart.

Níl cead agat áireamhán a úsáid don pháipéar seo.

EOLAS D'IARRTHÓIRÍ

Is é 44 an marc iomlán don pháipéar seo.

Léiríonn figiúirí idir lúbíní ar thaobh na lámhe deise de leathanaigh na marcanna atá ag dul do gach ceist nó do gach cuid de cheist.

Ba chóir duit rialóir, compáis, dronbhacart agus uillinntomhas a bheith agat.

Don Scrúdaitheoir amháin	
Uimhir Ceiste	Marcanna
1	
2	
3	
4	
5	
6	
7	
8	
9	
10	
11	

Marc Iomlán	
-------------	--

- 1 (a) Thaifead daltaí an lá sa mhí a rugadh na daltaí i ngrúpa bhliain 12. Tá na torthaí anseo thíos.

29	26	15	1	3	8	17	21	9	8
22	18	14	4	3	7	28	30	2	10
13	9	12	5	8	17	31	6	10	4

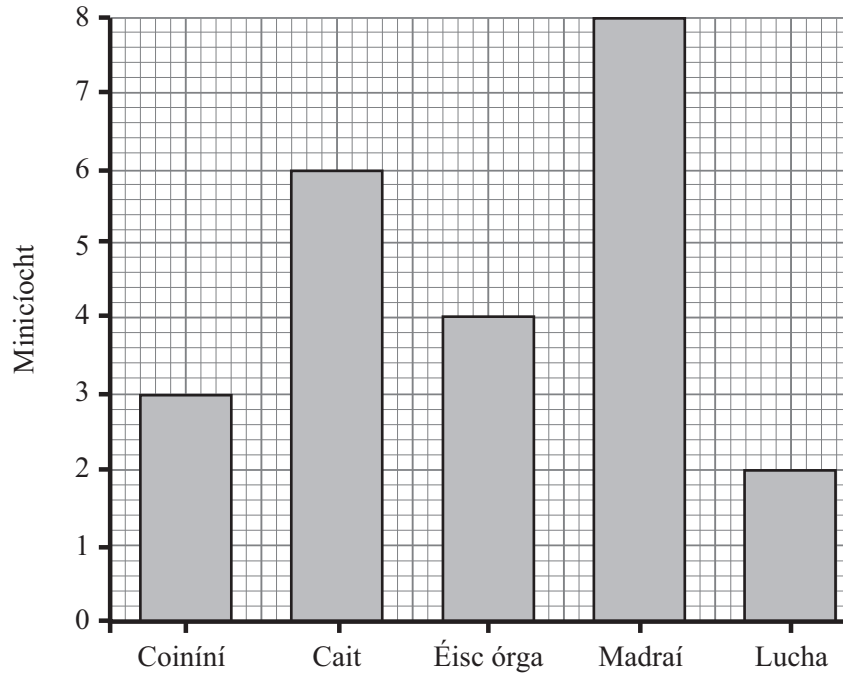
Comhlánaigh an tábla minicíochta.

Rugadh	Cuntas (má bhíonn sé de dhíth)	Minicíocht
1ú go 5ú		
6ú go 10ú		
11ú go 15ú		
16ú go 20ú		
21ú go 25ú		
26ú go 31ú		

[2]

Scrúdaitheoir Amháin	
Marcanna	Athmharc

(b)



Taispeánann an barragrahraf dáileadh na bpeataí atá ag na páistí i rang bhliain 8.

Cá mhéad

(i) iasc órga atá ann,

Freagra _____ [1]

(ii) peata san iomlán atá ann?

Freagra _____ [2]

Scrúdaitheoir Amháin	
Marcanna	Athmharc

65	34	12	61	46
18	56	80	25	63

(a) Ó na huimhreacha san eangach, scríobh

(i) dhá uimhir darb iomlán 80,

Freagra _____ , _____ [1]

(ii) dhá uimhir dar difríocht 40,

Freagra _____ , _____ [1]

(iii) dhá fhachtóir de 36,

Freagra _____ , _____ [1]

(iv) uimhir chearnach.

Freagra _____ [1]

(b) Cad é an uimhir is mó is féidir a fháil trí dhá uimhir ar bith san eangach a iolrú faoina chéile?

Freagra _____ [2]

3 (a) (i) Tarraing ciorcal dar ga 4 cm.

Scrúdaitheoir Amháin

Marcanna

Athmharc

[1]

(ii) Tarraing corda den chiorcal.

[1]

(b) (i) Sa spás thíos, tarraing ceathairshleasán nach mbeidh ach péire amháin de línte comhthreomhara ann.

[1]

(ii) Cad é an t-ainm speisialta atá ar cheathairshleasán den chineál seo?

Freagra _____ [1]

4 Faigh airmheán na n-uimhreacha seo a leanas

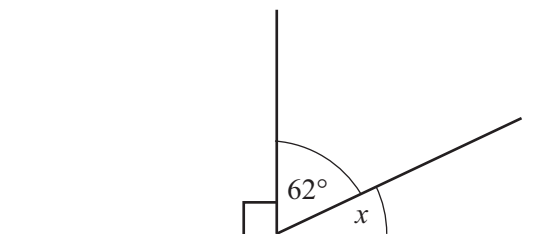
13 4 5 21 24 18 2 9 5 15 3 11 16 23 8 20

Scrúdaitheoir Amháin	
Marcanna	Athmharc

Freagra _____ [2]

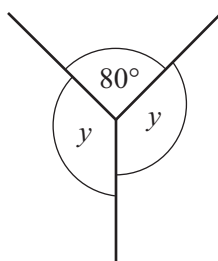
5 Faigh

(a) uillinn x



Freagra $x =$ _____ ° [1]

(b) uillinn y



Freagra $y =$ _____ ° [1]

6 (a) Faigh

(i) $272 \div 8$

Freagra _____ [1]

(ii) $\frac{3}{7} \times 56$

Freagra _____ [2]

(iii) 0.5×0.3

Freagra _____ [1]

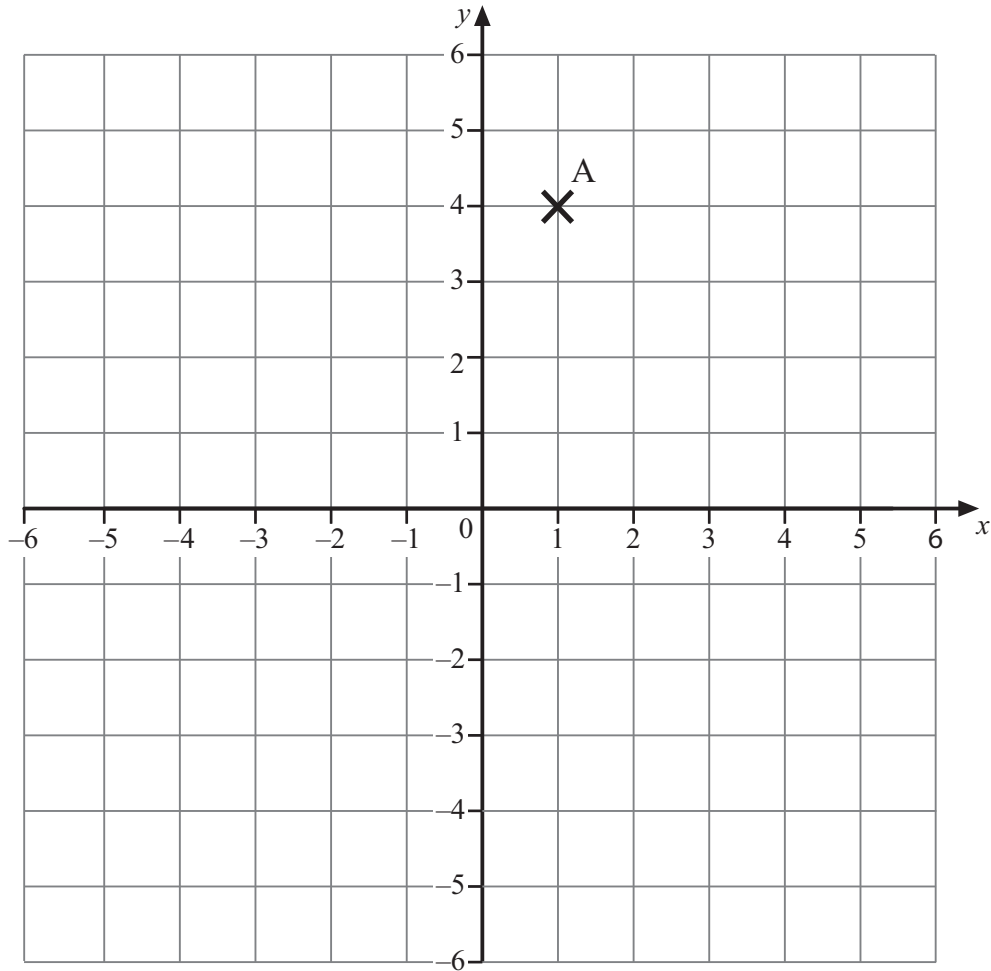
(iv) $\frac{3}{8} - \frac{1}{4}$

Freagra _____ [2]

(b) Scríobh $\sqrt{64}$

Freagra _____ [1]

Scrúdaitheoir Amháin	
Marcanna	Athmharc



(a) Scríobh comhordanáidí pointe A thuas.

Freagra (_____ , _____) [1]

(b) Breac an pointe $(-4, 0)$ ar an eangach. [1]

(c) Tarraing an líne $x = 3$ ar an eangach. [1]

Scrúdaitheoir Amháin	
Marcanna	Athmharc

8 (a) Faigh luach $5x - 2y$ an áit a bhfuil $x = -2$ agus $y = 4$

Scrúdaitheoir Amháin

Marcanna

Athmharc

Freagra _____ [2]

(b) Réitigh na cothromóidí

(i) $9x = 27$

Freagra $x =$ _____ [1]

(ii) $\frac{y}{3} = 6$

Freagra $y =$ _____ [1]

(iii) $\frac{18}{z} = 3$

Freagra $z =$ _____ [1]

9 Léiríonn an léaráid gais agus duillí airde 21 mac léinn i rang bhliain 8.

Gas	Duille
13	6 9
14	1 2 3 3 4
14	5 6 7 7 8 8 9
15	1 2 4 4
15	5 8
16	2

Eochair: 136 cm is ciall de 13 | 6

Scríobh

(a) raon na sonraí,

Freagra _____ cm [1]

(b) airmheán na sonraí.

Freagra _____ cm [1]

Scrúdaitheoir Amháin	
Marcanna	Athmharc

10 (a) Tóg an triantán ABC an áit a mbeidh $AB = 7$ cm, $BC = 4$ cm agus $AC = 5$ cm.

Ná scrios na línte tógála agat.

[3]

(b) Tomhais méid na huillinne CAB.

Freagra _____° [1]

Scrúdaitheoir Amháin	
Marcanna	Athmharc

11 (a) Faigh 40% de 60

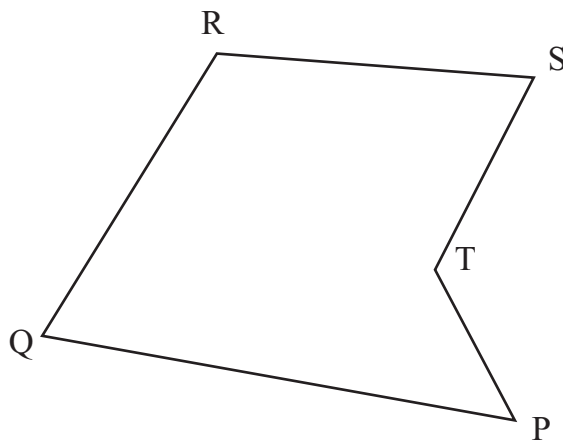
Scrúdaitheoir Amháin	
Marcanna	Athmharc

Freagra _____ [2]

(b) Faigh $6.2 - 2.73$

Freagra _____ [1]

(c) Marcáil uillinn athfhillteach sa chruth seo thíos.



[1]

SEO DEIREADH AN SCRÚDPHÁIPÉIR
