

Enw'r Ymgeisydd	Rhif y Ganolfan	Rhif yr Ymgeisydd

CYD-BWYLLGOR ADDYSG CYMRU

Tystysgrif Gyffredinol Addysg Uwchradd



WELSH JOINT EDUCATION COMMITTEE

General Certificate of Secondary Education

178/52

TECHNOLEG GWYBODAETH A CHYFATHREBU

PAPUR 2

(Haen Sylfaenol – Graddau G i C)

A.M. DYDD MERCHER, 6 Mehefin 2007

(1 Awr)

Arholwr yn unig	
Cyfanswm y Marciau	

CYFARWYDDIADAU I YMGEISWYR

Ysgrifennwch eich enw, rhif y ganolfan a'ch rhif ymgeisydd yn y blychau ar ben y dudalen hon.

Atebwch **bob** cwestiwn.

Ysgrifennwch eich atebion yn y lleoedd gwag priodol yn y llyfryn hwn. Os nad oes gennych ddigon o le, cewch barhau â'ch ateb yng nghefn y llyfryn, gan ofalu nodi rhif y cwestiwn yn gywir.

GWYBODAETH I YMGEISWYR

Dangosir nifer y marciau mewn cromfachau ar ddiwedd pob cwestiwn neu ran o gwestiwn.

Ni roddir tystysgrif i ymgeisydd a geir yn ymddwyn yn annheg yn ystod yr arholiad.

Atebwch **bob** cwestiwn.

1. Ticiwch (✓) y colofnau cywir i ddangos a yw **pob** dyfais yn cael ei defnyddio ar gyfer **Mewnbynnu** neu **Allbynnu**. [6]

<i>Dyfais</i>	<i>Mewnbynnu</i>	<i>Allbynnu</i>
Llygoden		
Monitor		
Argraffydd		
Sganiwr		
Uchelseinydd		
Camera digidol		

2. Dau wahanol fath o gof yw **ROM** a **RAM** sydd i'w cael mewn cyfrifiaduron fel yr un a ddangosir isod.



- (a) (i) Am beth y mae'r llythrennau **ROM** yn sefyll (yn Saesneg)? [1]

- (ii) Am beth y mae'r llythrennau **RAM** yn sefyll (yn Saesneg)? [1]

- (b) (i) I beth y mae **RAM** yn cael ei ddefnyddio? [1]

- (ii) Ticiwch (✓) y blwch cywir isod i ddangos pa **un** o'r gosodiadau hyn sy'n gywir. [1]

	<i>Cywir</i>
Defnyddir ROM i storio data pan gaiff y cyfrifiadur ei ddiffodd.	
Meddalwedd yw ROM .	
Mae ROM yn colli ei ddata ar ôl diffodd y cyfrifiadur.	

(c) **Rhowch gylch am** y mesur **mwyaf** o gof a ddangosir isod. [1]

Gigabeit Megabeit Cilobeit

(ch) Enwch **ddau** fath gwahanol o ddyfeisiau storio cynorthwyol **magnetig** a ddefnyddir mewn cyfrifiaduron. [2]

(i)

(ii)

(d) Enwch **un** math o ddyfais storio gynorthwyol **optegol** a ddefnyddir mewn cyfrifiaduron. [1]


.....

3. Defnyddiwch y rhestr isod i gwblhau'r brawddegau sy'n dilyn.


DMG (OMR)

DNG (OCR)

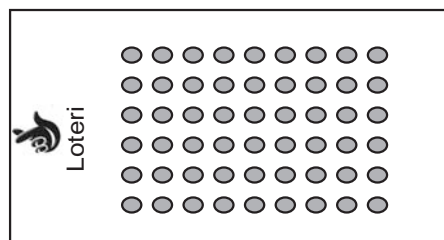
ANIM (MICR)



(i) Mae banciau'n gwneud defnydd mawr o [1]



(ii) Un defnydd sy'n cael ei wneud o yw darllen codau post ar lythyrau. [1]



(iii) Mae'r Loteri Genedlaethol yn defnyddio i gipio data. [1]

4. Mae gan y *Ddeddf Gwarchod Data (DPA)* wyth egwyddor sylfaenol.

(a) Rhestrwch **dair** o'r egwyddorion hyn. [3]

(i)

(ii)

(iii)

(b) Rhowch **un** hawl sydd gan unigolion o ran data sy'n cael eu cadw amdanynt ar gyfrifiaduron. [1]

.....

(c) Enwch **un** corff (*organisation*) sydd wedi'i eithrio o'r *Ddeddf Gwarchod Data*. [1]

.....

5. Dau fath gwahanol o rwydwaith cyfrifiadurol yw **RAL** (*LAN*) a **RAE** (*WAN*).

(a) (i) Ysgrifennwch am beth mae **RAL** yn sefyll.

Rhwydwaith A **L**

(ii) Ysgrifennwch am beth mae **RAE** yn sefyll.

Rhwydwaith A **E**

[3]

(b) Rhowch **ddwy** fantais sydd gan rwydwaith o'i gymharu â chyfrifiaduron arunig. [2]

(i)

(ii)

(c) Rhowch **un** ffordd o atal pobl heb awdurdod rhag cyrchu'r wybodaeth ar rwydwaith. [1]

.....

6. Mae gan bob cyfrifiadur *system weithredu*.

(a) Ysgrifennwch ystyr y term *system weithredu*.

[1]

.....

(b) Ticiwch (✓) **ddau** flwch i ddangos pa dasgau sy'n cael eu cyflawni gan system weithredu.

[2]

<i>Tasg</i>	<i>Ticiwch (✓) ddau flwch</i>
Mae'n rheoli cof y cyfrifiadur.	
Mae'n rheoli disgleirdeb y monitor.	
Mae'n dweud wrth y defnyddiwr os nad oes papur yn yr argraffydd.	
Mae'n rheoli cyflymder yr argraffydd.	

(c) Cwblhewch y tabl trwy gysylltu'r mathau canlynol o system weithredu â'r tasgau sydd wedi'u rhestru yn y tabl.

Mae enghraifft wedi'i gwneud i chi.

[2]

Amlfynediad	Prosesu amser real	Swp-brosesu
<i>Tasg</i>	<i>System Weithredu</i>	
Rheoli robotau	Prosesu amser real	
Llawer o drefnwyr teithiau'n cyrchu system bwcio teithiau awyren yr un pryd		
Cynhyrchu biliau nwy		

(ch) Mae gan y mwyafrif o gyfrifiaduron Ryngwyneb Defnyddiwr Graffigol (RDG) (*Graphical User Interface (GUI)*).

Rhestrwch **ddwy** o nodweddion RDG.

[2]

(i)

(ii)

7. Mae'r tabl isod yn dangos peth o'r wybodaeth sy'n cael ei chadw ar gyfrifiadur siop fideo.

<i>Enw'r ffilm</i>	<i>Math</i>	<i>Cyfrwng</i>	<i>Rhif Adnabod</i>	<i>Cost Rhentu (£)</i>
<i>Apollo</i>	Ffuglen wyddonol	<i>DVD</i>	3651	3.99
<i>High Noon</i>	Ffilm gowboi	Tâp	3742	4.99
<i>I Robot</i>	Ffuglen wyddonol	<i>DVD</i>	3643	3.99
<i>Notting Hill</i>	Rhamantus	<i>DVD</i>	4644	3.99

(a) Ysgrifennwch nifer y *meysydd* a ddangosir yn y tabl uchod. [1]

.....

(b) Ysgrifennwch nifer y *cofnodion* a ddangosir yn y tabl uchod. [1]

.....

(c) Mae'r tabl yn cynnwys amrywiaeth o fathau data.

(i) Rhowch y math data ar gyfer *Cost Rhentu (£)*. [1]

.....

(ii) Rhowch y math data ar gyfer *Math*. [1]

.....

(iii) Pryd y byddai perchennog y siop fideo yn diweddarau'r tabl? Rhowch **ddwy** enghraifft. [2]

(I)

(II)

8. Pan gaiff data eu mewnbynnu i system gyfrifiadurol mae'r meddalwedd yn gwirio'r data i sicrhau eu bod yn rhesymol. Enw'r broses hon yw *dilysu*.

(a) Rhewch **ddau** fath gwahanol o wiriad dilysu. [2]

(i)

(ii)

(b) *Gwireddu* yw'r enw a roddir ar wirio bod data wedi cael eu copio'n gywir o un cyfrwng (e.e. papur) i gyfrwng arall (e.e. disg).

Rhowch **ddau** ddull gwireddu. [2]

(i)

(ii)

(c) Pan yw pobl yn ymuno â chlwb, gofynnir iddynt roi eu dyddiad geni (diwrnod, mis, blwyddyn) mewn grid fel yr un isod.

D	D	M	M	B	B

Ticiwch (✓) y dyddiad a fyddai'n cael ei *dderbyn* gan y broses ddilysu.
Rhewch reswm pam y byddai'r **ddau** ddyddiad arall yn cael eu *gwrthod*.

[3]

<i>Dyddiad</i>	<i>Tic (✓) neu reswm dros ei wrthod</i>
14 12 60	
03 Ebrill 71	
11 45 81	

9. Mae systemau cyfrifiadurol wedi'u mewoblannu (*embedded*) yn cael eu defnyddio mewn nifer mawr o ddyfeisiau.

(a) Esboniwch ystyr y term *system gyfrifiadurol wedi'i mewoblannu*. [2]

.....

.....

(b) Rhwch **ddwy** enghraifft o ddyfeisiau/peiriannau sy'n cynnwys systemau cyfrifiadurol wedi'u mewoblannu. [2]

(i)

(ii)

(c) Rhwch **ddwy** o fanteision defnyddio robotau yn y diwydiant cynhyrchu ceir. [2]

(i)

(ii)

10. Mae cwmni hedfan wedi defnyddio system bwcio seddau gyfrifiadurol ers blynyddoedd lawer.

(a) Rhwch **ddwy** fantais (*benefits*) i'r cwmni hedfan o ddefnyddio system bwcio seddau gyfrifiadurol. [2]

(i)

(ii)

(b) Mae Dadansoddydd Systemau wedi cael ei gyflogi gan y cwmni hedfan i ddiweddarau a gwella'r system bresennol.

Rhwch **ddwy** dasg neu weithgaredd y byddai'r Dadansoddydd Systemau'n ymgymryd â nhw ym **mhob un** o'r camau canlynol. 2 × [2]

Dadansoddi

(i)

(ii)

Dylunio

(i)

(ii)

