



Rewarding Learning

General Certificate of Secondary Education  
2011

Uimhir Lárionaid

--	--	--	--	--

Uimhir Iarrthóra

--	--	--	--

## Teicneolaíocht Faisnéise agus Cumarsáide

Cúrsa Iomlán

Páipéar 1  
Ardsraith



G5803

[G5803]

DÉ LUAIN 13 MEITHEAMH, IARNÓIN

AM

1 uair 30 nóiméad.

### TREOIR D'IARRTHÓIRÍ

Scríobh d'Uimhir Lárionaid agus d'Uimhir Iarrthóra sna spásanna chuige sin ag barr an leathanaigh seo.

Scríobh do fhreagraí sna spásanna chuige sin ar an scrúdpháipéar seo.

Comhlánaigh le peann gorm nó le peann dubh amháin.

**Ná scríobh le peann luaidhe ná le peann glóthaí.**

Freagair **gach ceann** de na **cúig** cheist **déag**.

### EOLAS D'IARRTHÓIRÍ

Is é 140 an marc iomlán don pháipéar seo, le 7 marc ar a mhéad ag dul do chaighdeán na cumarsáide scríofa.

Léiríonn figiúirí idir lúibíní ar thaobh na láimhe deise de leathanaigh na marcanna atá ag dul do gach ceist nó do gach cuid de cheist.

Don Scrúdaitheoir amháin	
Uimhir Ceiste	Marcanna
1	
2	
3	
4	
5	
6	
7	
8	
9	
10	
11	
12	
13	
14	
15	
CCS	

Marc Iomlán	
-------------	--

--

Do cheist 1 cuir isteach an litir chuí sa spás chuige sin.

Scrúdaitheoir Amháin

Marcanna Athmharc

1 (a) Is é is **víreas** ann:

- A Bogearraí a dearadh le ríomhaire a chosaint
- B Bogearraí a dearadh le dochar a dhéanamh don ríomhaire
- C Crua-earraí a dearadh le dochar a dhéanamh don ríomhaire
- D Crua-earraí a dearadh le ríomhaire a chosaint

Freagra \_\_\_\_\_ [1]

(b) Is é an dlí atá ann le ríomhairí a chosaint ar rochtain neamhúdaráithe.

- A An tAcht um Bainistiú Ríomhairí
- B An tAcht um Mí-Úsáid Ríomhairí
- C An tAcht um Mí-Úsáid Sonraí
- D An tAcht um Bainistiú Sonraí

Freagra \_\_\_\_\_ [1]

(c) Is é an dlí atá ann le sonraí pearsanta agus faisnéis phearsanta a chosaint.

- A An tAcht um Chosaint Sonraí
- B An tAcht um Shlándáil Sonraí
- C An tAcht um Chosaint Faisnéise
- D An tAcht um Shlándáil Faisnéise

Freagra \_\_\_\_\_ [1]

(d) Cén ráiteas anseo thíos **NACH** bhfuil **FÍOR** maidir le **splanc-chuimhne**?

- A Tá sí in úsáid i méaróga cuimhne
- B Ní féidir í a léirscriosadh
- C Tá sí in úsáid i bhfóin phóca
- D Níl aon pháirteanna gluaisteacha inti

Freagra \_\_\_\_\_ [1]

(e) Is é is feidhm le **gearrthaisce** ar ríomhaire:

- A Sonraí a stóráil nuair a mhúchtar an ríomhaire
- B Sonraí a stóráil faoi choinne an chórais oibriúcháin
- C Sonraí a stóráil le linn chóipeáil na sonraí céanna
- D Sonraí a stóráil le linn phriontáil na sonraí céanna

Freagra \_\_\_\_\_ [1]

(f) Leathanaigh ghréasáin:

- A Scríobhtar iad in HTML agus is féidir hipearnaisc a bheith ann
- B Scríobhtar iad in HTTP agus is féidir hipearnaisc a bheith ann
- C Ní féidir amharc orthu ach amháin ar-líne le linn ceangal a bheith ann leis an Idirlíon
- D Ní féidir iad a sheoladh ina gceangaltáin

Freagra \_\_\_\_\_ [1]

Scrúdaitheoir Amháin	
Marcanna	Athmharc

(g) Is é is ríomhthráchtáil ann:

- A Feidhm a bhaint as TFC le díolacháin agus orduithe a bhainistiú
- B Cumarsáid a dhéanamh le custaiméirí trí mheán an Idirlín
- C Earraí agus seirbhísí a cheannach agus a dhíol trí mheán an Idirlín
- D Feidhm a bhaint as líonraí le siopaí a cheangal ar dhóigh leictreonach

Freagra \_\_\_\_\_ [1]

(h) Is é is timfhilleadh téacs ann:

- A Téacs á chur taobh thiar d'íomhánna ar dhoiciméad priontáilte
- B Téacs á scrollú ag barr leathanach Gréasáin agus an leathanach lódáilte
- C Téacs beochana á theacht isteach ar shleamhnán i gcur i láthair
- D Téacs á chur ag sreabhadh go huathoibríoch thart ar ghrafach

Freagra \_\_\_\_\_ [1]

(i) Is é an toradh a bheidh ar chuardach a bheachtú agus inneall cuardaigh in úsáid agat:

- A Níos mó leathanach Gréasáin a fháil sna torthaí
- B Níos lú leathanach Gréasáin a fháil sna torthaí
- C Leathanaigh Ghréasáin á lódáil go huathoibríoch ar do scáileán
- D Slándáil sa bhreis agat agus tú ag obair ar an Idirlíon

Freagra \_\_\_\_\_ [1]

Scrúdaitheoir Amháin	
Marcanna	Athmharc



- 2 Tá 15 dhalta á dtabhairt ar thuras go Londain ag Áine. Tá scarbhileog curtha le chéile ag Áine i dtaca leis na costais.

Scrúdaitheoir Amháin

Marcanna Athmharc

	A	B	C	D	E	F	G
1	<b>Costais an Turais go Londain</b>						
2	<b>MÍR</b>	<b>Líon</b>	<b>Costas</b>	<b>Costas Iomlán</b>	<b>% Lascaine</b>	<b>Lascaine £</b>	<b>Iomlán le hÍoc</b>
3	Ticéad Bus Airporter	15	£ 20.00	£ 300.00	10%	£ 30.00	£ 270.00
4	Ticéad Eitleáin	15	£ 45.00	£ 675.00	5%	£ 33.75	£ 641.25
5	Ticéad Stansted Express	15	£ 20.00	£ 300.00	10%	£ 30.00	£ 270.00
6	Ticéad faoi choinne Wizard of Oz	10	£ 46.00	£ 460.00	15%	£ 69.00	£ 391.00
7	Ticéad don National Museum	5	£ 5.00	£ 25.00	5%	£ 1.25	£ 23.75
8	Ticéad don Globe Theatre	12	£ 18.00	£ 216.00	10%	£ 21.60	£ 194.40
9	Costas Óstáin	15	£150.00	£2,250.00	10%	£225.00	£2,025.00
10			£304.00	£4,226.00		£410.60	£3,815.40

- (a) Tá cló trom ar na cealla i *sraith 1*. Cén formáidiú eile atá déanta ar na cealla i *sraith 1*?

\_\_\_\_\_ [1]

- (b) Tá cuid den scarbhileog anseo thíos. Scríobh isteach sna spásanna chuige sin na **3 fhoirmle** a mbeifeá ag dúil leo.

	A	B	C	D	E	F	G
1	<b>Costais an turais go Londain</b>						
2	<b>MÍR</b>	<b>Líon</b>	<b>Costas</b>	<b>Costas Iomlán</b>	<b>% Lascaine</b>	<b>Lascaine £</b>	<b>Iomlán le hÍoc</b>
3	Ticéad Bus Airporter	15	£20.00	[1]	10%	[1]	[1]

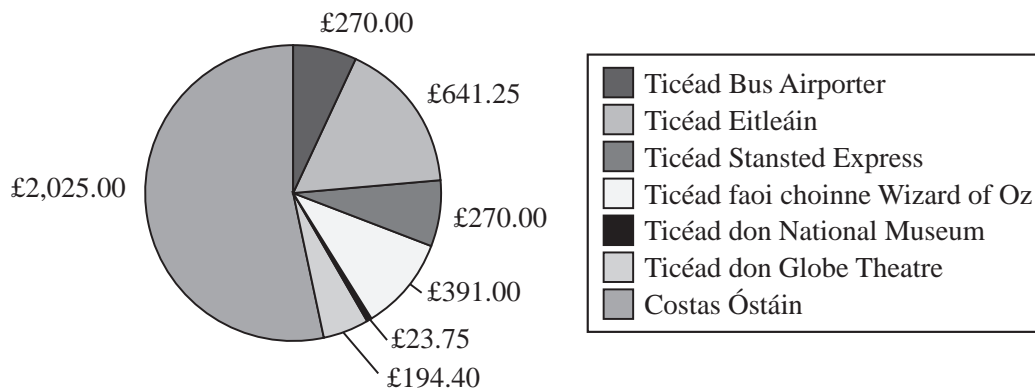
--	--

- (c) Tá socrú déanta ag Áine bailíochtú a chur leis an cholún % Lascaine. Sa tábla thíos, ticeáil (✓) an riail bhailíochtúcháin a thabharfaidh cead isteach do luachanna sa raon 0 go 100.

Riail Bhailíochtúcháin	Ticeáil
>0 agus <100	
>=0 agus <=100	
<0 agus >100	

[1]

- (d) Chruthaigh Áine ón scarbhileog an chairt thíos ina léirítear coimriú ar chostais an turais go Londain.



- (i) Ciorclaigh **eochair an eolais** ar an chairt.

[1]

- (ii) Cad é an fheidhm atá le **heochair eolais** ar aon chairt?

\_\_\_\_\_ [1]

- (iii) Luaigh na **tagairtí cille** den dá raon cille a d'úsáid Áine leis an chairt a chruthú.

Raon cille 1 \_\_\_\_\_

Raon cille 2 \_\_\_\_\_ [2]

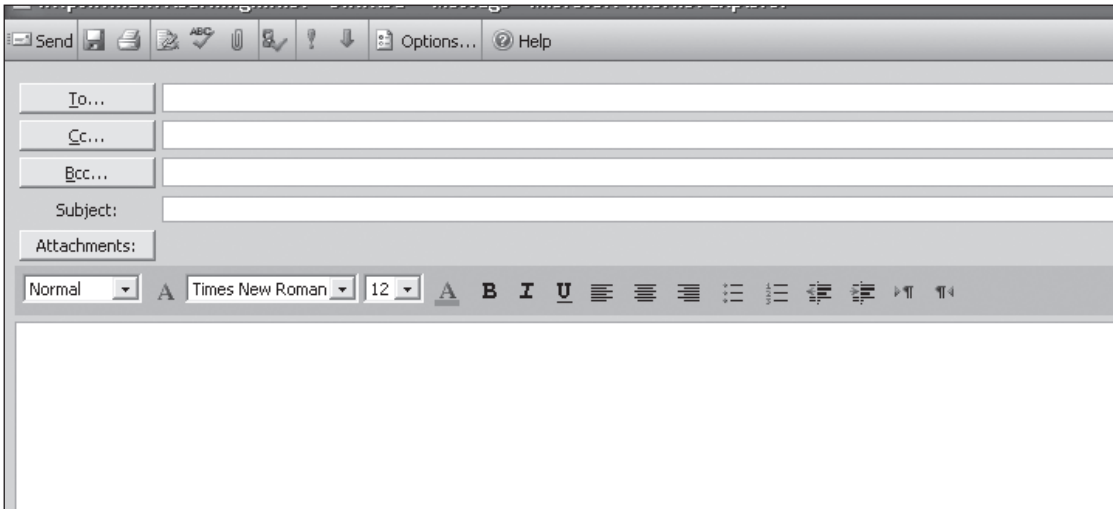
Scrúdaitheoir Amháin	Marcanna Athmharc





3 Dalta i mBliain 8 é Seán. Tá sé ag foghlaim faoi chúrsaí ríomhphoist ar scoil. Tá cuid de ríomhphost le feiceáil thíos.

Scrúdaitheoir Amháin
Marcanna Athmharc



(a) Míneigh do Sheán an difear idir **Cc** agus **Bcc**.

---



---



---



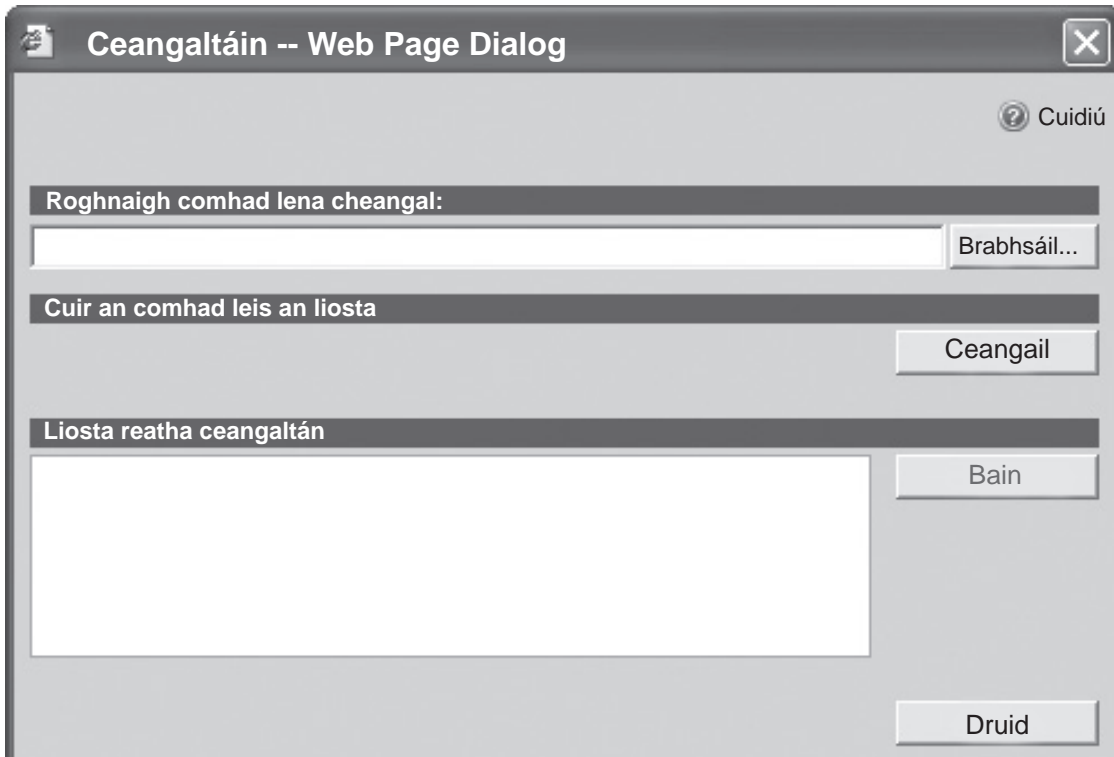
---

[2]

- (b) Ba mhaith le Seán feidhm a bhaint as ceangaltáin. Agus tagairt á déanamh agat do na cnaipí **Brabhsáil** agus **Ceangail** san fhuinneog thíos, cuir síos ar an dóigh ar féidir le Seán é seo a dhéanamh.

Scrúdaitheoir Amháin

Marcanna Athmharc



**Brabhsáil** \_\_\_\_\_

\_\_\_\_\_

**Ceangail** \_\_\_\_\_

\_\_\_\_\_ [2]







5 Tá comhlacht cuntasóireachta i ndiaidh bogearraí a cheannach le cur ar na ríomhairí nua ar líonra acu.

(a) Sa tábla thíos, cén píosa **Bogearraí** is fóirsteanáí leis an **Tasc** atá luaite a chur i gcrích? Ticeáil (✓) ceann **AMHÁIN** acu.

Tasc	Bogearraí
Áirimh airgeadais a dhéanamh ar shonraí i dtaobh custaiméirí.	<p>Ticeáil (✓) ceann <b>AMHÁIN</b>.</p> <p><input type="checkbox"/> Bunachar sonraí</p> <p><input type="checkbox"/> Scarbhileog</p> <p><input type="checkbox"/> Foilsitheoireacht deisce</p> <p><input type="checkbox"/> Ríomhphost</p>
Taifid ar chustaiméirí a stóráil gan sonraí athfhillteacha a bheith ann.	<p>Ticeáil (✓) ceann <b>AMHÁIN</b>.</p> <p><input type="checkbox"/> Bunachar sonraí</p> <p><input type="checkbox"/> Scarbhileog</p> <p><input type="checkbox"/> Foilsitheoireacht deisce</p> <p><input type="checkbox"/> Ríomhphost</p>
Fógrán a chruthú le fógraíocht a dhéanamh faoin chomhlacht.	<p>Ticeáil (✓) ceann <b>AMHÁIN</b>.</p> <p><input type="checkbox"/> Bunachar sonraí</p> <p><input type="checkbox"/> Scarbhileog</p> <p><input type="checkbox"/> Foilsitheoireacht deisce</p> <p><input type="checkbox"/> Ríomhphost</p>

[3]

Scrúdaitheoir Amháin	
Marcanna	Athmharc



6 Tá Caitríona i ndiaidh ríomhaire úr a cheannach. Tá roinnt mionsonraí faoin ríomhaire tugtha thíos.

Scrúdaitheoir Amháin

Marcanna	Athmharc

Marcanna	Athmharc

Próiseálaí	Intel® Pentium® Processor E5300 – 2.6 GHz – 800 MHz
Córas Oibriúcháin	Genuine Windows® 7 Home Premium 64-bit
RAM	2 GB
Taifeach scáileáin	1366 × 768
Méid an scáileáin	18.5"
Tiomántán crua	320 GB 7200 isn (rpm)
Tiomántán diosca optúil	Scríbhneoir DVDanna
Léitheoir cártaí cuimhne	Is ea
USB	6 phort USB 2.0 (2 chun tosaigh)
Móideim/Ethernet	Port RJ-45 Ethernet
Wi-Fi	Is ea
Bluetooth	Ní hea

(a) Is **GUI** é Operating System Genuine Windows® 7 Home Premium.

(i) Forbair an t-acrainm **GUI**.

\_\_\_\_\_ [1]



(ii) Luaigh agus mínigh **DHÁ** ghné a bhaineann le **CGU (GUI)**.

Gné 1 \_\_\_\_\_

Míniú: \_\_\_\_\_

\_\_\_\_\_

Gné 2 \_\_\_\_\_

Míniú: \_\_\_\_\_

\_\_\_\_\_ [4]

(b) Is é  $1366 \times 768$  an taifeach scáileáin atá ar an ríomhaire. Mínigh an téarma **taifeach** mar a bhaineann sé le scáileán ríomhaire.

\_\_\_\_\_

\_\_\_\_\_

\_\_\_\_\_

\_\_\_\_\_ [2]

(c) Tá 6 phort USB ar an ríomhaire. Cad é an fheidhm atá le port USB ar ríomhaire?

\_\_\_\_\_

\_\_\_\_\_ [1]

(d) Cad é an buntáiste as **léitheoir cártaí cuimhne** a bheith ar an ríomhaire?

\_\_\_\_\_ [1]

Scrúdaitheoir Amháin

Marcanna Athmharc

(e) Nuair a lastar an ríomhaire cuirtear tús le *bútáil*. Luaigh **3** rud a tharlaíonn le linn *bútála* ar ríomhaire.

1. \_\_\_\_\_
2. \_\_\_\_\_
3. \_\_\_\_\_ [3]

Scrúdaitheoir Amháin




Marcanna Athmharc

Marc Iomlán Ceist 6

7 Is codanna tábhachtacha de chóras ríomhaire ar bith gléasanna ionchurtha agus aschurtha.

(a) Ainmnigh na gléasanna **ionchurtha** atá léirithe thíos agus mínigh **AON** dóigh **AMHÁIN** inar féidir feidhm a bhaint astu le sonraí a ionchur i gcóras ríomhaire.

Scrúdaitheoir Amháin  
Marcanna Athmharc

Gléas	Ainm an Ghléis	Feidhm
<p>(i)</p>  <p>© <a href="http://www.teach-ict.com">http://www.teach-ict.com</a></p>	[1]	[1]
<p>(ii)</p>  <p>©iStockphoto/Thinkstock</p>	[1]	[1]
<p>(iii)</p>  <p>©Hemera/Thinkstock</p>	[1]	[1]



8 Tá múinteoir Béarla Jack le físchomhdháil a chur ar bun le file idirnáisiúnta agus leis an rang.

Scrúdaitheoir Amháin	
Marcanna	Athmharc

(a) Seachas ríomhaire, luaigh **DHÁ** phíosa crua-earraí a bheidh de dhíth ar an mhúinteoir le físchomhdháil a chur ar bun.

1. \_\_\_\_\_

2. \_\_\_\_\_ [2]

(b) Luaigh **DHÁ** bhuntáiste as físchomhdháil a úsáid sa chás seo.

1. \_\_\_\_\_

\_\_\_\_\_

2. \_\_\_\_\_

\_\_\_\_\_ [2]

(c) Tá bainisteoir líonra na scoile ag iarraidh ar an mhúinteoir an fhíschomhdháil a chur ar bun i ndiaidh am scoile.

Tá an fhíschomhdháil ann le linn am scoile. Cén tionchar a d'fhéadfadh a bheith aige i dtaca le húsáideoirí eile ar líonra na scoile?

\_\_\_\_\_

\_\_\_\_\_ [1]

Marc Iomlán Ceist 8	

9 Tá Aisling i ndiaidh bunachar sonraí a chruthú dá múinteoir maidir le sonraí gach dalta a gheobhaidh duais ar Lá Bronnta na nDuaiseanna sa scoil.

(a) Bain úsáid as na focail is cuí ón liosta thíos leis an fhaisnéis i dtaca le bunachair shonraí a chomhlánú. (Ní bhainfear úsáid as gach focal.)

réimsí foirm taifead comhad

tuairisc struchtúrtha nuashonraithe

Is é is bunachar sonraí ann bailiúchán \_\_\_\_\_ faisnéise.

\_\_\_\_\_ a thugtar ar gach iontráil i mbunachar faoi

dhuine nó faoi mhír.

Is féidir \_\_\_\_\_ a úsáid le sonraí a ionchur i mbunachar

sonraí.

[3]

Tá cuid den bhunachar a chruthaigh Aisling le feiceáil thíos.

ID Duaise	Ainm Duaise	Sloinne	Ainm	Bliainghrúpa	Le bheith i láthair?
1	Duais TFC	Irwin	Jane	8	<input checked="" type="checkbox"/>
2	Duais Mhatamaitice	Baird	Jake	8	<input checked="" type="checkbox"/>
3	Duais Bhéarla	Coleman	Brian	8	<input type="checkbox"/>
4	Duais Eolaíochta	Groves	Simon	8	<input checked="" type="checkbox"/>
5	Tinreamh den scoth	Smith	Leisa	8	<input checked="" type="checkbox"/>
6	Duais Cheoil	Brown	Emily	8	<input checked="" type="checkbox"/>
7	Duais Lúthchleasaíochta	Phillips	Alexander	8	<input checked="" type="checkbox"/>
8	Torthaí is fearr	Thomas	Cathy	8	<input type="checkbox"/>
9	Iarracht	Stanley	Peter	8	<input type="checkbox"/>
10	Duais TFC	Hicks	Myles	9	<input type="checkbox"/>
11	Duais Mhatamaitice	Dunlop	Molly	9	<input checked="" type="checkbox"/>
12	Duais Bhéarla	Irwin	Charlie	9	<input checked="" type="checkbox"/>
13	Duais Eolaíochta	Morris	Joseph	9	<input checked="" type="checkbox"/>
14	Tinreamh den scoth	Mains	John	9	<input type="checkbox"/>
15	Duais Cheoil	Knowles	Michael	9	<input checked="" type="checkbox"/>
16	Duais Lúthchleasaíochta	Peters	Petra	9	<input type="checkbox"/>
17	Torthaí is fearr	McDowell	Chris	9	<input checked="" type="checkbox"/>
18	Iarracht	Cowan	Eimer	9	<input type="checkbox"/>

(b) Rinne Aisling eochair-réimse de ID Duaise.

**NÍ BHEADH Ainm Duaise** fóirsteanach mar eochair-réimse. Luaigh fáth **AMHÁIN** le cad chuige.

\_\_\_\_\_ [1]

Scrúdaitheoir Amháin	
Marcanna	Athmharc

Bhain Aisling úsáid as an struchtúr thíos lena bunachar sonraí a chur ar bun.

Réimse	Cineál Sonraí
ID Duaise	Uimhir
Ainm Duaise	Téacs
Sloinne	Téacs
Ainm	Téacs
Bliainghrúpa	Uimhir
<i>Le bheith i láthair?</i>	

- (c) Luaigh cineál sonraí a bheadh fóirsteanach don réimse *Le bheith i láthair?*

\_\_\_\_\_ [1]

Ba mhaith le hAisling cuardach a dhéanamh sa bhunachar sonraí le teacht ar na daltaí uilig i mBliain 8 a bheidh i láthair ar Lá Bronnta na nDuaiseanna.

- (d) Sa tábla thíos, cuir tic (✓) taobh leis na critéir a thabharfaidh na torthaí cearta.

Critéir	Ticeáil (✓)
Bliainghrúpa = 8 NÓ Le bheith i láthair = Is ea	
Bliainghrúpa <> 8 AGUS Le bheith i láthair = Is ea	
Bliainghrúpa = 8 AGUS Le bheith i láthair = Is ea	
Bliainghrúpa > = 8 NÓ Le bheith i láthair = Is ea	

[1]

Scrúdaitheoir Amháin

Marcanna Athmharc

Tá an tuairisc thíos á cruthú ag Aisling dá múinteoir.

Scrúdaitheoir Amháin

Marcanna Athmharc

## Lá Bronnta na nDuaiseanna 2011

Bliainghrúpa	Sloinne	Ainm	ID Duaise	Ainm Duaise	Le bheith i láthair?
8					
	Baird	Jake	2	Duais Mhatamaitice	<input checked="" type="checkbox"/>
	Brown	Emily	6	Duais Cheoil	<input checked="" type="checkbox"/>
	Coleman	Brian	3	Duais Bhéarla	<input type="checkbox"/>
	Groves	Simon	4	Duais Eolaíochta	<input checked="" type="checkbox"/>
	Irwin	Jane	1	Duais TFC	<input checked="" type="checkbox"/>
	Phillips	Alexander	7	Duais Lúthchleasaíochta	<input checked="" type="checkbox"/>
	Smith	Leisa	5	Tinreamh den scoth	<input checked="" type="checkbox"/>
	Stanley	Peter	9	Iarracht	<input type="checkbox"/>
	Thomas	Cathy	8	Torthaí is fearr	<input type="checkbox"/>
9					
	Cowan	Eimer	18	Iarracht	<input type="checkbox"/>
	Dunlop	Molly	11	Duais Mhatamaitice	<input checked="" type="checkbox"/>
	Hicks	Myles	10	Duais TFC	<input type="checkbox"/>
	Irwin	Charlie	12	Duais Bhéarla	<input checked="" type="checkbox"/>
	Knowles	Michael	15	Duais Cheoil	<input checked="" type="checkbox"/>
	Mains	John	14	Tinreamh den scoth	<input type="checkbox"/>
	McDowell	Chris	17	Torthaí is fearr	<input checked="" type="checkbox"/>
	Morris	Joseph	13	Duais Eolaíochta	<input checked="" type="checkbox"/>
	Peters	Petra	16	Duais Lúthchleasaíochta	<input type="checkbox"/>





**10** Tá cinneadh le déanamh ag ollmhargadh áitiúil cé acu ba chóir dóibh córas **RAADP (EFTPOS)** a chur isteach nó nár chóir

Scrúdaitheoir Amháin

Marcanna	Athmharc

(a) Forbair an t-acrainm **RAADP (EFTPOS)**?

\_\_\_\_\_ [1]

(b) Ainmnigh **DHÁ** ghléas aschurtha a bhíonn in úsáid le córas RAADP (EFTPOS).

1. \_\_\_\_\_ [1]

2. \_\_\_\_\_ [1]

(c) (i) Luaigh **DHÁ** bhuntáiste a bheadh ann **don chustaiméir** as córas RAADP (EFTPOS) a chur isteach.

1. \_\_\_\_\_ [1]

2. \_\_\_\_\_ [1]

(ii) Luaigh **DHÁ** mhíbhuntáiste a bheadh ann **don ollmhargadh** as córas RAADP (EFTPOS) a chur isteach.

1. \_\_\_\_\_ [1]

2. \_\_\_\_\_ [1]





12 Tá Sarah i ndiaidh RP (PC) a cheannach ach ba mhaith léi fios a bheith aici faoi na cineálacha de mheáin stórála is féidir léi a úsáid.

(a) Maidir le gach meán, luaigh sa tábla thíos cé acu meán stórála **Maighnéadach** nó **Optúil** atá ann. Tá an chéad sraith déanta.

Meán	Maighnéadach nó Optúil?
 <p>©iStockphoto/Thinkstock</p>	Maighnéadach
 <p>©iStockphoto/Thinkstock</p>	
 <p>©iStockphoto/Thinkstock</p>	

[2]

Scrúdaitheoir Amháin	Marcanna Athmharc



**13** Caithfidh Daithí sonraí a thairfeadh maidir le hathruithe san aimsir thar thréimhse 3 seachtaine. Cuireann sé turgnamh logála sonraí ar bun le taifid a dhéanamh ar theocht agus bháisteach.

- (a) Seachas braiteoir teochta, ainmnigh **AON** bhraiteoir **AMHÁIN** eile a bheadh de dhíth air leis an turgnamh a dhéanamh.

\_\_\_\_\_ [1]

Tá **comhéadan** i gceist leis na braiteoirí a cheangal leis an ríomhaire i dturgnamh logála sonraí Dhaithí.

- (b) Cad chuige a bhfuil gá le **comhéadan**?

\_\_\_\_\_ [1]

- (c) Agus sonraí á logáil, luaigh buntáiste **AMHÁIN** a bheadh ag ríomhaire ar dhuine.

\_\_\_\_\_ [1]

Tá ríomhchóras rialúcháin a bhfuil aisfhotha ann, in úsáid i dteach gloine Dhaithí leis na leibhéil teochta agus bogthaise a chothabháil.

- (d) Sa tábla thíos ticeáil (✓) an míniú ceart ar an dóigh a n-úsáidtear aisfhotha sa chás seo.

Aisfhothú i gcóras teach gloine	Ticeáil (✓)
Déanann braiteoirí athruithe teochta agus bogthaise a thairfeadh agus lasfaidh na braiteoirí an teas nó na haisréadóirí más gá	
Déanann braiteoirí athruithe teochta agus bogthaise a thairfeadh agus lasfaidh an t-úsáideoir an teas nó na haisréadóirí más gá	
Déanann braiteoirí athruithe teochta agus bogthaise a thairfeadh agus lasfaidh an comhéadan an teas nó na haisréadóirí más gá	
Déanann braiteoirí athruithe teochta agus bogthaise a thairfeadh agus lasfaidh na próiseálaí an teas nó na haisréadóirí más gá	

[1]





**14** Tá LAN (líonra achair logánta) ar a bhfuil nasc Inlín agus nasc Idirlín in úsáid ag nuachtán náisiúnta.

Scrúdaitheoir Amháin
Marcanna Athmharc

(a) Luaigh **DHÁ** bhuntásite do lucht an nuachtáin as **LAN** a úsáid.

1. \_\_\_\_\_

2. \_\_\_\_\_ [2]

Is féidir le foireann an nuachtáin WWW (an Gréasán Domhanda) a úsáid le taighde a dhéanamh ar ailt atá le scríobh acu.

(b) Mínigh an difear atá ann idir an **Idirlíon** agus an **Gréasán Domhanda**.

\_\_\_\_\_

\_\_\_\_\_

\_\_\_\_\_

\_\_\_\_\_ [2]

(c) (i) Luaigh **DHÁ** dhifear atá ann idir **LAN** agus **WAN (Líonra Achair Fhairsing)**.

1. \_\_\_\_\_

2. \_\_\_\_\_ [2]

(ii) *Seachas ríomhaire*, ainmnigh **AON** phíosa **AMHÁIN** crua-earraí atá de dhíth le nasc a dhéanamh leis an Idirlíon.

\_\_\_\_\_ [1]

(iii) Ainmnigh **AON** phíosa **AMHÁIN** bogearraí atá de dhíth le nasc a dhéanamh leis an Idirlíon.

\_\_\_\_\_ [1]





---

## NÁ SCRÍOBH AR AN LEATHANACH SEO

---

Cuireadh isteach ar chead chun an t-ábhar cóipchirt uile a atáirgeadh.  
I gcásanna áirithe is féidir nár éirigh le CCEA teagmháil a dhéanamh le húinéirí cóipchirt agus beidh sé sásta na hadmhálacha sin a fágadh ar lár a chur ina gceart amach anseo ach é a chur ar an eolas.

6864.06R