



Rewarding Learning

General Certificate of Secondary Education  
2011

Uimhir Lárionaid

--	--	--	--	--

Uimhir Iarrthóra

--	--	--	--

## Teicneolaíocht Faisnéise agus Cumarsáide

Cúrsa Iomlán

Páipéar 1  
Bonnsraith



G5801

[G5801]

DÉ LUAIN 13 MEITHEAMH, IARNÓIN

AM

1 uair an chloig.

### TREOIR D'IARRTHÓIRÍ

Scríobh d'Uimhir Lárionaid agus d'Uimhir Iarrthóra sna spásanna chuige sin ag barr an leathanaigh seo.

Scríobh do fhreagraí sna spásanna chuige sin ar an scrúdpháipéar seo.

Comhlánaigh le peann gorm nó le peann dubh amháin.

**Ná scríobh le peann luaidhe ná le peann glóthaí.**

Freagair **gach ceann** de na **ceithre** cheist **déag**.

### EOLAS D'IARRTHÓIRÍ

Is é 100 an marc iomlán don pháipéar seo, le 5 mharc ar a mhéad ag dul do chaighdeán na cumarsáide scríofa.

Léiríonn figiúirí idir lúibíní ar thaobh na láimhe deise de leathanaigh na marcanna atá ag dul do gach ceist nó do gach cuid de cheist.

Don Scrúdaitheoir amháin

Uimhir Ceiste	Marcanna
1	
2	
3	
4	
5	
6	
7	
8	
9	
10	
11	
12	
13	
14	
CCS	

Marc Iomlán	
-------------	--

--

Do cheist 1 cuir isteach an litir chuí sa spás chuige sin.

Scrúdaitheoir Amháin	
Marcanna	Athmharc

1 (a) Is é is **víreas** ann:

- A Bogearraí a dearadh le ríomhaire a chosaint
- B Bogearraí a dearadh le dochar a dhéanamh don ríomhaire
- C Crua-earraí a dearadh le dochar a dhéanamh don ríomhaire
- D Crua-earraí a dearadh le ríomhaire a chosaint

Freagra \_\_\_\_\_ [1]

(b) Is é an dlí atá ann le ríomhairí a chosaint ar rochtain neamhúdaraíthe:

- A An tAcht um Bainistiú Ríomhairí
- B An tAcht um Mí-Úsáid Ríomhairí
- C An tAcht um Mí-Úsáid Sonraí
- D An tAcht um Bainistiú Sonraí

Freagra \_\_\_\_\_ [1]

(c) Is é an dlí atá ann le sonraí pearsanta agus faisnéis phearsanta a chosaint:

- A An tAcht um Chosaint Sonraí
- B An tAcht um Shlándáil Sonraí
- C An tAcht um Chosaint Faisnéise
- D An tAcht um Shlándáil Faisnéise

Freagra \_\_\_\_\_ [1]

(d) Cén ráiteas anseo thíos **NACH** bhfuil **FÍOR** maidir le **splanc-chuimhne**?

- A Tá sí in úsáid i méaróga cuimhne
- B Ní féidir í a léirscriosadh
- C Tá sí in úsáid i bhfóin phóca
- D Níl aon pháirteanna gluaisteacha inti

Freagra \_\_\_\_\_ [1]

(e) Is é is feidhm le **gearrthaisce** ar ríomhaire:

- A Sonraí a stóráil nuair a mhúchtar an ríomhaire
- B Sonraí a stóráil faoi choinne an chórais oibriúcháin
- C Sonraí a stóráil le linn chóipeáil na sonraí céanna
- D Sonraí a stóráil le linn phriontáil na sonraí céanna

Freagra \_\_\_\_\_ [1]

(f) Leathanaigh ghréasáin:

- A Scríobhtar iad in HTML agus is féidir hipearnaisc a bheith ann
- B Scríobhtar iad in HTTP agus is féidir hipearnaisc a bheith ann
- C Ní féidir amharc orthu ach amháin ar-líne le linn ceangal a bheith ann leis an Idirlíon
- D Ní féidir iad a sheoladh ina gceangaltáin

Freagra \_\_\_\_\_ [1]

Scrúdaitheoir Amháin

Marcanna Athmharc

(g) Is é is ríomhthráchtáil ann:

- A Feidhm a bhaint as TFC le díolacháin agus orduithe a bhainistiú
- B Cumarsáid a dhéanamh le custaiméirí trí mheán an Idirlín
- C Earraí agus seirbhísí a cheannach agus a dhíol trí mheán an Idirlín
- D Feidhm a bhaint as líonraí le siopaí a cheangal ar dhóigh leictreonach

Freagra \_\_\_\_\_ [1]

(h) Is é is timfhilleadh téacs ann:

- A Téacs á chur taobh thiar d'íomhánna ar dhoiciméad priontáilte
- B Téacs á scrollú ag barr leathanach Gréasáin agus an leathanach lódáilte
- C Téacs beochana á theacht isteach ar shleamhnán i gcur i láthair
- D Téacs á chur ag sreabhadh go huathoibríoch thart ar ghrafach

Freagra \_\_\_\_\_ [1]

(i) Is é an toradh a bheidh ar chuardach a bheachtú agus inneall cuardaigh in úsáid agat:

- A Níos mó leathanach Gréasáin a fháil sna torthaí
- B Níos lú leathanach Gréasáin a fháil sna torthaí
- C Leathanaigh Ghréasáin á lódáil go huathoibríoch ar do scáileán
- D Slándáil sa bhreis agat agus tú ag obair ar an Idirlíon

Freagra \_\_\_\_\_ [1]



- 2 Tá 15 dhalta á dtabhairt ar thuras go Londain ag Áine. Tá scarbhileog curtha le chéile ag Áine i dtaca leis na costais.

Scrúdaitheoir Amháin  
Marcanna Athmharc

	A	B	C	D	E	F	G
<b>1</b>	<b>Costais an Turais go Londain</b>						
<b>2</b>	<b>MÍR</b>	<b>Líon</b>	<b>Costas</b>	<b>Costas Iomlán</b>	<b>% Lascaine</b>	<b>Lascaine £</b>	<b>Iomlán le hÍoc</b>
<b>3</b>	Ticéad Bus Airporter	15	£ 20.00	£ 300.00	10%	£ 30.00	£ 270.00
<b>4</b>	Ticéad Eitleáin	15	£ 45.00	£ 675.00	5%	£ 33.75	£ 641.25
<b>5</b>	Ticéad Stansted Express	15	£ 20.00	£ 300.00	10%	£ 30.00	£ 270.00
<b>6</b>	Ticéad faoi choinne Wizard of Oz	10	£ 46.00	£ 460.00	15%	£ 69.00	£ 391.00
<b>7</b>	Ticéad don National Museum	5	£ 5.00	£ 25.00	5%	£ 1.25	£ 23.75
<b>8</b>	Ticéad don Globe Theatre	12	£ 18.00	£ 216.00	10%	£ 21.60	£ 194.40
<b>9</b>	Costas Óstáin	15	£ 150.00	£ 2,250.00	10%	£ 225.00	£ 2,025.00
<b>10</b>			£ 304.00	£ 4,226.00		£ 410.60	£ 3,815.40

- (a) Tá cló trom ar na cealla i *sraith 1*. Cén formáidiú eile atá déanta ar na cealla i *sraith 1*?

\_\_\_\_\_ [1]

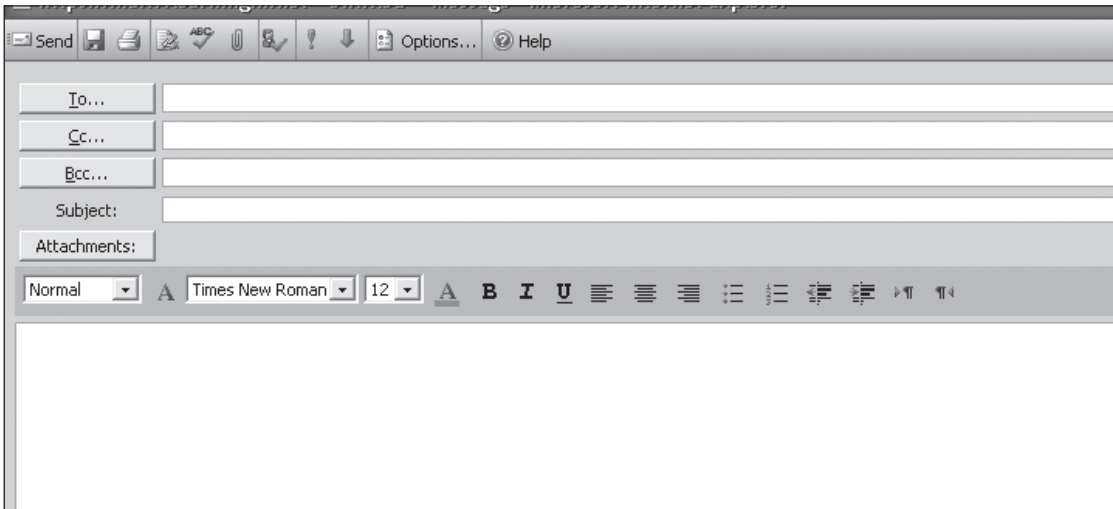
- (b) Tá cuid den scarbhileog anseo thíos. Scríobh isteach sna spásanna chuige sin na **3 fhoirmle** a mbeifeá ag dúil leo.

	A	B	C	D	E	F	G
<b>1</b>	<b>Costais an turais go Londain</b>						
<b>2</b>	<b>MÍR</b>	<b>Líon</b>	<b>Costas</b>	<b>Costas Iomlán</b>	<b>% Lascaine</b>	<b>Lascaine £</b>	<b>Iomlán le hÍoc</b>
<b>3</b>	Ticéad Bus Airporter	15	£ 20.00		10%		
				[1]		[1]	[1]



- 3 Dalta i mBliain 8 é Seán. Tá sé ag foghlaim faoi chúrsaí ríomhphoist ar scoil.  
Tá cuid d’fhuinneog córas ríomhphoist le feiceáil thíos.

Scrúdaítheoir Amháin  
Marcanna Athmharc



- (a) Míneigh do Sheán an difear idir **Cc** agus **Bcc**.

---



---



---



---

[2]





**4** Tá comhlacht cuntasóireachta i ndiaidh bogearraí a cheannach le cur ar na ríomhairí nua ar líonra acu.

(a) Sa tábla thíos cén píosa **bogearraí** is fóirsteanáí leis an **Tasc** atá luaite a chur i gcrích? Ticeáil (✓) píosa **AMHÁIN** i ngach sraith.

Scrúdaitheoir Amháin

Marcanna Athmharc

Tasc	Bogearraí
Áirimh airgeadais a dhéanamh ar shonraí i dtaobh custaiméirí.	Ticeáil (✓) ceann <b>AMHÁIN</b> . <input type="checkbox"/> Bunachar sonraí <input type="checkbox"/> Scarbhileog <input type="checkbox"/> Foilsitheoireacht deisce <input type="checkbox"/> Ríomhphost
Taifid ar chustaiméirí a stóráil gan sonraí athfhillteacha	Ticeáil (✓) ceann <b>AMHÁIN</b> . <input type="checkbox"/> Bunachar sonraí <input type="checkbox"/> Scarbhileog <input type="checkbox"/> Foilsitheoireacht deisce <input type="checkbox"/> Ríomhphost
Fógrán a chruthú le fógraíocht a dhéanamh faoin chomhlacht	Ticeáil (✓) ceann <b>AMHÁIN</b> . <input type="checkbox"/> Bunachar sonraí <input type="checkbox"/> Scarbhileog <input type="checkbox"/> Foilsitheoireacht deisce <input type="checkbox"/> Ríomhphost

[3]



5 Tá Caitríona i ndiaidh ríomhaire nua a cheannach. Tá roinnt mionsonraí faoin ríomhaire tugtha thíos.

Scrúdaitheoir Amháin  
 Marcanna Athmharc

Próiseálaí	Intel® Pentium® Processor E5300 – 2.6 GHz – 800 MHz
Córas Oibriúcháin	Genuine Windows® 7 Home Premium 64-bit
RAM	2 GB
Taifeach scáileáin	1366 × 768
Méid an scáileáin	18.5"
Tiomántán cruá	320 GB 7200 isn (rpm)
Tiomántán diosca optúil	Scríbhneoir DVDanna
Léitheoir cártaí cuimhne	Is ea
USB	6 phort USB 2.0 (2 chun tosaigh)
Móideim/Ethernet	Port RJ-45 Ethernet
Wi-Fi	Is ea
Bluetooth	Ní hea

(a) Is **CGU (GUI)** é Operating System Genuine Windows® 7 Home Premium.

(i) Cad é dó a seasann na litreacha **CGU (GUI)**?

\_\_\_\_\_ [1]

(ii) Luaigh agus mínigh gné **AMHÁIN** a bhaineann le **CGU (GUI)**.

Gné: \_\_\_\_\_

Míniú: \_\_\_\_\_

\_\_\_\_\_ [2]

(b) Cén fheidhm a thiocfadh le Cairtróna a bhaint as **tiomántán diosca optúil**?

\_\_\_\_\_

\_\_\_\_\_ [1]

(c) Tá 6 phort USB ar an ríomhaire. Luaigh **DHÁ** dhóigh inar féidir le Cairtróna feidhm a bhaint as poirt USB.

1. \_\_\_\_\_

2. \_\_\_\_\_ [2]

(d) Cad é an buntáiste as **léitheoir cártaí cuimhne** a bheith ar an ríomhaire?

\_\_\_\_\_

\_\_\_\_\_ [1]

Scrúdaitheoir Amháin



Marcanna Athmharc

Marc Iomlán Ceist 5

6 Is codanna tábhachtacha de chóras ríomhaire ar bith gléasanna ionchurtha agus aschurtha.

(a) Ainmnigh na gléasanna ionchurtha atá léirithe thíos agus mínigh AON dóigh AMHÁIN inar féidir feidhm a bhaint astu le sonraí a ionchur i gcóras ríomhaire.

Scrúdaítheoir Amháin  
Marcanna Athmharc

Gléas	Ainm an Ghléis	Feidhm
<p>(i)</p>  <p>© <a href="http://www.teach-ict.com">http://www.teach-ict.com</a></p>	[1]	[1]
<p>(ii)</p>  <p>©iStockphoto/Thinkstock</p>	[1]	[1]
<p>(iii)</p>  <p>©Hemera/Thinkstock</p>	[1]	[1]







**LEATHANACH BÁN**

**(Leantar leis na ceisteanna ar an chéad leathanach eile)**

8 Tá Aisling i ndiaidh bunachar sonraí a chruthú dá múinteoir maidir le sonraí gach dalta a gheobhaidh duais ag Lá Bronnta na nDuaiseanna sa scoil.

(a) Bain úsáid as na focail thíos leis na habairtí a chomhlánú. (Ná húsáid focal ar bith níos mó ná aon uair amháin.)

**foirm                      taifead                      eagraithe**

Is é is bunachar sonraí ann bailiúchán \_\_\_\_\_

faisnéise.

\_\_\_\_\_ a thugtar ar gach iontráil i mbunachar sonraí faoi dhuine nó faoi mhír.

Is féidir \_\_\_\_\_ a úsáid le sonraí a ionchur i mbunachar sonraí.

[3]

Tá cuid den bhunachar sonraí a chruthaigh Aisling le feiceáil thíos.

ID Duaise	Ainm Duaise	Sloinne	Ainm	Bliainghrúpa	Le bheith i láthair?
1	Duais TFC	Irwin	Jane	8	<input checked="" type="checkbox"/>
2	Duais Mhatamaitice	Baird	Jake	8	<input checked="" type="checkbox"/>
3	Duais Bhéarla	Coleman	Brian	8	<input type="checkbox"/>
4	Duais Eolaíochta	Groves	Simon	8	<input checked="" type="checkbox"/>
5	Tinreamh den scoth	Smith	Leisa	8	<input checked="" type="checkbox"/>
6	Duais Cheoil	Brown	Emily	8	<input checked="" type="checkbox"/>
7	Duais Lúthchleasaíochta	Phillips	Alexander	8	<input checked="" type="checkbox"/>
8	Torthaí is fearr	Thomas	Cathy	8	<input type="checkbox"/>
9	Iarracht	Stanley	Peter	8	<input type="checkbox"/>
10	Duais TFC	Hicks	Myles	9	<input type="checkbox"/>
11	Duais Mhatamaitice	Dunlop	Molly	9	<input checked="" type="checkbox"/>
12	Duais Bhéarla	Irwin	Charlie	9	<input checked="" type="checkbox"/>
13	Duais Eolaíochta	Morris	Joseph	9	<input checked="" type="checkbox"/>
14	Tinreamh den scoth	Mains	John	9	<input type="checkbox"/>
15	Duais Cheoil	Knowles	Michael	9	<input checked="" type="checkbox"/>
16	Duais Lúthchleasaíochta	Peters	Petra	9	<input type="checkbox"/>
17	Torthaí is fearr	McDowell	Chris	9	<input checked="" type="checkbox"/>
18	Iarracht	Cowan	Eimer	9	<input type="checkbox"/>

**(b) (i)** Mí­nigh cad é atá i gceist le **heochair-réimse**.

\_\_\_\_\_ [1]

**(ii)** Luaigh eochair-réimse a bheadh fóirsteanach do na sonraí sa tábla thuas.

\_\_\_\_\_ [1]

**Leantar le ceist 8 ar an chéad leathanach eile**

Scrúdaítheoir Amháin	
Marcanna	Athmharc

Tá an tuairisc thíos á cruthú ag Aisling dá múinteoir.

Scrúdaítheoir Amháin  
Marcanna Athmharc

### Lá Bronnta na nDuaiseanna 2011

Bliainghrúpa	Sloinne	Ainm	ID Duaise	Ainm Duaise	Le bheith i láthair?
8					
	Baird	Jake	2	Duais Mhatamaitice	<input checked="" type="checkbox"/>
	Brown	Emily	6	Duais Cheoil	<input checked="" type="checkbox"/>
	Coleman	Brian	3	Duais Bhéarla	<input type="checkbox"/>
	Groves	Simon	4	Duais Eolaíochta	<input checked="" type="checkbox"/>
	Irwin	Jane	1	Duais TFC	<input checked="" type="checkbox"/>
	Phillips	Alexander	7	Duais Lúthchleasaíochta	<input checked="" type="checkbox"/>
	Smith	Leisa	5	Tinreamh den scoth	<input checked="" type="checkbox"/>
	Stanley	Peter	9	Iarracht	<input type="checkbox"/>
	Thomas	Cathy	8	Torthaí is fearr	<input type="checkbox"/>
9					
	Cowan	Eimer	18	Iarracht	<input type="checkbox"/>
	Dunlop	Molly	11	Duais Mhatamaitice	<input checked="" type="checkbox"/>
	Hicks	Myles	10	Duais TFC	<input type="checkbox"/>
	Irwin	Charlie	12	Duais Bhéarla	<input checked="" type="checkbox"/>
	Knowles	Michael	15	Duais Cheoil	<input checked="" type="checkbox"/>
	Mains	John	14	Tinreamh den scoth	<input type="checkbox"/>
	McDowell	Chris	17	Torthaí is fearr	<input checked="" type="checkbox"/>
	Morris	Joseph	13	Duais Eolaíochta	<input checked="" type="checkbox"/>
	Peters	Petra	16	Duais Lúthchleasaíochta	<input type="checkbox"/>

(c) Ticeáil (✓) ráiteas **AMHÁIN** sa tábla thíos atá **FÍOR** i dtaca le formáidiú na tuairisce de.

Formáidiú	Ticeáil (✓)
Rinneadh an tuairisc a ghrúpáil de réir Le bheith i láthair	
Rinneadh an tuairisc a ghrúpáil de réir Bliainghrúpa	
Rinneadh an tuairisc a ghrúpáil de réir Sloinne	

[1]



9 Tá cinneadh le déanamh ag ollmhargadh áitiúil cé acu ba chóir dóibh córas **CDPL (EPOS)** a chur isteach nó nár chóir.

Scrúdaitheoir Amháin	
Marcanna	Athmharc

(a) Cad é dó a seasann **CDPL (EPOS)**?

\_\_\_\_\_ [1]

(b) Ainmnigh **DHÁ** ghléas aschurtha a bhíonn in úsáid le córas CDPL (EPOS).

1. \_\_\_\_\_ [1]

2. \_\_\_\_\_ [1]

(c) Luaigh **DHÁ** mhíbhuntáiste a bheadh ann **don ollmhargadh** as córas CDPL (EPOS) a chur isteach.

1. \_\_\_\_\_ [1]

2. \_\_\_\_\_ [1]

Is féidir barrachóid ar tháirgí a scanadh le córas CDPL (EPOS) nuair a bhíonn táirgí á gceannach.

(d) Luaigh **AON** phíosá **AMHÁIN** sonraí a bhíonn ann mar chuid de bharrachód.

\_\_\_\_\_ [1]

Marc Iomlán Ceist 9	

**10** Baineann bainc sa lá atá inniu ann feidhm as TFC ar bhonn fairsing.

Is féidir le custaiméirí a gcuid cuntas a bhainistiú ar-líne nó ar an ghuthán.

- (a) Sa tábla thíos, ticeáil (✓) **DHÁ** thasc is féidir le custaiméir a dhéanamh ar-líne.

Baincéireacht ar-líne	Ticeáil (✓)
Airgead a aistriú	
Airgead a aistarraingt	
Billí a íoc	
Seiceanna a phriontáil	

[2]

- (b) Luaigh fáth **AMHÁIN** nach mbeadh gach custaiméir ag iarraidh a gcuid cuntas a bhainistiú ar an dóigh seo.

\_\_\_\_\_ [1]

Baineann custaiméirí feidhm as **UAP** (PIN) lena gcuntas a choinneáil slán le linn dóibh uathmheaisín bainc UMB (ATM) a úsáid.

- (c) Cad é dó a seasann na litreacha **UAP** (PIN)?

\_\_\_\_\_ [1]

Is féidir le bainc stiall mhaighnéadach nó micrishlis a úsáid le sonraí a stóráil ar chártaí bainc custaiméirí.

- (d) Luaigh **DHÁ** dhifear atá ann idir **stiallchárta maighnéadach** agus cárta **micrishlise**.

1. \_\_\_\_\_ [1]

2. \_\_\_\_\_ [1]

11 Tá Sarah i ndiaidh RP (PC) a cheannach ach ba mhaith léi fios a bheith aici faoi na cineálacha de mheáin stórála is féidir léi a úsáid.

(a) Maidir le gach meán, luaigh sa tábla thíos cé acu meán stórála **Maighnéadach** nó **Optúil** atá ann. Tá an chéad sraith déanta.

Meán	Maighnéadach nó Optúil?
 <p>©iStockphoto/Thinkstock</p>	<p><b>Maighnéadach</b></p>
 <p>©iStockphoto/Thinkstock</p>	
 <p>©iStockphoto/Thinkstock</p>	

[2]



- (b) Liostaigh na gléasanna stórála thíos de réir luas aisghabhála sonraí. Tosaigh leis an ghléas is gasta.

	diosca crua	príomhchuimhne	CD-ROM	
Is gasta	1.	_____	_____	[1]
↓		2.	_____	[1]
Is moille	3.	_____	_____	[1]

Tá diosca crua 160 GB, RAM 2 GB agus **cuidhne thaisce** 1 GB ar ríomhaire Sarah.

- (c) Luaigh gléas stórála **AMHÁIN** a thiocfadh le Sarah a úsáid le cóip chúlta a dhéanamh dá bhfuil ar an ríomhaire.

\_\_\_\_\_ [1]

Scrúdaitheoir Amháin	
Marcanna	Athmharc
Marc Iomlán Ceist 11	

**12** Caithfidh Daithí sonraí a thairfeadh maidir le teocht agus báisteach.

Scrúdaitheoir Amháin	
Marcanna	Athmharc

- (a) Ainmnigh **AON** bhraiteoir **AMHÁIN** is féidir leis a úsáid sa turgnamh.

\_\_\_\_\_ [1]

- (b) Luaigh buntáiste **AMHÁIN** as ríomhaire a úsáid le sonraí a thairfeadh ar an dóigh seo.

\_\_\_\_\_ [1]

Tá ríomhchóras rialúcháin ina bhfuil aifhotha ar fáil, in úsáid i dteach gloine Dhaithí.

- (c) Sa tábla thíos, ticeáil (✓) an ráiteas atá fíor maidir leis an dóigh a mbíonn **aifhotha** ag feidhmiú.

Cur Síos	Ticeáil (✓)
Bíonn tionchar ag an ionchur sa chóras ar na luachanna aschurtha	
Bíonn tionchar ag an aschur ón chóras ar na luachanna ionchurtha	
Ní bhíonn tionchar riamh ar na luachanna aschurtha	
Ní bhíonn tionchar riamh ar na luachanna ionchurtha	

[1]

Marc Iomlán Ceist 12	

**13** Tá LAN (Líonra Achair Logánta) agus nasc Idirlín in úsáid ag nuachtán náisiúnta.

(a) Luaigh **DHÁ** bhuntáiste do lucht an nuachtáin as **LAN** a úsáid.

1. \_\_\_\_\_

2. \_\_\_\_\_ [2]

Is féidir le foireann an nuachtáin WWW (an Gréasán Domhanda) a úsáid le taighde a dhéanamh ar ailt atá le scríobh acu.

(b) Mínigh an difear atá ann idir **an tIdirlíon** agus **an Gréasán Domhanda**.

\_\_\_\_\_

\_\_\_\_\_ [2]

Is sampla é an tIdirlíon de WAN (Líonra Achair Fhairsing).

(c) Luaigh **DHÁ** dhifear atá ann idir **LAN** agus **WAN**.

1. \_\_\_\_\_

2. \_\_\_\_\_ [2]

Tá an LAN in úsáid ag an nuachtán chomh maith le sonraí pearsanta ar fhostaithe a stóráil.

(d) Ainmnigh **AON** mhodh slándála **AMHÁIN** is féidir le lucht an nuachtáin a úsáid lena chinntiú go gcoinneofar sonraí ar an LAN slán ar úsáideoirí inmheánacha.

\_\_\_\_\_ [1]



---

**SEO DEIREADH AN SCRÚDPHÁIPÉIR**

---

---

**NÁ SCRÍOBH AR AN LEATHANACH SEO**

---

---

**NÁ SCRÍOBH AR AN LEATHANACH SEO**

---

---

## NÁ SCRÍOBH AR AN LEATHANACH SEO

---

Cuireadh isteach ar chead chun an t-ábhar cóipchirt uile a atáirgeadh.  
I gcásanna áirithe is féidir nár éirigh le CCEA teagmháil a dhéanamh le húinéirí cóipchirt agus beidh sé sásta na hadmhálacha sin a fágadh ar lár a chur ina gceart amach anseo ach é a chur ar an eolas.