

Enw'r Ymgeisydd	Rhif y Ganolfan	Rhif yr Ymgeisydd

CYD-BWYLLGOR ADDYSG CYMRU  
Tystysgrif Gyffredinol Addysg Uwchradd



WELSH JOINT EDUCATION COMMITTEE  
General Certificate of Secondary Education

143/52

**DYLUNIO A THECHNOLEG**

**PAPUR 2**

**MAES PENODOL: TECHNOLEG TECSTILAU**

(Haen Sylfaenol – Graddau G i C)

P.M. DYDD MAWRTH, 5 Mehefin 2007

(1½ awr)

	<b>Gadewch yn wag</b>
<b>Cwestiwn 1</b>	
<b>Cwestiwn 2</b>	
<b>Cwestiwn 3</b>	
<b>Cwestiwn 4</b>	
<b>Cwestiwn 5</b>	
<b>CYFANSWM Y MARCIAU</b>	

**DEUNYDDIAU YCHWANEGOL**

Yn ogystal â'r papur arholiad hwn bydd angen pensiliau lliw arnoch.

**CYFARWYDDIADAU I YMGEISWYR**

Ysgrifennwch eich enw, rhif y ganolfan a'ch rhif ymgeisydd yn y blychau ar ben y dudalen hon.

Atebwch **bob** cwestiwn.

Ysgrifennwch eich atebion yn y lleoedd gwag priodol yn y llyfryn hwn. Os nad oes gennych ddiagon o le, cewch barhau â'ch ateb yng nghefn y llyfryn, gan ofalu nodi rhif y cwestiwn yn gywir.

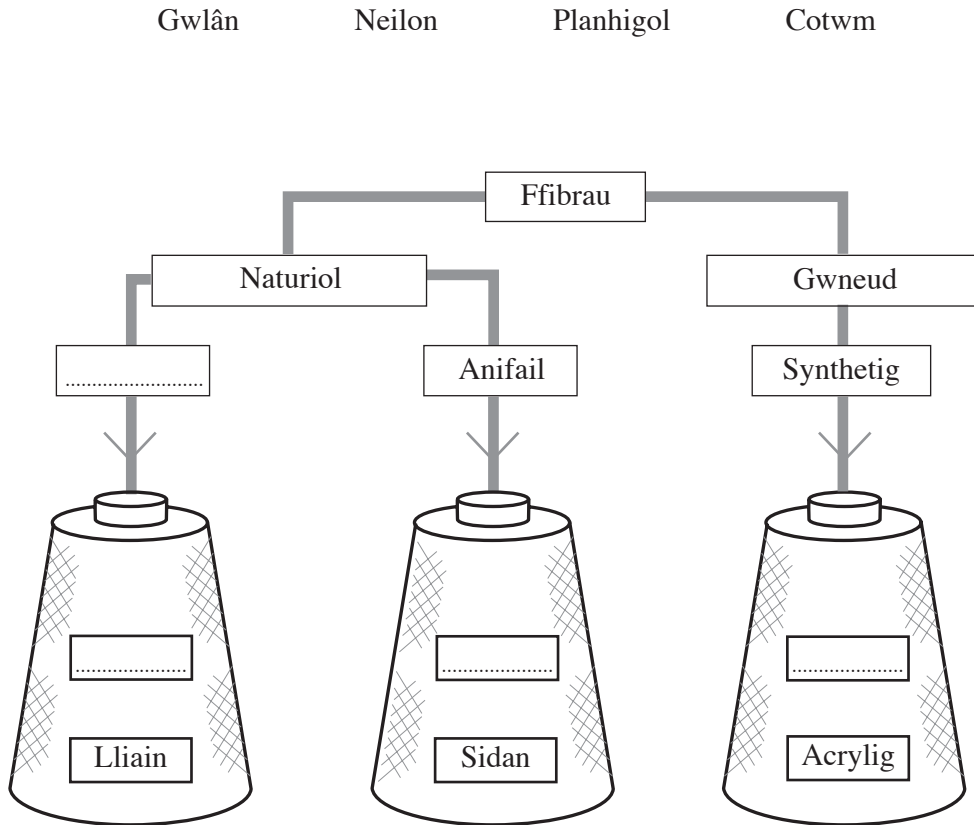
**GWYBODAETH I YMGEISWYR**

Dangosir nifer y marciau mewn cromfachau ar ddiwedd pob cwestiwn neu ran o gwestiwn.

Ni roddir tystysgrif i ymgeisydd a geir yn ymddwyn yn annheg yn ystod yr arholiad.

Atebwch **bob** cwestiwn yn y lleoedd gwag priodol.

1. (a) **Rhowch bob un** o'r ffibrau yn y rhestr isod o dan y ffynhonnell gywir. [4]



- (b) **Ticiwch (✓)** y **ddwy** frawddeg ganlynol sy'n gywir. [2]

- Nid yw Lycra yn ymestyn.
- Gall ffibrau gael eu cordeddu (*twisted*) â'i gilydd i ffurfio edau.
- Mae sidan yn fflamadwy.
- Mae ffibrau moher (*mohair*) yn tyfu ar anifeiliaid.

(c) Mae'r tri diagram isod yn dangos dulliau gwahanol o wneud defnyddiau. O'r rhestr sy'n dilyn, **dewiswch** yr enw cywir ar gyfer **pob** dull. [3]

Gwau


Laminiadu

Bondio

Gwehyddu



Dull 1



Dull 2



Dull 3

.....

(ch) Mae angen priodweddau ynysu (*insulation*) da a phriodweddau amsugno isel ar y defnydd a ddefnyddir i wneud siaced sgïo fel yr un a ddangosir isod.



Gan ddefnyddio nodiadau a/neu frasluniau, **disgrifiwch** brawf syml y gallech ei ddefnyddio i gymharu priodweddau ynysu defnyddiau sy'n cael eu hystyried ar gyfer y siaced sgïo. [5]

.....  
.....  
.....  
.....  
.....  
.....

- (d) **Disgrifiwch un** nodwedd ddylunio ar siaced sgiö a allai helpu i wella diogelwch ar gyfer y sgiöwr. [2]

---

---

---

# TUDALEN WAG

2. (a) Gan ddefnyddio'r rhestr o liwiau isod, **atebwch** y cwestiynau sy'n dilyn.

GWYRDD                      PORFFOR                      MELYN                      BROWN

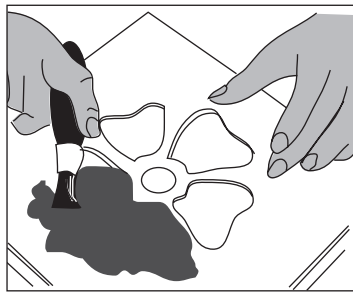
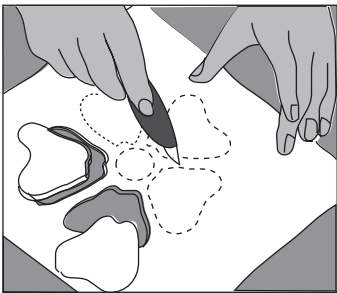
(i) **Nodwch** y lliw sylfaenol yn y rhestr. .... [1]

(ii) **Nodwch** y **ddau** liw eilaidd yn y rhestr. [2]

.....

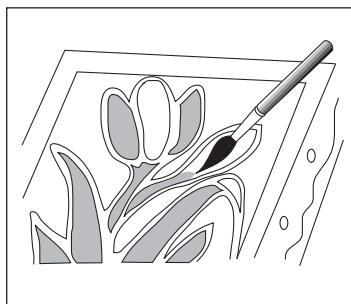
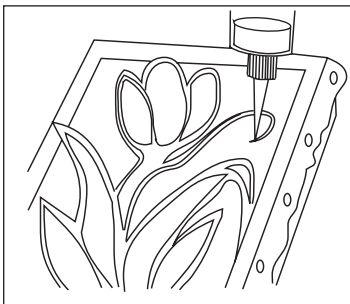
(b) Mae'r lluniau isod yn dangos rhai ffyrdd gwahanol o roi patrwm ar ddefnyddiau tecstil. **Enwch** bob dull. [4]

I



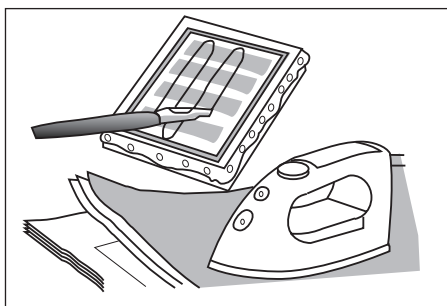
.....

II



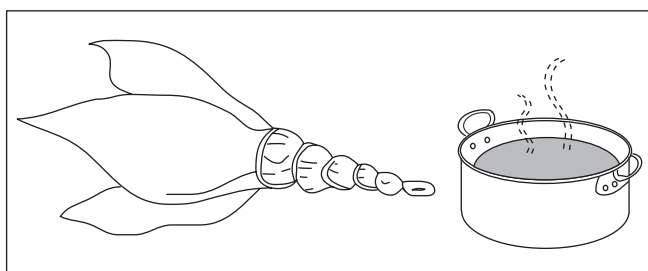
.....

III



.....

IV



.....

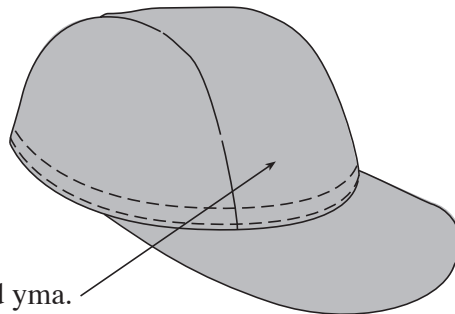
- (c) **Cwblhewch** y tabl isod i **ddisgrifio**’r prif gamau y byddech yn eu dilyn wrth ddefnyddio **un** o’r dulliau a enwyd gennych yn rhan (b). [5]

Dull a ddewiswyd .....

Cam	Disgrifiad
1	.....
2	.....
3	.....
4	.....
5	.....


- (ch) Mae’r braslun isod yn dangos cap pêl-fas a gaiff ei wisgo mewn digwyddiad chwaraeon.

Bydd logo yn cael ei roi ar y cap pêl-fas, gan ddefnyddio *appliqué* neu frodwaith. **Dyluniwch logo chwaraeon** addas y gellir ei roi ar y cap. Ychwanegwch nodiadau i esbonio eich syniad. [5]



Caiff y logo ei osod yma.

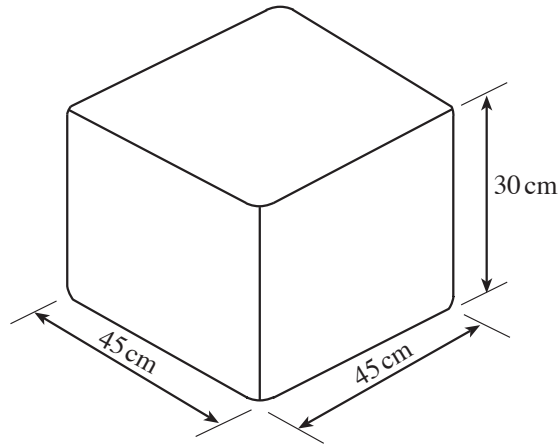
**Lluniadwch** eich syniad yn y cylch isod.



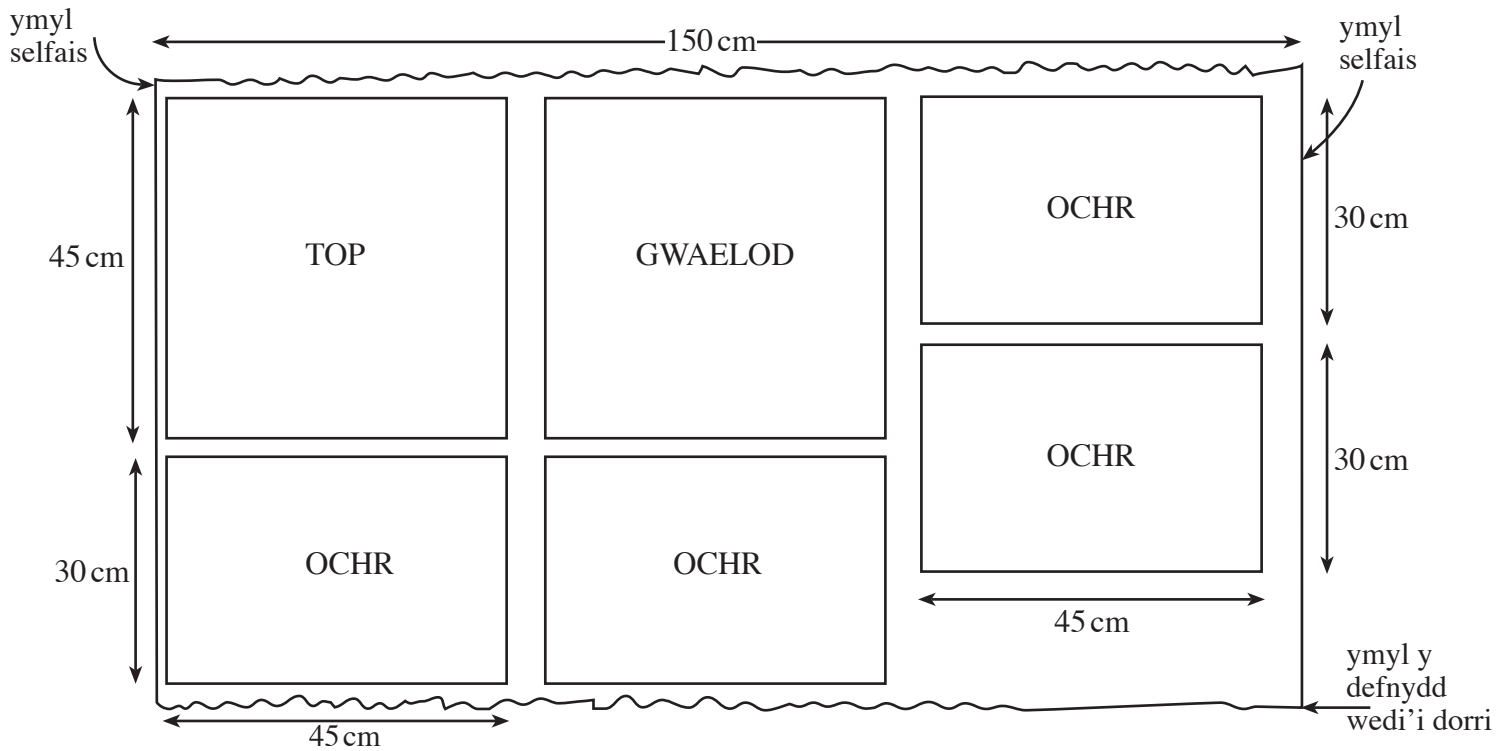
# **TUDALEN WAG**



3. Mae'r braslun isod yn dangos syniad syml ar gyfer clustog lawr. Mae'r glustog yn  $45\text{ cm} \times 45\text{ cm} \times 30\text{ cm}$ .



- (a) Mae'r diagram isod yn dangos hyd o ddefnydd sy'n 150 cm o led. Mae sialc teiliwr wedi cael ei ddefnyddio i farcio'r pedair ochr, y top a'r gwaelod yn barod ar gyfer eu torri allan.



- (i) **Nodwch** hyd y defnydd sydd ei angen i wneud y glustog lawr. [1]

.....

- (ii) Mae'r defnydd yn costio £12.00 am bob metr o hyd. **Nodwch** y pris y byddai'n rhaid i chi ei dalu am yr hyd o ddefnydd yr ydych wedi'i nodi yn (a)(i). Dangoswch eich gwaith cyfrifo. [2]

.....

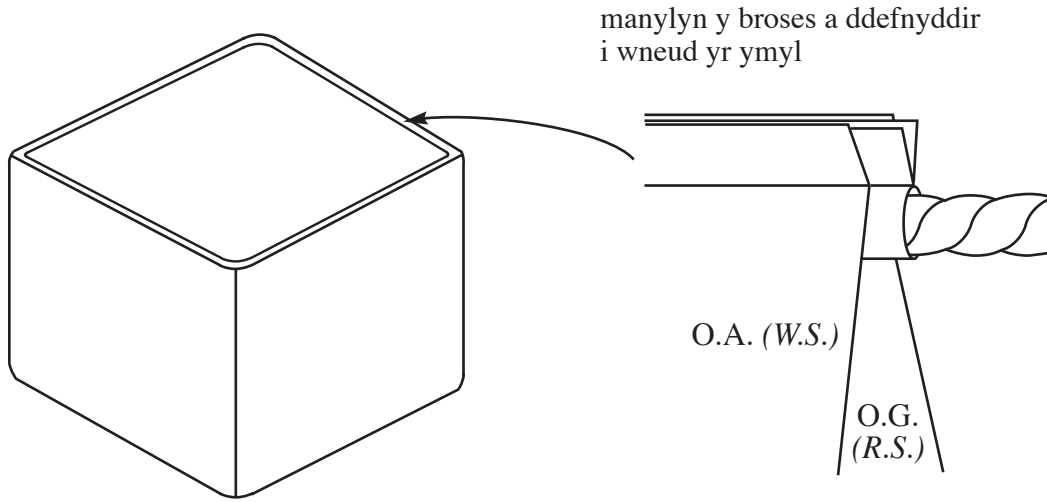
.....

- (iii) Bydd y glustog yn cael ei gwneud o felfaréd (*corduroy*) cotwm. **Disgrifiwch un** peth y mae'n bwysig ei gofio wrth uno'r ochrau unionsyth i wneud y glustog. [3]

.....

.....

- (b) Mae'r lluniau isod yn dangos manylion y broses a ddefnyddir i orffen ymyl uchaf y glustog lawr.



- (i) **Enwch** y broses wneud hon. [1]

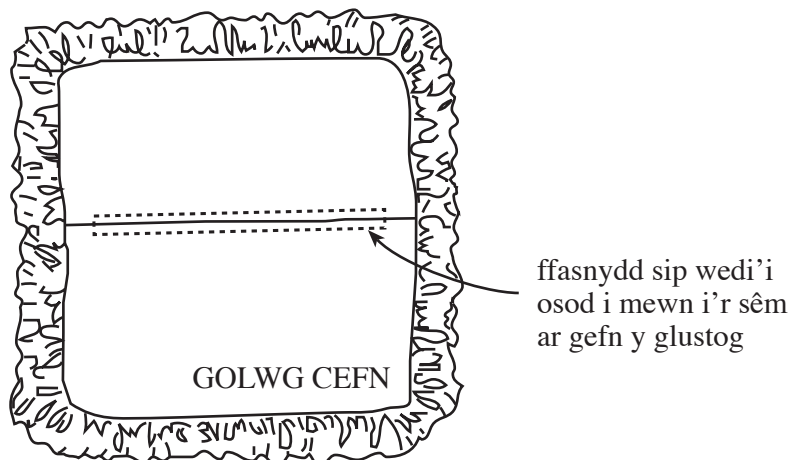
.....

- (ii) **Rhowch ddau** reswm pam y mae'r dylunydd wedi dewis y broses hon. [2]

Rheswm 1: .....

Rheswm 2: .....

- (c) Dyma fraslun o glustog wahanol. Mae'r golwg cefn yn dangos ffasnydd sip sy'n ei gwneud yn bosibl tynnu'r gorchudd i'w olchi.



- (i) **Lluniadwch** a **disgrifiwch** ddull gwahanol o gael agoriad sy'n ychwanegu nodwedd addurnol at y glustog. [6]

.....

.....

.....

.....

.....

.....

.....

.....

.....

.....

.....

.....

.....

.....

.....

.....

.....

.....

.....

.....

- (ii) Mae'r label isod i'w weld yn aml ar ddodrefn meddal (*soft furnishings*) sydd ar werth mewn siopau. **Esboniwch** beth mae'r label hwn yn ei olygu i'r cwsmer. [2]




.....

.....

.....

- (iii) **Enwch** y broses addurnol a ddangosir isod sy'n cael ei defnyddio ar du blaen y glustog. [1]



Proses .....

- (iv) **Disgrifiwch un** gwiriad ansawdd a ddylai gael ei wneud yn ystod y broses hon. [2]

Gwiriad ansawdd: .....

.....

4. Mae'r diagram isod yn dangos bwrdd nawws (*moodboard*).



- (a) (i) **Nodwch ddau** ddarn o ddeunydd adnoddau a ddefnyddiwyd yn y bwrdd nawws hwn. [2]

.....

.....


- (ii) **Esboniwch** sut y mae bwrdd nawws fel hwn yn helpu'r dylunydd ffasiwn. [2]

.....

.....

.....

(b) Mae'r llun isod yn dangos delwedd o ffasiwn stryd.



(i) **Esboniwch** beth yw ystyr y term *ffasiwn stryd*. [2]

.....

.....

(ii) Sector arall o'r farchnad ffasiwn yw *Haute Couture*. **Esboniwch** beth yw ystyr y term *Haute Couture*. [2]

.....

.....

.....

(c) **Cwblhewch** y geiriau coll i ddangos am beth y mae *GIC* (yn Gymraeg) **neu** *CIM* (yn Saesneg) yn sefyll. [2]

G ..... drwy *Integreiddio* C .....

**neu**

C ..... *Integrated* M .....

(ch) (i) Mae symbolau'n cael eu printio ar batrymau papur masnachol. **Ticiwch** (✓) y golofn gywir i ddangos pryd y mae **pob** symbol yn ddefnyddiol. [4]

	Symbol	Wrth Osod Allan	Wrth Wneud Eitem
1.			
2.			
3.			
4.			

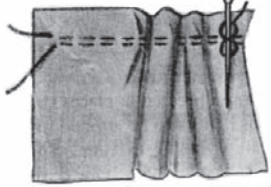
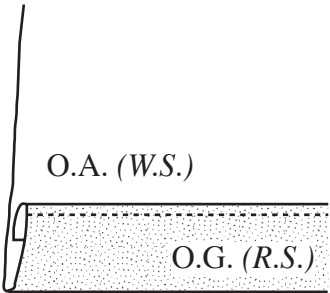
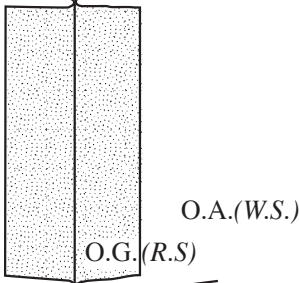
(ii) **Esboniwch** yn union sut y mae'r symbol a ddangosir isod yn ddefnyddiol. [2]



.....

.....

- (d) Dangosir gwahanol brosesau gwneud isod. Ar gyfer **pob un, nodwch** enw'r broses ac **esboniwch** ble y byddech yn ei defnyddio. [6]

PROSES	ENW	DEFNYDD
		<p>.....</p> <p>.....</p> <p>.....</p> <p>.....</p>
		<p>.....</p> <p>.....</p> <p>.....</p> <p>.....</p>
		<p>.....</p> <p>.....</p> <p>.....</p> <p>.....</p>



# **TUDALEN WAG**

5. Mae sgrialu (*skateboarding*) yn boblogaidd iawn. **Dyluniwch** wisg gyflawn gydweddd (*coordinated outfit*) ddau-ddarn sy'n adlewyrchu thema sgrialu.

(a) **Brasluniwch** eich dyluniadau ar gyfer gwisg gyflawn gydweddd ddau-ddarn, gan ddefnyddio'r silwetau ar y dudalen gyferbyn.

**Rhaid i'ch dyluniad:**

- bod yn addas ar gyfer dynion a menywod;
- adlewyrchu thema sgrialu;
- cynnwys labeli sy'n dangos **pedwar** manylyn steil manwl gywir;
- bod â chynllun lliw cydwedd;
- cael ei wneud o ddefnyddiau cysurus a gwydn (*durable*) addas.

**Rhoddir marciau am:**

- (i) lluniadau da o'r golwg blaen a'r golwg cefn; [6]
- (ii) labeli clir sy'n dangos:
- enwau **dau** ddefnydd addas penodol; [2]
  - **pedwar** manylyn steil penodol; [4]
- (iii) dehongliad creadigol o'r thema sgrialu; [5]
- (iv) cynllun lliw cydwedd. [4]

(b) **Esboniwch** pam y mae eich dyluniad yn addas ar gyfer sgrialwyr gwryw a benyw. [2]

.....

.....

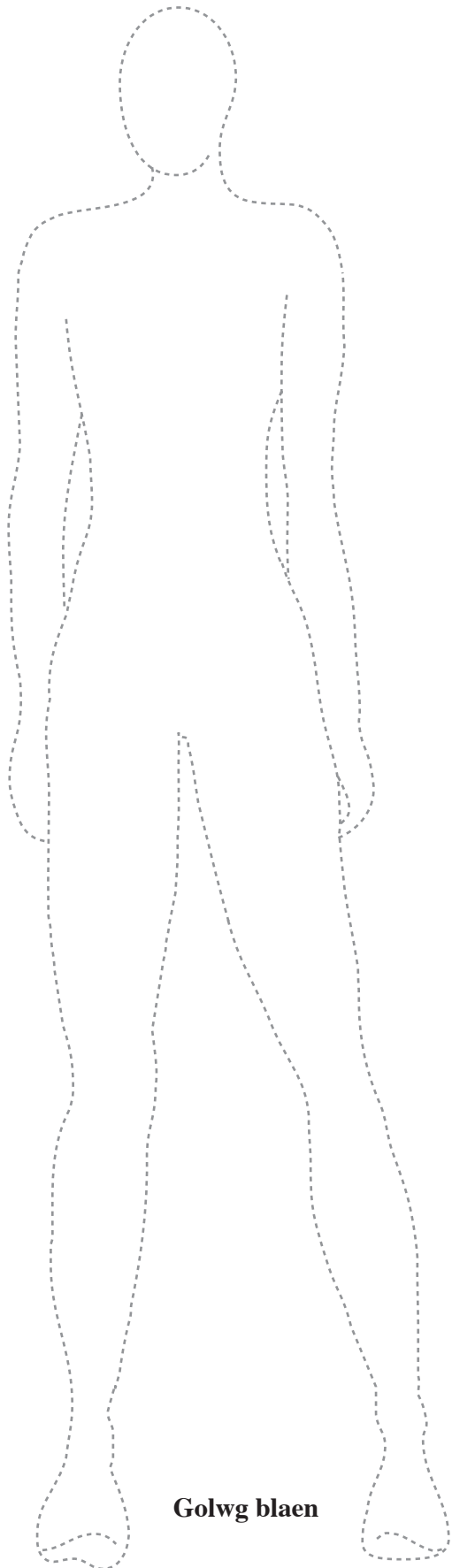
.....

.....

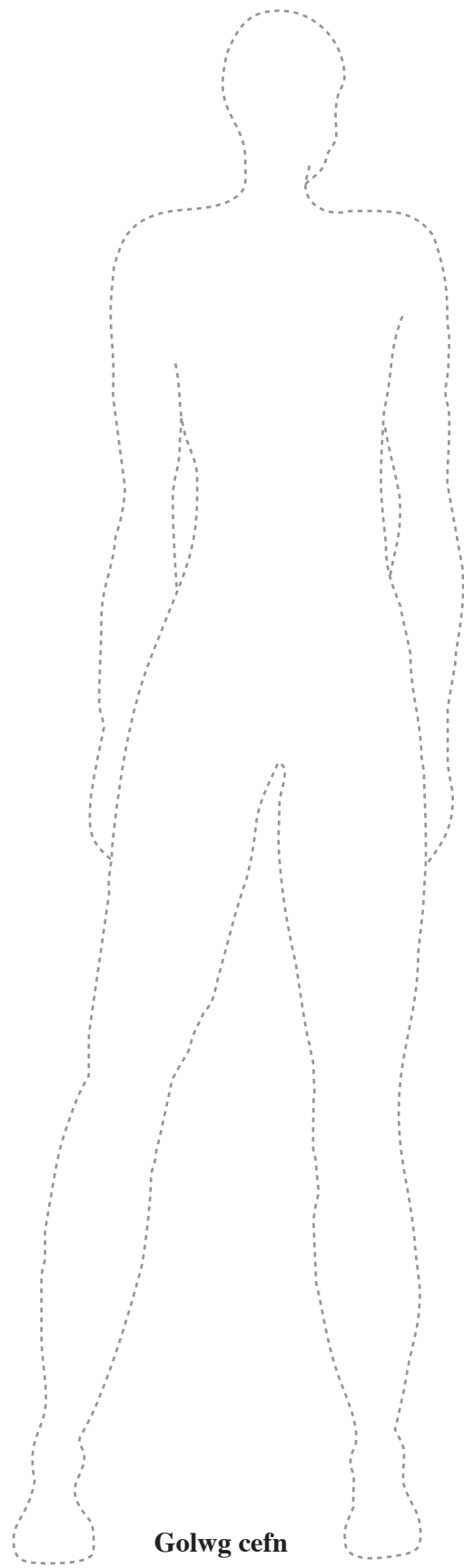
(c) **Esboniwch** sut y mae'r thema sgrialu yn dylanwadu ar eich dyluniad. [2]

.....

.....



**Golwg blaen**



**Golwg cefn**

