

Enw'r Ymgeisydd	Rhif y Ganolfan	Rhif yr Ymgeisydd

CYD-BWYLLGOR ADDYSG CYMRU

Tystysgrif Gyffredinol Addysg Uwchradd



WELSH JOINT EDUCATION COMMITTEE

General Certificate of Secondary Education

140/54

DYLUNIO A THECHNOLEG

PAPUR 2

MAES PENODOL: CYNHYRCHION GRAFFIG

(Haen Uwch – Graddau D i A*)

P.M. DYDD MAWRTH, 5 Mehefin 2007

(1½ awr)

	Gadewch yn wag
Cwestiwn 1	
Cwestiwn 2	
Cwestiwn 3	
Cwestiwn 4	
Cwestiwn 5	
CYFANSWM Y MARCIAU	

DEUNYDDIAU YCHWANEGOL

Bydd angen offer lluniadu sylfaenol a phensiliau lliw arnoch ar gyfer yr arholiad hwn.

CYFARWYDDIADAU I YMGEISWYR

Ysgrifennwch eich enw, rhif y ganolfan a'ch rhif ymgeisydd yn y blychau ar ben y dudalen hon.

Atebwch **bob** cwestiwn.

Ysgrifennwch eich atebion yn y lleoedd gwag priodol yn y llyfryn hwn. Os nad oes gennych ddiagon o le, cewch barhau â'ch ateb yng nghefn y llyfryn, gan ofalu nodi rhif y cwestiwn yn gywir.

GWYBODAETH I YMGEISWYR

Dangosir nifer y marciau mewn cromfachau ar ddiwedd pob cwestiwn neu ran o gwestiwn.

Ni roddir tystysgrif i ymgeisydd a geir yn ymddwyn yn annheg yn ystod yr arholiad.

Atebwch **bob** cwestiwn yn y lleoedd gwag priodol.

1. (a) Astudiwch y ffotograffau isod o gamera tafladwy (*disposable*) a'i becyn. Mae cas cerdyn yn gorchuddio'r camera plastig.



Y camera heb ei becyn.



Y camera yn ei gas cerdyn fel y bydd yn cael ei ddefnyddio.

- (i) Rhowch **ddau** reswm pam y mae'r cwmni wedi penderfynu gorchuddio'r camera plastig â chas cerdyn. [4]

Rheswm 1:

.....

Rheswm 2:

.....

- (ii) Mae'r cas cerdyn ar gyfer y camera wedi'i wneud o gerdyn bocsbord gwyn 350 micron.

Rhowch **ddau** reswm pam mai hwn yw'r defnydd mwyaf priodol.

2 × [2]

Rheswm 1:

.....

Rheswm 2:

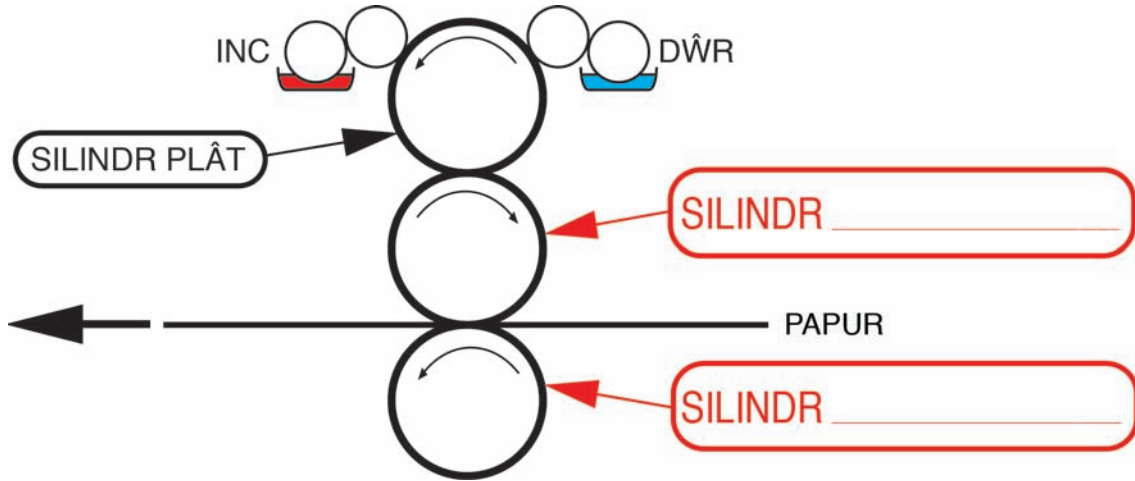
.....

- (iii) Gan ddefnyddio diagram wedi'i labelu, esboniwch y broses o dorri â dei a ddefnyddir i dorri allan 10,000 o gopiau o'r cas cerdyn. [3]

- (b) Defnyddir y broses argraffu offset lithograffig i argraffu cas cerdyn y camera. Mae'r diagram wedi'i labelu isod yn dangos prif rannau gwasg argraffu offset lithograffig.

Cwblhewch y **ddau** label sydd heb eu gorffen.

[2]



- (c) Mae argraffu lithograffig yn defnyddio inc a dŵr i argraffu.

(i) Nodwch y math o inc a ddefnyddir mewn argraffu lithograffig.

[1]

.....

(ii) Esboniwch sut mae argraffu lithograffig yn defnyddio'r inc a'r dŵr.

[3]

.....

- (ch) Rhowch enw'r egwyddor a ddefnyddir mewn argraffu llythrenwasg (*letterpress*).

[1]

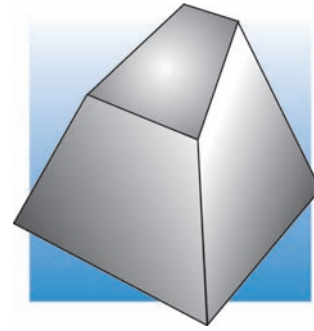
.....

- (d) Defnyddiwch ddiagram wedi'i labelu i ddisgrifio'r dull argraffu grafur.

[3]

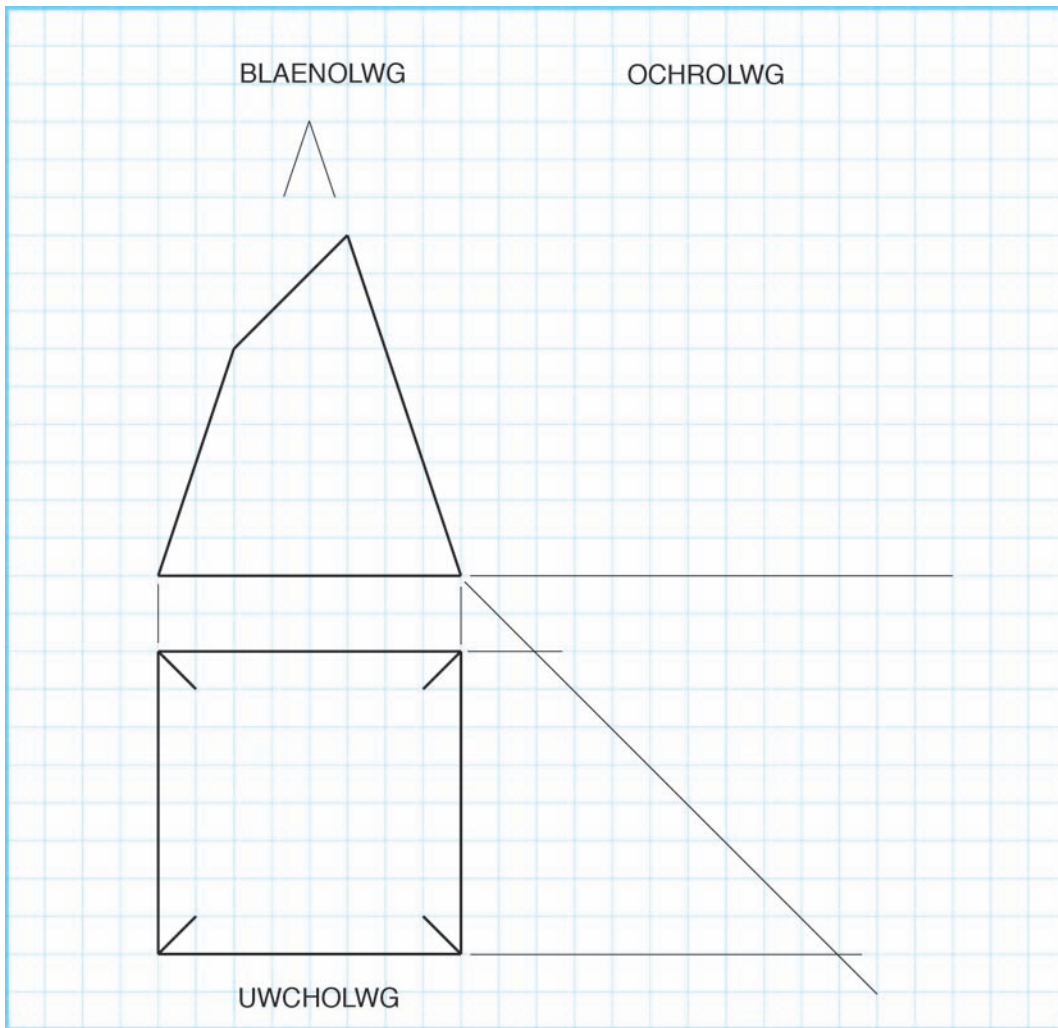
2. (a) Nodwch enw llawn y siâp solet a ddangosir.

.....



[3]

(b) Dyma luniad orthograffig wedi'i rannol gwblhau o'r solid. Cwblhewch yr uwcholwg a'r ochrolwg yn fanwl gywir, gan ddangos yr holl linellau tafluniad. [7]



(c) Rhowch **un** rheswm pam y mae dylunwyr yn gwneud lluniadau orthograffig. [2]

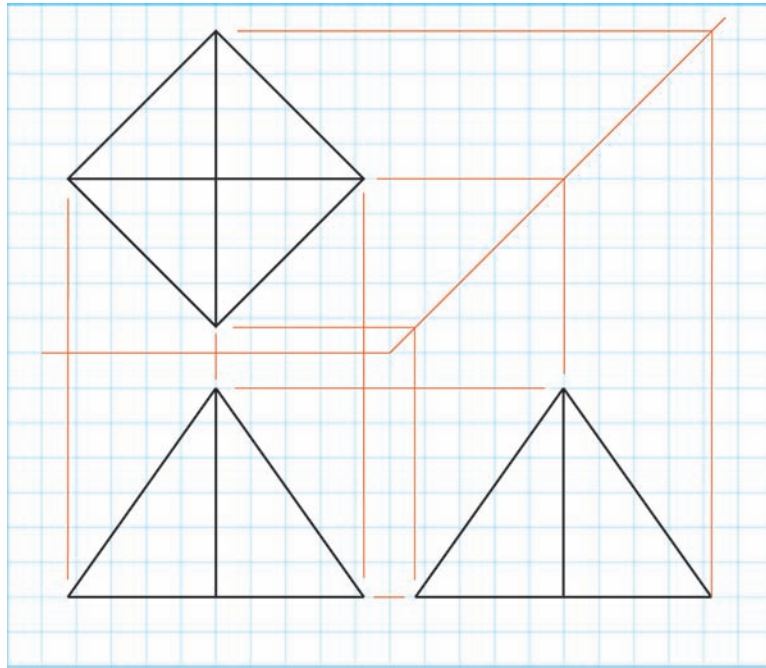
Rheswm:

.....

(ch) Nodwch y Safon Brydeinig sy'n berthnasol i Luniadu Orthograffig. **BS**

[1]

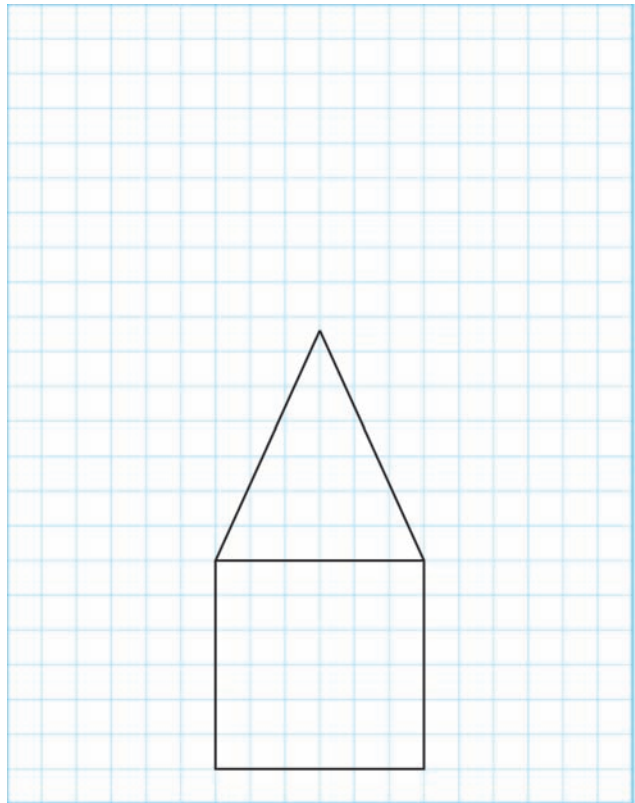
(d) Mae lluniad orthograffig o flwch cerdyn yn cael ei ddangos isod.



(i) Dangosir lluniad rhannol o'r rhwyd.

Cwblhewch y rhwyd. [5]

Cadwch eich lluniad o fewn y grid a ddarparwyd. *Peidiwch â chynnwys unrhyw dabiliau gludio.*



(ii) Esboniwch pam y mae'n **ymddangos** bod maint yr ochr drionglog a ddangosir yn y rhwyd yn wahanol i'r maint a ddangosir yn y lluniad orthograffig. [3]

.....

.....

.....

3. (a) Nodwch enwau'r **pedwar** lliw proses. [4]


Lliw 1:

Lliw 2:

Lliw 3:

Lliw 4:

(b) Yn y lle gwag a ddarparwyd, ysgrifennwch enw'r lliw proses a ddangosir isod. [2]

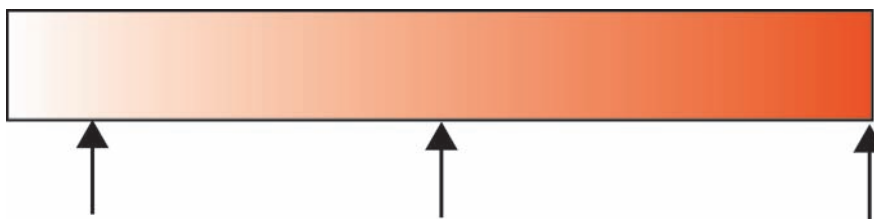


Enw'r lliw:

(c) Mae lliwiau'n cael eu galw'n lliwiau sbot weithiau. Esboniwch ystyr y term hwn. [2]

.....
.....

(ch) Mae lliwiau'n cael eu disgrifio'n aml fel lliw canrannol, er enghraifft 25% coch. Edrychwch ar y sribed ar gyfer coch isod a labelwch y pwyntiau a ddangosir â'u lliw canrannol. [3]



..... % COCH

..... % COCH

..... % COCH

- (d) Mae lliwiau'n cael eu cysylltu â geiriau.
O'r rhestr isod, dewiswch y lliw sy'n cynrychioli orau y geiriau yn y tabl.

[3]

COCH GWYN BROWN PORFFOR

Geiriau	Enw'r lliw
Moethusrwydd.
Grym, perygl.
Daear, natur.

4. (a) Mae rhai categorïau o ffont wedi'u rhestru isod.
Cwblhewch y tabl trwy ychwanegu'r categori y mae **pob** ffont yn perthyn iddo. [4]

ADDURNOL MODERN HEN ARDDULL SANS SERIF SGRIFT SLAB SERIF

Enghraifft o ffont	Categori
Mae menig yn cadw eich dwylo'n gynnes.
Mae menig yn cadw eich dwylo'n gynnes.
<i>Mae menig yn cadw eich dwylo'n gynnes.</i>
<i>Mae menig yn cadw eich dwylo'n gynnes.</i>

- (b) Nodwch yn fras pa faint pwynt fydd yn cynhyrchu testun 5mm o uchder. [2]

.....

- (c) Mae pob ffont yn addas ar gyfer defnydd penodol. Mae'r ddelwedd gyferbyn yn dod o lyfr comics i blant sy'n rhoi gwybodaeth am anifeiliaid.

O'r rhestr isod, dewiswch y ffont mwyaf priodol ar gyfer y swigen siarad (*speech bubble*) a rhowch **ddau** reswm pam yr ydych wedi ei ddewis.



BANK GOTHIC POSTERBODONI COMIC SANS JOKERMAN

Ffont a ddewiswyd: [2]

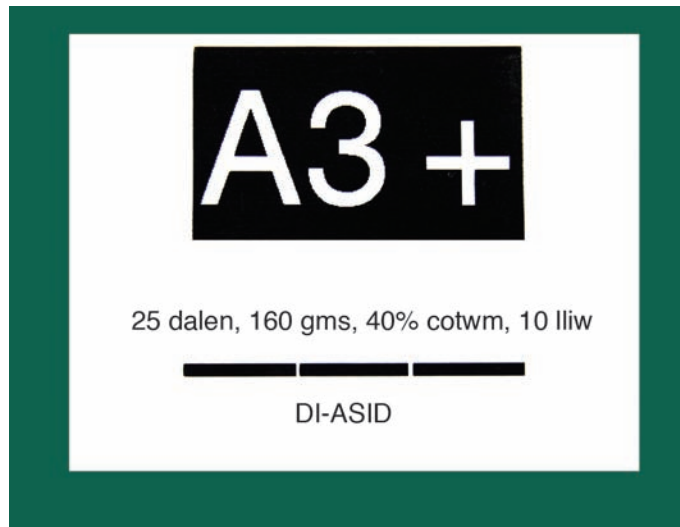
Rheswm 1:

..... [2]

Rheswm 2:

..... [2]

(ch) Mae'r label isod wedi dod o becyn o bapur.



(i) Nodwch ystyr *25 dalen*. [1]

.....

.....

(ii) Nodwch ystyr *160 gms (gsm)*. [1]

.....

.....

(iii) Nodwch ystyr *A3+*. [1]

.....

.....

(d) Defnyddir peiriannau Plotio a Thorri *CAM (Plotter Cutting CAM machines)*, fel *CAMM 1*, yn aml wrth wneud cynhyrchion graffig. Nodwch **un** fantais ac **un** anfantais defnyddio peiriant o'r fath i gynhyrchu cynnyrch graffig o'ch dewis. 2 × [2]

Enwch y cynnyrch o'ch dewis:

Mantais:


.....

Anfantais:

.....

5. Mae canolfan arddio'n gwerthu bylbiau blodau yn y gwanwyn. Mae'r ffotograff gyferbyn yn dangos bwlb a'i feintiau o ben i ben. Mae angen pecyn ar gyfer y bylbiau.

Enw'r ganolfan arddio yw 'TYFU'.




- (a) Mae angen logo ar gyfer y pecyn.

Yn y petryal isod, dyluniwch logo gan ddefnyddio'r enw 'TYFU' neu ddelwedd (*image*) i gynrychioli'r enw. Rhaid i'r logo lenwi'r petryal.

Rhoddir marciau am:

- dylunio logo sy'n defnyddio'r enw neu ddelwedd i gynrychioli'r enw; [3]
- defnyddio'r holl le sydd ar gael; [1]
- ansawdd y lluniadu; [2]
- ansawdd y defnydd o liw. [2]



- (c) Gwnewch luniad manwl gywir o rwyd eich dyluniad ar gyfer y pecyn.
Rhaid i chi ychwanegu'r **tri** (3) dimensiwn pwysicaf at eich lluniad.

[7]

