

Enw'r Ymgeisydd	Rhif y Ganolfan	Rhif yr Ymgeisydd

CYD-BWYLLGOR ADDYSG CYMRU

Tystysgrif Gyffredinol Addysg Uwchradd



WELSH JOINT EDUCATION COMMITTEE

General Certificate of Secondary Education

140/52

**DYLUNIO A THECHNOLEG**

**PAPUR 2**

**MAES PENODOL: CYNHYRCHION GRAFFIG**

(Haen Sylfaenol – Graddau G i C)

P.M. DYDD MAWRTH, 5 Mehefin 2007

(1½ awr)

	<b>Gadewch yn wag</b>
<b>Cwestiwn 1</b>	
<b>Cwestiwn 2</b>	
<b>Cwestiwn 3</b>	
<b>Cwestiwn 4</b>	
<b>Cwestiwn 5</b>	
<b>CYFANSWM Y MARCIAU</b>	

**DEUNYDDIAU YCHWANEGOL**

Bydd angen offer lluniadu sylfaenol a phensiliau lliw arnoch ar gyfer yr arholiad hwn.

**CYFARWYDDIADAU I YMGEISWYR**

Ysgrifennwch eich enw, rhif y ganolfan a'ch rhif ymgeisydd yn y blychau ar ben y dudalen hon.

Atebwch **bob** cwestiwn.

Ysgrifennwch eich atebion yn y lleoedd gwag priodol yn y llyfryn hwn. Os nad oes gennych ddigon o le, cewch barhau â'ch ateb yng nghefn y llyfryn, gan ofalu nodi rhif y cwestiwn yn gywir.

**GWYBODAETH I YMGEISWYR**


Dangosir nifer y marciau mewn cromfachau ar ddiwedd pob cwestiwn neu ran o gwestiwn.

Ni roddir tystysgrif i ymgeisydd a geir yn ymddwyn yn annheg yn ystod yr arholiad.

Atebwch **bob** cwestiwn yn y lleoedd gwag priodol.

1. (a) Mae'r ffotograffau isod yn dangos darnau o gyfarpar graffeg.  
**Astudiwch bob** ffotograff ac yna **cwblhewch** y frawddeg trwy roi *enw llawn pob* darn o gyfarpar.

(i)




Enw llawn y darn hwn o gyfarpar yw ..... [1]

(ii)



Enw llawn y darn hwn o gyfarpar yw ..... [2]

(iii)



Enw llawn y darn hwn o gyfarpar yw ..... [1]

- (b) **Astudiwch** y ffotograffau isod o gamera tafladwy (*disposable*) a'i becyn. Mae cas cerdyn yn gorchuddio'r camera plastig.



Y camera heb ei becyn.



Y camera yn ei gas cerdyn fel y bydd yn cael ei ddefnyddio.

- (i) **Rhowch un** rheswm pam y mae'r cwmni wedi penderfynu gorchuddio'r camera plastig â chas cerdyn. [2]

.....

.....

- (ii) Mae'r cas cerdyn ar gyfer y camera wedi'i wneud o gerdyn bocsbord gwyn 350 micron. **Rhowch ddau** reswm pam mai hwn yw'r defnydd mwyaf priodol.  $2 \times [2]$

Rheswm 1: .....

.....

Rheswm 2: .....

.....

- (iii) Mae cas cerdyn y camera wedi'i wneud o rwyd wedi'i phlygu. Mae'r rwyd yn cael ei thorri allan â dei. Gan ddefnyddio nodiadau a diagramau, **disgrifiwch** y broses o dorri â dei. [4]

.....

.....

.....

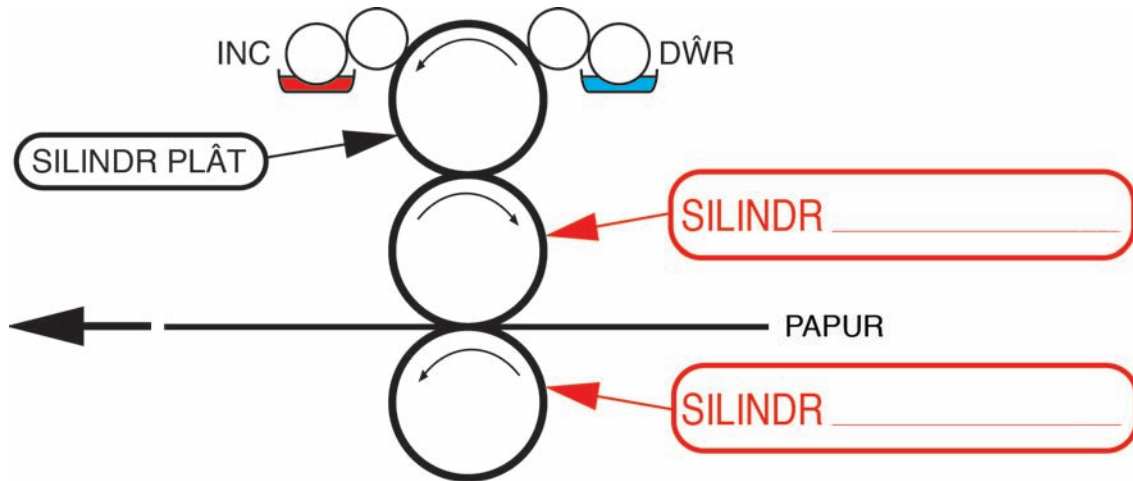
.....

.....

.....

- (c) Defnyddir y broses argraffu offset lithograffig i argraffu cas cerdyn y camera. Mae'r diagram wedi'i labelu isod yn dangos prif rannau gwasg argraffu offset lithograffig.

**Cwblhewch** y diagram trwy roi'r term cywir yn y **ddau** label sydd heb eu gorffen. [4]



- (ch) Mae argraffu lithograffig yn defnyddio inc sail olew (*oil based*) a dŵr i argraffu. **Esboniwch** sut mae'r **ddau** hylif yn gweithio yn y broses argraffu. [3]

.....

.....

.....

.....

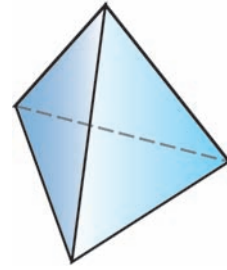
.....

.....

.....

# TUDALEN WAG

2. Mae'r diagram ar y dde yn dangos pecyn ar gyfer cynnyrch.



(a) **Nodwch** enw llawn siâp y pecyn hwn.

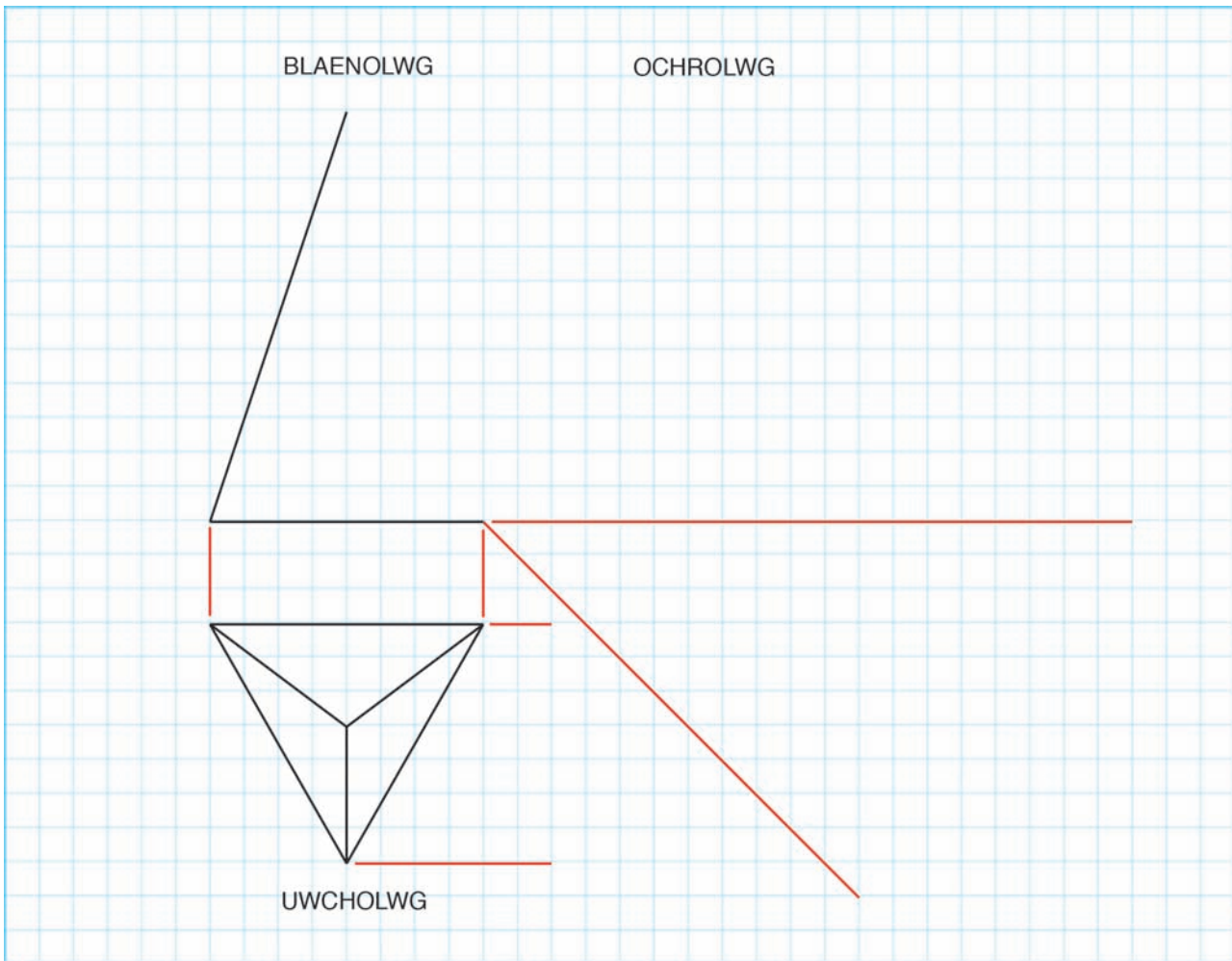
.....

[2]

(b) Dyma luniad orthograffig wedi'i rannol gwblhau o'r pecyn.

**Cwblhewch** y blaenolwg a'r ochrolwg **yn fanwl gywir**, gan ddangos yr holl linellau tafluniad.

[9]



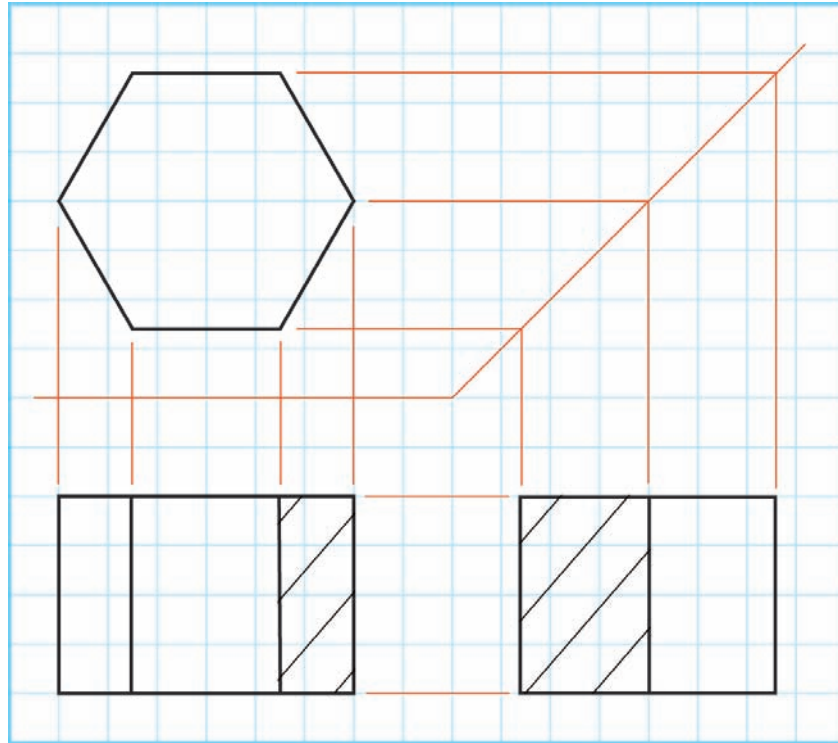
(c) **Rhowch un** rheswm pam y mae dylunwyr yn defnyddio lluniadau orthograffig.

[2]

Rheswm: .....

.....

(ch) Mae lluniad orthograffig o flwch cerdyn gwahanol yn cael ei ddangos isod.

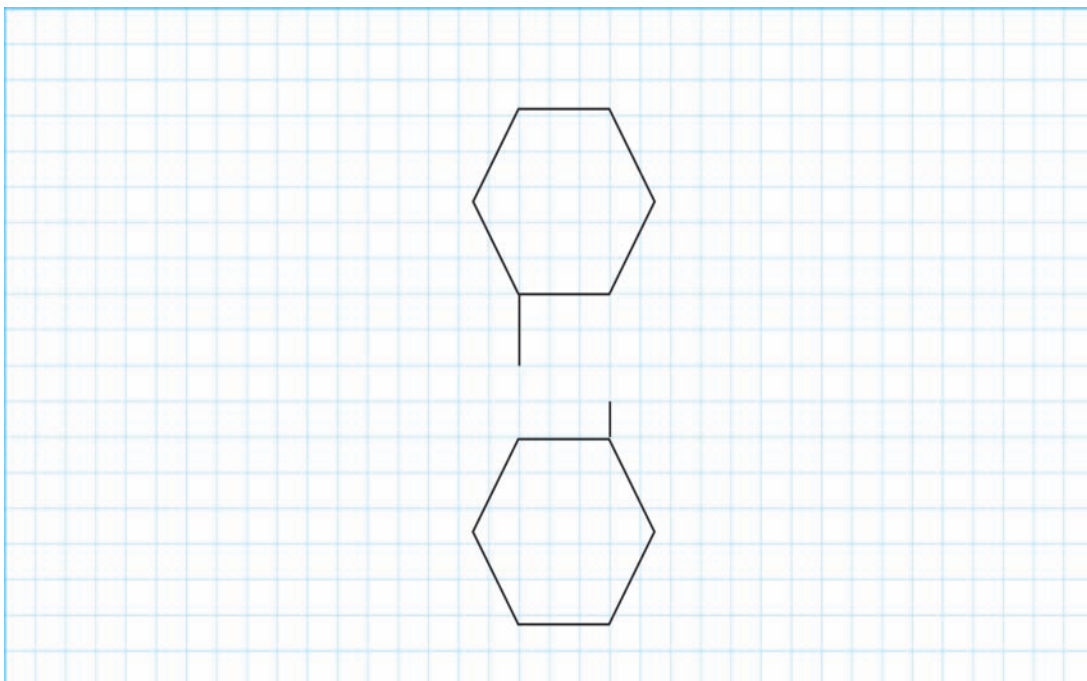


- (i) **Tanlinellwch** yr ongl gywir ar gyfer y tafluniad. [1]

ONGL GYNTAF TRYDEDD ONGL

- (ii) **Nodwch** enw llawn siâp y blwch. .... [2]

- (iii) Dangosir isod rwyd wedi'i llunio'n rhannol ar gyfer y blwch. **Cwblhewch** y rhwyd. *Peidiwch â chynnwys unrhyw dabiliau gludio ar eich lluniad.* [6]



3. (a) O'r rhestr isod, dewiswch y **pedwar** lliw proses a ddefnyddir mewn argraffu lliw llawn. [4]

**Coch Glas Gwyrddlas (Cyan) Gwyrdd Magenta Du Melyn**


Lliw 1: .....

Lliw 2: .....

Lliw 3: .....

Lliw 4: .....

- (b) Yn y lleoedd gwag canlynol, **ysgrifennwch** enwau'r lliwiau proses a ddangosir isod. [4]

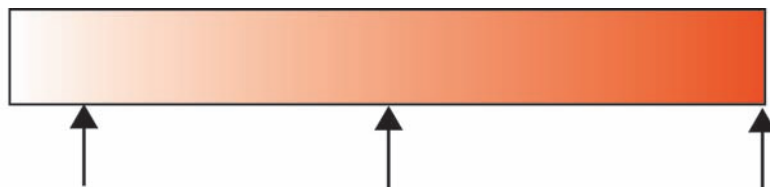


Enw'r lliw: .....



Enw'r lliw: .....

- (c) Mae lliwiau'n cael eu disgrifio'n aml fel lliw canrannol, er enghraifft 25% coch. **Edrychwch** ar y sribed lliw isod a **labelwch** y pwyntiau a ddangosir â'u lliw canrannol. [3]



..... % COCH ..... % COCH ..... % COCH



- (ch) Mae lliwiau'n cael eu cysylltu â geiriau.  
O'r rhestr isod, **dewiswch** y lliw sy'n cynrychioli orau y geiriau yn y tabl.

[3]

**COCH      GWYN      BROWN      PORFFOR**

<b>Geiriau</b>	<b>Enw'r lliw</b>
Moethusrwydd.	.....
Grym, perygl.	.....
Daear, natur.	.....

4. (a) Mae rhai categorïau o ffont wedi’u rhestru isod. **Cwblhewch** y tabl trwy ychwanegu’r categori y mae **pob** ffont yn perthyn iddo. [4]

**ADDURNOL    MODERN    HEN ARDDULL    SANS SERIF    SGRIFT**

Enghraifft o ffont	Categori
Mae menig yn cadw eich dwylo’n gynnes.	.....
<b>Mae menig yn cadw eich dwylo’n gynnes.</b>	.....
<i>Mae menig yn cadw eich dwylo’n gynnes.</i>	.....
<i>Mae menig yn cadw eich dwylo’n gynnes.</i>	.....

- (b) Mae ffontiau’n cael eu mesur mewn pwyntiau. **Nodwch** yn fras sawl pwynt sydd mewn un milimetr. [1]

.....

- (c) Mae pob ffont yn addas ar gyfer defnydd penodol. Mae’r ddelwedd gyferbyn yn dod o lyfr comics i blant sy’n rhoi gwybodaeth am anifeiliaid.

O’r rhestr isod, **dewiswch** y ffont mwyaf priodol ar gyfer y swigen siarad (*speech bubble*) a **rhowch ddau** reswm pam yr ydych wedi ei ddewis.



**BANK GOTHIC    POSTERBODONI    COMIC SANS    JOKERMAN**

Ffont a ddewiswyd: ..... [2]

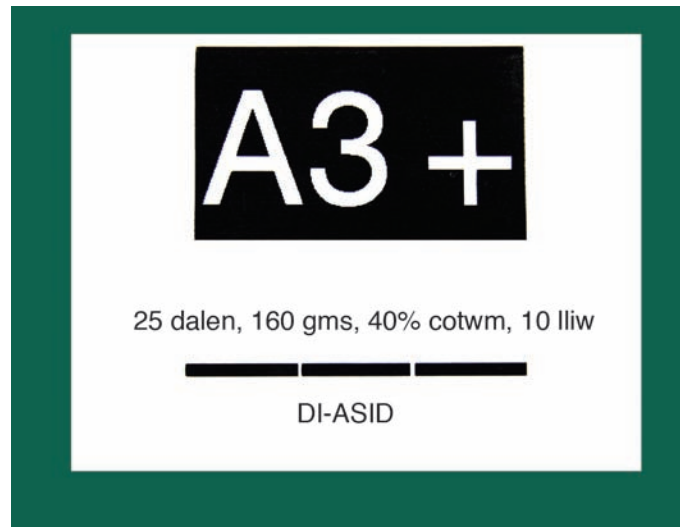
Rheswm 1: .....

..... [2]

Rheswm 2: .....

..... [2]

(ch) Mae'r label isod wedi dod o becyn o bapur.



(i) **Nodwch** ystyr *25 dalen*. [2]


(ii) **Nodwch** ystyr *160 gms (gsm)*. [2]

(iii) **Nodwch** ystyr *A3+*. [2]

(iv) **Nodwch** sawl dalen o bapur A4 y gellir ei gwneud o un ddalen A3+. [1]

5. Mae canolfan arddio'n gwerthu bylbiau blodau yn y gwanwyn. Mae'r ffotograff gyferbyn yn dangos bwlb a'i feintiau o ben i ben. Mae angen pecyn ar gyfer y bylbiau.

Enw'r ganolfan arddio yw 'TYFU'.




- (a) Mae angen logo ar gyfer y pecyn.

Yn y petryal isod, **dyluniwch** logo gan ddefnyddio'r enw 'TYFU' neu ddelwedd (*image*) i gynrychioli'r enw. Rhaid i'r logo lenwi'r petryal.

**Rhoddir marciau am:**

- dylunio logo sy'n defnyddio'r enw neu ddelwedd i gynrychioli'r enw;
- defnyddio'r holl le sydd ar gael;
- ansawdd y lluniadu;
- ansawdd y defnydd o liw.

[3]  
[1]  
[2]  
[2]



(b) Mae angen i'r pecyn ddal dau fwlb.

- (i) **Dyluniwch** becyn: sy'n dal dau fwlb;  
 sy'n cael ei wneud o gerdyn wedi'i blygu sydd wedi'i  
 amddiffyn rhag lleithder (*moisture*);  
 sydd â logo'r ganolfan arddio wedi'i argraffu arno;  
 sydd wedi'i addurno i wneud iddo edrych yn ddeniadol;  
 sydd â lle arno ar gyfer cyfarwyddiadau plannu.

**Rhoddir marciau am ddyluniad sy'n:**


- dal dau fwlb; [1]
- dangos y lle ar gyfer y logo; [1]
- dangos yr addurn a gaiff ei argraffu ar y pecyn; [2]
- dangos y lle ar gyfer y cyfarwyddiadau plannu; [1]
- dangos sut y gellir gwneud y pecyn sydd o gerdyn wedi'i blygu. [3]

- (ii) **Nodwch** fanyleb y cerdyn a gaiff ei ddefnyddio i wneud y pecyn. [1]
- .....

- (iii) **Nodwch** sut y gellir amddiffyn y cerdyn rhag lleithder. [1]
- .....

- (c) **Gwnewch** luniad manwl gywir o rwyd eich dyluniad ar gyfer y pecyn.  
Dylech ddangos llinellau plygu a llinellau torri.  
Rhaid i chi ychwanegu'r **tri** (3) dimensiwn pwysicaf at eich lluniad.

[7]



**Parhad yn unig.**

A series of horizontal dotted lines providing space for writing an answer.