

Enw'r Ymgeisydd	Rhif y Ganolfan	Rhif yr Ymgeisydd

CYD-BWYLLGOR ADDYSG CYMRU

Tystysgrif Gyffredinol Addysg Uwchradd



WELSH JOINT EDUCATION COMMITTEE

General Certificate of Secondary Education

140/52

DYLUNIO A THECHNOLEG

PAPUR 2

MAES PENODOL: CYNHYRCHION GRAFFIG

(Haen Sylfaenol – Graddau G i C)

P.M. DYDD MAWRTH, 6 Mehefin 2006

(1½ awr)

	Gadewch yn wag
Cwestiwn 1	
Cwestiwn 2	
Cwestiwn 3	
Cwestiwn 4	
Cwestiwn 5	
CYFANSWM Y MARCIAU	

DEUNYDDIAU YCHWANEGOL

Bydd angen offer lluniadu sylfaenol a phensiliau lliw arnoch ar gyfer yr arholiad hwn.

CYFARWYDDIADAU I YMGEISWYR

Ysgrifennwch eich enw, rhif y ganolfan a'ch rhif ymgeisydd yn y blychau ar ben y dudalen hon.

Atebwch **bob** cwestiwn.

Ysgrifennwch eich atebion yn y lleoedd gwag priodol yn y llyfryn hwn. Os nad oes gennych ddigon o le, cewch barhau â'ch ateb yng nghefn y llyfryn, gan ofalu nodi rhif y cwestiwn yn gywir.

GWYBODAETH I YMGEISWYR

Rhoddir nifer y marciau mewn cromfachau ar ddiwedd pob cwestiwn neu ran o gwestiwn.

Ni roddir tystysgrif i ymgeisydd a geir yn ymddwyn yn annheg yn ystod yr arholiad.

Atebwch **bob** cwestiwn yn y lleoedd gwag priodol.

1. Mae'r ffotograff yn dangos pos jigso i blant sy'n cynnwys elfen o "HUD" (*magic*).

- Mae'r jigso wedi'i wneud o **gardbord llwyd** 2000 micron. Mae'r llun lliw-llawn printiedig wedi'i fondio ar un ochr i'r bwrdd ac mae dalen gydag enw'r gwneuthurwr arni wedi'i gludio ar y cefn.
- Mae inc **thermocromig** du wedi'i brintio ar y llun i roi elfen "HUD" y pos jigso.
- Mae arwyneb y pos jigso, lle mae'r llun, wedi'i **laminiadu** â ffilm sglein.
- Mae'r darnau wedi cael eu **torri â dei**.
- Mae'r blwch wedi'i wneud o **gardbord llwyd** 700 micron wedi'i orchuddio â delwedd sgleiniog o'r pos jigso a gwybodaeth am y cynnyrch.

Astudiwch y ffotograffau ac yna atebwch y cwestiynau sy'n dilyn.



- (a) (i) **Rhestrwch y pedwar** inc lliw a ddefnyddir wrth brintio mewn lliw llawn. [4]

.....

.....

.....

.....

- (ii) Defnyddir inc thermocromig i greu elfen ‘hud’ y pos jigso.
Mae’n newid lliw pan gaiff ei gynhesu trwy ei rwbio.

Mae inc thermocromig yn cael ei alw’n ddefnydd [1]

- (iii) Mae’r pos jigso wedi’i laminiadu â ffilm sglein er mwyn [2]

.....

- (iv) Defnyddir *torri â dei* i stampio darnau’r jigso allan. **Esboniwch** pam mae’r dull hwn yn addas. [2]

.....

.....

- (b) **Rhowch un** rheswm pam mae cardbord llwyd yn addas ar gyfer gwneud y pos jigso. [2]

.....

.....

.....

- (c) Dangosir isod ddwy o'r delweddau sydd wedi'u printio ar flwch y jigso. **Rhowch gylch** am y gair cywir a **chwblhewch** y frawddeg sy'n dilyn.

(i)



Mae'r symbol hwn yn dangos y gall y cynnyrch gael ei **Ailgylchu / Leihau**.

Mae'n golygu

[2]

(ii)

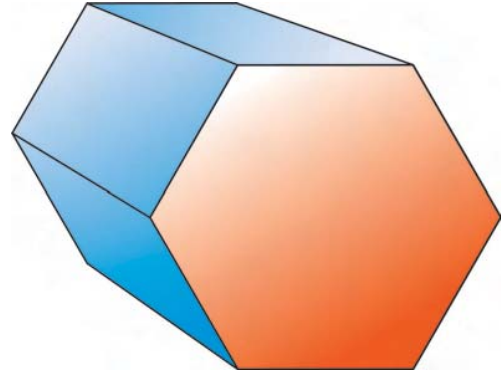
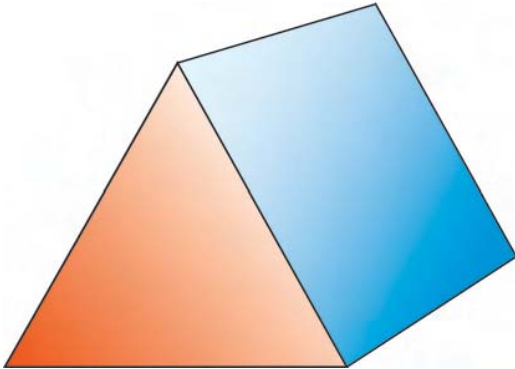


Mae'r symbol hwn yn dangos **Graff Bar / Siart Bar / Cod-Bar**.

Mae'n cael ei ddefnyddio gan siopau ar gyfer

[2]

2. Mae blychau melysion yn cael eu gwneud mewn sawl siâp a maint. Dangosir dau isod. Mae un ar siâp prism trionglog a'r llall ar siâp prism hecsagonol.

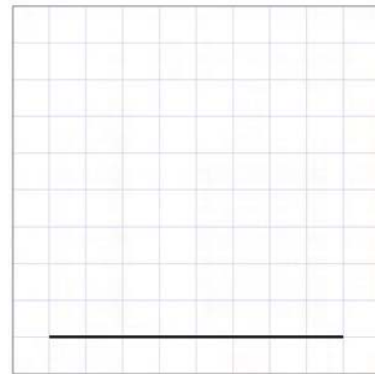


- (a) **Trwy ddulliau geometregol, lluniwch** siâp pennau'r prismau ar y gridiau isod. **Dangoswch eich HOLL waith llunio'r siapiau.**

- (i) Trwy ddulliau geometregol, lluniwch siâp pen trionglog y prism.

Mae'n driongl gyda **phob un** o'i ochrau'n 40mm o hyd.

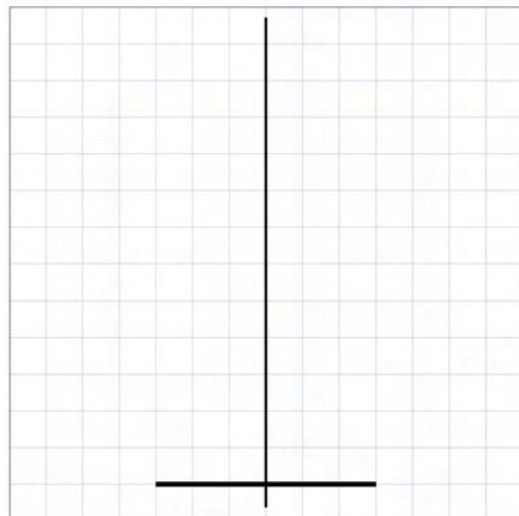
Mae'r lluniad wedi cael ei ddechrau i chi.



[4]

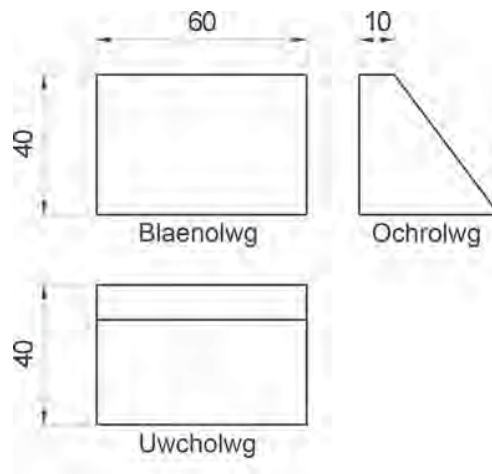
- (ii) Trwy ddulliau geometregol, lluniwch siâp pen hecsagonol y prism (6 ochr). Mae'n hecsagon gyda **phob un** o'i ochrau'n 30mm o hyd.

Mae'r lluniad wedi cael ei ddechrau i chi.



[6]

(b) Dangosir lluniad o flwch gwahanol isod.



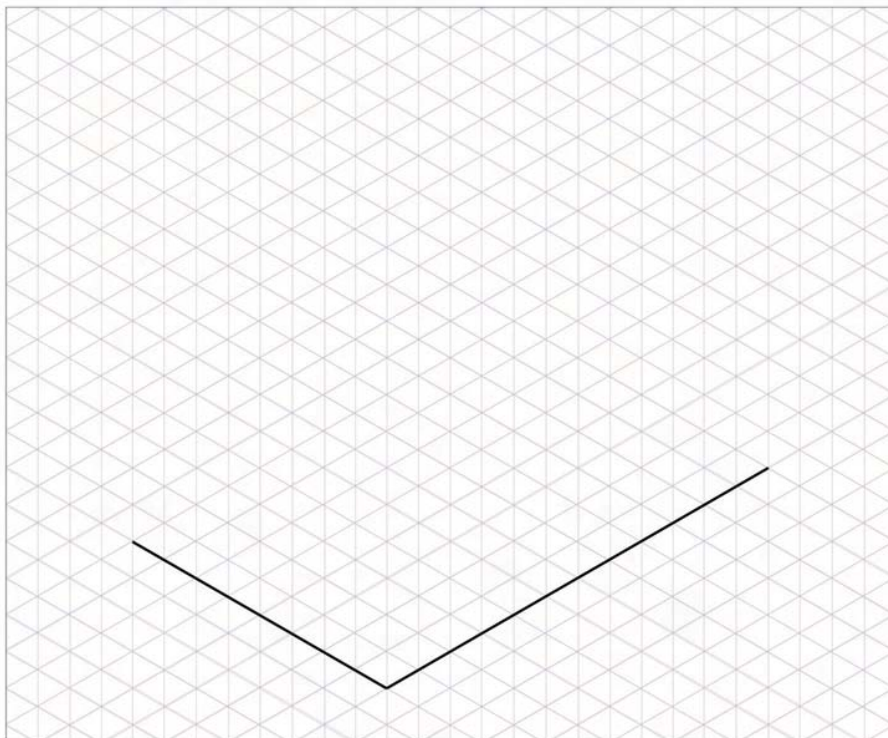
(i) **Nodwch** enw cywir y math hwn o luniad.

Lluniad Ongl [2]

(ii) **Gan ddefnyddio'r** grid isod, **gwnewch** luniad ISOMEDRIG manwl gywir o'r blwch a ddangosir. Defnyddiwch LINELLAU TRWCHUS A THENAU yn eich ateb.

Rhoddir marciau am:

- amlinelliad maint llawn manwl gywir o'r siâp; [8]
- defnyddio llinellau Trwchus a Thenau ar eich lluniad isomedrig i wneud i'r lluniad edrych yn debycach i wrthrych solet. [5]



3. Mae taflen hysbysebu ar gyfer fflatiau gwyliau wedi cael ei dylunio. Mae'r daflen yn 200mm sgwâr ar ôl ei phlygu. Dangosir ffotograffau o'r daflen isod.



- (a) Mae'r daflen yn cael ei phlygu fel y dangosir.

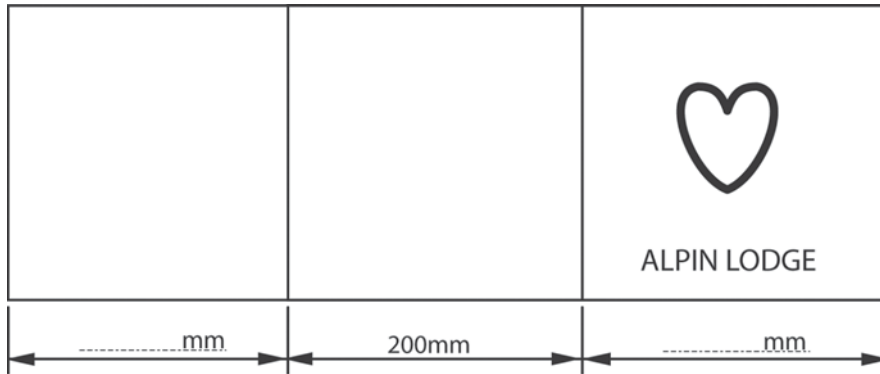


Ticiwch (✓) wrth ochr enw'r math hwn o blyg.

[1]

Math o Blyg	
PLYG-DDALEN (<i>Gatefold</i>)	
PLYG BARIL (<i>Barrel Fold</i>)	
PLYG FFRENGIG (<i>French Fold</i>)	

- (b) Er mwyn i'r daflen blygu'n gywir, rhaid i bob tudalen fod o led gwahanol. **Cwblhewch** y braslun isod trwy ychwanegu'r dimensiynau coll. Mae'r dimensiwn yn y canol wedi cael ei roi i chi. [4]



- (c) Rhaid argraffu'r daflen ar ddefnydd sy'n gallu sefyll ar ei ben ei hun wrth iddi gael ei harddangos (*fel cerdyn pen-blwydd*).

- (i) O'r rhestr isod, **ticiwch** (✓) y defnydd mwyaf priodol ar gyfer gwneud y daflen ac yna **rhowch un** rheswm dros eich dewis.

Defnydd	Ticiwch (✓)
Papur manylion 40 gms (<i>gsm</i>)	
Pleth-bapur (<i>wove paper</i>) 80 gms (<i>gsm</i>)	
Papur haen (<i>coated paper</i>) 160 gms (<i>gsm</i>)	
Cerdyn 1200 micron	

[1]

Rheswm

[2]

- (ii) **Nodwch** ystyr **gms** (*gsm*) yn y tabl uchod.

g y m s.....

[3]

- (iii) **Nodwch** beth mae'r term **1200 micron** yn ei ddweud wrthyf am y cerdyn. [1]

- (iv) **Trawsnewidiwch 1200 micron** yn filimetrau (mm). [1]

[1]

- (ch) Mae rhai o'r ffotograffau yn y daflen wedi cael eu newid fel eu bod yn toddi (*fade*) i'w gilydd. Defnyddir meddalwedd cyfrifiadurol i wneud hyn.



O'r rhestr isod, **tanlinellwch** y math o becyn meddalwedd y byddech yn ei ddefnyddio. [1]

Pecyn golygu didfap / Pecyn lluniadu factor / Pecyn golygu fideo

- (d) Mae gwahaniadau (*separations*) lliw yn cael eu gwneud cyn argraffu'r daflen. **Esboniwch** beth yw gwahaniad lliw. [2]

- (dd) Penderfynir rhoi'r ffotograffau o'r llety (*accommodation*) ar wefan.

O'r rhestr isod, **tanlinellwch** y fformat ffeil mwyaf priodol ar gyfer cadw'r delweddau. [1]

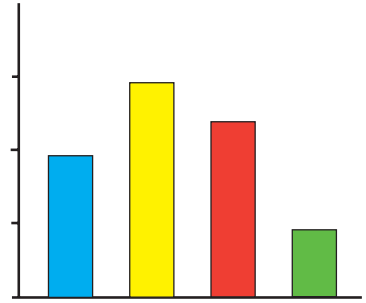
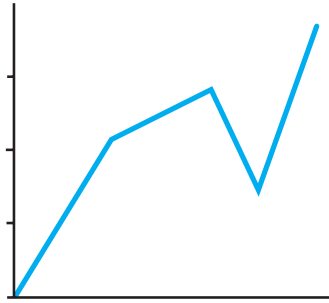
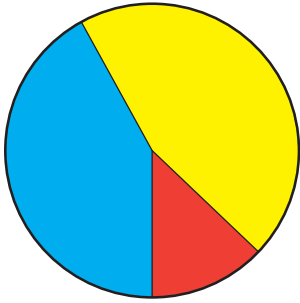
.JPG / .GIF / .TIF

4. Defnyddir graffiau a siartiau yn aml i wneud gwybodaeth yn haws ei deall.

- (a) Mae'r lluniau isod yn dangos tri dull cyffredin o gyflwyno data.
O'r rhestr isod, **dewiswch** yr enw cywir ar gyfer **pob un**.

[3]

SIART BAR SIART CYLCH GRAFF LLINELL SIART GANTT




- (b) Mae dŵr potel yn ddiod boblogaidd. Pris potel o ddŵr yw 48 ceiniog.
Mae'r tabl yn dangos dadansoddiad o'r gost.

Defnyddiau	10%
Costau gweithgynhyrchu	45%
Hysbysebu	7.5%
Elw	20%
TAW (VAT)	17.5%


Lluniadwch graff neu siart yn y lle gwag isod i ddarlunio'r wybodaeth yn y tabl.

[8]



(c) Defnyddir tywyllu neu rendro yn aml i wneud i luniad edrych yn fwy solet a thri-dimensiwn.

(i) **Defnyddiwch** dywyllu i wneud i'r siâp isod edrych fel silindr solet. [5]



(ii) **Nodwch ddau** reswm arall dros rendro lluniad.

Rheswm 1: [1]

Rheswm 2: [1]

5. Mae gwneuthurwr watsiau arddwrn (*wrist-watches*) yn cyflwyno wats newydd wedi'i anelu at bobl ifanc sy'n cymryd rhan mewn chwaraeon. Bydd gan y wats swyddogaethau sy'n ddefnyddiol mewn chwaraeon (bydd ganddo stopwats a monitor cyfradd curiad y galon a bydd yn wrth-ddŵr (*waterproof*)).

- (a) Mae angen enw a logo ar gyfer y wats newydd.
Rhaid i'r enw apelio at bobl ifanc sy'n mwynhau chwaraeon a rhaid iddo fod yn fyr a hawdd ei gofio.
Rhaid i'r logo ffitio mewn cylch â diamedr o 80mm.


- (i) Ar y llinell isod, **ysgrifennwch** yr enw y byddwch yn ei ddefnyddio.

Enw a ddewiswyd gennych ar gyfer y wats: [1]

- (ii) Yn y cylch a roddir isod, **dyluniwch** logo gan ddefnyddio enw'r wats.

Rhoddir marciau am:

- dylunio logo sy'n defnyddio'r enw a ddewiswyd neu dalfyriad (*abbreviation*); [3]
- defnyddio'r holl le sydd ar gael; [1]
- ansawdd y lluniadu; [2]
- ansawdd y defnydd o liw. [2]

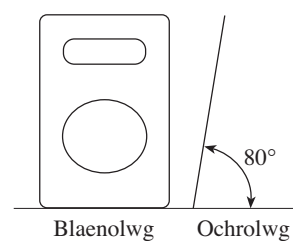
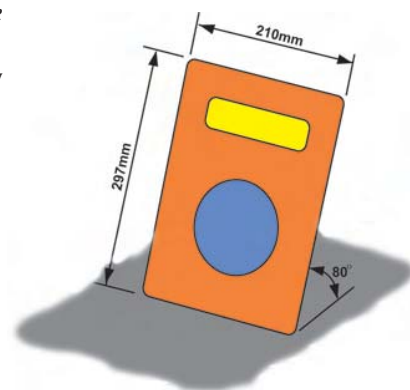


- (b) Mae angen arddangosiad pwynt talu (*point of sale display*) maint A4 ar gyfer cownter siop. Mae'r ddelwedd ar y dde yn dangos y graffigwaith i'w ddefnyddio ar yr arddangosiad pwynt talu.

Dyluniwch stand cynnal a fydd yn dal y graffigwaith hwn yn ei le ar y cownter.

Rhoddir marciau am:

- (i) dylunio stand sy'n:
- dal y graffigwaith yn gadarn yn ei le; [1]
 - dal y graffigwaith ar ongl o tua 80 gradd i'r llorwedd; [2]
 - sefydlog ac yn anodd ei fwrw drosodd; [1]
 - plygu'n fflat i'w bostio i'r siop; [2]
 - cloi yn ei le i'w atal rhag plygu wrth gael ei ddefnyddio. [2]
- (ii) nodi defnydd addas a ddefnyddir i wneud y stand. [2]



- (c) Gwnewch **luniad orthograffig** i ddangos manylion eich dyluniad ar gyfer y stand. Ni ddylech ddefnyddio ond y golygon hynny sy'n angenrheidiol i roi'r wybodaeth. Rhaid i chi ychwanegu'r **tri** (3) dimensiwn pwysicaf at eich lluniad.

[6]

