

Enw'r Ymgeisydd	Rhif y Ganolfan	Rhif yr Ymgeisydd

CYD-BWYLLGOR ADDYSG CYMRU

Tystysgrif Gyffredinol Addysg Uwchradd



WELSH JOINT EDUCATION COMMITTEE

General Certificate of Secondary Education

139/52

DYLUNIO A THECHNOLEG

PAPUR 2

MAES PENODOL: TECHNOLEG BWYD

(Haen Sylfaenol – Graddau G i C)

P.M. DYDD MAWRTH, 6 Mehefin 2006

(1½ awr)

	Gadewch yn wag
Cwestiwn 1	
Cwestiwn 2	
Cwestiwn 3	
Cwestiwn 4	
Cwestiwn 5	
CYFANSWM Y MARCIAU	

DEUNYDDIAU YCHWANEGOL

Bydd angen pensiliau lliw arnoch ar gyfer yr arholiad hwn.

CYFARWYDDIADAU I YMGEISWYR

Ysgrifennwch eich enw, rhif y ganolfan a'ch rhif ymgeisydd yn y blychau ar ben y dudalen hon.

Atebwch **bob** cwestiwn.

Ysgrifennwch eich atebion yn y lleoedd gwag priodol yn y llyfryn hwn. Os nad oes gennych ddigon o le, cewch barhau â'ch ateb yng nghefn y llyfryn, gan ofalu nodi rhif y cwestiwn yn gywir.

GWYBODAETH I YMGEISWYR

Dangosir nifer y marciau mewn cromfachau ar ddiwedd pob cwestiwn neu ran o gwestiwn.

Ni roddir tystysgrif i ymgeisydd a geir yn ymddwyn yn annheg yn ystod yr arholiad.


Atebwch **bob** cwestiwn yn y lleoedd gwag priodol.

1. Mae llawer o gynhyrchion bwyd yn cael eu datblygu i annog pobl i fwyta'n iach.

(a) **Cwblhewch** y diagram isod i ddangos prif **negeseuon bwyta'n iach** heddiw.

Mae un enghraifft wedi'i gwneud i chi.

[4]



(b) Dangosir detholiad o faetholynnau isod.

Braster **Protein** ~~**Calsiwm**~~ **Carbohydradau** **Haearn** **Fitamin C**


Cwblhewch y tabl isod trwy ddewis y maetholyn sydd i'w gael ym **mhob un** o'r grwpiau bwyd canlynol. *Mae un enghraifft wedi'i gwneud i chi.*

[5]

<i>Grwpiau Bwyd</i>	<i>Maetholyn</i>
Lemwnau, tomatos, orennau.	
Bara, pasta, tatws.	
Caws, llaeth, iogwrt.	<i>Calsiwm</i>
Olew llyisiau, eidionod (<i>beefburgers</i>), creision.	
Sbigoglys (<i>spinach</i>), bricyll (<i>apricots</i>), cig coch.	
Pysgod, codlyisiau (<i>pulses</i>), cig.	

- (c) Mae gwneuthurwyr yn cynhyrchu dewisiadau (*ranges*) arbennig o fwydydd i annog plant ifanc i fwyta prydau iachach.

Astudiwch y wybodaeth faethol isod o becyn yn y dewis 'Gwych i blant' o fwydydd.



MAETH	
Gwerthoedd nodweddiadol	Pob Pecyn 200g
Egni kj	880
Protein g	19.0
Carbohydrad g	23.4
siwgrau yn hwn g	3.2
Braster g	4.2
Ffibr g	1.8
Halen g	0.6

- (i) **Nodwch** faint o halen sydd ym mhob pecyn 200g. [1]
-

- (ii) **Nodwch** faint o siwgr sydd ym mhob pecyn 200g. [1]
-

- (ch) **Astudiwch** y ddelwedd isod.



briwgig gyda phasta a llysiau

Gwych i blant

siapiau pasta hwyl
mewn saws bolognese
blasus gyda courgettes
a moron wedi'u sleisio
- ffordd hawdd i'r plant
fwyta eu llysiau

- ✓ dim cyffeithydd (preservative) ychwanegol
- ✓ dim lliw na blas artiffisial
- ✓ halen a braster wedi'u rheoli

200ge

AMGRYM GWEINI
DEFNYDDIER ERBYN
05AWS

CADWCH MEWN OERGELL
0°C i +5°C

Rhowch ddau reswm pam byddai rhieni yn dymuno prynu'r cynnyrch hwn i'w plant.

2 × [2]

Rheswm 1:

.....

Rheswm 2:

.....

2. Mae llwyddiant cynnyrch bwyd yn dibynnu ar ddewis y defnyddiau cywir.

- (a) **Rhestrwch ddau** fath gwahanol o flawd ac, ar gyfer **pob un, nodwch** cynnyrch bwyd y gellir ei wneud gyda'r blawd a enwyd. 2 × [2]
Mae un enghraifft wedi'i gwneud i chi.

Math o flawd: Blawd plaen gwenith cyflawn

Cynnyrch: Bisgedi digestif

Math o flawd:

Cynnyrch:

Math o flawd:

Cynnyrch:

- (b) Wrth ddatblygu cynhyrchion bwyd, mae angen i ddylunwyr wybod beth yw **swyddogaeth** defnyddiau bwyd. Dangosir rhai o'r rhain isod.

Rhoi blas **Beindio** **Codydd** (*Raising agent*) **Breuo** (*Shortening*) **Swmpuso** (*Bulking*) **Melysu**

Cwblhewch y tabl isod trwy nodi **prif** swyddogaeth **pob** defnydd bwyd mewn cynnyrch bara. *Defnyddiwch bob swyddogaeth unwaith yn unig.* [5]

<i>Defnydd bwyd</i>	<i>Swyddogaeth mewn cynnyrch bara</i>
Blawd	
Burum	
Margarin	
Halen	
Dŵr	

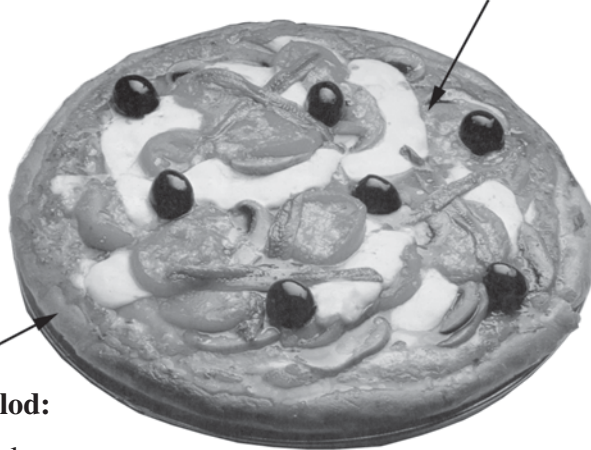
- (c) Mae'r tabl isod yn dangos y camau mewn cynhyrchu cynnyrch bara. **Cwblhewch** y tabl trwy ysgrifennu rhif wrth ymyl **pob** cam i ddangos y drefn gynhyrchu gywir. *Mae'r cam cyntaf wedi'i wneud i chi.* [6]

<i>Cam mewn cynhyrchu bara</i>	<i>Trefn gynhyrchu</i>
Cymysgu	
Oeri	
Tylino	
Pobi	
Pwysu a mesur y cynhwysion	1
Siapio	
Codi (<i>Proving</i>)	

- (ch) Mae gwneuthurwyr bwyd yn dylunio cynhyrchion i gyd-fynd ag anghenion penodol y defnyddiwr. **Cwblhewch** y paneli isod trwy roi **dau** newid i ddangos sut gall y pizza hwn gael ei addasu i gwrdd ag anghenion defnyddwyr gwahanol. 3 × [2]

Defnyddiau bwyd yn y topin:

Puree tomato, nionyn/winwnsyn, caws, ham, olifau du, perlysiâu sych



Defnyddiau bwyd yn y gwaelod:

Blawd, burum, menyn, dŵr, halen

Newidiadau ar gyfer pizza *llysieuol*

.....

.....

.....

.....

Newidiadau ar gyfer pizza *rhatach*

.....

.....

.....

.....

Newidiadau ar gyfer pizza *iachach*

.....

.....

.....

.....

3. (a) **Nodwch** y tri dull gwahanol a ddefnyddir gan *wneuthurwyr* i gynyddu oes silff cawl. [3]

Dull 1:

Dull 2:

Dull 3:

- (b) **Defnyddiwch** y label o'r carton o gawl a ddangosir isod i ateb y cwestiynau sy'n dilyn.



Cadwch mewn oergell	
Arddangoser hyd	Defnyddier erbyn
7 Meh	9 Meh

cawl moron a choriander

cawl moron wedi'i flendio'n ysgafn a'i garneisio â moron a dail coriander

Sut i'w storio a'i goginio

Os am ei rew, rhaid ei rew i ddiwrnod ei brynu a'i fwyta o fewn mis. Ar ôl ei ddadmer, peidiwch â'i ailrewi.

Twymwch y cawl oer mewn 6 munud
Gwagiwch y cynnwys i sosban a rhowch hi dros wres cymedrol am 6 munud, gan droi'r cawl yn aml.

Rhowch y cawl oer mewn microdon am 7 munud

- Tynnwch y caead.
- Rhowch y cawl yn y popti microdon ar bŵer llawn am: 4 mun
- Trowch y cawl yn dda a rhowch ef yn y microdon ar bŵer llawn am: 2 fun
- Gadewch iddo oeri am funud cyn ei weini.

Ar gyfer poptai o bŵer gwahanol, addaswch yr amser twymo.

- (i) **Rhowch** y dyddiad erbyn pryd y mae'n rhaid bwyta'r cawl. [1]

.....

- (ii) **Nodwch** sut y dylai'r cawl gael ei storio gartref. [2]

Tymor byr:

Tymor hir:


(iii) **Rhowch** fanylion y prif gamau y byddech yn eu cymryd i gael y cawl yn barod ar gyfer ei weini. [2]

.....

.....

.....

(iv) **Nodwch** ystyr y symbolau hyn sydd i'w gweld ar y label. [2]



(I)



(II)

- (c) Mae gwneuthurwr bwyd yn ymateb i'r farchnad gynyddol am fyrbrydau a all ffitio i mewn i flwch cinio plentyn ysgol.

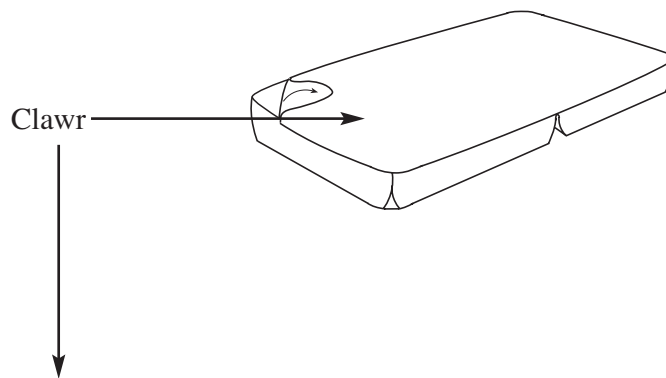
Bydd cynnyrch newydd sy'n cynnwys bisgedi sawrus (*savoury*) a throchiad (*dip*) caws yn cael ei alw'n *SNAC 2 GO*.

Dyluniwch ddelwedd addas ar gyfer clawr y pecyn.

Lluniadwch eich delwedd ar yr amlinelliad a ddangosir isod.

Rhoddir marciau am:

- (i) delwedd addas sy'n cynnwys enw'r cynnyrch; [5]
- (ii) y defnydd o liw ac ansawdd y cyfathrebu. [4]



4. Rhaid i wneuthurwyr bwyd ddilyn system sicrhau ansawdd. Mae hylendid personol da a glanhau cyfarpar yn gywir yn hanfodol wrth wneud cynhyrchion bwyd.



- (a) **Disgrifiwch**, gyda rhesymau, **bedair** rheol hylendid *wahanol* y mae'n rhaid i weithwyr bwyd eu dilyn. 4 × [2]

Rheol 1:

.....

Rheol 2:

.....

Rheol 3:

.....

Rheol 4:

.....

- (b) **Esboniwch** pam mae'r rheolau hyn mor bwysig wrth gynhyrchu bwyd ar raddfa fawr. [2]

.....

.....

.....

(c) **Nodwch y pedwar** amod sydd eu hangen ar gyfer twf pob math o facteria. [4]

Amod 1:

Amod 2:

Amod 3:

Amod 4:

(ch) Wrth weithgynhyrchu cynnyrch, bydd nifer o wiriadau (*checks*) rheoli ansawdd yn cael eu gwneud.
Mae **dau** fath o wiriad rheoli ansawdd a ddefnyddir wrth weithgynhyrchu *bisged* wedi'u rhestru isod. **Disgrifiwch** y gwiriadau hyn. 2 × [2]


(i) **Gwriad gweledol:**

.....
.....

(ii) **Gwriad halogiad (*contamination*) ffisegol:**

.....
.....

(d) Defnyddir cyfarpar wedi'i reoli gan gyfrifiadur wrth gynhyrchu cynhyrchion bwyd ar raddfa fawr megis bisgedi. Mae'r llun isod yn dangos torwyr cylchdro (*rotary cutters*).



Esboniwch un o fanteision defnyddio'r cyfarpar a ddangosir uchod. [2]

.....
.....
.....

5. Mae gwneuthurwr pwdinau oer yn bwriadu datblygu ei ddewis (*range*) o bwddinau traddodiadol. Mae ymchwil yn dangos y byddai'n llesol i gwsmeriaid gael mwy o ffrwythau yn eu diet.



- (a) **Brasluniwch, lliwiwch a labelwch ddau** ddyluniad *gwahanol* ar gyfer pwddin **haenog** (*layered*) sy'n cynnwys **ffrwythau**.

Rhaid i'r cynnyrch:

- bod yn addas ar gyfer pedwar o bobl;
- cynnwys tair neu ragor o haenau;
- cynnwys ffrwythau;
- cael casin neu waelod diddorol.

Rhoddir marciau am:

- (i) dylunio **pwddin haenog** diddorol sy'n cynnwys **ffrwythau**; 2 × [3]
- (ii) labelu'n fanwl yr **holl** ddefnyddiau bwyd a ddefnyddir i wneud y cynnyrch; 2 × [4]
- (iii) ansawdd y cyfathrebu, gan gynnwys **trawstoriad** trwy'r cynnyrch. 2 x [4]

Dyluniad 1	Peidiwch â lluniadu'r defnydd pacio

Dyluniad 2	Peidiwch â lluniadu'r defnydd pacio

Ticiwch (✓) y blwch i ddangos eich dyluniad **gorau**.

Dyluniad 1

Dyluniad 2

(b) **Nodwch dri** rheswm *synhwyraidd* (*sensory*) pam byddai eich syniad gorau yn apelio at gwsmeriaid. [3]

Rheswm synhwyraidd 1:

Rheswm synhwyraidd 2:

Rheswm synhwyraidd 3:

